

هوش و خلاقیت

پایه دوم





جزوه هوش
پایه دوم





شباهت ها ✓

تفاوت ها ✓

رابطه ها ✓


در هوش تصویری باید
به چه نکاتی توجه کرد:

درس اول :


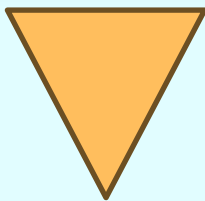
تصاویر و شکل ها ✓



نکات مربوط به شکل ها:



✓ شکل ها بر اساس تعداد ضلع هایشان نام گذاری می شوند . مانند : چهار ضلعی، سه ضلعی

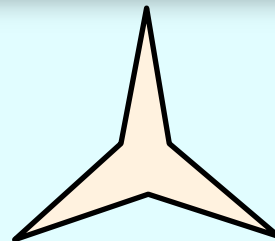
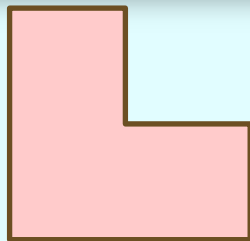
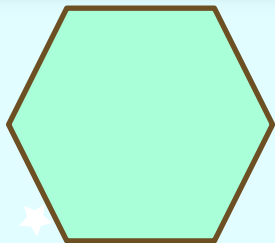


طاهره
ری

نکات مربوط به شکل ها:




اگر تفاوتی هم بین دو چند ضلعی وجود داشته باشد به خاطر متفاوت بودن اندازه ی زاویه ها و ضلع های آنهاست. به شکل های زیر دقت کنید:





نکات مربوط به شکل ها:

تفاوت یک شکل با سایر شکل ها ممکن است در تعداد یا اندازه ی ضلع ها یا حتی در اندازه غیره عادی شکل باشد. مثلا شکل به طرز عجیبی بزرگ یا کوچک باشد.



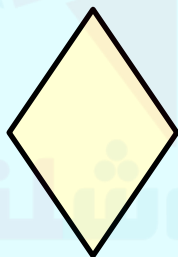
۱- از بین گزینه‌های سمت پایین، شکلی را انتخاب کنید که بیشتر از بقیه مشابه دو شکل سمت چپ باشد.



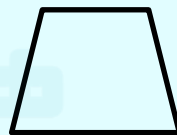
۱



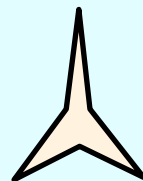
۲



۳




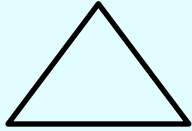



۴



۵

۲- از بین گزینه‌های سمت پایین، شکلی را انتخاب کنید که بیشتر از بقیه مشابه دو شکل سمت چپ باشد.



۱

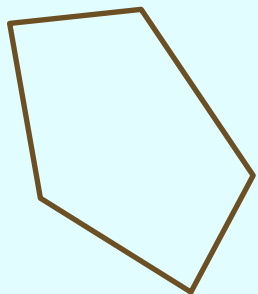
۲

۳


۴

۵

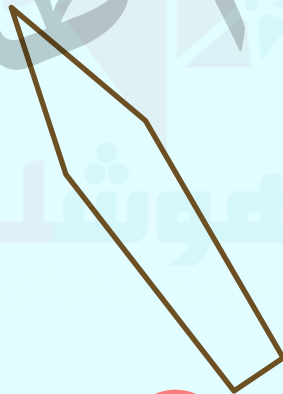
۳- کدام تصویر با بقیه متفاوت است؟



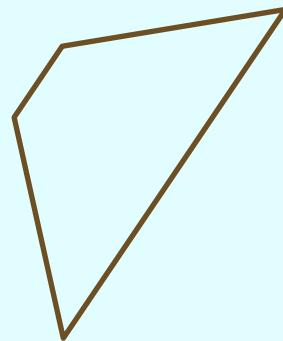
۱



۲




۳



۴

خانه طاہری
موسسه تخصصی





نکات مربوط به شکل ها:

گاهی اوقات شکل ها ضلع های منحنی نیز دارند .



۴- کدام تصویر با بقیه متفاوت است؟



۱



۲



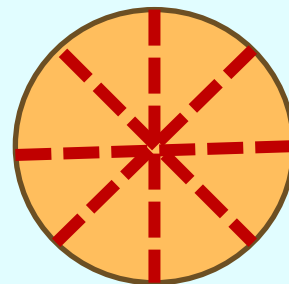
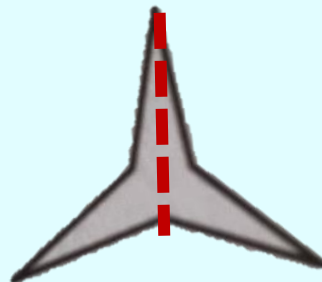
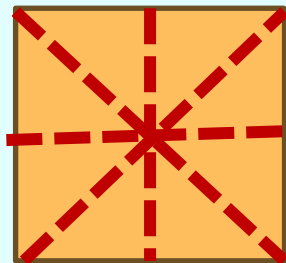
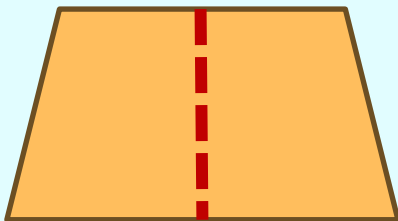

۳



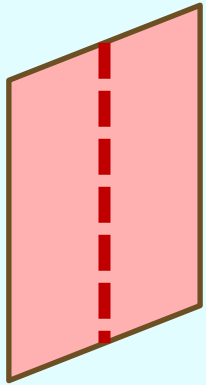
۴

نکات مربوط به شکل ها:


به شکل هایی که خط تقارن دارند توجه کنید .



۵- کدام تصویر با بقیه متفاوت است؟




۱



۲



۳



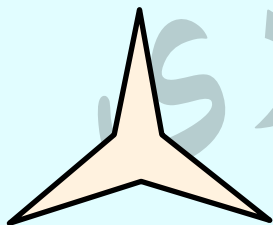
۴




۶- کدام تصویر با بقیه متفاوت است؟




۱



۲



۳



۴



۷- کدام شکل تفاوت بیشتری با بقیه دارد؟



۱



۲



۳



۴

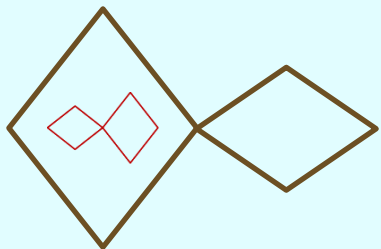


۵

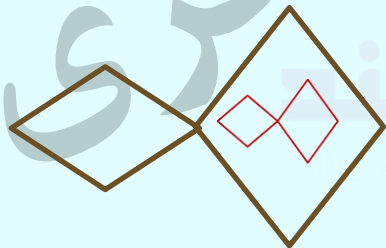
موشکلند

www.moshkeland.com

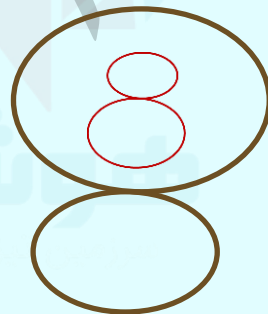
۸- شکلی که بیشتر از همه با بقیه متفاوت است را انتخاب کنید؟



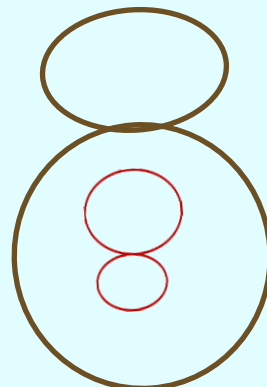
۱



۲



۳



۴

۹- در تصویر زیر کدام یک از سه بچه، دختر است؟

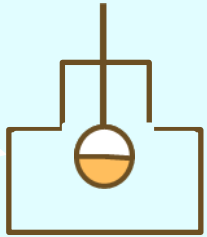




۱


۲

۳

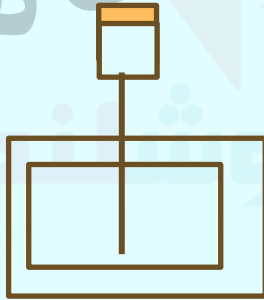
تمرین ۱- شکلی را انتخاب کنید که بیشتر از بقیه مشابه دو شکل سمت چپ باشد؟




۱



۲

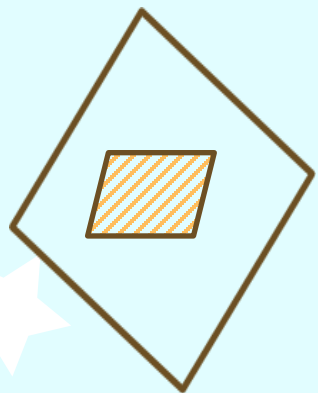


۳

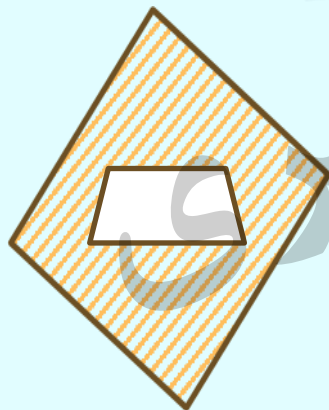


۴


تمرین ۲- شکلی که بیشتر از همه با بقیه متفاوت است را
انتخاب کنید؟



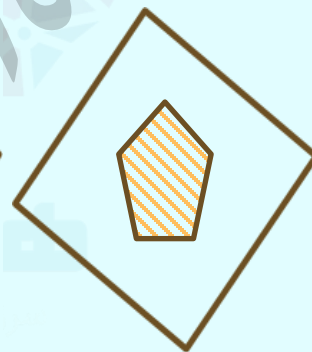
۱



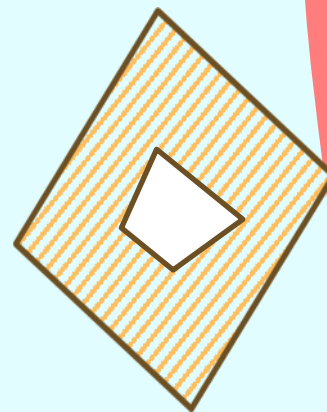
۲



۳

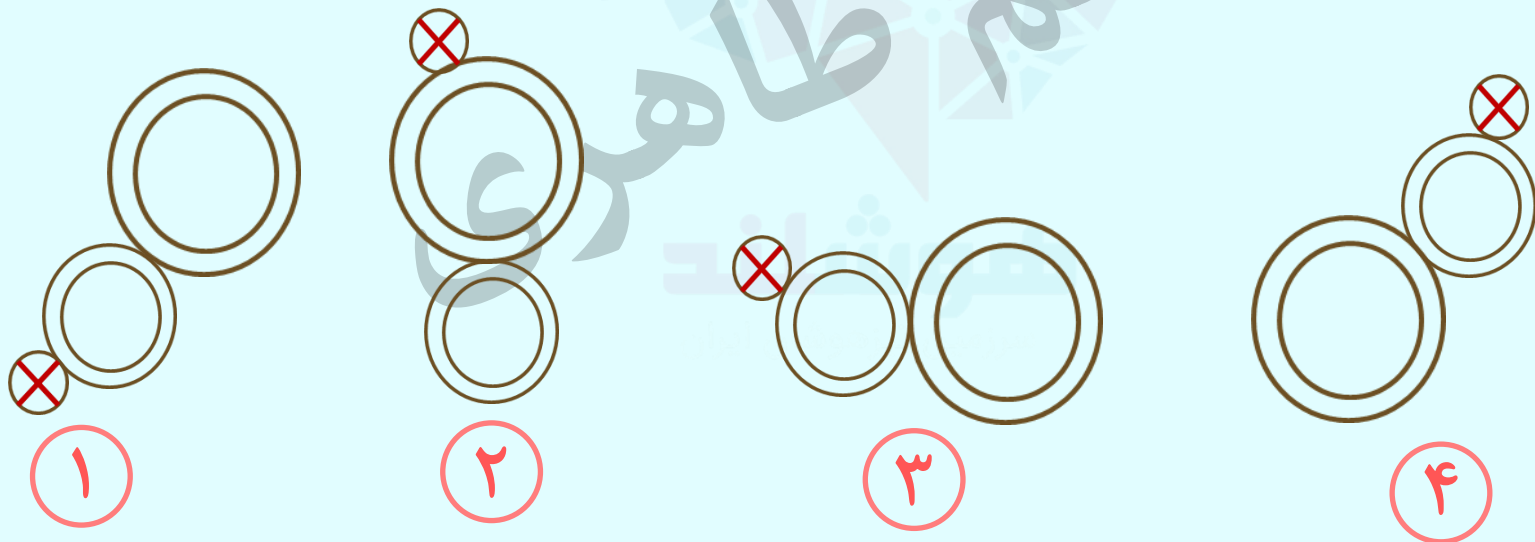


۴

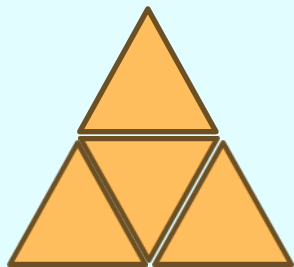


۵


تمرین ۳- شکلی که بیشتر از همه با بقیه متفاوت است را
انتخاب کنید؟




تمرین ۴ - شکلی که بیشتر از همه با بقیه متفاوت است را
انتخاب کنید؟



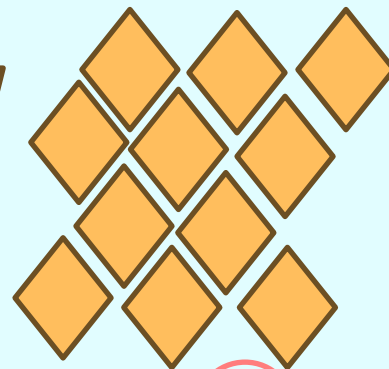
۱



۲

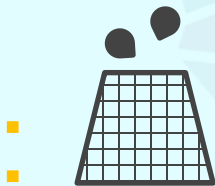
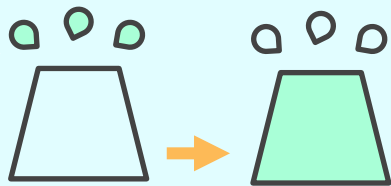


۳



۴

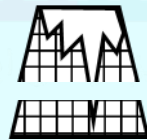
تمرین ۵- شکل اول پس از تغییراتی به شکل دوم تبدیل می شود. ببینید شکل اول هر بار چطور تغییر کرده است. حالا شکل سوم با اعمال همان تغییرات از بین گزینه ها شکل چهارم را انتخاب کنید؟



۱



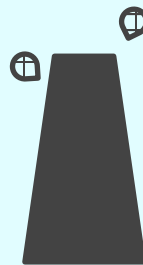
۲



۳


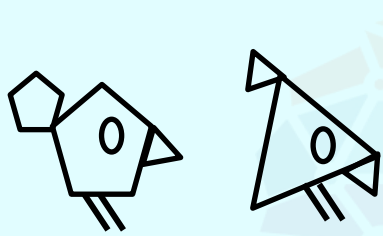


۴




۵

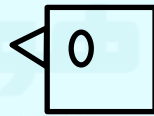
تمرین ۶- کدام گزینه بیشترین شباهت را به دو تصویر سمت چپ دارد؟




۱




۲



۳

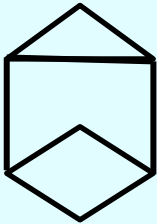



۴

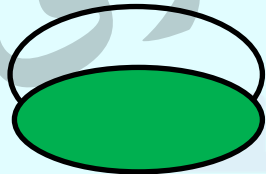


۵

تمرین ۷- کدام گزینه بیشترین شباهت را به دو تصویر سمت چپ دارد؟



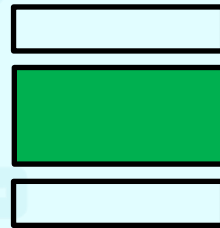
۱




۲



۳

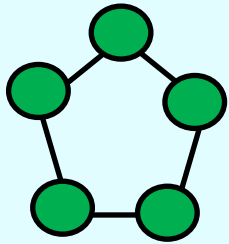
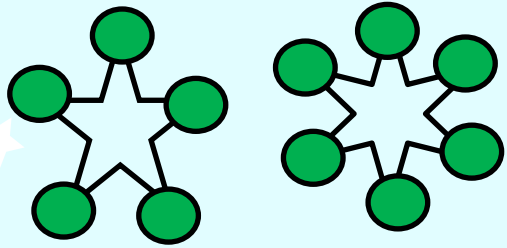


۴

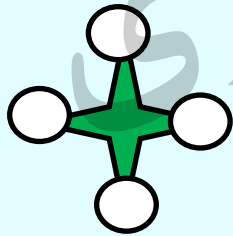


۵


تمرین ۸- کدام گزینه بیشترین شباهت را به دو تصویر سمت چپ دارد؟



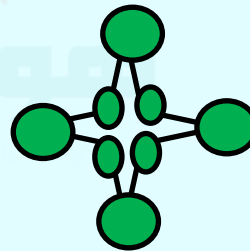
۱



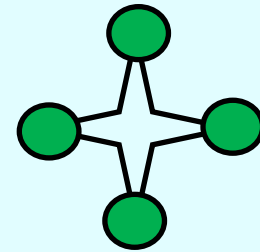
۲



۳



۴



۵

کلید تمرین ها:

۱ - پاسخ: ۴ در همه تصویر ها شکل بزرگ رنگ باید ۴ ضلع داشته باشد.

۲ پاسخ: ۴ شکلی که درون شکل بزرگ قرار دارد باید ۴ ضلع داشته باشد.

۳ پاسخ: ۲ در همه گزینه ها دایره کوچکی که علامت ضربدر دارد به حلقه کوچک چسبیده است

۴ پاسخ: ۴ باید شکل های حاصل از کنار هم قرار گرفتن شکل کوچک شکلی شبیه خودشان در ابعاد بزرگ تر درست شود

۵ پاسخ: ۴ رنگ ۴ ضلعی و قطره ها با هم عوض می شود.

کلید تمرین ها:

در همه تصاویر شکل دم جوجه باید بدون در نظر گرفتن اندازه شبیه بدن جوجه باشد. پاسخ: ۱

۶

همه تصاویر باید یک شکل رنگی درون یک شکل سفید داشته باشند. پاسخ: ۵

۷

در همه تصاویر باید یک ستاره سفید داشته باشیم که بر روی هر یک از پرهای آن یک دایره ی رنگی وجود داشته باشد. پاسخ: ۵

۸