

هوش و خلاقیت

پایه دوم




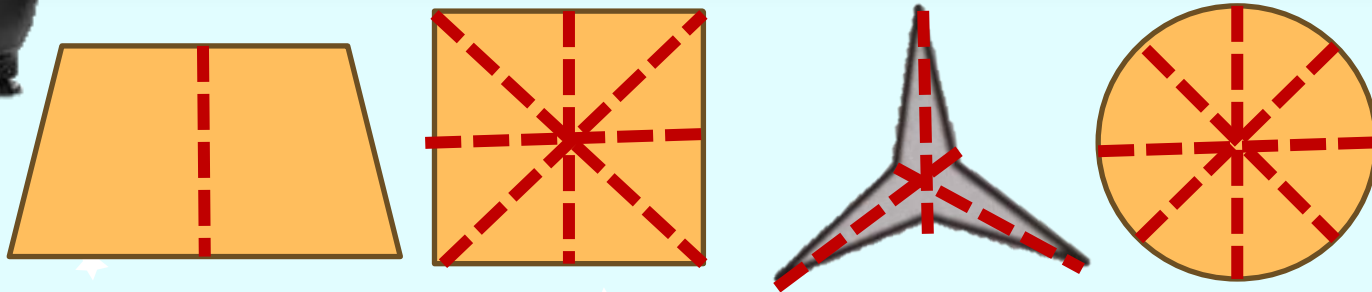
درس دوم :

شمارش



نکات مربوط به شمارش:

✓ در شمارش همه ی ضلع ها ، نقاط یا گوشه
وخط های تقارن های شکل را بشمارید.




نکات مربوط به شمارش:

مثال: در مربع ششم چند ستاره وجود دارد؟ ✓



(1)



(2)



(3)



(4)




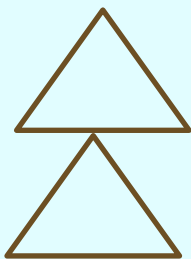


(5)



(6)

۱- از بین گزینه‌های سمت پایین، شکلی را انتخاب کنید
که بیشتر از بقیه مشابه دو شکل سمت چپ باشد.



۱



۲

۳


۴

۵

۱- از بین گزینه‌های سمت پایین، شکلی را انتخاب کنید که بیشتر از بقیه مشابه سه شکل سمت چپ باشد.




۱




۲



۳



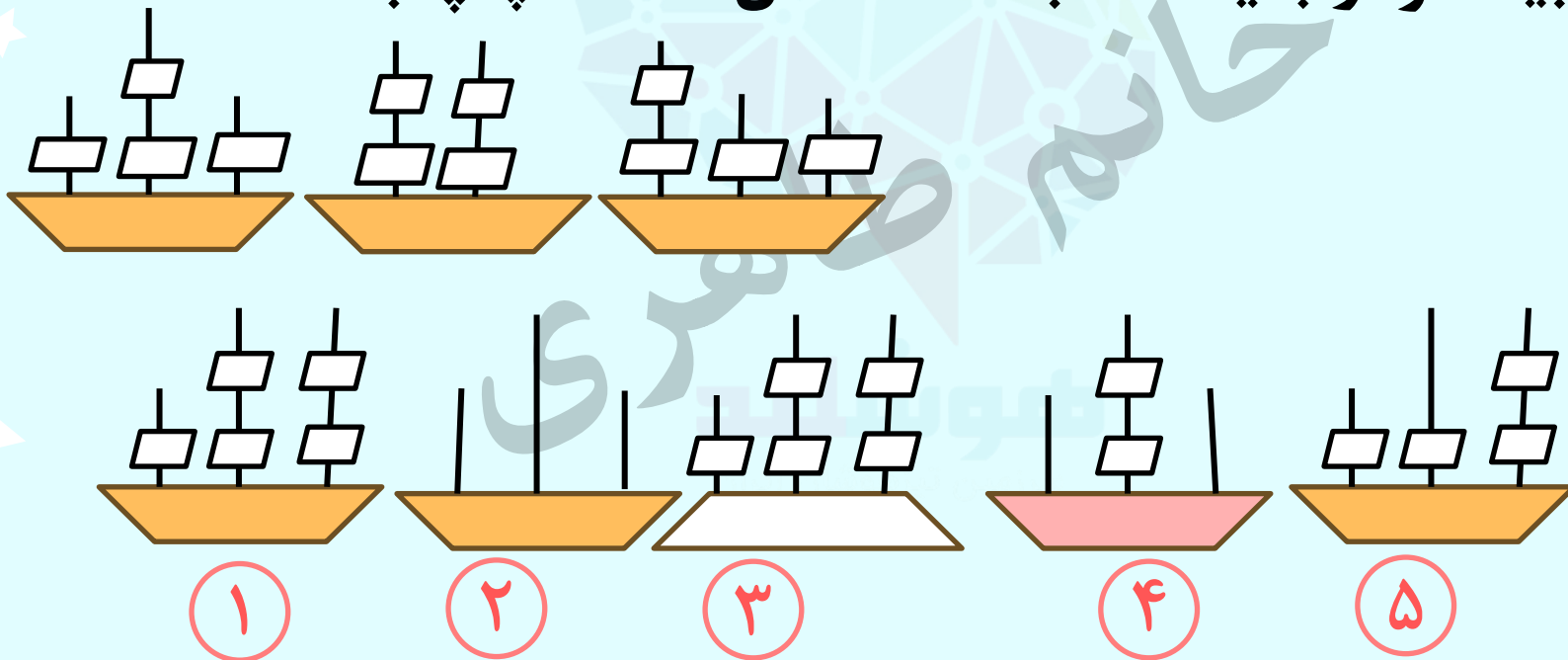
۴





۵

۳- از بین گزینه‌های سمت پایین، شکلی را انتخاب کنید

که بیشتر از بقیه مشابه سه شکل سمت چپ باشد.



۴- در مربع پنجم کدام گزینه قرار می گیرد؟




۱




۲



۳

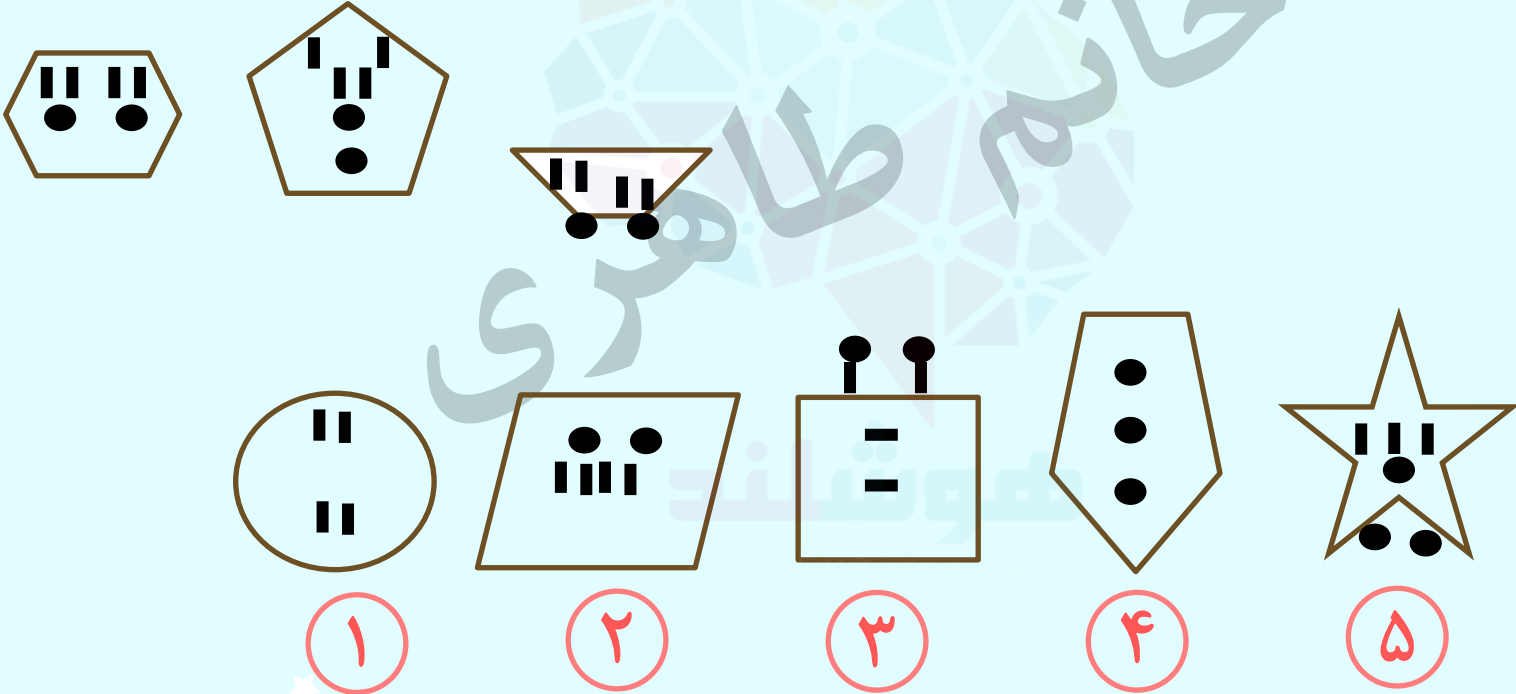


۴


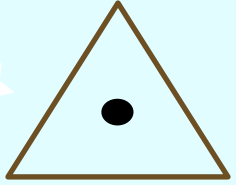


۵


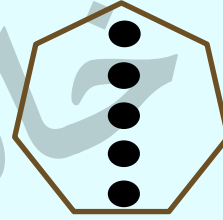
۵- از بین گزینه‌های سمت پایین، شکلی را انتخاب کنید که بیشتر از بقیه مشابه سه شکل سمت چپ باشد.



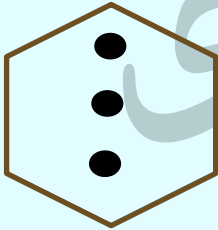
۶- به جای علامت سوال کدام گزینه قرار می گیرد؟




?



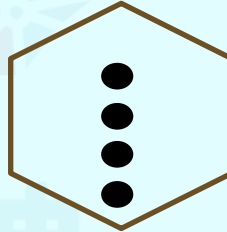
۱




۲



۳

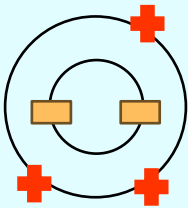
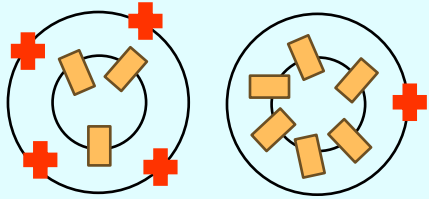


۴



۵

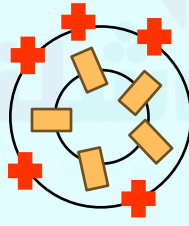
۷- کدام گزینه بیشتر از بقیه شبیه دو شکل سمت چپ باشد؟



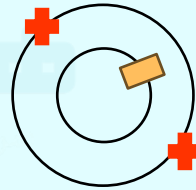
۱



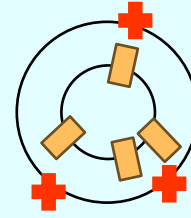
۲



۳

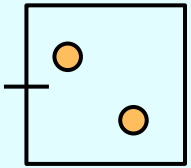
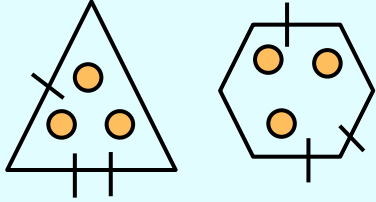


۴

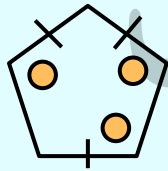


۵

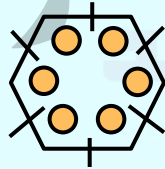
۸- کدام گزینه بیشتر از بقیه شبیه دو شکل سمت چپ باشد؟



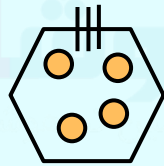
۱



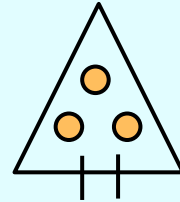
۲



۳




۴




۵

تمرین ۱- کدام گزینه مربع پنجم قرار می گیرد؟



۱




۲



۳





۴




۵


تمرین ۲ - کدام گزینه مربع پنجم قرار می گیرد؟




۱




۲



۳

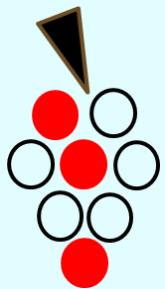
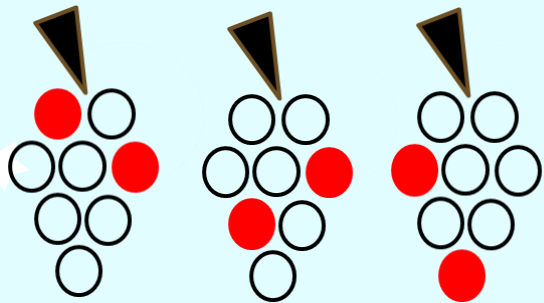


۴

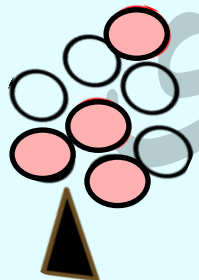


۵

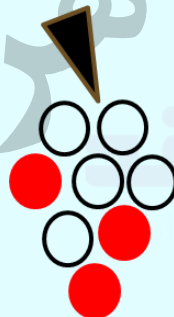
تمرین ۳ - کدام گزینه بیشترین شباهت به سه تصویر سمت چپ دارد؟



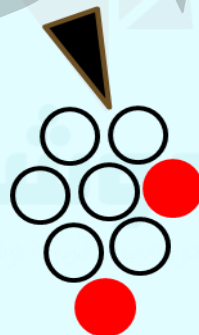
۱




۲



۳




۴



۵

تمرین ۴ - کدام گزینه بیشترین شباهت به تصویر سمت چپ دارد؟



۱



۲



۳

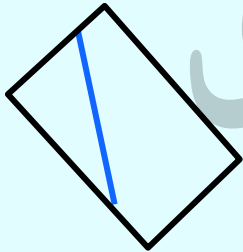
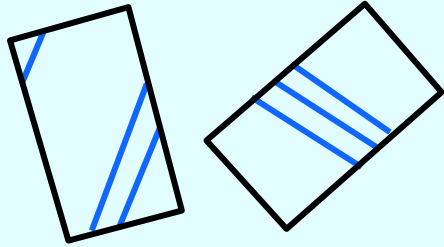


۴

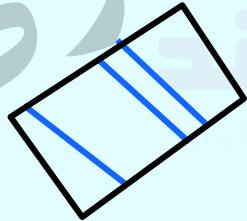


۵

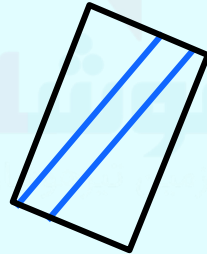
تمرین ۵- کدام گزینه بیشترین شباهت به تصویر سمت چپ دارد؟



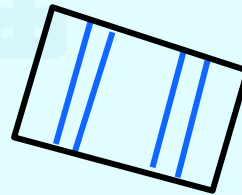
۱



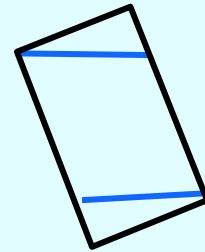
۲



۳

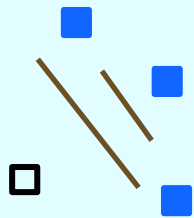
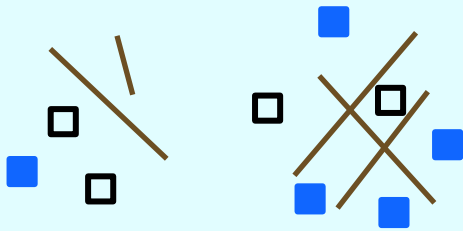


۴

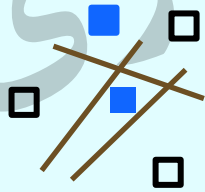
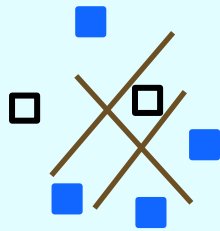


۵

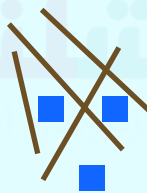
تمرین ۶- کدام تصویر با بقیه متفاوت است؟



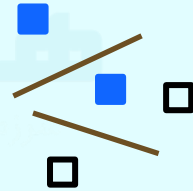
۱



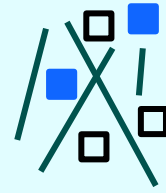
۲



۳



۴

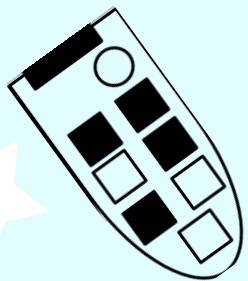


۵

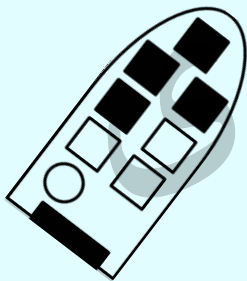
خانه طاہری



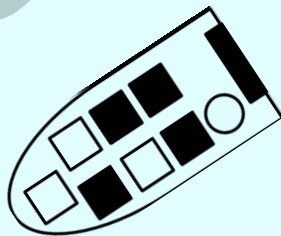
تمرین ۷- کدام تصویر با بقیه بیشترین تفاوت را دارد؟



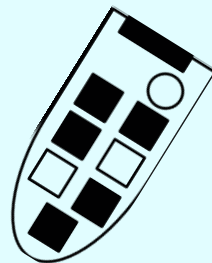
۱



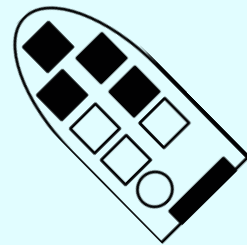
۲



۳



۴



۵

خانه طاهر



کلید تمرین ها:

تعداد ستاره ها از چپ به راست یکی در میان ۲ تا ۳ تا است اما از چپ به راست در هر خانه یک پر به پره های ستاره ها اضافه می شود. پاسخ: ۲

۱-

هر بار یک مربع به مجموع مربع ها اضافه می شود. پاسخ: ۲

۲

در همه تصاویر باید دو دایره ی رنگی و ۶ دایره ی سفید وجود داشته باشد. پاسخ: ۴

۳

در همه ی تصویر ها تعداد فلش های سفید باید دو برابر تعداد فلش های سیاه باشد. پاسخ: ۵

۴

درون همه ی مستطیل ها باید سه خط وجود داشته باشد. پاسخ: ۲

۵

کلید تمرین ها:

۶ - پاسخ: ۴ تمام شکل ها باید دو مربع سفید داشته باشند.

۷ پاسخ: ۴ در سایر تصویر ها ۴ مربع سیاه کوچک داریم.

خانه طاهری
موسسه تخصصی زبان
موسسه تخصصی زبان