

هوش و مسابقات

پایه دوم



درس سوم :


اشاره ها



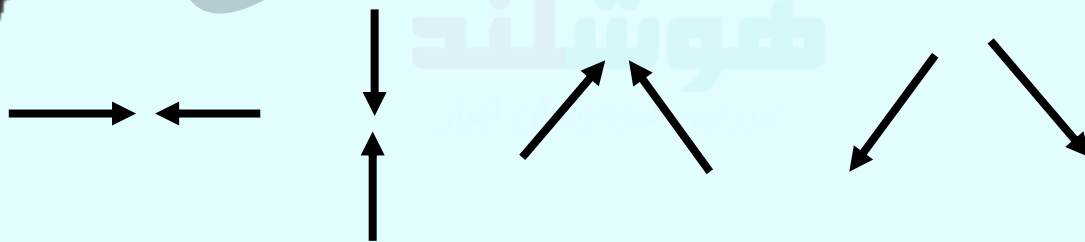
خانه گامبری
هوشیار



نکات مربوط به اشاره:





برای اشاره کردن معمولا از فلش استفاده می شود، فلش ها به جهت هایی اشاره می کنند، بالا پایین، چپ راست ✓




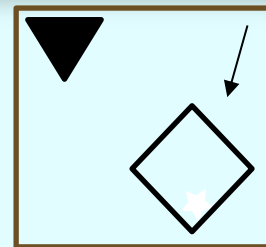
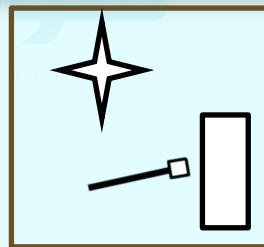


نکات مربوط به اشاره :

✓ مثال: از شکل عجیب و غریب شکل ها تعجب نکنید.








نکات مربوط به اشاره :

مثال: در حالی که جهت فلش ها را مشخص می کنید نیم نگاهی هم به شکلی داشته باشید که فلش به آن ها اشاره می کند یا از آن شروع شده است به تصویر های زیر نگاه کنید :



۱- چه تعداد از پیکان های سمت راست در ست به همان جهتی اشاره می کنند که پیکان داخل مربع به آن اشاره کرده است؟



۱

۱

۲

۲

۳

۳

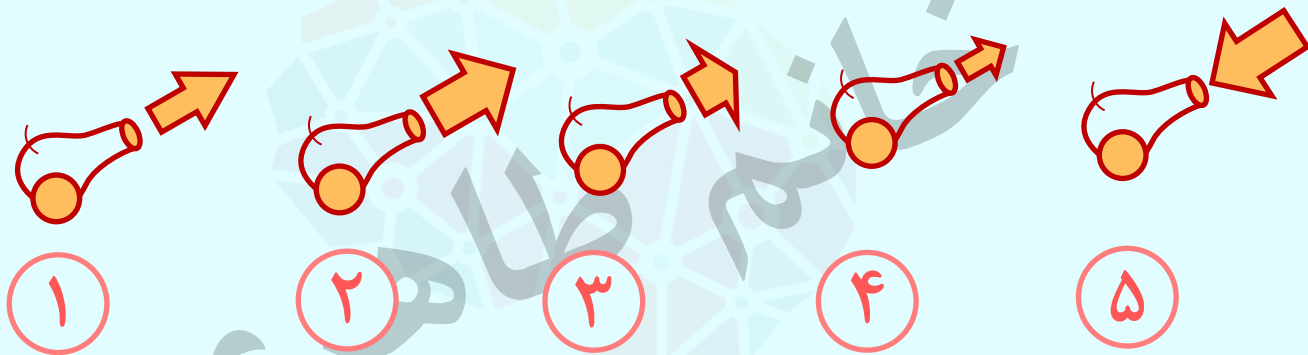
۴

۴

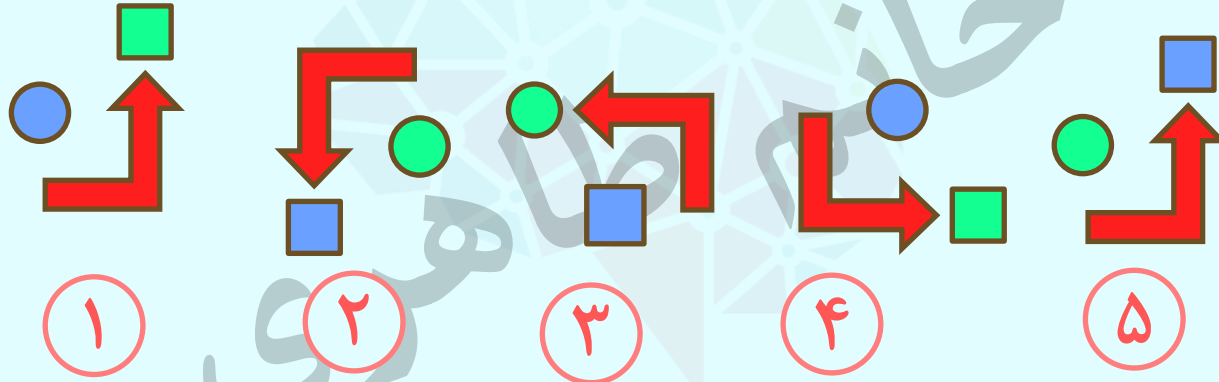
۵

۵

۲- کدام شکل با بقیه متفاوت است؟

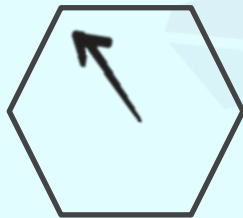


۳- کدام شکل با بقیه متفاوت است؟



خانه
موسسه تخصصی
فروشگاه
موسسه تخصصی

۴- شکلی را که بیشترین تفاوت با بقیه دارد انتخاب کنید؟



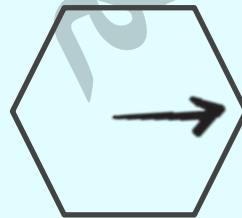
۱



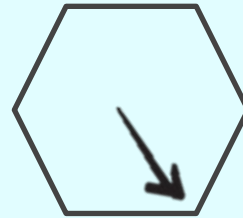
۲



۳



۴



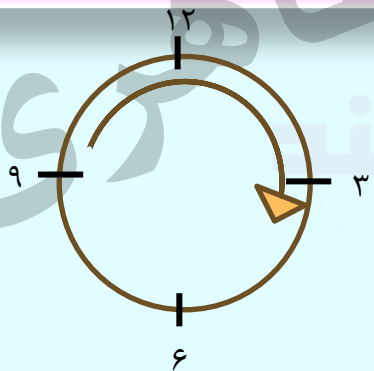
۵



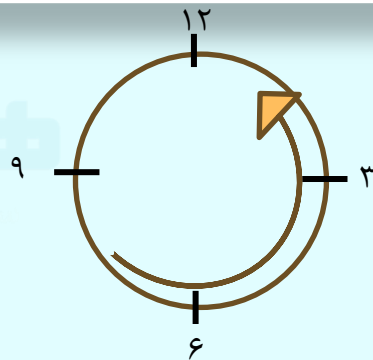
نکات مربوط به اشاره :



✓ فلش ها می توانند در جهت عقربه های ساعت چرخش داشته باشند یا خلاف جهت عقربه های ساعت چرخش داشته باشند.

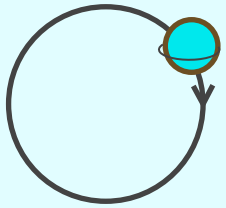


(۱) ساعتگرد (در جهت عقربه های ساعت)

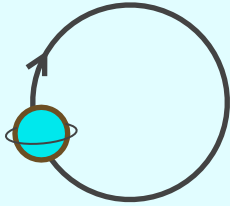


(۲) پاد ساعتگرد (در جهت خلاف عقربه های ساعت)
(ساعت)

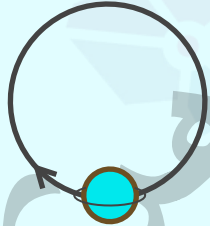
۵- کدام شکل با بقیه متفاوت است؟



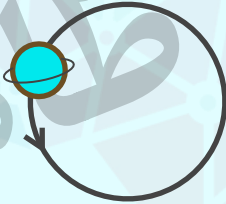
۱



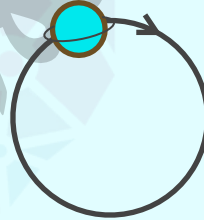
۲



۳



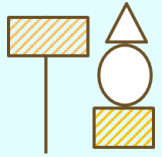
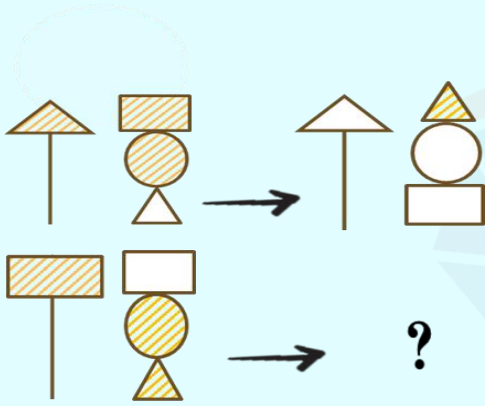
۴




۵

خانم طاهری
فروشنده


۶) به جای علامت سوال، کدام گزینه قرار می گیرد؟



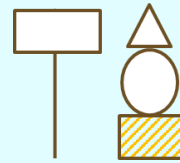
۱



۲


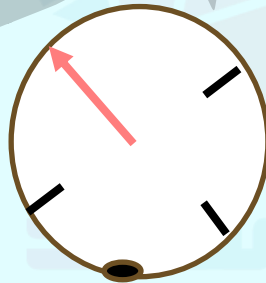

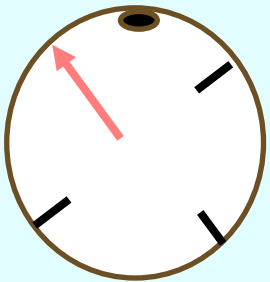
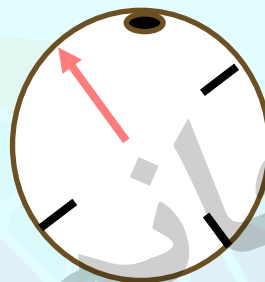
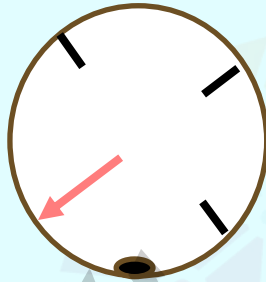
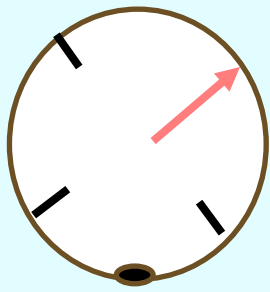


۳



۴

۷- کدام تصویر با بقیه متفاوت است ؟



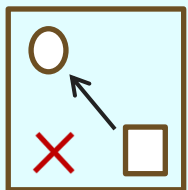
۱

۲

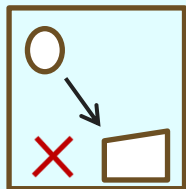
۳

۴

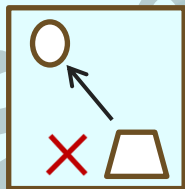
تمرین ۱- کدام تصویر با بقیه متفاوت است؟



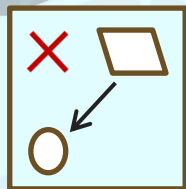
۱



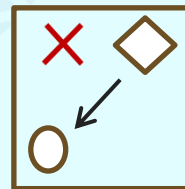
۲



۳





۴



۵

تمرین ۲- به جای علامت سوال کدام گزینه قرار می گیرد؟




۱



۲


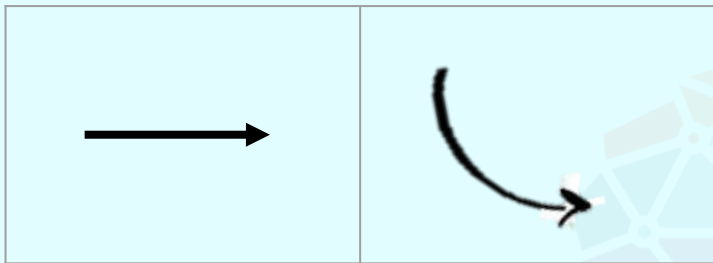


۳



۴

تمرین ۳- کدام تصویر بیشترین شباهت را به دو شکل بالا دارد؟



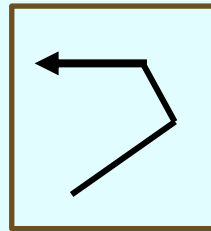
۱



۲

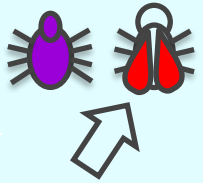


۳

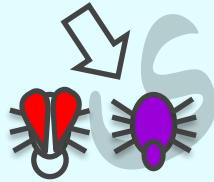


۴

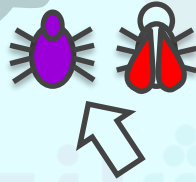
تمرین ۴ - کدام تصویر تفاوت بیشتری با بقیه دارد؟



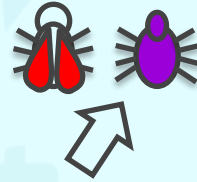
۱



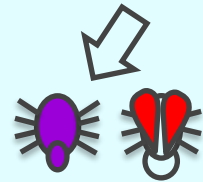
۲



۳

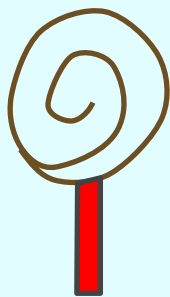


۴



۵


تمرین ۵ - کدام تصویر تفاوت بیشتری با بقیه دارد؟



۱



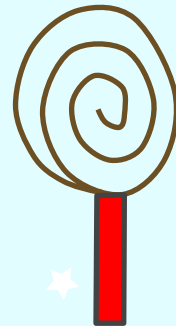
۲



۳


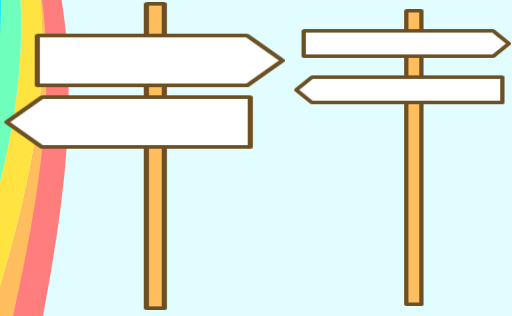


۴



۵

تمرین ۶- کدام تصویر شباهت بیشتری به دو شکل سمت چپ دارد؟



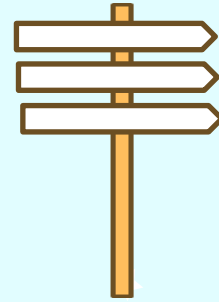
۱



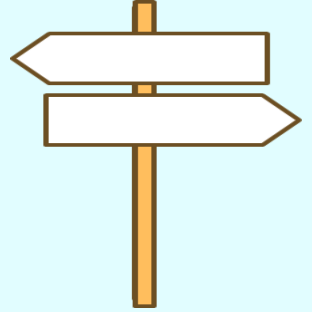
۲



۳





۴



۵


تمرین ۷ - کدام تصویر شباهت بیشتری به دو شکل سمت چپ دارد؟




۱



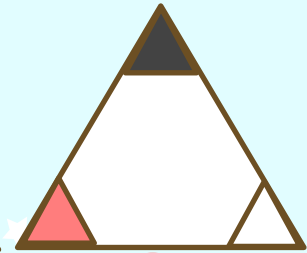
۲



۳



۴



۵

تمرین ۸- کدام تصویر شباهت بیشتری به دو شکل سمت چپ دارد؟



۱




۲



۳



۴



۵

کلید تمرین ها:

فلش از ۴ ضلعی شروع شده و به دایره اشاره می کند

۲

پاسخ:

۱-

فلش ها یکی در میان در جهت ساعت گرد و پاد ساعت گرد را نشان می دهند و طول آنها در هر مرحله کوتاه تر می شود.

۴

پاسخ:

۲

فلش باید به سمت راست اشاره کند.

۱

پاسخ:

۳

در همه گزینه ها فلش به حشره بنفش اشاره دارد.

۱

پاسخ:

۴

در همه ی تصاویر اگر از مرکز شکل شروع کنیم مارپیچ در جهت عقربه های ساعت حرکت کند. اما در گزینه ۵ مارپیچ در خلاف جهت ساعت حرکت می کند.

۵

پاسخ:

۵

کلید تمرین ها:

در همه ی تصاویر باید ۲ فلش سفید وجود داشته باشد یکی به سمت راست و یکی به سمت چپ اشاره کند.

۵

پاسخ:

۶ -

فلش باید به مثلث سیاه رنگ اشاره کند.

۱

پاسخ:

۷

قسمت فرو رفته ی ماه باید رو به ستاره باشد.

۴

پاسخ:

۸