

هوش و مسابقات

پایه سوم



درس چهارم :

اشاره ها



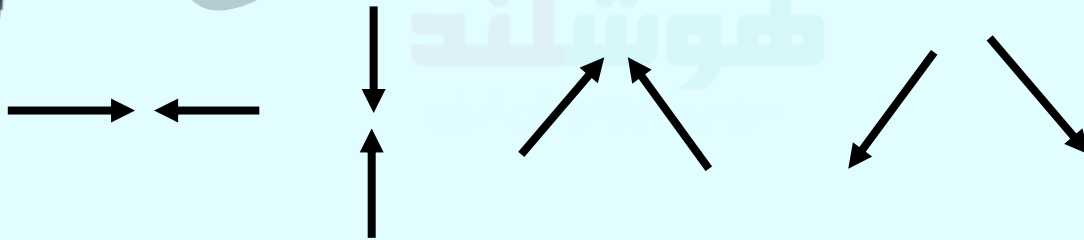
خانه گامبری
هوشیار



نکات مربوط به اشاره:





✓ برای اشاره کردن معمولا از فلش استفاده می شود، فلش ها یا به جهت های اصلی اشاره می کنند ، بالا پایین ، چپ راست یا به جهت های فرعی ؟




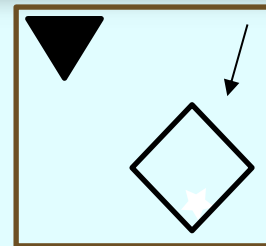
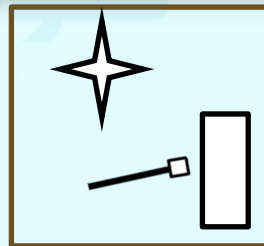


نکات مربوط به اشاره :

✓ مثال: از شکل عجیب و غریب شکل ها تعجب نکنید.




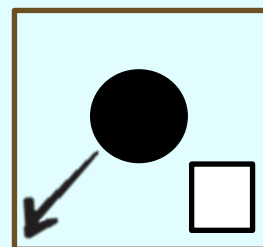
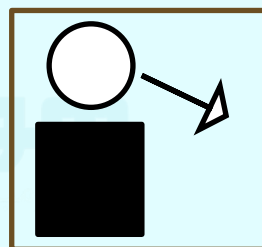
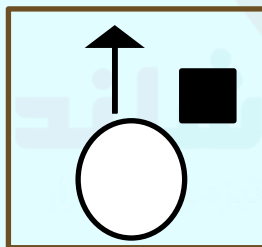
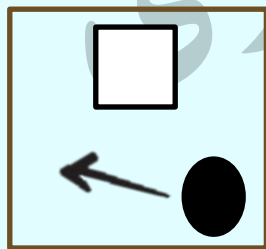
نکات مربوط به اشاره :

مثال: در حالی که جهت فلش ها را مشخص می کنید نیم نگاهی هم به شکلی داشته باشید که فلش به آن ها اشاره می کند یا از آن شروع شده است به تصویر های زیر نگاه کنید :




نکات مربوط به اشاره :


مثال: در تصاویر زیر همه ی فلش ها از دایره شروع می شوند:




۱- تصویری انتخاب کنید که بیشترین تفاوت را با بقیه داشته باشد؟




۱




۲



۳



۴



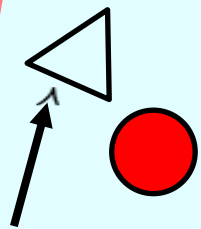
۵

خانه طاهری
موسسه تخصصی

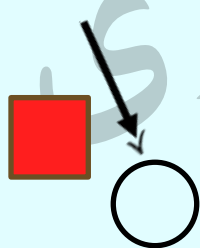


۲- تصویری را انتخاب کنید که بیشترین تفاوت را با بقیه داشته

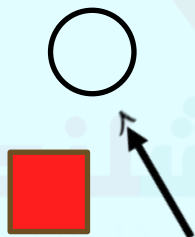
باشد؟




۱



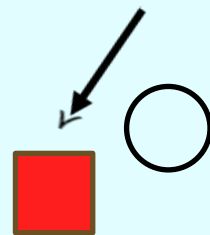
۲



۳



۴



۵

۳- از گزینه های پایین تصویر را انتخاب کن که بیشتر از



بقیه شبیه دوشکل سمت چپ باشد؟



۱



۲



۳




۴



۵

نکات مربوط به اشاره :

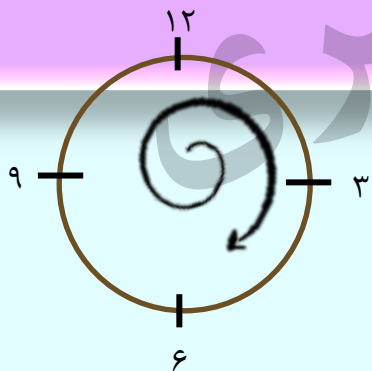
فلش ها لزوما خط های صافی نیستند که به یک جهت مستقیم اشاره کنند ؛ بعضی از آنها به صورت منحنی یا خطوط شکسته اند :



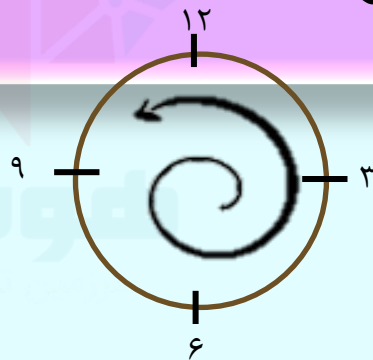
نکات مربوط به اشاره :



فلش های منحنی و خطوط شکسته می توانند به دو صورت ظاهر شوند :



(۱) ساعتگرد (در جهت عقربه های ساعت)




(۲) پاد ساعتگرد (در جهت خلاف عقربه های ساعت)
(ساعت)

نکات مربوط به اشاره:

فلش های رو پرو همگی ساعت گرد هستند.



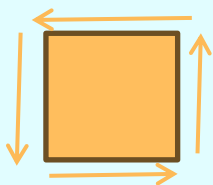
فلش های رو پرو همگی پاد ساعت گرد هستند.




نکات مربوط به اشاره :




گاهی اوقات ، ساعتگرد یا پاد ساعت گرد بودن فلش ها را شکلی مشخص می کند که فلش به دور آن می چرخد. مثال:



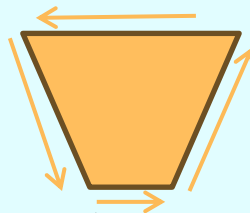
چرخش پاد
ساعت گرد



چرخش
ساعت گرد

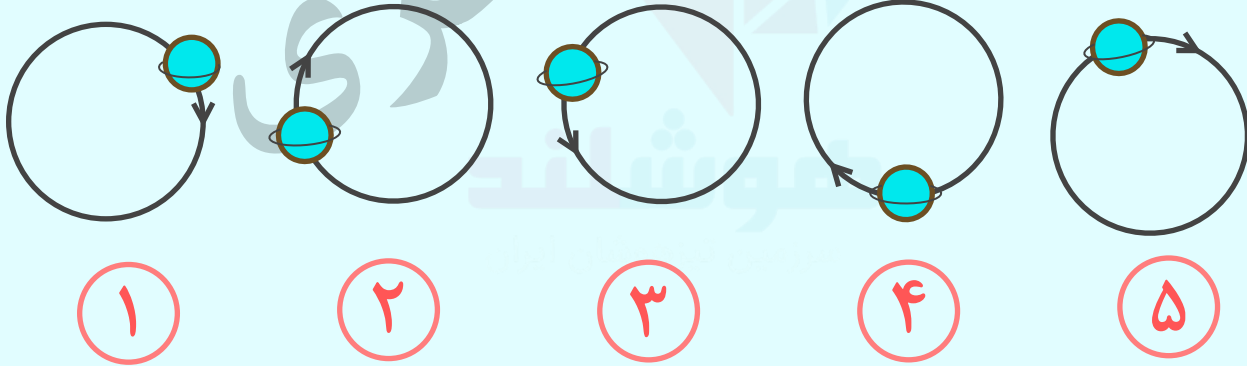


چرخش
ساعت گرد


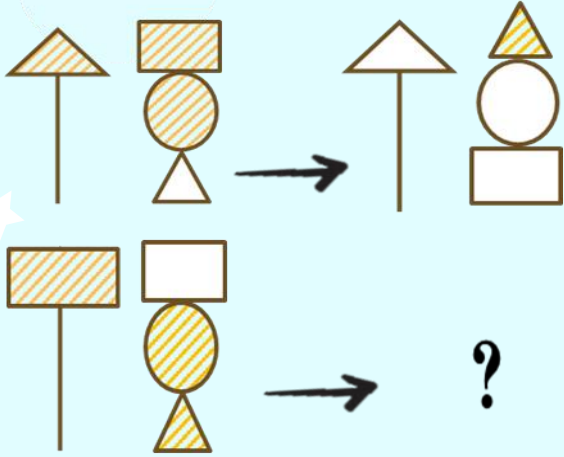


چرخش پاد
ساعت گرد


۴- کدام شکل با بقیه متفاوت است؟




۵) به جای علامت سوال، کدام گزینه قرار می گیرد؟



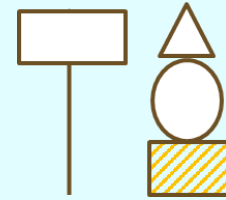
۱



۲

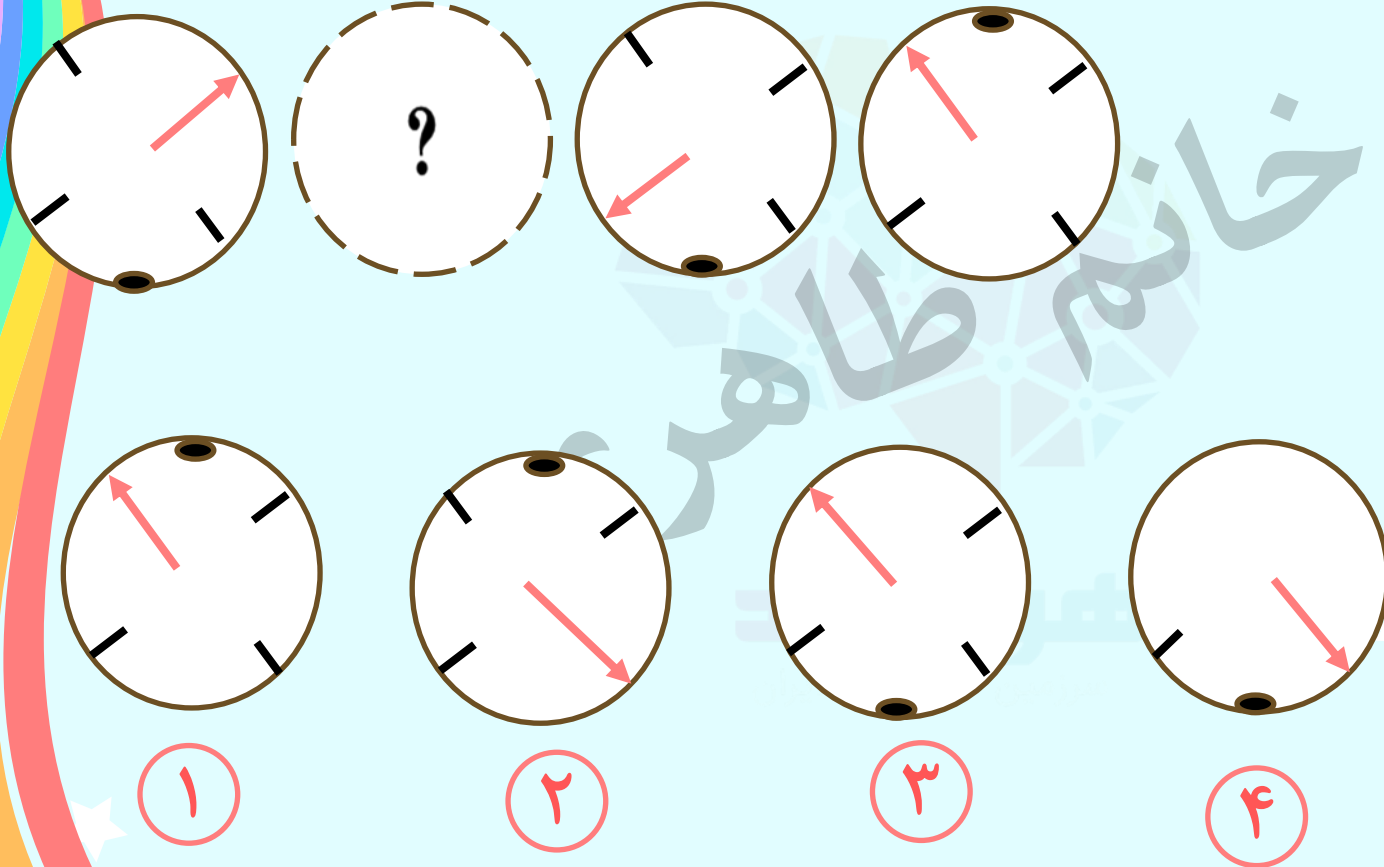


۳

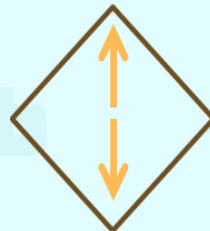
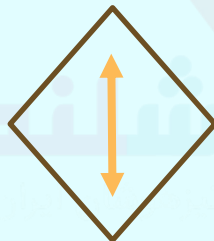
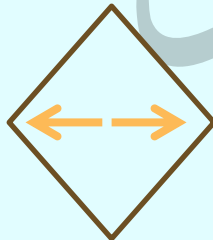
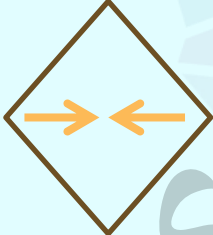
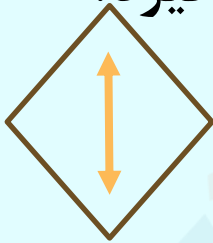
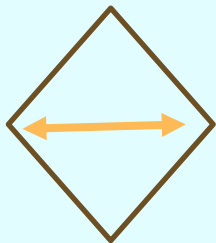


۴

۶- کدام تصویر به جای علامت سوال قرار می گیرد؟



۷- به جای علامت سوال، کدام گزینه قرار می گیرد؟



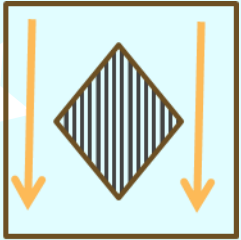
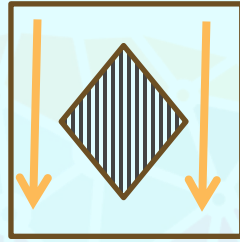

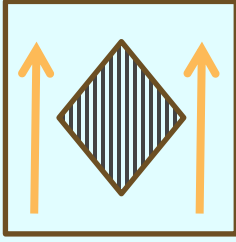
۱

۲

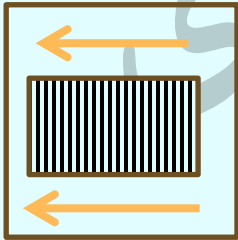
۳

۴

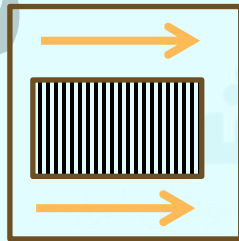
۸- کدام گزینه به جای علامت سوال قرار می گیرد؟




۱



۲



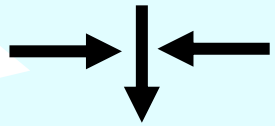
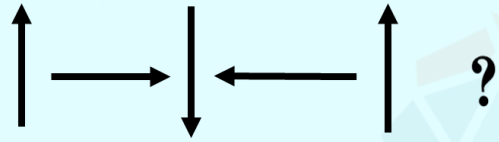
۳



۴



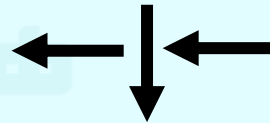
۹- کدام گزینه به جای علامت سوال قرار می گیرد؟



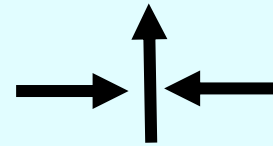
۱



۲

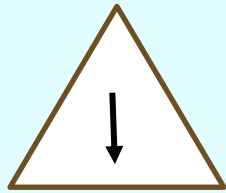


۳

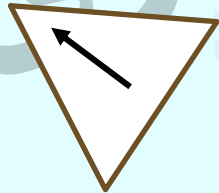


۴


۱۰- کدام تصویر با بقیه متفاوت است ؟



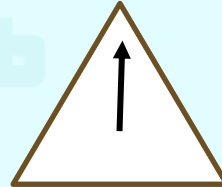
۱



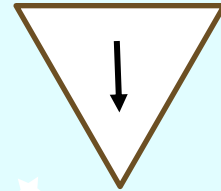
۲



۳

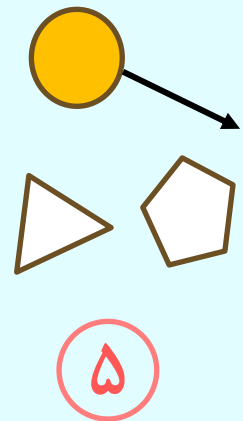
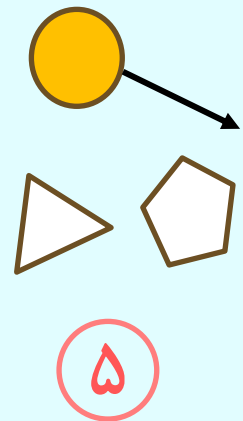
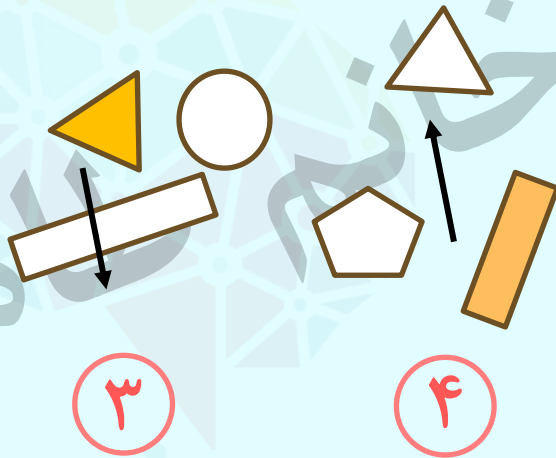
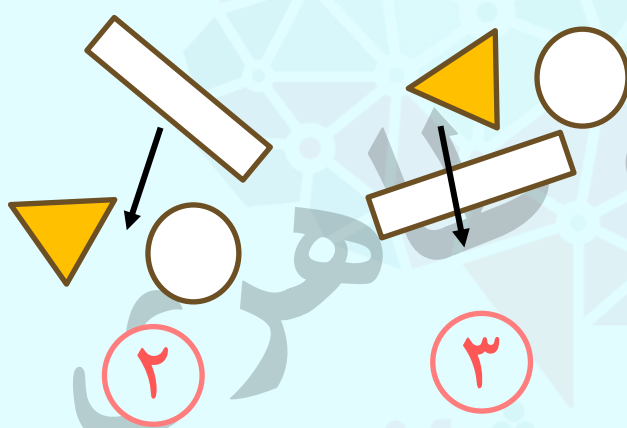
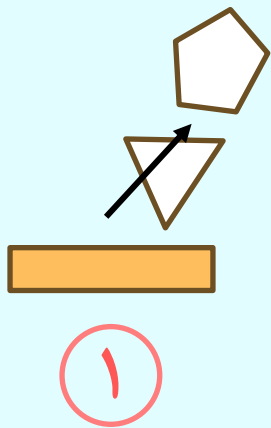


۴



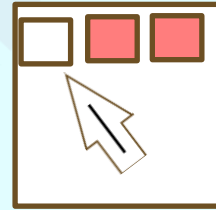

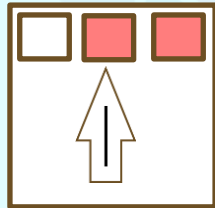

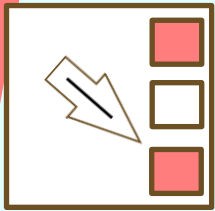
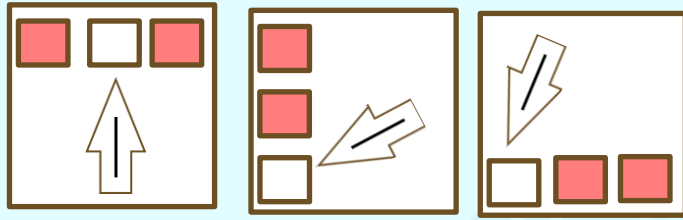
۵

تمرین ۱ - کدام تصویر با بقیه متفاوت است ؟



هوشلند

تمرین ۲ - کدام تصویر بیشترین شباهت را به سه شکل سمت چپ داد؟



۱

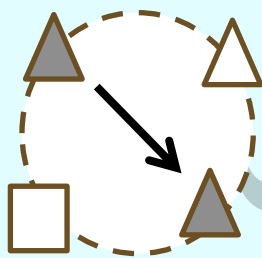
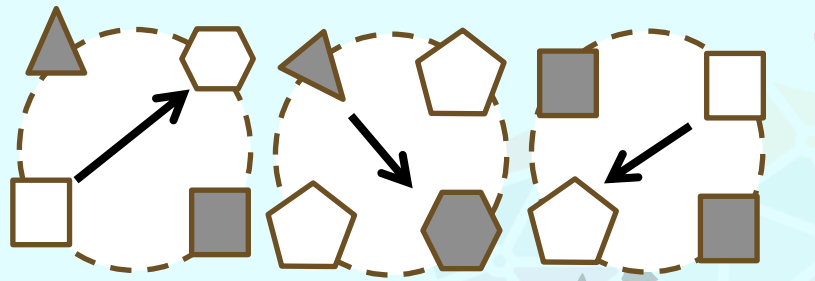
۲

۳

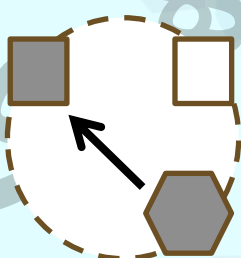
۴

۵

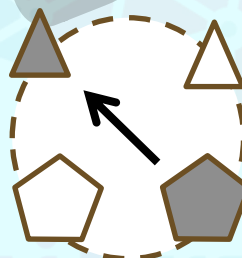
تمرین ۳ - کدام تصویر شباهت بیشتری به سه تصویر چپ دارد؟



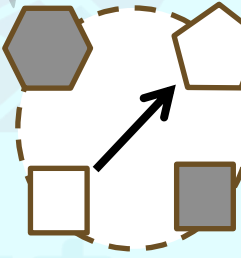
۱



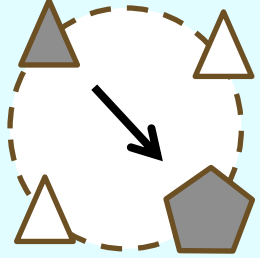
۲



۳

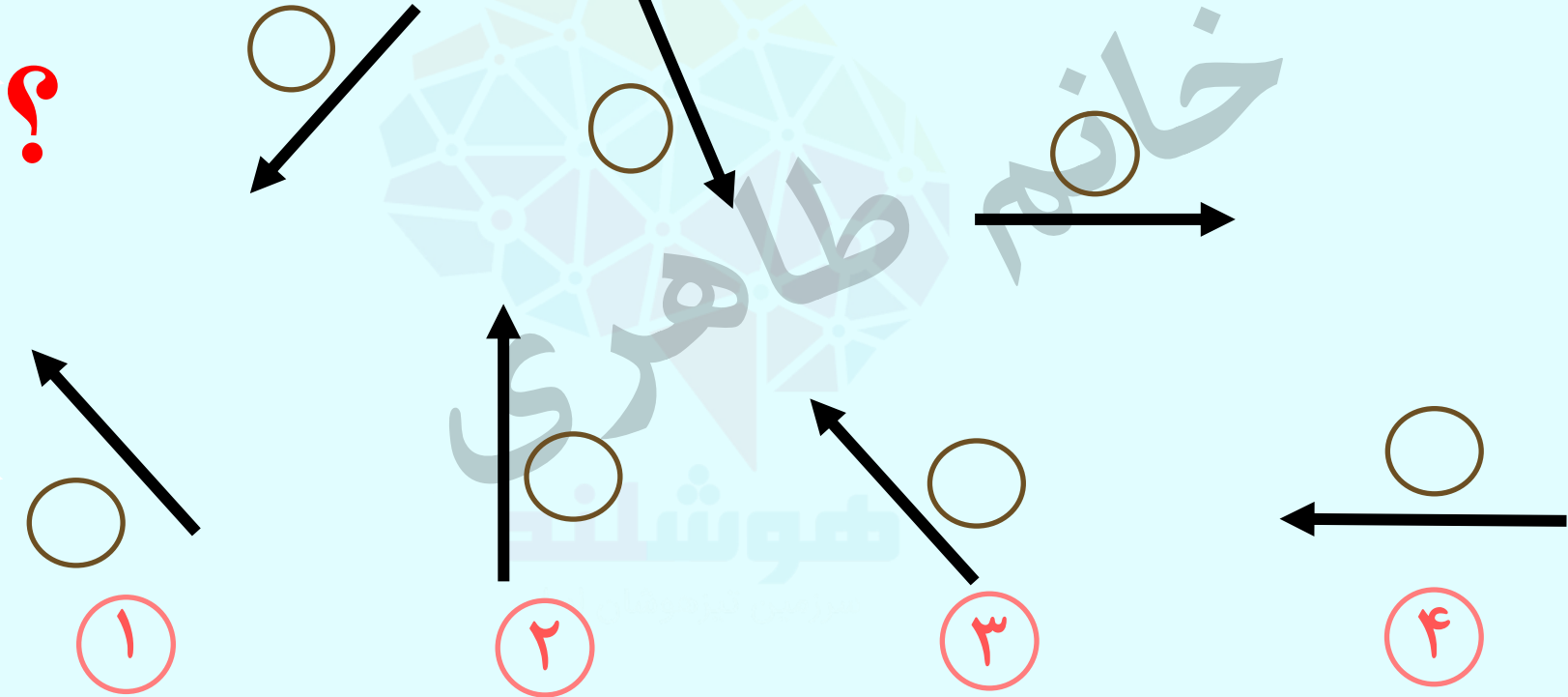


۴

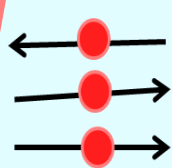
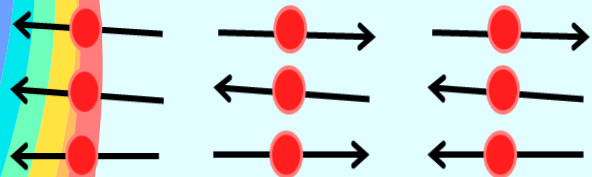


۵

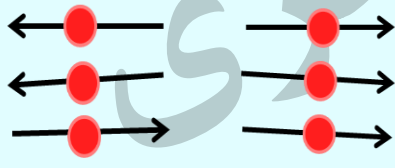
تمرین ۴ - کدام گزینه به جای علامت سوال قرار می گیرد؟



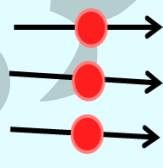
تمرین ۵- تصویری را انتخاب کنید که بیشترین شباهت را به سه تصویر سمت چپ داشته باشد.



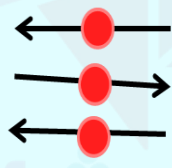
۱



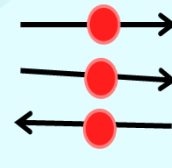
۲



۳

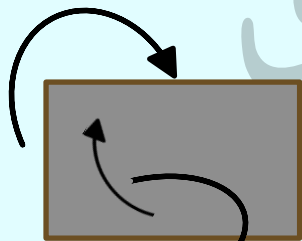
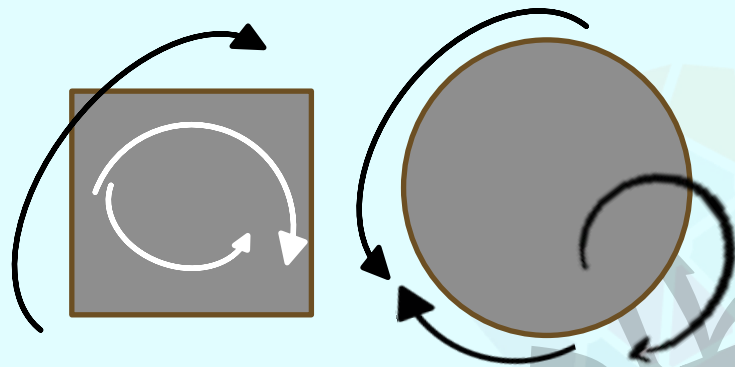


۴

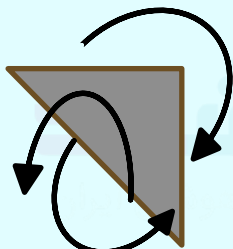


۵

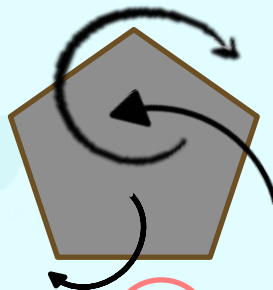
تمرین ۶- کدام تصویر بیشتر از بقیه به تصویر سمت چپ شبیه است؟



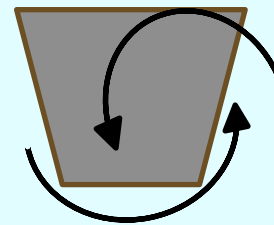
۱



۲

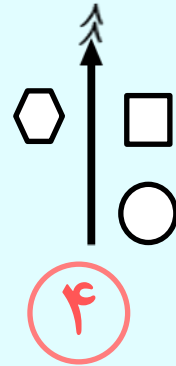
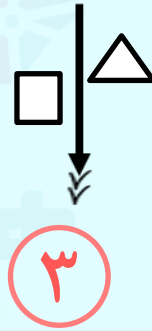
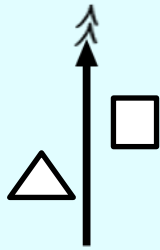



۳

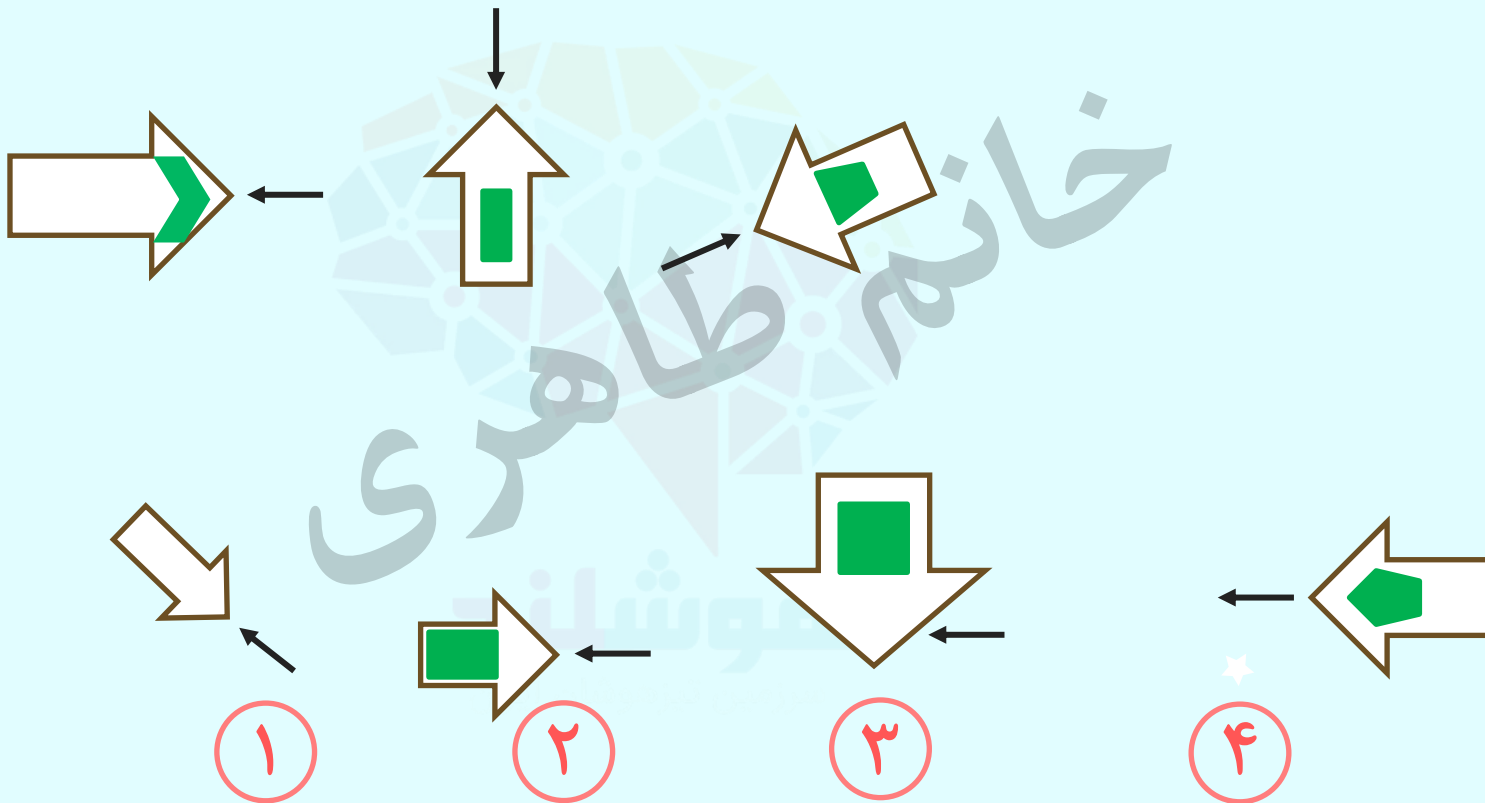


۴

تمرین ۷ - کدام تصویر بیشتر از بقیه به دو تصویر سمت چپ شبیه است؟



تمرین ۸ - کدام تصویر بیشتر از بقیه به تصویر های سمت چپ شبیه است ؟



کلید تمرین ها:

در همه گزینه ها فلش از شکل رنگی دور می شود.

۲

پاسخ:

۱-

در همه گزینه ها نوک پیکان باید به سمت شکل سفید باشد .

۴

پاسخ:

۲

نوک فلش باید به سمت شکلی باشد که بیشترین اضلاع را دارد ..

۵

پاسخ:

۳

فلش در جهت خلاف عقربه های ساعت می چرخد.

۴

پاسخ:

۴

در همه ی گزینه ها پیکان وسط باید به سمت چپ نشانه رفته باشد .

۲

پاسخ:

۵

کلید تمرین ها:

در همه تصویرها باید دو فلش در جهت ساعتگرد و یک فلش در جهت پاد ساعت گرد داشته باشند.

۳

پاسخ:

۶ -

هر کدام از تصاویر دو شکل دارند با یک فلش که به بالا اشاره می کند .

۲

پاسخ:

۷

سر دو فلش باید رو بروی هم باشد و یک شکل سبز رنگ هم درون فلش بزرگ قرار داشته باشد.

۳

پاسخ:

۸