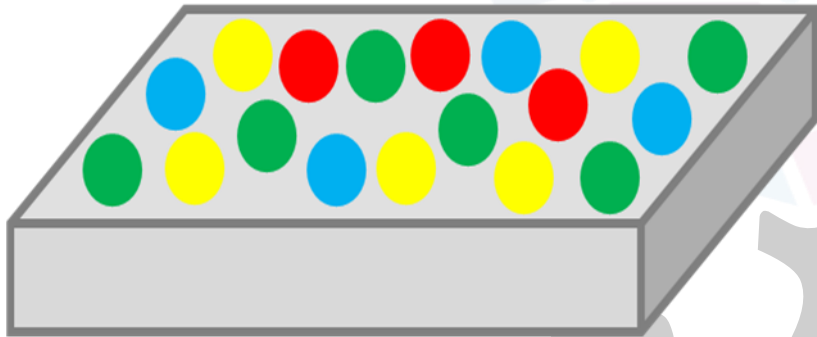




تمرین : ۱

..... قسمت از قسمت مهره ها سبز است.



تمرین : ۲

خط های زیر را رسم کن.
۲ سانتی متر و ۳ قسمت از ۱۰ قسمت کوچک

۴ سانتی متر و ۷ قسمت از ۱۰ قسمت کوچک

۶ سانتی متر و ۵ قسمت از ۱۰ قسمت کوچک



تمرین: ۳

کدام یک از گزینه های زیر به درستی مقایسه شده است؟

(۱) ۵ دسته ی ۲ تایی $<$ ۳ دسته ی ۴ تایی

(۲) ۸ دسته ی ۳ تایی $<$ ۶ دسته ی ۴ تایی

(۳) ۹ دسته ی ۲ تایی $=$ ۶ دسته ی ۳ تایی

(۴) ۷ دسته ی ۲ تایی $>$ ۳ دسته ی ۲ تایی



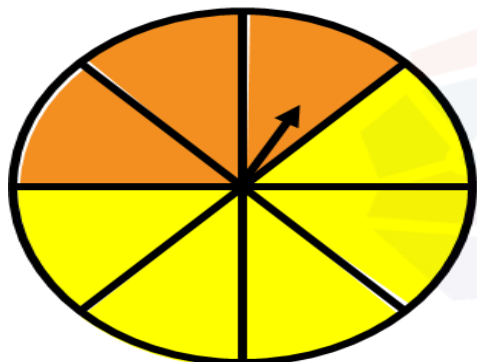
تمرین : ۴

اگر هر بیست دقیقه در ساعت یک قسمت در نظر بگیریم ، یک ساعت چند قسمت دارد ؟
با توجه به این شکل ۲۰ دقیقه می شود قسمت از قسمت مساوی.




تمرین : ۵

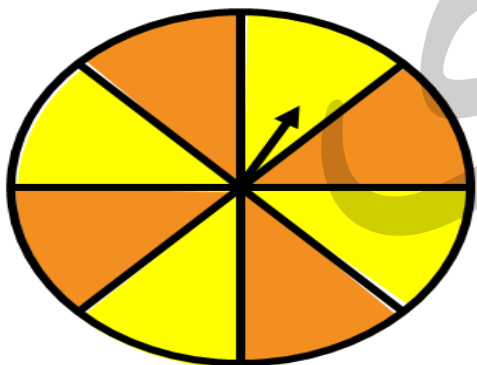
در کدام صفحه بعد از چرخاندن ، شانس توقف روی رنگ نارنجی بیشتر است؟



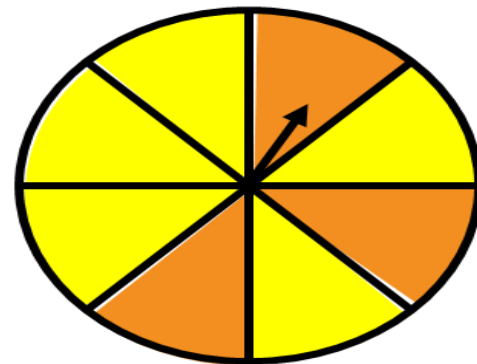
(۲)



(۱)



(۴)



(۳)

تمرین : ۶

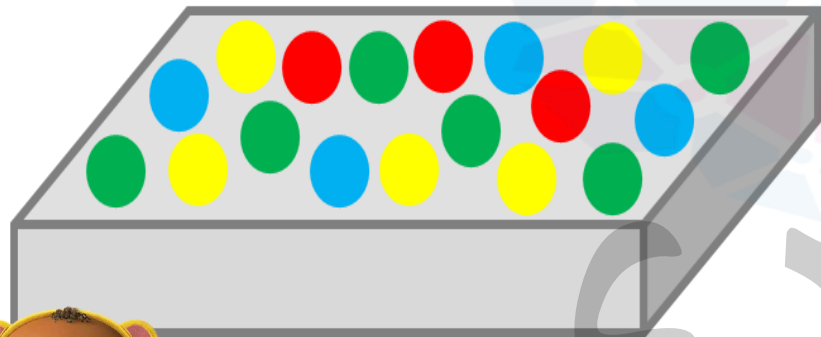
یک سکه را ۵ بار بالا انداختیم، ۵ بار پشت سکه آمد. دفعه ی ششم شانس اینکه روی سکه بیاید بیشتر است یا پشت سکه؟



موسسه تخصصی زبان
موسسه تخصصی زبان
موسسه تخصصی زبان

تمرین: ۷

اگر بخواهیم بدون نگاه کردن به داخل جعبه یک تیله از آن خارج کنیم، به ترتیب شانس کدام یک بیشتر است؟



۱) زرد - سبز - آبی - قرمز

۲) سبز - زرد - قرمز - آبی

۳) سبز - زرد - آبی - قرمز

۴) قرمز - آبی - زرد - سبز

تمرین : ۸

چه مقداری از شکل رنگ شده است؟



تمرین : ۹

بعد از رای گیری برای انتخاب نماینده کلاس سینا با ۱۲ اختلاف بعد از امیر نفر دوم شد با توجه به تعداد رای های سینا تعداد رای های امیر کدام است؟

چوب خط	تعداد رای	نام
؟	؟	امیر
#####		سینا
###		محمد



تمرین: ۱۰


نمودار مقابل بارش باران یک سال را در بعضی از ماه های سال نشان می دهد با توجه به نمودار به سوالات زیر پاسخ دهید؟

(الف) در این چند ماه روی هم چند بار باران باریده است؟

(ب) بیشترین بارش و کمترین بارش به ترتیب در چه ماه هایی بوده است؟

(ج) به غیر از اردیبهشت و آبان در ماه های دیگر چند بار باران باریده است؟



(د) بارش باران در چه ماه هایی به ترتیب بیشتر از بقیه بوده است؟





تمرین : ۱۱

داخل دایره چه عدد قرار می گیرد؟

۸۷



۴۹



تمرین: ۱۲

هر یک از نقاط خواسته شده زیر را روی محور مشخص کنید؟
سه واحد و یک قسمت از سه قسمت مساوی



۲ واحد و ۵ قسمت از ۷ قسمت مساوی



۲ واحد و سه قسمت از چهار قسمت مساوی



تمرین: ۱۳

اگر بدون اینکه داخل کیسه را نگاه کنیم یک تیله از داخل کیسه خارج کنیم، کدام رنگ بیرون خواهد آمد؟



یک د دسته ی می شود




.....


دو د دسته ی می شود



سه د دسته ی می شود



چهار د دسته ی می شود



پنج د دسته ی می شود



شش د دسته ی می شود



هفت د دسته ی می شود



هشت د دسته ی می شود




نه د دسته ی می شود




الگو،.....6.....6.....6.....6.....6.....6.....6.....6.....6.....6.....6.....




یک دسته ی می شود



دو دسته ی می شود





سه دسته ی می شود





چهار دسته ی می شود



پنج دسته ی می شود



شش دسته ی می شود




هفت دسته ی می شود



هشت دسته ی می شود



نه دسته ی می شود



الگو،.....۶.....۶.....۶.....۶.....۶.....۶.....۶.....۶.....۶.....



یک دسته ی می شود



.....

دو دسته ی می شود



.....

سه دسته ی می شود



.....

چهار دسته ی می شود



.....

پنج دسته ی می شود



.....

شش دسته ی می شود



.....

هفت دسته ی می شود



.....

هشت دسته ی می شود



.....

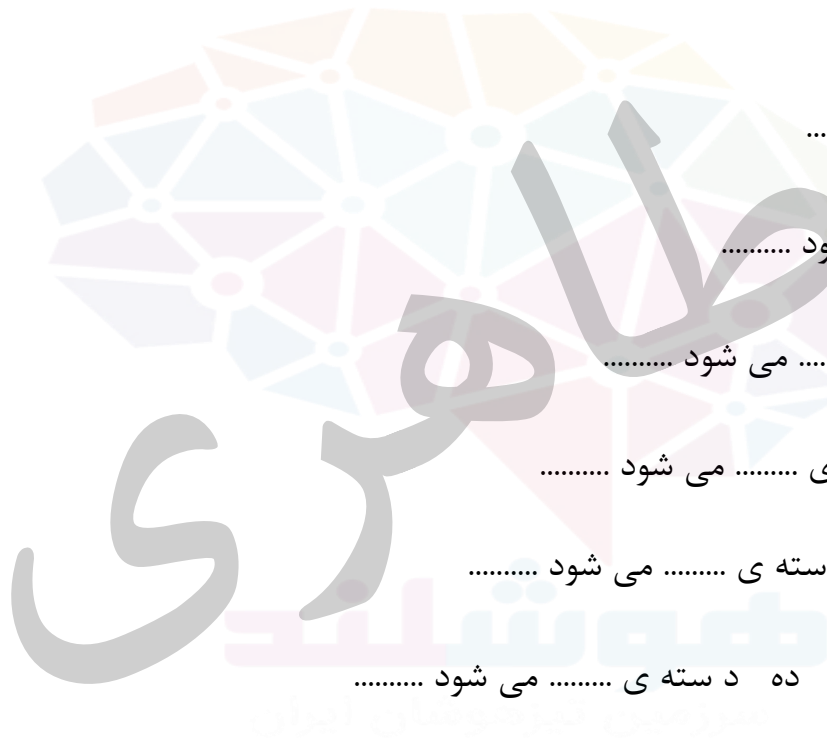
نه دسته ی می شود



.....

ده دسته ی می شود


الگو،.....،.....،.....،.....،.....،.....،.....،.....،.....،.....،.....



یک د سته ی می شود




دو د سته ی می شود



سه د سته ی می شود




چهار د سته ی می شود




پنج د سته ی می شود




شش د سته ی می شود




هفت د سته ی می شود




هشت د سته ی می شود



نه د سته ی می شود



ده د سته ی می شود



الگو.....6.....6.....6.....6.....6.....6.....6.....6.....6.....6.....

یک دسته ی می شود



دو دسته ی می شود



سه دسته ی می شود



چهار دسته ی می شود



پنج دسته ی می شود



شش دسته ی می شود



هفت دسته ی می شود



هشت دسته ی می شود



نه دسته ی می شود




ده دسته ی می شود




الگو.....


یک د سته ی می شود




.....
دو د سته ی می شود




.....
سه د سته ی می شود




.....
چهار د سته ی می شود



.....
پنج د سته ی می شود




.....
شش د سته ی می شود




.....
هفت د سته ی می شود



.....
هشت د سته ی می شود



.....
نه د سته ی می شود



.....،الگو