

هوش و خلاقیت

پایه دوم



درس پنجم

موقعیت






موقعیت:






✓ در بعضی تست ها ، محل قرار گیری شکل ها و اجزای سازنده ی تصاویر اهمیت زیادی دارد. موقعیت قرار گیری شکل ها می تواند در شباهت ها و تفاوت های بین تصاویر به شما کمک کند. به همه چیز توجه کنید.





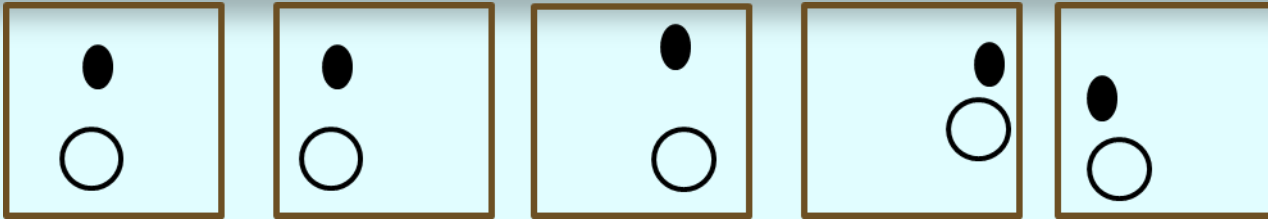
موقعیت:

✓ در همه این تصاویر موقعیت چهار ضلعی و ستاره مشابه است. در همه آنها مستطیل در بالا و ستاره در سمت چپ تصویر قرار گرفته است.



نکات مربوط به موقعیت:

گاهی اوقات در تست ها یی که چند شکل کنار هم هستند ، ممکن است موقعیت یک شکل نسبت به بقیه شکل ها ، اهمیت داشته باشد ، برای مثال ممکن است دو شکل خاص نسبت به هم موقعیت های یکسان داشته باشند . به تصویر های زیر دقت کنید .



در هر تصویر دایره تو خالی و دایره تو پر موقعیت های متفاوتی دارند؛ اما در همه آنها ، دایره تو پر کاملاً بالای دایره تو خالی قرار گرفته است .

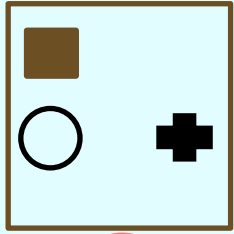


نکات مربوط به موقعیت:

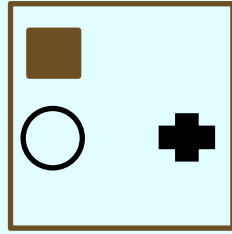
در سوال هایی که تعداد شکل ها زیاد است ، موقعیت هر شکل را نسبت به هر یک از شکل های دیگر در نظر بگیرید ؛



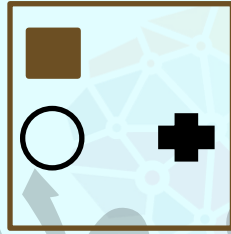
۱- تصویر متفاوت را پیدا کن؟




۱



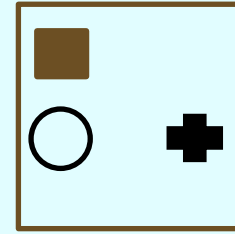
۲



۳



۴

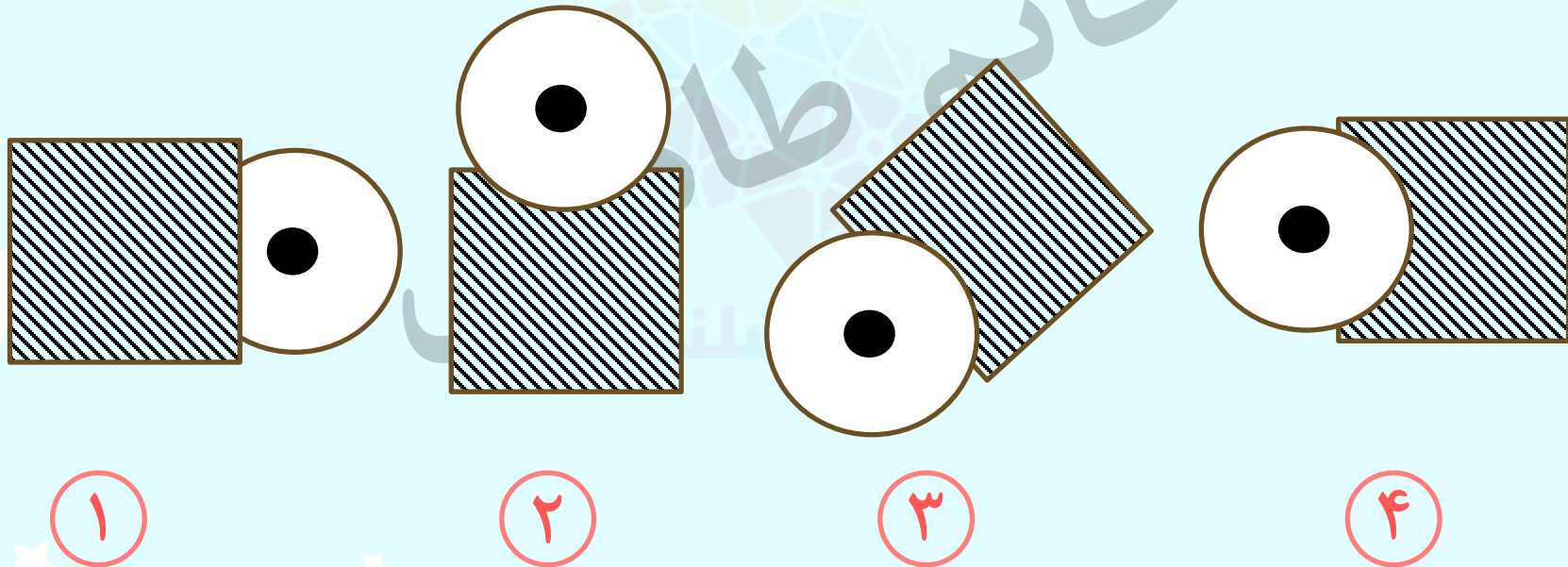


۵

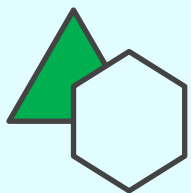
مجموعه آموزشی
هوشلند



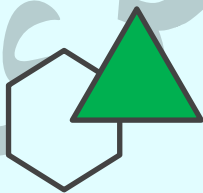
۲- تصویری را که تفاوت بیشتری با بقیه دارد، انتخاب کنید.



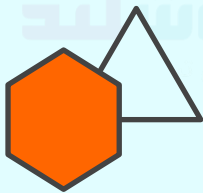
۳- تصویری را که تفاوت بیشتری با بقیه دارد، انتخاب کنید؟



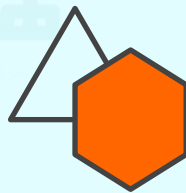
۱



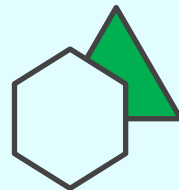
۲



۳




۴




۵


۴- شکلی را که بیشتر از همه با بقیه تفاوت دارد را مشخص کنید.



۱



۲



۳



۴


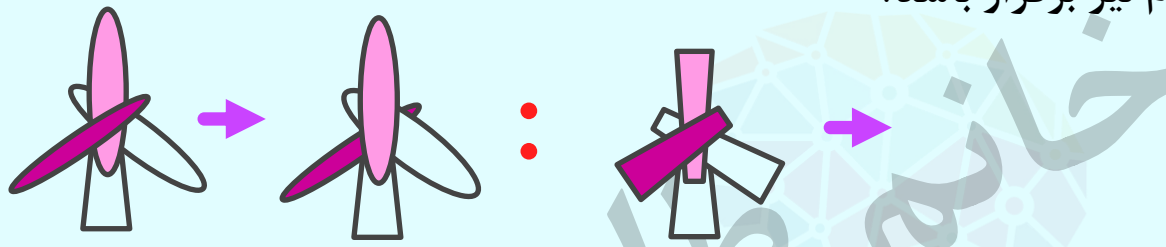


۵

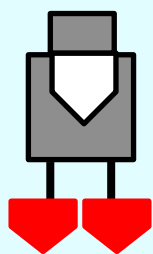
خانه طاهری



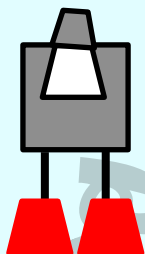
۵ - در هر یک از سوالات زیر، شکل اول پس از تغییراتی به شکل دوم تبدیل می شود. دقت کنید که شکل اول چه تغییراتی کرده است. در ادامه شکل سومی داریم که پنج گزینه بعد از آن آمده است. به جای شکل چهارم کدام گزینه باید قرار بگیرد تا ارتباط بین شکل های اول و دوم بین شکل های سوم و چهارم نیز برقرار باشد؟



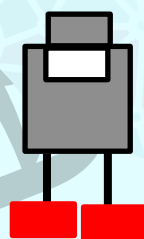
۶- کدام گزینه با بقیه تفاوت دارد؟



۱



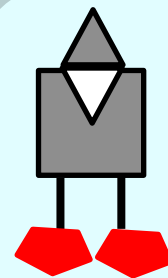
۲



۳




۴




۵

۷- تصویری را انتخاب کنید که بیشترین تفاوت را با بقیه داشته باشد؟



۱



۲

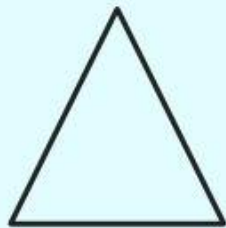
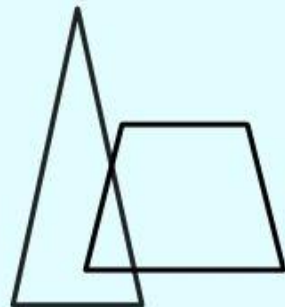
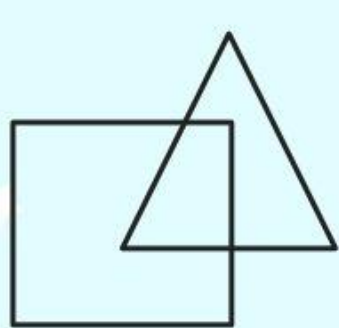


۳

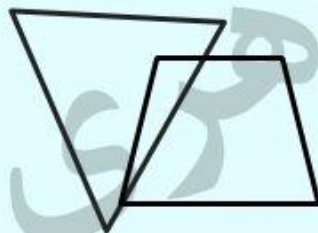


۴

۸- تصویری را انتخاب کنید که بیشترین شباهت را به سه شکل سمت چپ داشته باشد؟



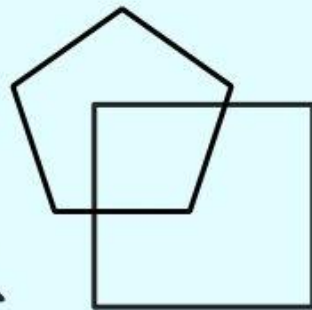
۱



۲

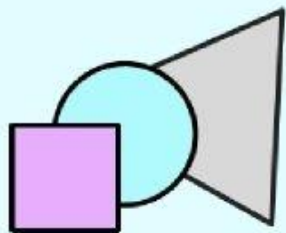
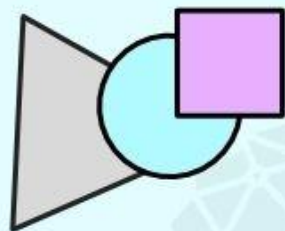
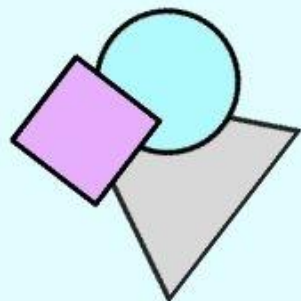
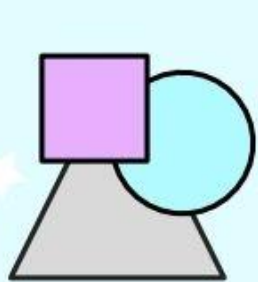


۳

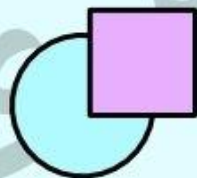


۴

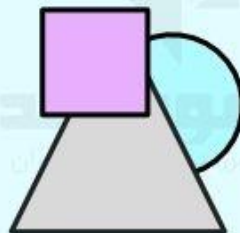
۹- تصویری را انتخاب کنید که بیشترین شباهت را با سه تصویر سمت چپ داشته باشد؟



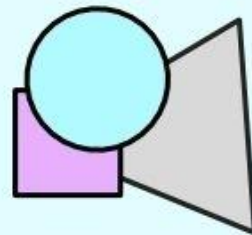
۱



۲

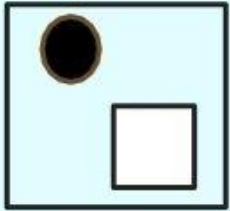


۳

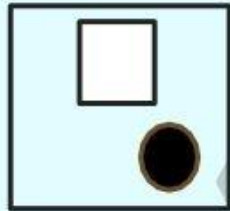


۴

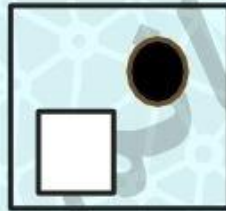
۱۰- تصویری را انتخاب کنید که بیشترین تفاوت را با بقیه داشته باشد؟




۱



۲



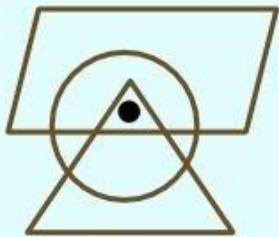
۳



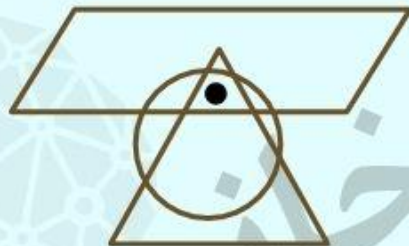
۴

موسسه تخصصی آموزش زبان
موسسه تخصصی آموزش زبان

۱۱- موقعیت نقطه نسبت به شکل های کدام گزینه با دیگر گزینه ها متفاوت است؟



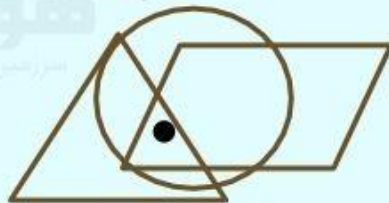
۱



۲



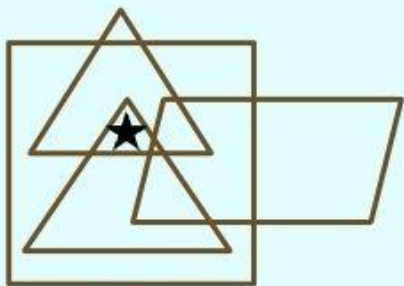
۳



۴



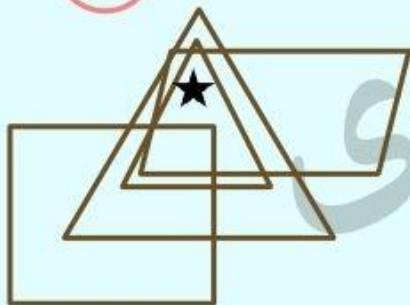
۱۲- موقعیت ستاره نسبت به شکل های کدام گزینه با دیگر گزینه ها متفاوت است؟



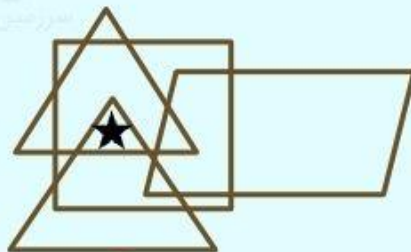
۱



۲



۳



۴

موسسه تخصصی زبان طاهر

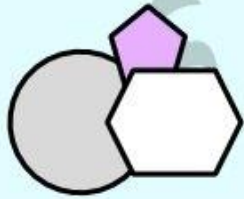
سرزمین تیزهوشان ایران

کدامیک از فضانوردها ربات است و انسان نیست!؟

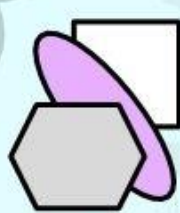


- ۱
 - ۲
 - ۳
 - ۴
 - ۵
- ۱
۲
۱ و ۲
۳
۲ و ۳

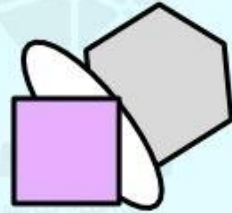
تمرین ۱- تصویری را انتخاب کنید که بیشترین تفاوت را با بقیه داشته باشد؟



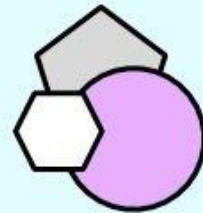
۱



۲

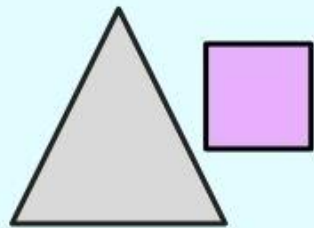


۳

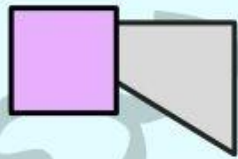


۴

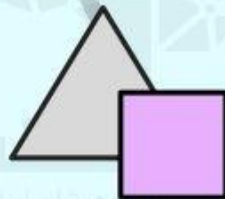
تمرین ۲- تصویری را انتخاب کنید که بیشترین تفاوت را با بقیه داشته باشد؟



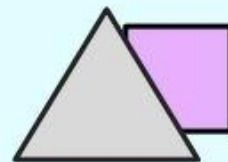
۱



۲



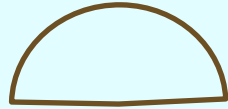


۳



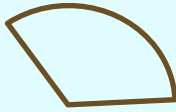
۴

تمرین ۳ - تصویر چهارم را پیدا کن؟

؟



۱



۲



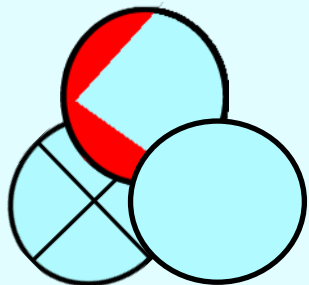
۳



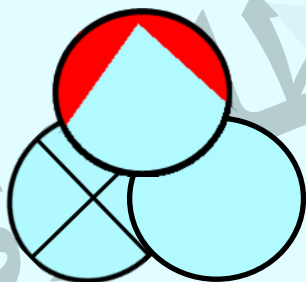
۴



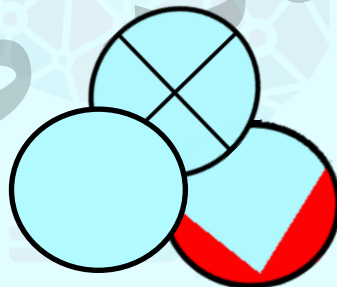
تمرین ۴- تصویری که بیشترین تفاوت را با بقیه دارد انتخاب کنید؟



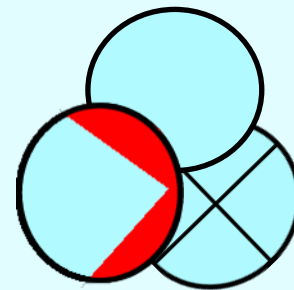
۱



۲

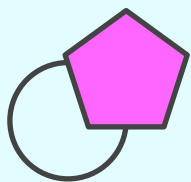


۳

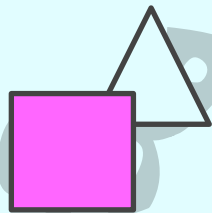


۴

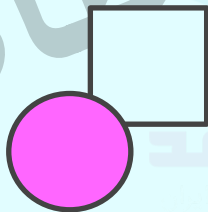
تمرین ۵- شکلی را که بیشتر از همه با بقیه تفاوت دارد را مشخص کنید.



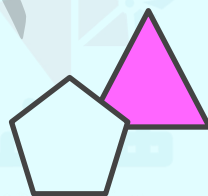
۱



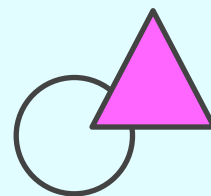
۲



۳



۴



۵

تمرین ۶- تصویری که بیشترین تفاوت را با بقیه دارد انتخاب کنید؟



۱



۲

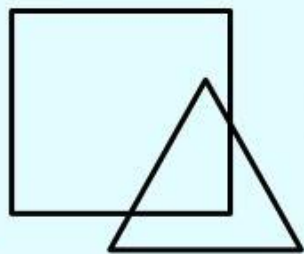


۳

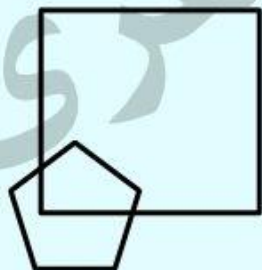


۴

تمرین ۷- تصویری را انتخاب کنید که بیشترین تفاوت را با بقیه داشته باشد؟



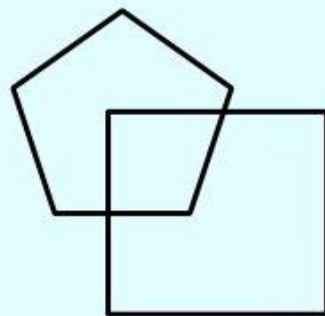
۱



۲





۳




۴

تمرین ۸ - کدام یک از پنج مربع سمت راست می تواند جای خالی را پر کند؟




۱



۲




۳



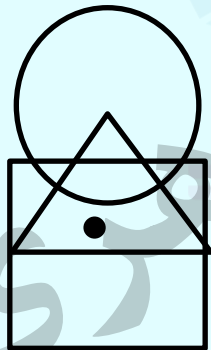
۴



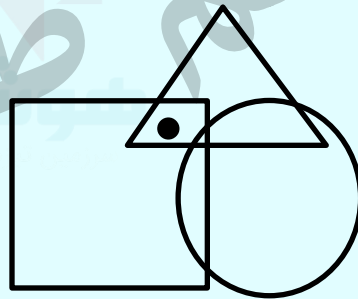
تمرین ۹- موقعیت نقطه نسبت به شکل های کدام گزینه با دیگر گزینه ها متفاوت است؟



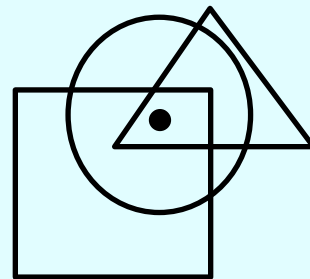
۱



۲

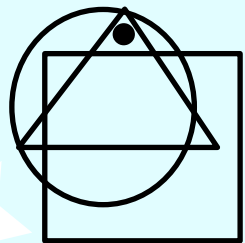


۳




۴

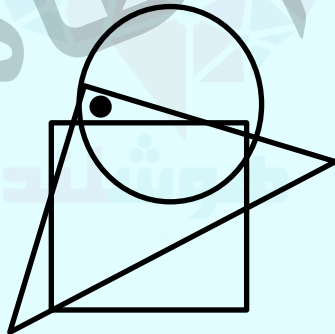
تمرین ۱۰- موقعیت نقطه نسبت به شکل های کدام گزینه با دیگر گزینه ها متفاوت است؟



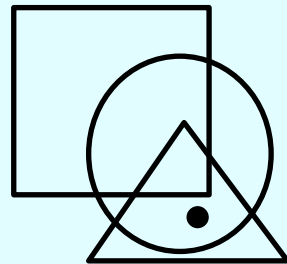
۱



۲



۳



۴

کلید تمرین ها:

پاسخ: ۳ شکل صورتی بین دو شکل سفید و خاکستری می باشد .

۱ -

پاسخ: ۱ مربع و مثلث با هم همپوشانی دارند ولی در گزینه ۱ جدا هستند.

۲

پاسخ: ۲ در هر مرحله قسمتی از دایره حذف می شود.

۳

پاسخ: ۴ دایره ای که علامت ضربدر دارد باید پشت دو دایره ی دیگر قرار بگیرد.

۴

پاسخ: ۴ شکل رنگی باید در جلو تصویر باشد.

۵

کلید تمرین ها:

پاسخ: ۳
دایره سفید رنگ در همه ی تصاویر در جلوی شکا است اما در گزینه ۳ در پشت شکل قرار گرفته است.

۶ -

پاسخ: ۳
دو شکلی که با هم همپوشانی دارند از همپوشانی آنها ۴ ضلعی درست شده است.

۷

پاسخ: ۲
نیم دایره یکی در میان چهار خانه و خاکستری می شود و قلب هم یکی در میان در سمت راست و چپ قرار می گیرد .

۸

پاسخ: ۴
نقطه در هر سه تصویر در دو شکل است اما در گزینه ۴ در سه شکل قرار گرفته است .

۹

پاسخ: ۲
نقطه در هر سه تصویر باید در مثلث و دایره باشد . اما در گزینه ۲ در سه شکل است .

۱۰

