



خیاطی ۴۸۰ سانتی متر پارچه داشت که با ۱۰۵ سانتی متر از آن یک شلوار برای حمید و با ۱۳۰ سانتی متر دیگر از آن یک شلوار برای پدر حمید دوخت. چند سانتی متر از پارچه باقی مانده است؟

۱) ۷۱۵

۲) ۲۳۵

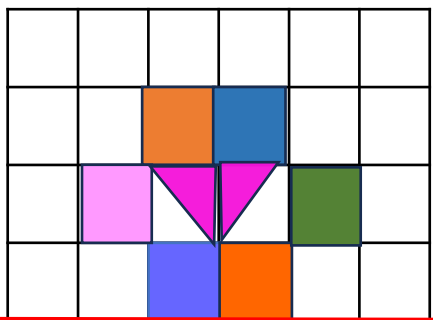
۳) ۲۵۵

۴) ۲۴۵

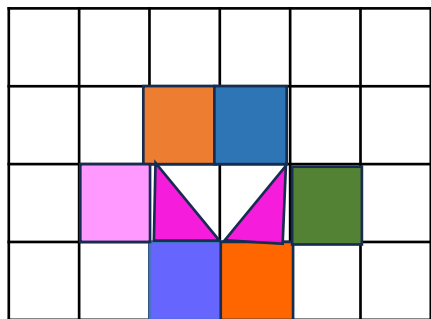


# تقارن:

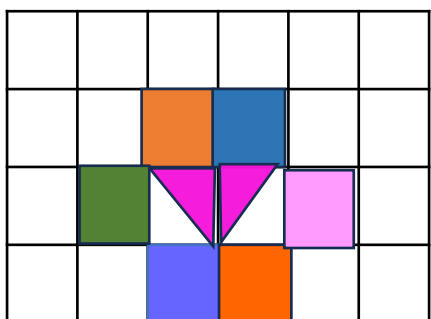
با توجه به خط تقارن هر شکل نیمه دیگرش را پیدا کن .



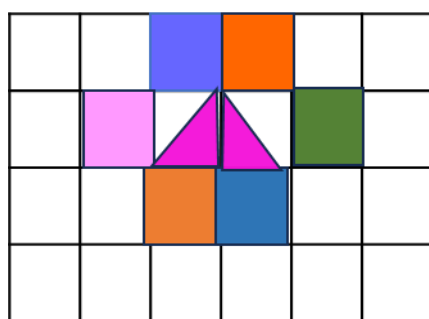
۱



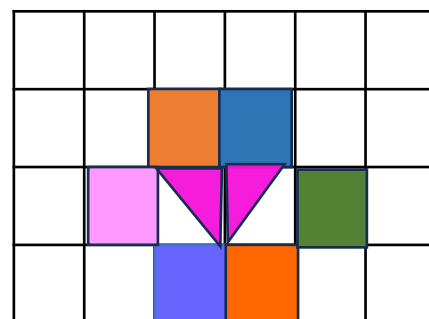
۲



۳




۴

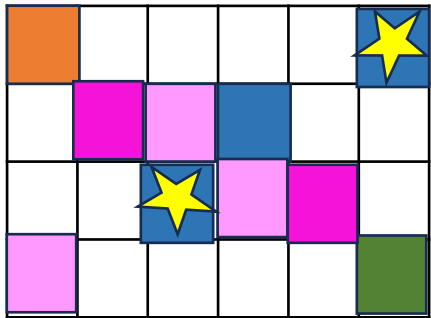


# تقارن:

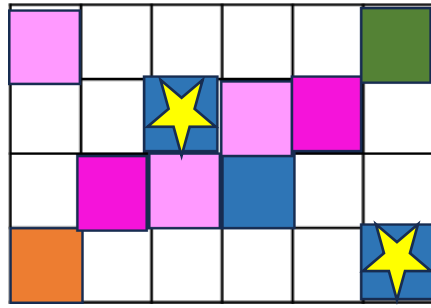
با توجه به خط تقارن شکل نیمه دیگرش را پیدا کن .



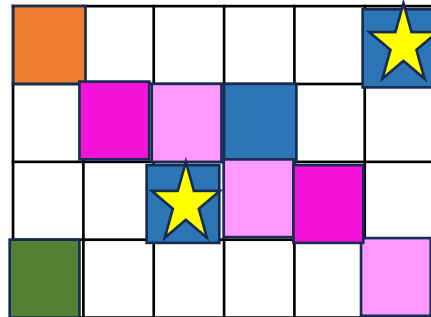
۱




۲




۳



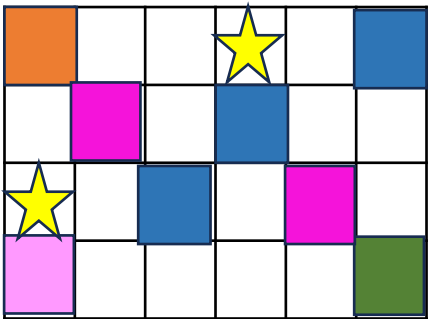
۴



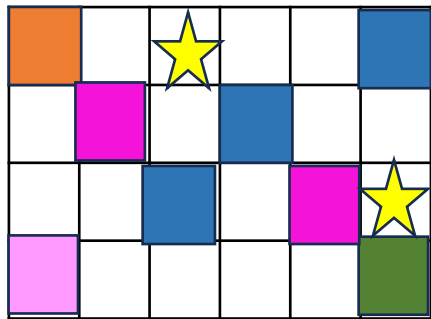
با توجه به خط تقارن شکل نیمه دیگرش را پیدا کن .



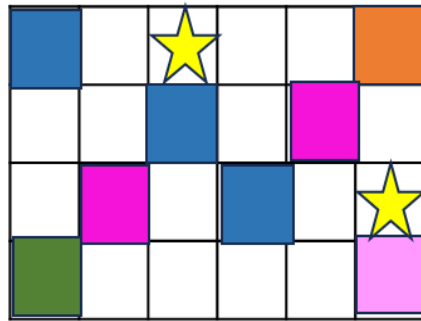
۱



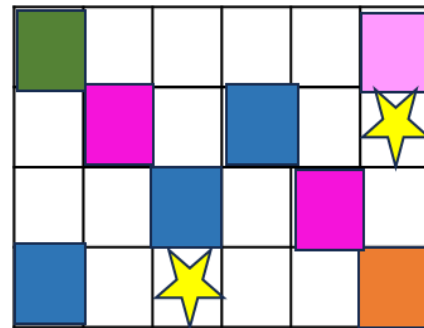
۲




۳



۴



تصویر شکل مقابل در آب چگونه است؟



تصویر شکل مقابل در آینه چگونه است؟



۱



۲



۳



الگوی زیر را ادامه بده .

۲-۶-۱۰-۱۴ - .....-.....-...



۷-۱۳-۱۹-.....-.....-..... -



الگوی زیر را ادامه بده .

♦ - ۲ - ۶ - ۱۲ - ..... - ..... - ...

♦ - ۴ - ۹ - ۱۵ - ..... - ..... - ...



این خرگوش ۲۰ هویج داشت و هر روز دوتا از آن ها را خورد . او دوازدهمین هویج را  
چهارشنبه خورد . خرگوش ، خوردن این هویج را از چه روزی شروع کرد؟



مربی ورزش کلاس گفت: «اگر همه ی دانش آموزان رابخواهند برای مسابقات فوتبال مدرسه معرفی کنند کلاس شما ۷ تیم ۶ نفره خواهد داشت. کدام الگوی زیر نشان می دهد این کلاس چند دانش آموز دارد؟

۱) ۷-۱۴-۲۸-۳۶-۴۵-۴۹

۲) ۶-۱۲-۱۸-۲۶-۳۲-۳۶

۳) ۷-۱۴-۲۱-۲۸-۳۵-۴۲

۴) ۶-۱۲-۱۸-۲۴-۳۰-۳۶



اگر زهره هر روز ۴ صفحه از کتاب داستانش را بخواند، او در ۸ روز چند صفحه از کتابش را می خواند؟

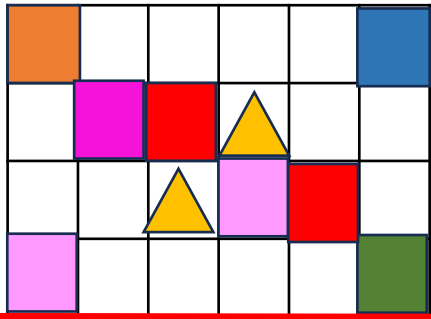


در الگوی زیر کدام عدد ها جا افتاده است؟

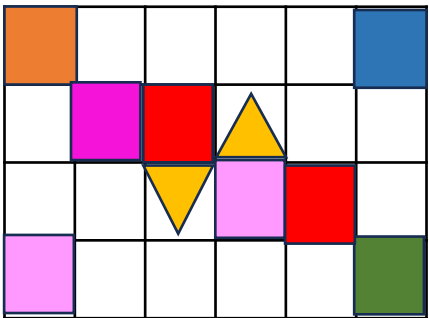
۳۷-۴۱-.....-۴۹ - ۵۳-.....-۶۱



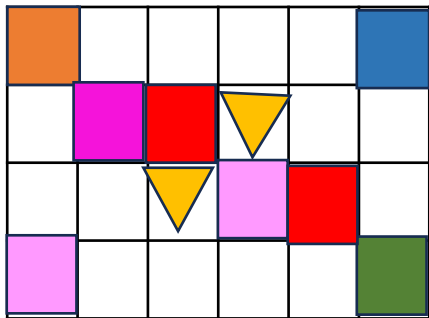
تمرین ۱- با توجه به خط تقارن شکل نیمه دیگرش را پیدا کن .



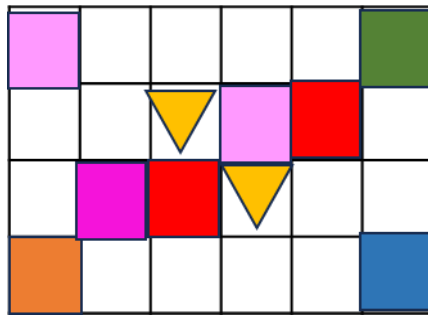
۱



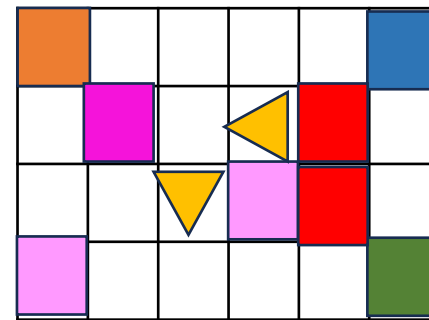
۲



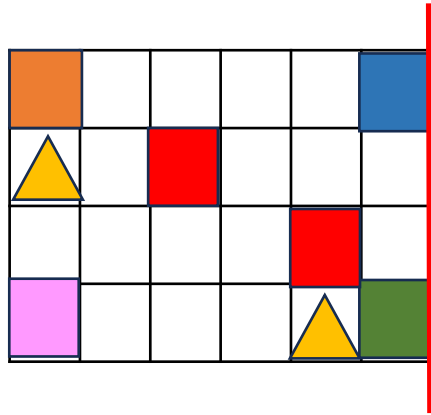
۳



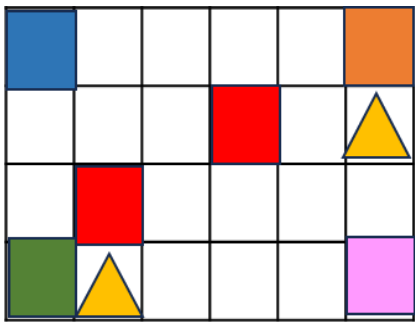
۴



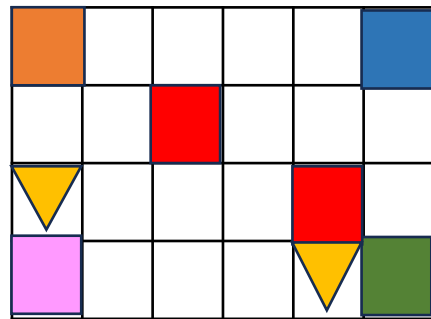
تمرین ۲- با توجه به خط تقارن شکل نیمه دیگرش را پیدا کن .



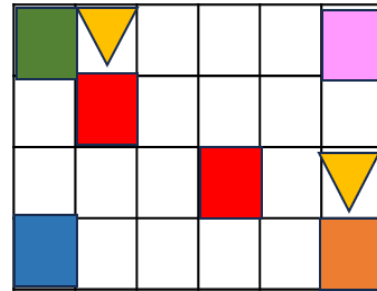
۱



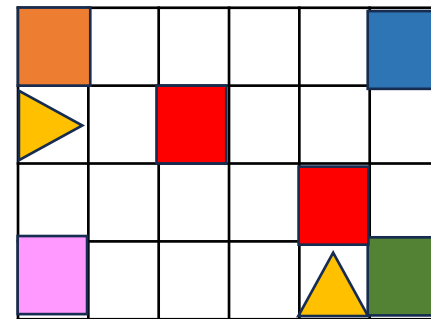
۲



۳



۴



تمرین ۳ - نجاری یک قوطی ۳۰۰ تایی میخ داشت. او برای ساختن یک دست مبل ۱۲۷ تا و برای ساختن یک کمد ۶۳ تا از میخ ها را مصرف کرد. چند میخ برایش باقی مانده است ؟

۱) ۴۹۰

۲) ۱۹۰

۳) ۱۱۰

۴) ۲۱۰





تمرین ۴- ماهی گیری در یک هفته روی هم ۴۵۲ ماهی سفید و قزل آلا صید کرد  
اگر تعداد ماهی های قز آلا ۳۰۵ تا باشد، چند تا از ماهی ها سفید است؟

۱۴۷ ①

۱۵۳ ②

۱۴۳ ③

۷۵۷ ④



تمرین ۵- الگوی زیر را ادامه

بده .

♦ - ۲ - ۶ - ۱۲ - ..... - ..... - ...

♦ - ۴ - ۹ - ۱۵ - ..... - ..... - ...



تمرین ۶- در الگوی شمارشی ۸ تا ۸ تا عدد قبل از ۲۷ چیست؟



تمرین ۷ - در الگوی زیر کدام عدد ها جا افتاده است؟

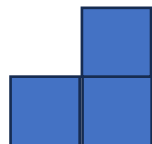
۳۷-۴۱-.....-۴۹ - ۵۳-.....-۶۱



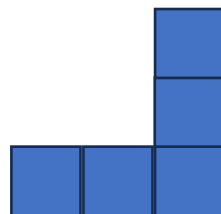
تمرین ۸ - الگوی ششم از چند مربع تشکیل شده است؟



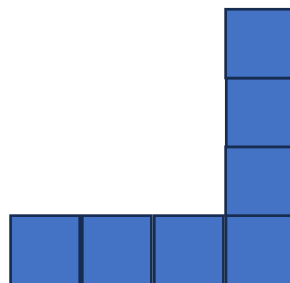
۱



۲



۳



۴

۵

۶



تمرین ۹ - کدام گزینه تقارن شکل در آینه می باشد؟



1



2



3



4



تمرین ۱۰ - کدام گزینه تقارن شکل در آب می باشد؟



1



2



3



4

