



## هوش ریاضی

## جدول اشکال


در این مدل سوالا یک جدول به ما می دن و از ما می خوان علامت سوال رو پیدا کنیم.

1

یه جدول به ما می دن  
یه عددش معلوم نیست  
، از ما می خوان عدد  
**مجهول** رو پیدا کنیم

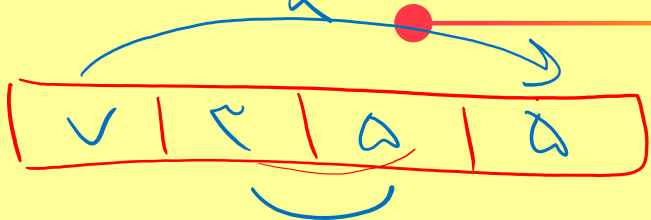
2

دو یا سه جدول به ما می  
دن و یه عدد تو یکی از  
جدولا معلوم نیست ، از  
ما می خوان عدد **مجهول**  
رو پیدا کنیم

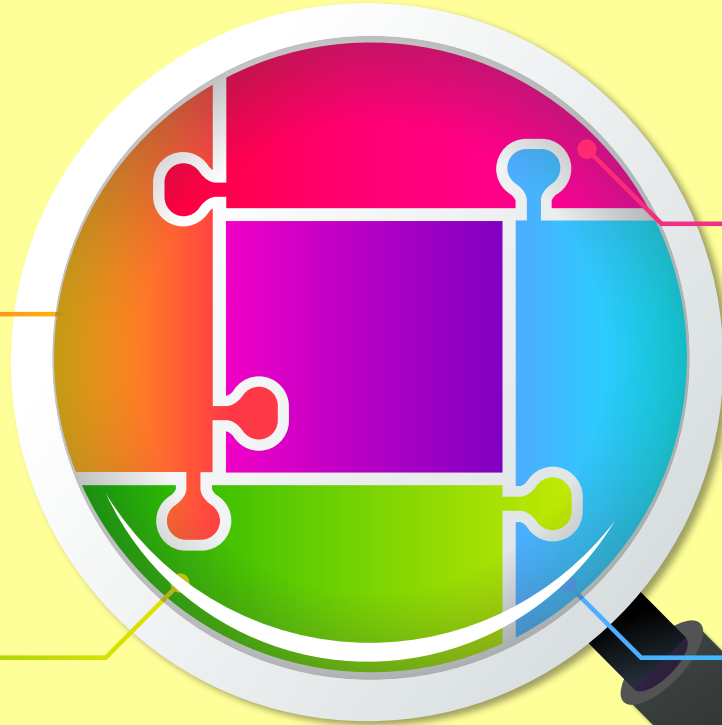
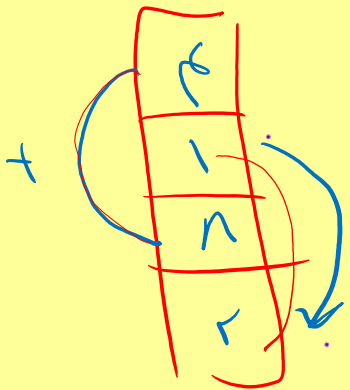


# هوش ریاضی

## ردیفی



## ستونی



## مارپیچی

5	25	25
10	25	5
15	25	5

## زیگزاگی

<del>20</del>	<del>14</del>	9	<del>28</del>	10
7	4	<del>21</del>	<del>12</del>	<del>25</del>



علامت سوال کدام است ؟

۸	۶	۴	۵	۷	۸	۱۶
۷	۵	۹	۶	۱۵	?	

۲۴  ۱

۳  ۲

۸  ۳

۱۲  ۴

$$\frac{1+4}{2} = 7$$

$$\frac{4+2}{2} = 5$$

$$2+7 = 9$$

$$\frac{1+16}{2} = 17$$

علامت سوال کدام است ؟

۳	<del>۵</del>	۱۲
۴	<del>۵</del>	۲۰
۶	<del>۸</del>	۴۲
۴	<del>؟</del>	۳۶

۸  ۱

۹  ۲

۱۰  ۳

۱۱  ۴



علامت سوال کدام است ؟

8	7	8
5	5	9
6	?	7

Handwritten annotations include:

- $1+4$  above the top row, with an arrow pointing to the middle cell (7).
- $1+2$  to the right of the middle row, with an arrow pointing to the right cell (9).
- $1+3$  below the bottom row, with an arrow pointing to the middle cell (?).
- A large red 'X' is drawn over the top-left corner of the grid.

۱

۲

۳

۴

علامت سوال کدام است؟

$$1 + 1 + 2 + 2 + 2 + 2 + 1$$

۱۸	۲۶	۲۱	→ ۵
۳۴ +	۱۷ +	۲۳ +	→ ۵
۱۳ +	۳۱ +	۷ +	→ ۱۲

Σ + Σ + ۱۲

۹۱  ۱

۷۵  ۲

۸۵  ۳

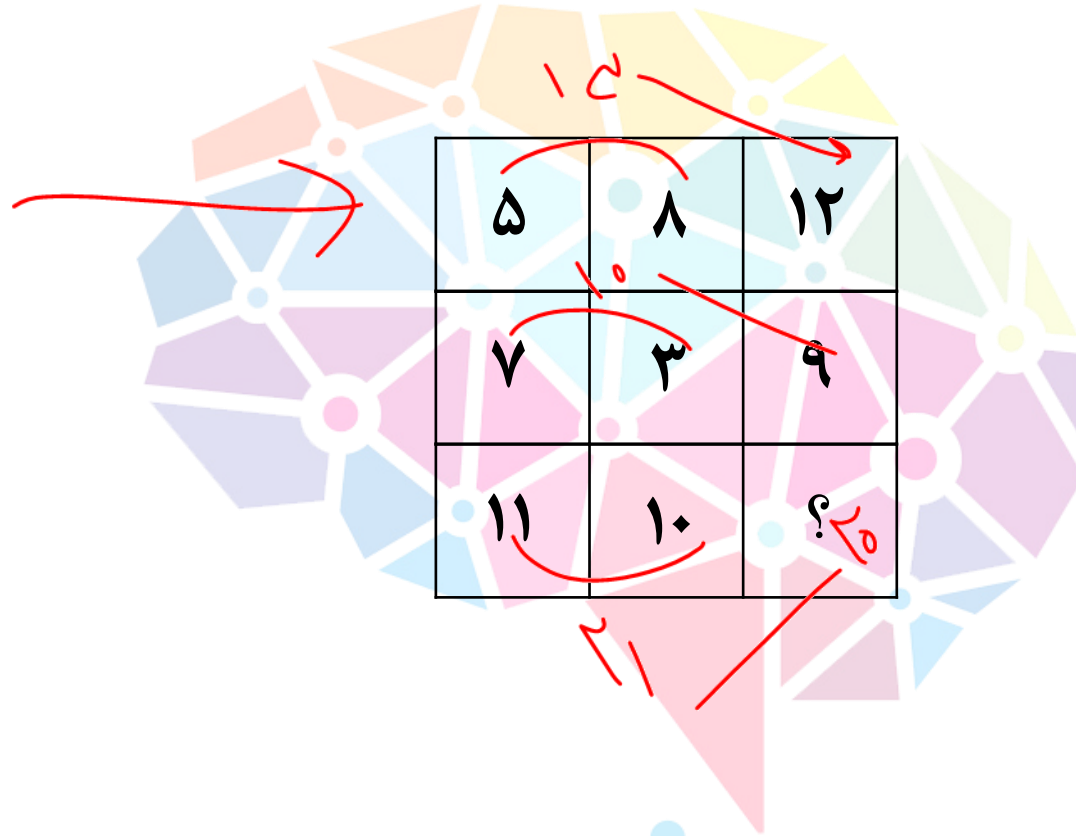
۶۵  ۴

علامت سوال کدام است ؟

۶	+	۱۱	+	۴	→ ۲۱
۵	+	۷	+	۹	→ ۲۱
۱۰	+	۳	+	?	→ ۲۱

- ۱
- ۲
- ۳
- ۴





تست

علامت سوال کدام است ؟

۱۸

۱۹

۲۰

۲۱

علامت سوال کدام است ؟

۷	۱۸	۲
۲۶	؟	۲۲
۶	۳۰	۹

۷۴  ۱

۶۲  ۲

۱۶  ۳

۹۶  ۴

$$24 + 22 = 46$$

$$46 \times 2 = 92$$

علامت سوال کدام است ؟

۷	۱۱	۱۵
۱۲	؟	۲۲
۱۹	۲۵	۳۱

Handwritten annotations:  $+4$  (between 7 and 11),  $+4$  (between 11 and 15),  $+5$  (between 12 and 22),  $+6$  (between 19 and 25),  $+6$  (between 25 and 31). A red arrow points to the question mark.

- ۱۷  ۱
- ۱۹  ۲
- ۲۰  ۳
- ۲۱  ۴

علامت سوال کدام است ؟

۱	۸	۷	۱۴	۱۳
۴	۵	۱۰	۱۱	۱۶
۳	۶	۹	۱۲	۱۵

- ۱۴
- ۱۵
- ۱۶
- ۱۷

۳	۲ — ۴	۸
۹	۳ — ۶	۴
۵	۳ — ۵	۷
۶	۱ — ۸	۳
۸	۳ — ۲	؟

تست

علامت سوال کدام است ؟

۱

۲

۳

۴

# هوش ریاضی

## تست

علامت سوال کدام است ؟

۸	۶	۲۷	۱۷
۹	۱۴	۳	۳۴
۳۲	۲۰	۹	۶
۱۲	۴۱	۸	۵
۳	۱	۷	؟

- ۶  ۱
- ۷  ۲
- ۸  ۳
- ۹  ۴

$$\begin{array}{r}
 17 + 4 + 5 + 5 = 31 \\
 \hline
 21
 \end{array}$$

\* در هر ستون جمع ۴ تا از اعداد به عدد بزرگ

علامت سوال کدام است؟

۴	۵	۲	۴
۶	۸	۷	۳۴
۲	۱	۲	۴
۴	۵	۶	؟

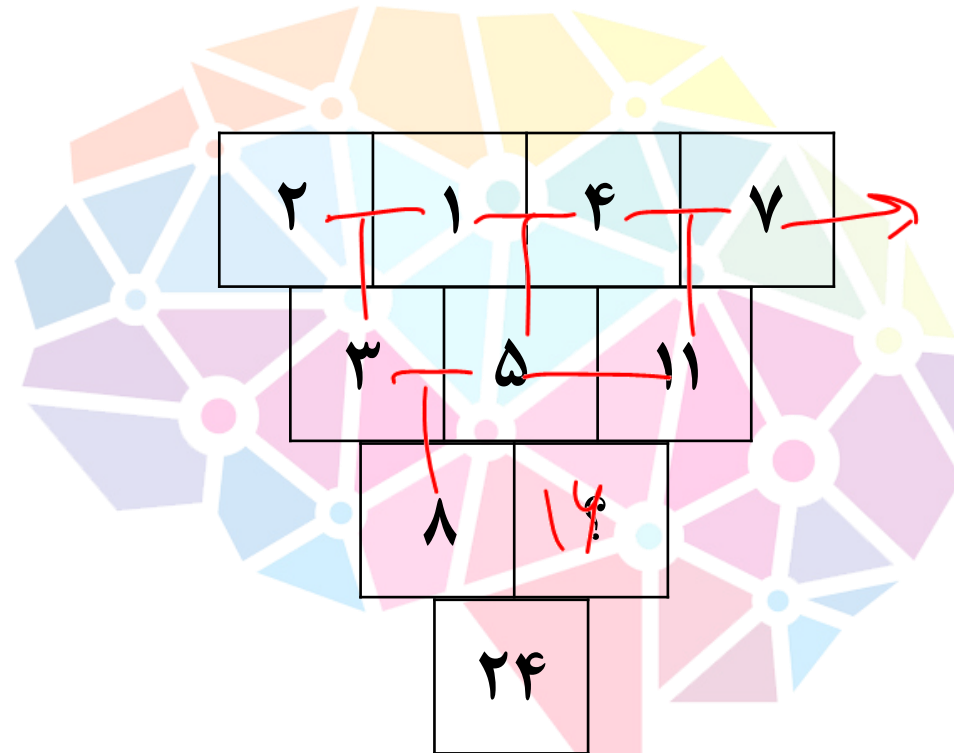
۱۹  ۱

۱۴  ۲

۱۱  ۳

۱۳  ۴

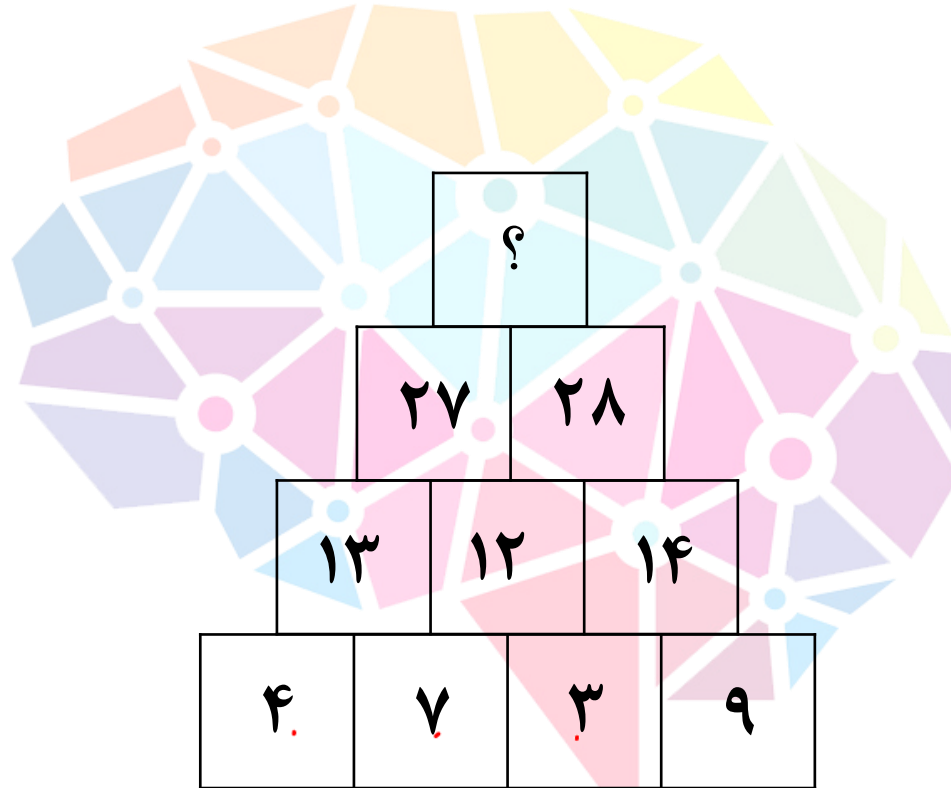
علامت سوال کدام است ؟



- ۱۰  ۱
- ۲۰  ۲
- ۱۶  ۳
- ۱۲  ۴



علامت سوال کدام است ؟



۶۲

۵۷

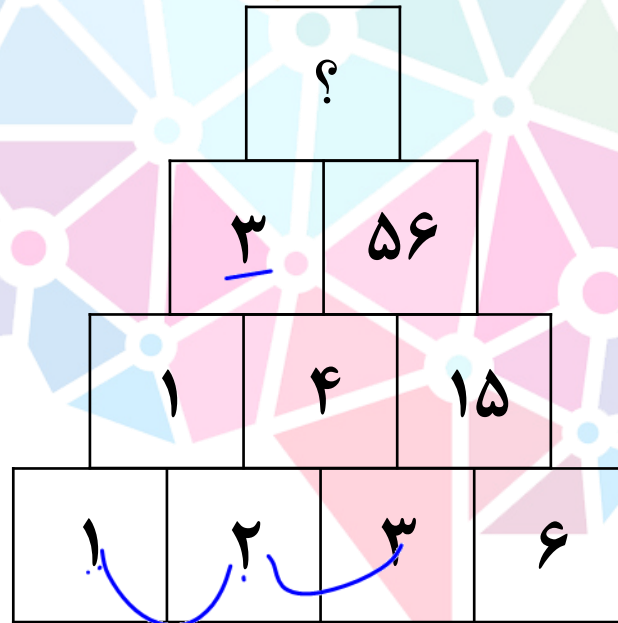
۵۵

۵۳

علامت سوال کدام است ؟

$$3 \times 4 = 12$$

$$12 - 2 = 10$$



166

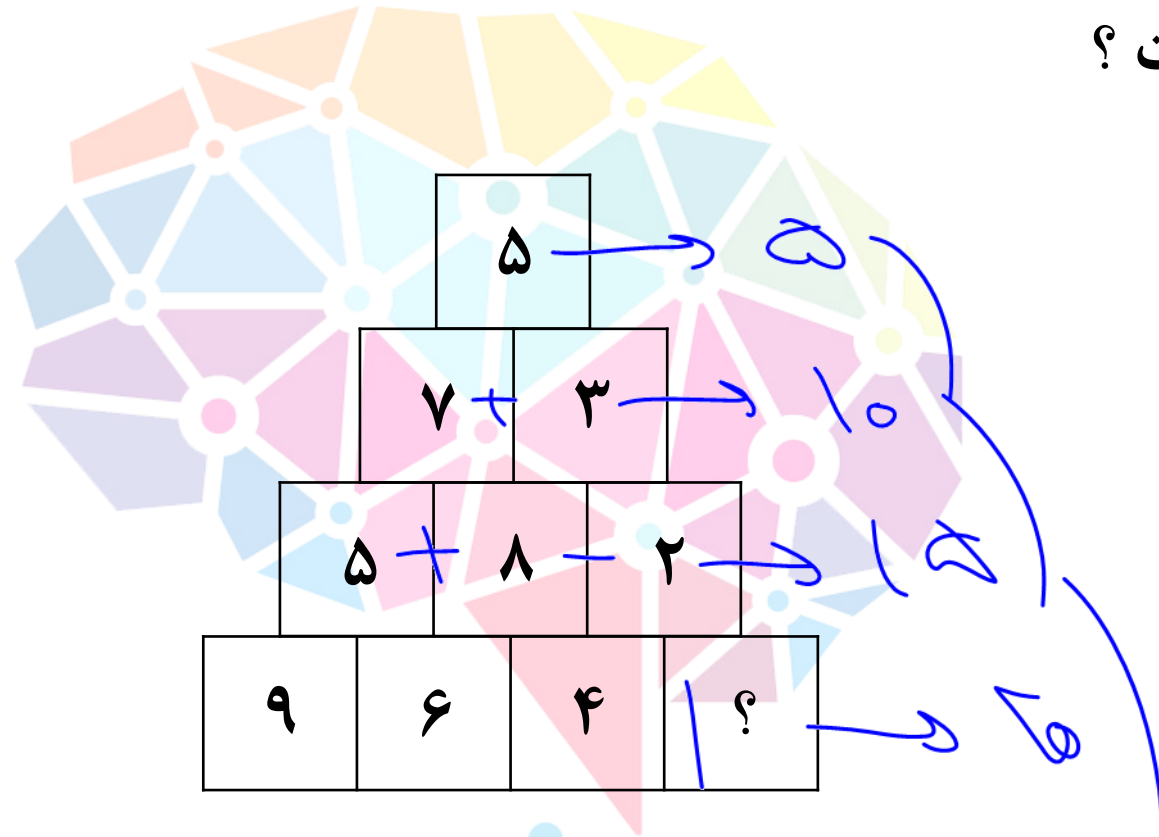
163

168

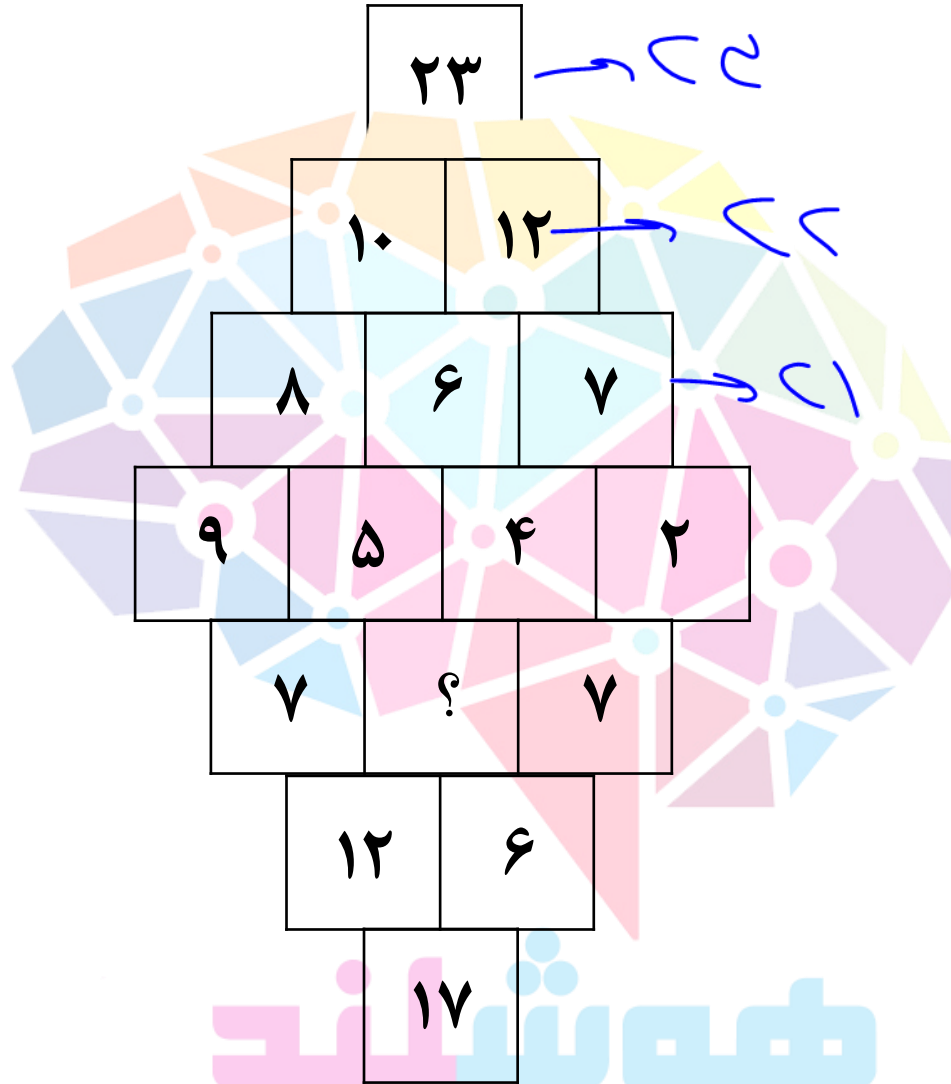
165

$$\begin{array}{l}
 1 \times 2 = 2 \quad | \quad 2 \times 4 = 8 \quad | \quad 3 \times 4 = 12 \\
 2 - 1 = 1 \quad | \quad 4 - 2 = 2 \quad | \quad 12 - 3 = 9
 \end{array}$$

علامت سوال کدام است ؟



- 1
- 2
- 3
- 4

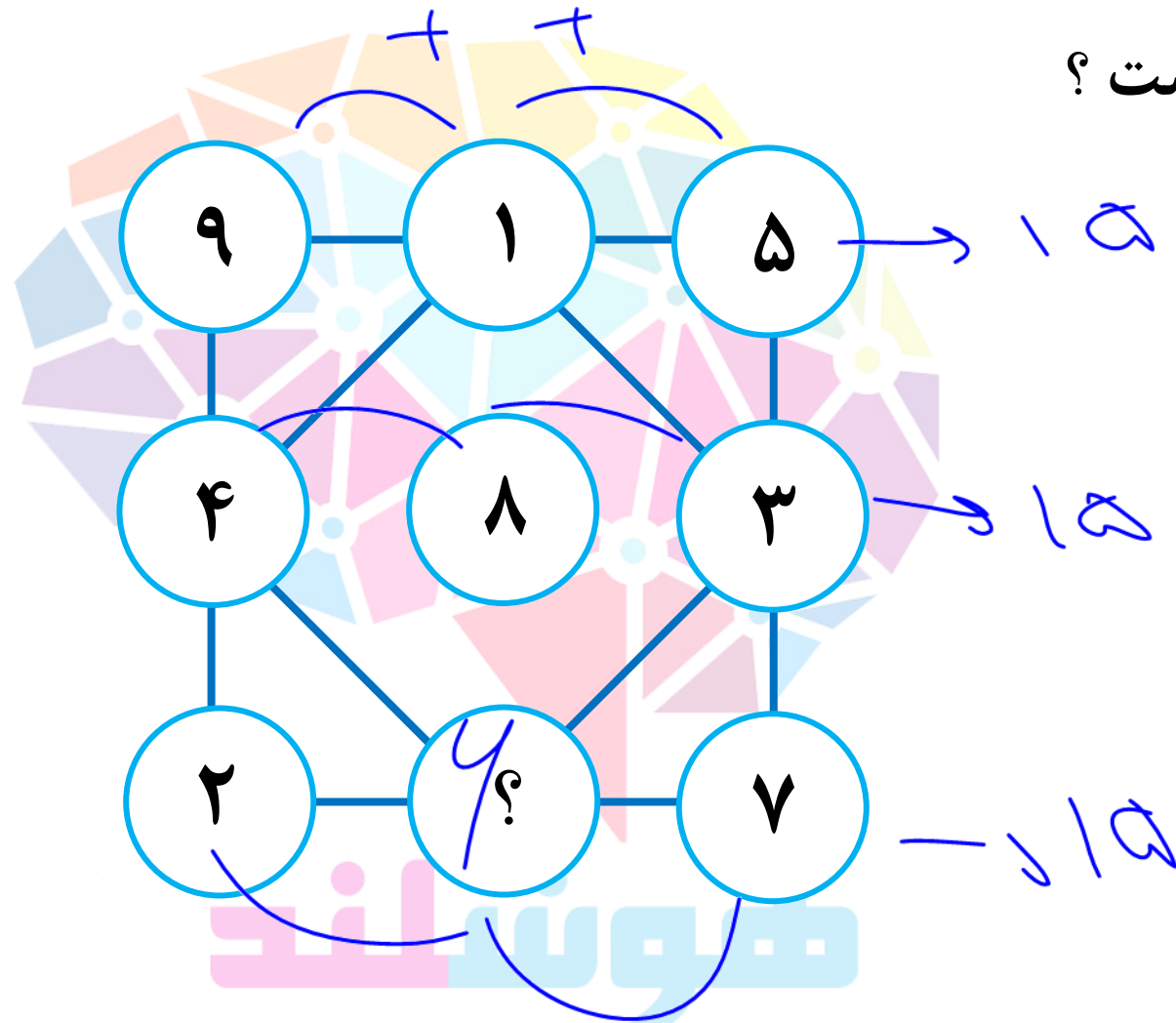


تست

علامت سوال کدام است ؟

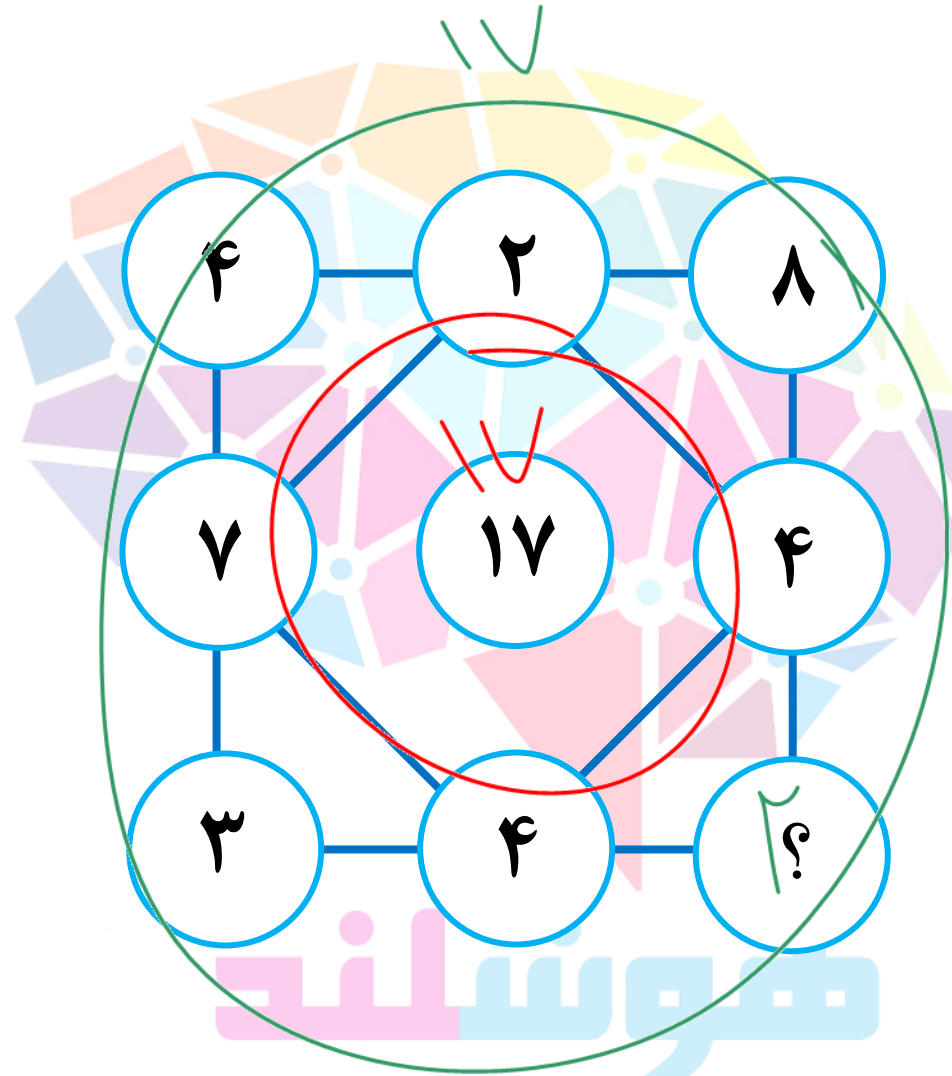
- ۴  ۱
- ۸  ۲
- ۵  ۳
- ۷  ۴

علامت سوال کدام است؟



- ۱
- ۲
- ۳
- ۴

علامت سوال کدام است؟



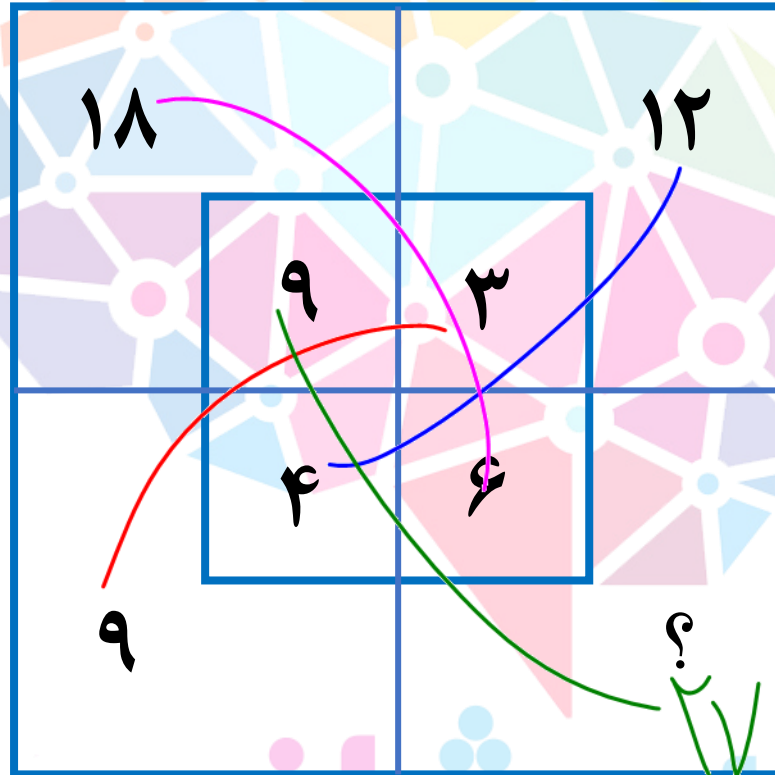
۱۱  ۱

۷  ۲

۴  ۳

۲  ۴

علامت سوال کدام است؟



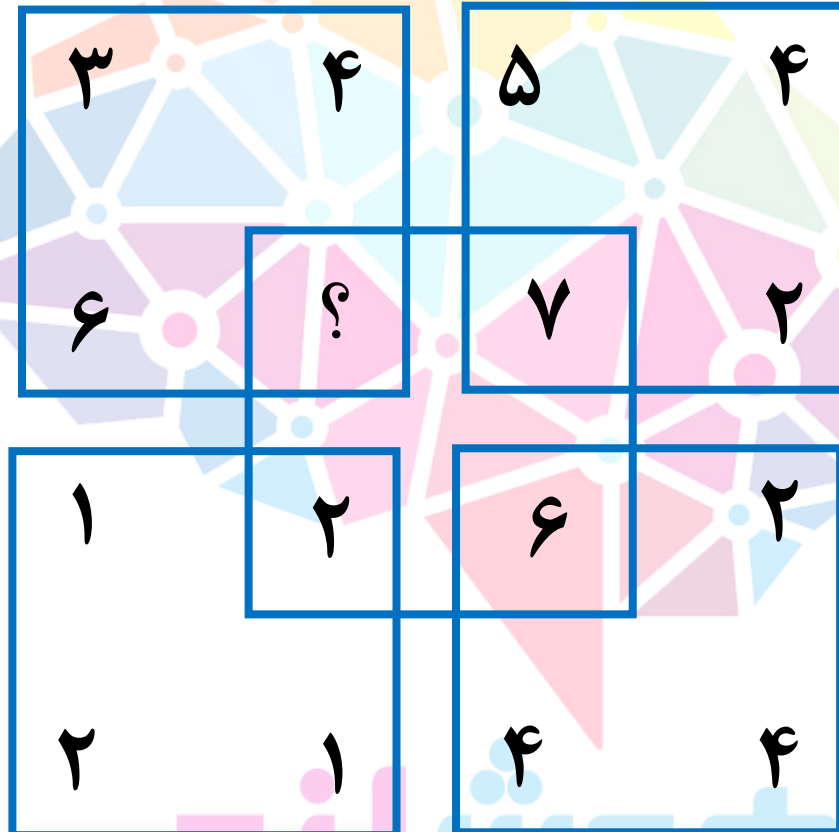
۱۵

۲۱

۲۴

۲۷

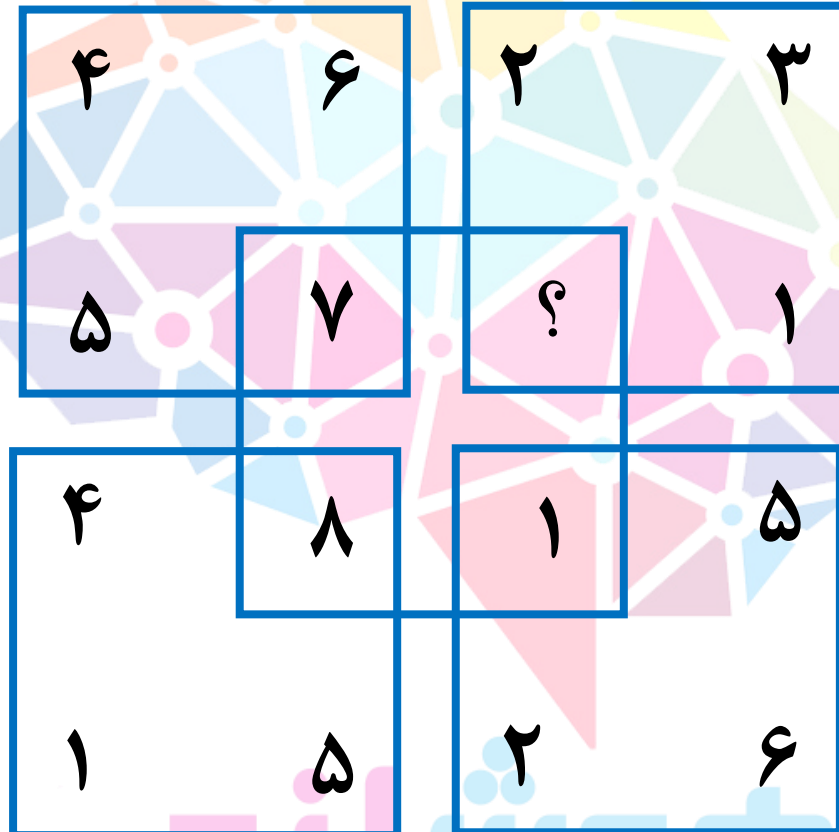
علامت سوال کدام است ؟



- ۱
- ۲
- ۳
- ۴

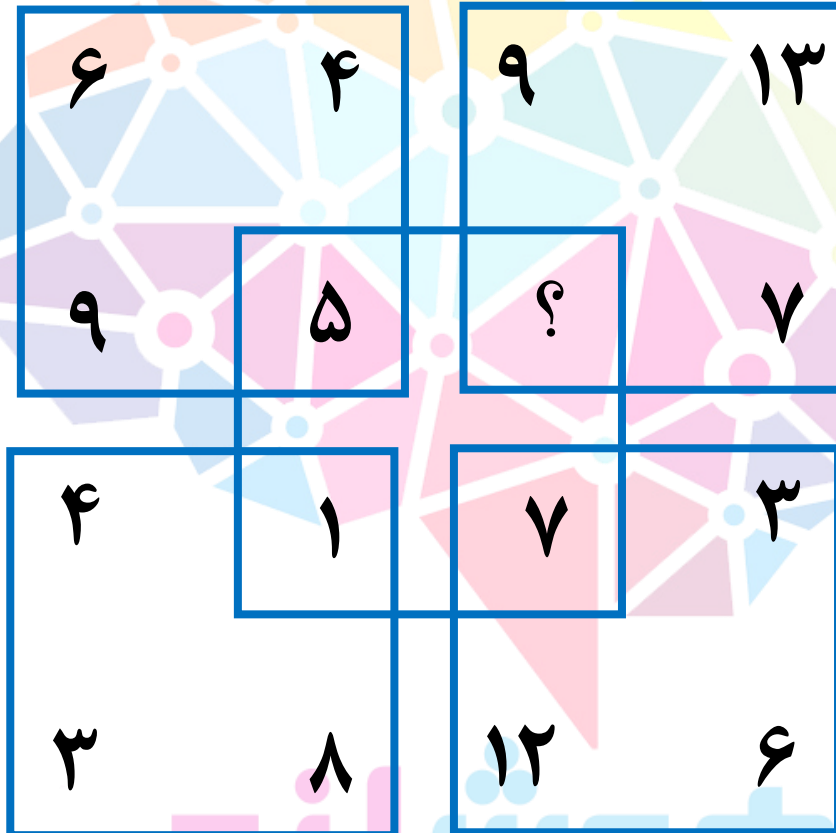


علامت سوال کدام است ؟



- ۲  ۱
- ۴  ۲
- صفر  ۳
- ۱  ۴

علامت سوال کدام است ؟



- ۴  ۱
- ۵  ۲
- ۶  ۳
- ۷  ۴