



یا در این مورد  
در آزمون ۱۴۰۳

پایه ششم و پنجم

مؤلف: دکتر علی قصاب

ویرایش جدید ویژه آزمون ۱۴۰۳

**هوش فرازمینی ET**

کتابی سرنوشت ساز برای قبولی در آزمون تیزهوشان

انطباق کامل و پوشش ۱۰۰٪ سؤالات آزمون سمپاد در سال ۱۴۰۲  
منطبق با ساختارهای جدید سؤالات هوش چندگانه

شامل بیش از ۳۴۵ مبحث و ۵۷۰۰ سؤال هوش، همراه با پاسخ نامه تشریحی  
هوش زبانی (هوش کلامی - هوش واژگانی - هوش ادبی - استعداد درک مطلب)  
هوش ریاضی (هوش عددی - هوش محاسباتی - هوش منطقی - هوش ترکیباتی - استعداد کفایت داده ها)  
هوش شهودی (هوش تصویری و غیرکلامی - هوش هندسی - هوش فضای)  
هوش طبیعی (هوش تجربی - هوش مهندسی - هوش استنباطی)  
استعداد دقت و تمرکز (ترجمه و تناظر)

بررسی و تحلیل سؤالات آزمون تیزهوشان سال های اخیر

درسنامه کامل



**هوش شلند**

استاد وحید اسدی کیا

هوش فرازمینی ET تیزهوشان ایران




(۱)



(۲)



(۳)



(۴)

۲۰۸۶



از سوشل میڈیا  
استاد اسدی کیا  
تعمیرات و ترمیم  
اسلام آباد



استاد وحید اسدی کیا



موسسات ایران



کتاب دوم

# هوش شهودی

■ هوش تصویری

■ هوش هندسی

■ هوش فضایی

■ آزمون های هوش شهودی

فکر سبز

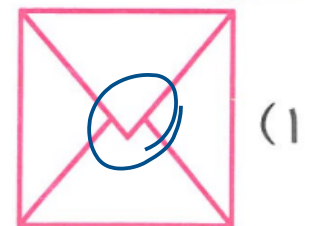
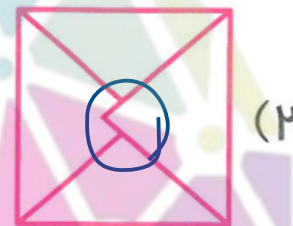

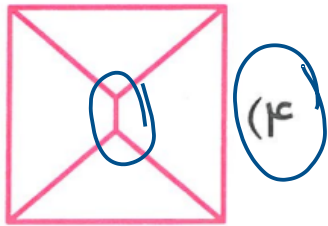


استاد وحید اسدی کیا



## شکل متفاوت

در «شکل متفاوت» باید بین چهار تصویر، تصویر متفاوت را تشخیص دهیم.  
مثال کدامیک از تصاویر داده شده متفاوت است؟



مغز نشانی  
سرزمین تیز مغز ایران



استاد وحید اسدی کیا



# شکل شماره ۳ با فرضی به نظرهای او ادس تبدیل نمی شود

(آزمون تیزهوشان)



(۴)



(۳)



(۲)



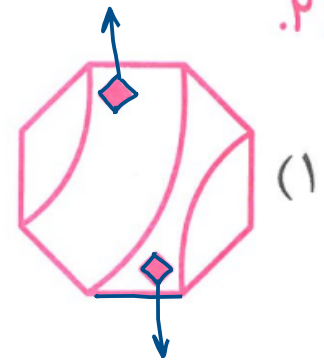
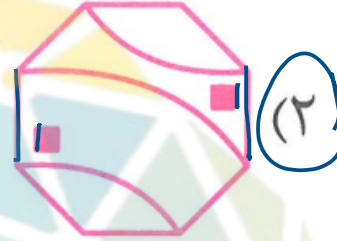
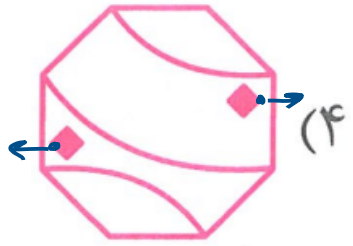
(۱)

۲۱۳۱



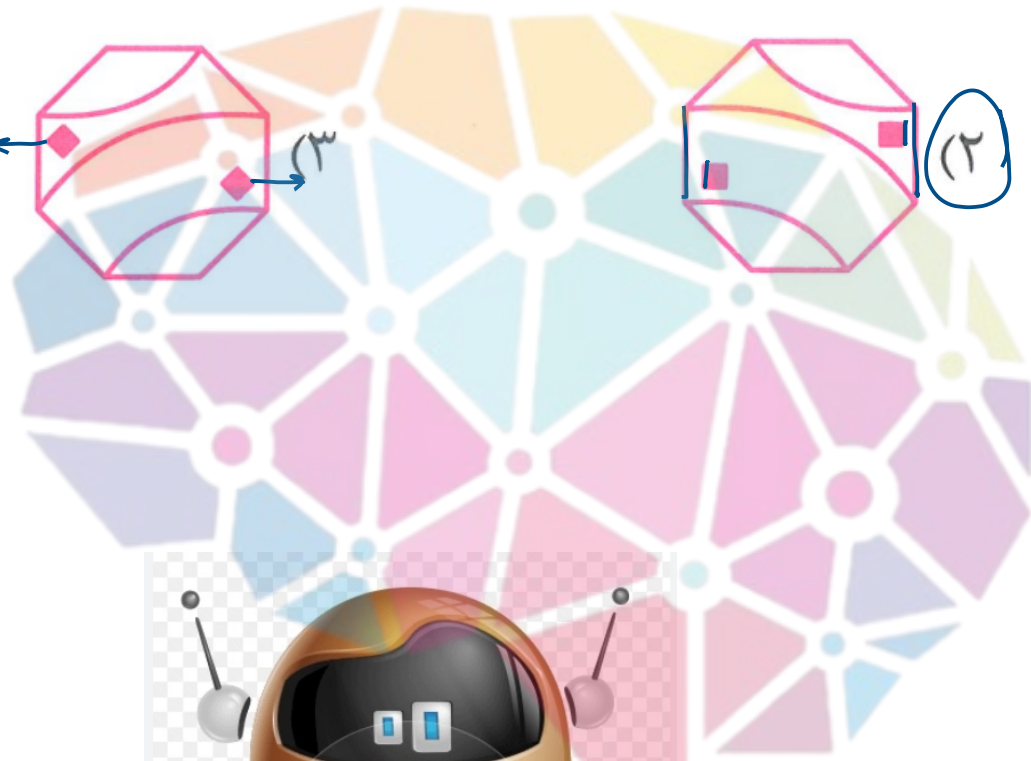
استاد وحید اسدی کیا





۲۱۳۴

(۱)



استاد وحید اسدی کیا

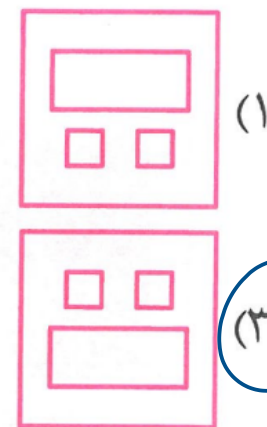
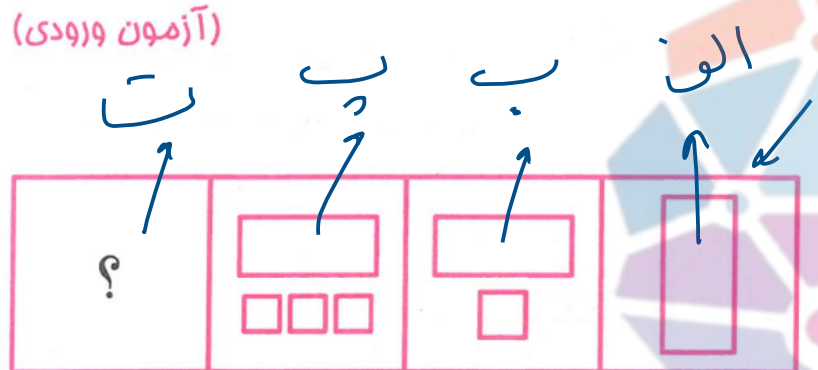


مفهوم  
سرزمین پیرشوسان ایران

# عجایب شکل

منظور از «عجایب شکل» سؤال‌های هوش تصویری است که با ایده‌های فراتر از معمول حل می‌شود.

(آزمون ورودی)

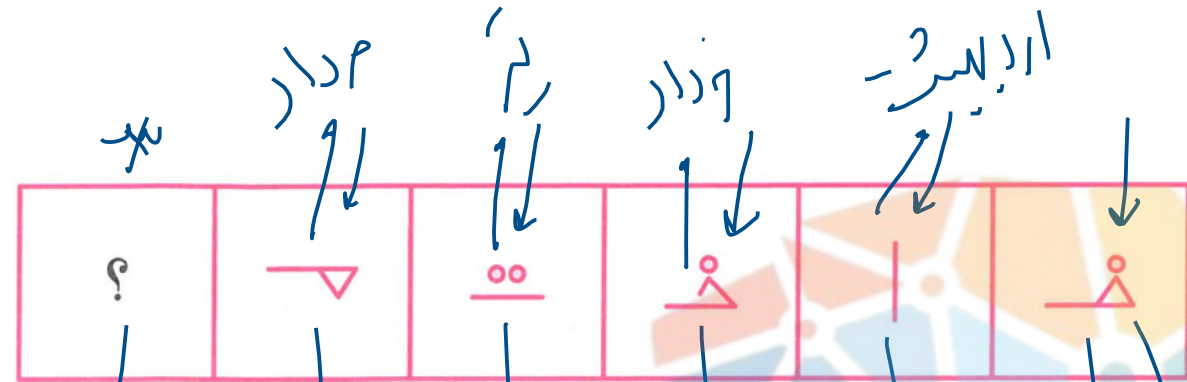


۲۱۴۱



استاد وحید اسدی‌کیا



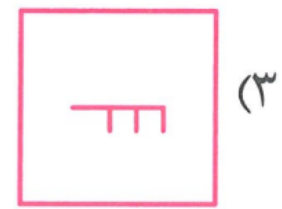
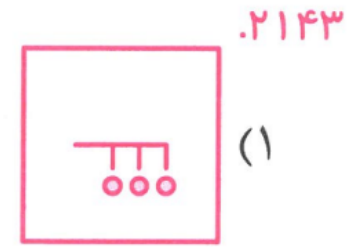


نویسه سوالی

حروف اول ماهی هندی

الایلیس -

ق ف و و د ا ن



مهرسون  
سرزمین تیزهوشان ایران









استاد وحید اسدی کیا





# ژنوم استاندارد

مثال به جای علامت سؤال چه باید گذاشت؟

					
AW	CX	BW	CU	BX	?

گدازاری

مست

هالفر

مست

هالفر

مست

BW (۴)

AU (۳)

AX (۲)

BU (۱)

C = مست

X → AU  
X = هالفر  
↓  
خالصانی

ژنوم = w



استاد وحید اسدی کیا



مفهوم  
سرزمین

در هر مورد، مشخص کنید که به جای علامت سؤال چه باید گذاشت.

X X X	○ ○ ○ ○	X X X X	△ △ △ △	○ ○ ○ ○
AW	AY	BW	AZ	? علامت سؤال

W → X  
A → علامت سؤال  
A → راز

W → X  
B → علامت سؤال

۲۱۴۶  
BY (۱) ✓  
BZ (۲) X  
AZ (۳) X  
AY (۴) X

راز  
B  
Y  
رومن اف اولی از  
تعداد  
جنس اصل



استاد وحید اسدی کیا



مهرشیران  
سرزمین مهرشیران ایران

در نظر ۵ ، تعداد دایره‌های سفید با تعداد دایره‌های سیاه صادی نیست

(۱)	(۲)	(۳)	(۴)	(۵)
<b>BX</b>	<b>AU</b>	<b>AX</b>	<b>BU</b>	?

۲۱۴۷

- AX (۱) ✗
- AU (۲) ✓
- BX (۳) ✗
- BU (۴) ✗

تعداد دایره‌های سیاه ۳ تا است

تعداد دایره‌های سیاه ۴ تا است

در نظر ۵ اول ۳ ، تعداد دایره‌های سیاه با تعداد دایره‌های سفید برابر است

۵ نظر تعداد دایره‌های سیاه با سفید برابر نیست



استاد وحید اسدی کیا



۲۱۴۸

- WF (۱) X
- WE (۲) X
- RE (۳)
- RF (۴)

(۱)	(۲)	(۳)	(۴)	(۵)	(۶)	(۷)

ح و ر نقطه دارند  
 ح و ر نقطه دارند  
 ح و ر نقطه دارند



حرف اول، تعداد نقطه ها را بنویس و بعد  
 F با R  
 بالاد استوار بود  
 به نقطه



استاد وحید اسدی کیا



# ژنوم ناستاندارد ← کدگذاری

در سؤالات ژنوم ناستاندارد تعداد کدهای نظیر شده به شکل‌ها متفاوت می‌تواند باشد. همچنین ممکن است یک کد تکرار شود.

۲۱۵۲

--	--	--	--	--

- (۱) ب آ
- (۲) آ آ
- (۳) د ب
- (۴) ب ث

ث یعنی نیم دایره‌ی ۲ لوطه‌ای  
ب می‌شود یک لوطه‌ای



استاد وحید اسدی‌کیا



سوال تیز ہوشان یاد رہنہم

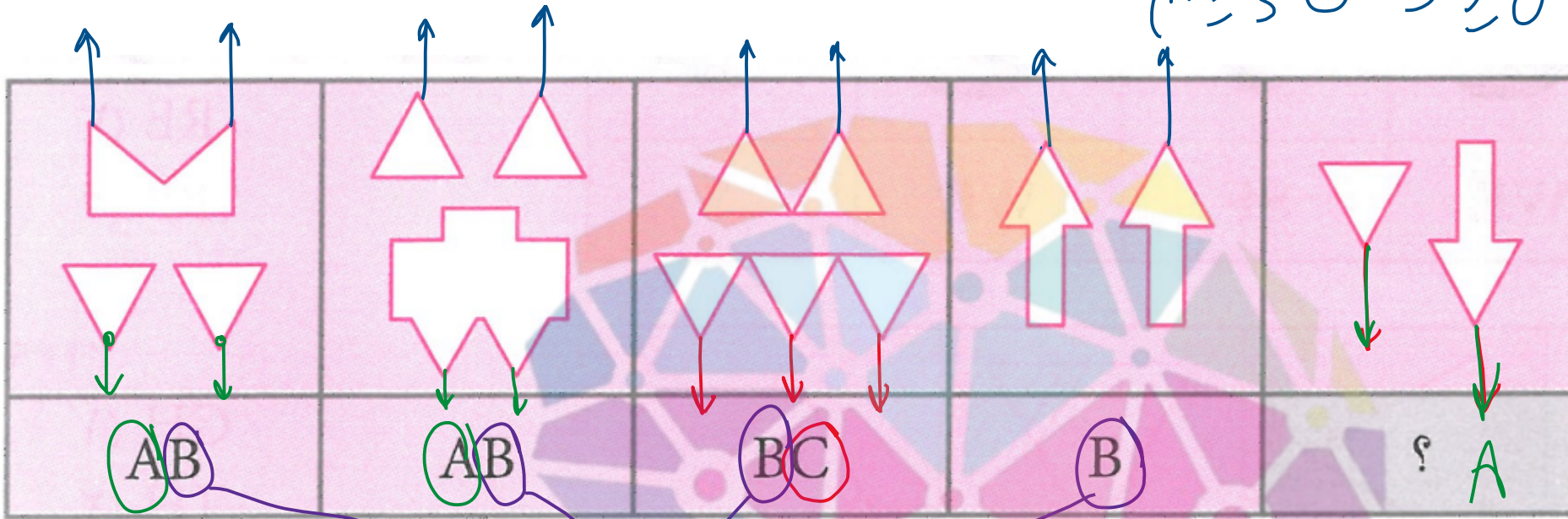
۲۱۵۳

AD (۱)

B (۲)

C (۳)

A (۴)



لا مائے نون تیز  
بہ سبب مالہ

C یعنی ۳ مائے نون تیز بہ سبب مالہ

A یعنی ۲ مائے نون تیز بہ سبب مالہ



استاد وحید اسدی کیا



آزمون ترکیبش دو سال قبل با سه نهم خط عمودی و زوج است → ۴ خط عمودی و زوج است → ۴ خط عمودی و زوج است

MO	FO	FO	MA	F → A

۲۱۵۴

- MA (۱)
- FM (۲) X
- MO (۳) X
- FA (۴) ✓

العدد خطوطا اوف عمودی زوج باید ، در عدد اول از دوم باید ۵ باشد  
 یعنی تعداد خطوط عمودی اوف ، عددی فرد است  
 یعنی تعداد خطوط افقی بزرگ ، فرد است  
 راههای : زوج دو بودن خطوط افقی و عمودی  
 اربابها دارد



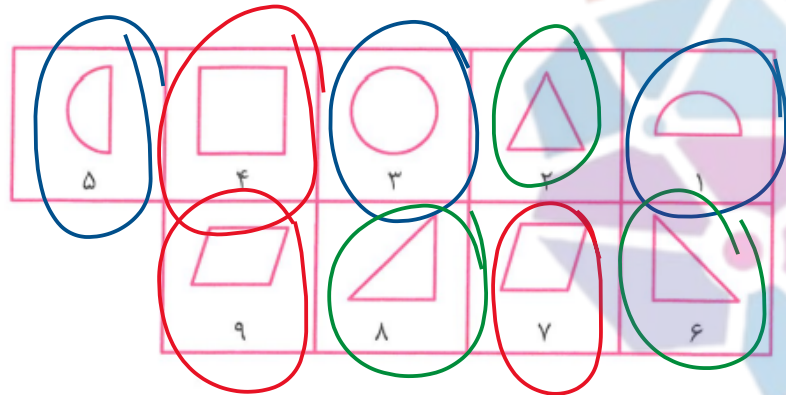
استاد وحید اسدی کیا

F یعنی تعداد خطوط افقی بزرگ زوج است

## دسته‌بندی

یکی از مهارت‌های ذهنی و توانایی‌های انسان متفکر و باهوش توانایی دسته‌بندی اشیاست. در این بخش نوعی از سؤالات را خواهید دید که در آن ۶ تا ۹ تصویر داده می‌شود و می‌خواهند که آنهایی را که بیشتر از بقیه شبیه به هم هستند، بیایم. به این کار به زبان ساده «دسته‌بندی» می‌گویند.

**مثال** کدام گزینه، دسته‌بندی درستی از اشکال زیر است؟



(۱) (۱, ۳, ۵) (۲, ۶, ۹) (۴, ۷, ۸)

(۲) (۱, ۲, ۵) (۳, ۶, ۹) (۴, ۷, ۸)

(۳) (۲, ۳, ۴) (۵, ۶, ۸) (۱, ۷, ۹)

(۴) (۱, ۳, ۵) (۲, ۶, ۸) (۴, ۷, ۹)

(اوسوه) دایره با فسمتا از دایره هسند



(۲ و ۶ و ۹) (۱ و ۳ و ۵) (۴ و ۷ و ۸) (۱ و ۳ و ۵) (۲ و ۶ و ۹) (۴ و ۷ و ۸)










استاد وحید اسدی کیا





(۱,۳) (۶,۷) (۴,۵,۷)

۲۱۶۰

 ۴	 ۳	 ۲	 ۱
 ۷	 ۶	 ۵	

(۱, ۲, ۶) (۳, ۴, ۷) (۵) (۱) ✓

(۱, ۳) (۲, ۶) (۴, ۵, ۷) (۲)

(۱, ۲, ۶, ۷) (۳) (۵, ۴) (۳)

(۱, ۳) (۲, ۴, ۵) (۶, ۷) (۴) ✓✓

(۱, ۲, ۴) (۳, ۴, ۷) (۵)

تقریباً از ۲۰۱۸  
۲/۴  
تکانه‌های  
ادبی



استاد وحید اسدی کیا



مفروضات  
سرزمین تیزهوشان ایران

شکل کدام گزینه با بقیه تفاوت دارد؟



۲- اگر هر یک از شکل‌های زیر با کد مشخص شده نشان داده شوند، کد تصویری که با علامت سؤال مشخص شده، چیست؟

۵۷	۳۲	۸۷	۴۹	؟
۷۹ (۴)		۵۹ (۳)	۸۵ (۲)	۹۵ (۱)



مفوشلند

سرزمین نیروشناسان ایران

استاد وحید اسدی کیا

