


# ریاضی



جلسه پنجم

# سوال




در جای خالی عدد مناسب بنویس.

$$۲۵ - ۵ = \dots\dots\dots$$

$$۲۰ + ۲۰ = \dots\dots\dots$$

$$۳۰ + ۵۰ = \dots\dots\dots$$

$$۶۰ - ۴۰ = \dots\dots\dots$$



سوال




حاصل عبارت های سمت چپ و راست را حساب کن سپس آنها را مقایسه کن.  $\langle = \rangle$

$$10 + 35 = \langle = \rangle 25 + 20 =$$

$$20 - 10 + 20 = \langle = \rangle 30 - 10 =$$

$$60 - 20 = \langle = \rangle 10 + 10 + 5 + 10 =$$

سوال



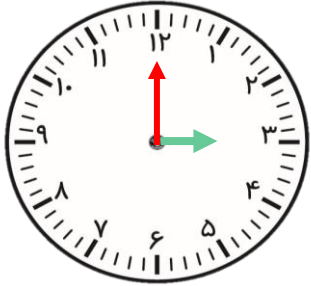
حاصل عبارت های سمت چپ و راست را حساب کن سپس آنها را مقایسه کن.  $< = >$

$$35 + 5 + 3 + 10 = < = > 3 + 5 + 25 + 20 =$$

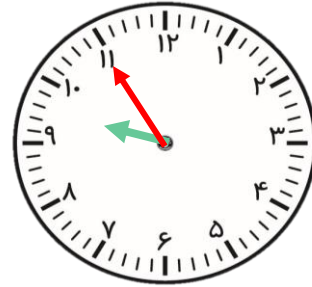
$$20 + 10 + 5 + 20 = < = > 30 + 5 + 25 + 10 =$$

$$60 - 10 - 20 = < = > 10 + 10 + 5 + 10 =$$

# سوال



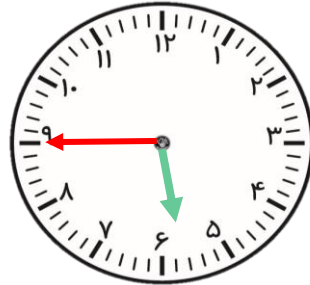
ساعت ..... است.



ساعت کمی به ..... مانده است.




ساعت ..... است.



ساعت کمی به ..... مانده است.



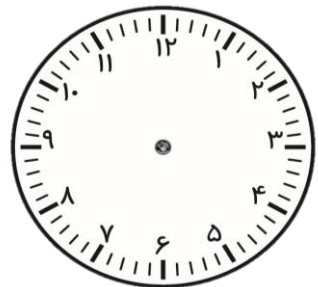
ساعت از ..... گذشته است.



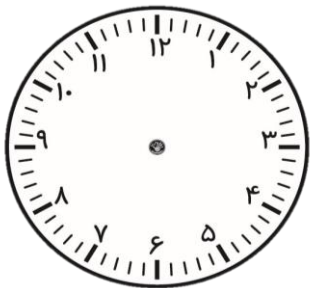
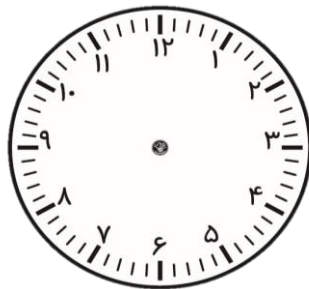
# سوال

زمان ها را روی ساعت نشان بده.

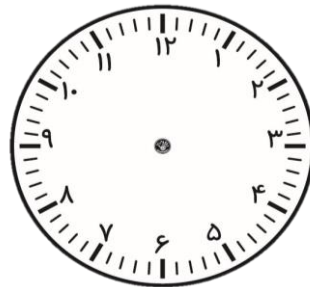
ساعت از ۹ گذشته است



۳ : ..




۶ : ..



ساعت کمی به ۵ مانده است.





ساعت از ۴ گذشته است



سوال

برای شکل های زیر یک تفریق بنویس.





## سوال :


---

۱۸ شاخه گل در گلدان بود. سارا ۵ شاخه گل را برداشت. چند شاخه گل در گلدان است؟ (عبارت جمع یا تفریق)



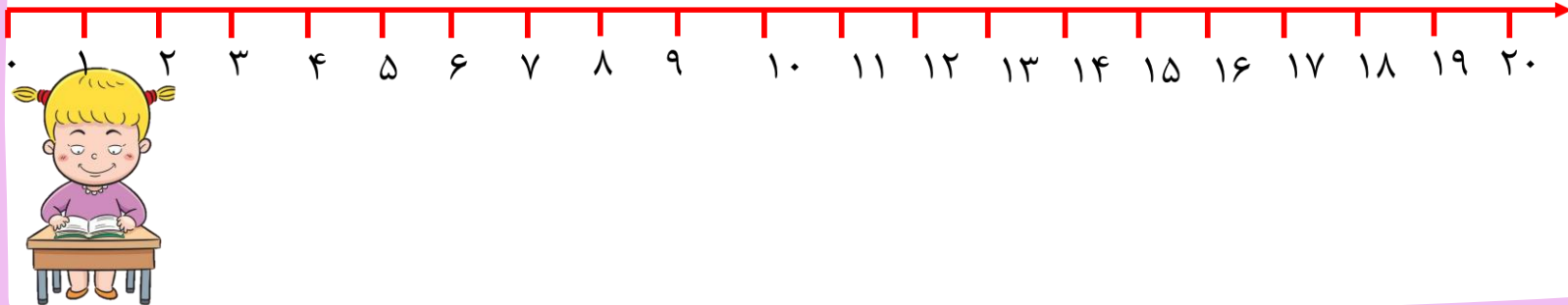
## سوال

در یک کلاس از چهار دسته ده تایی مداد سه دسته ده تایی و پنج تا یکی استفاده شد .  
چند مداد استفاده شد، چند مداد باقی مانده است؟(شکل)



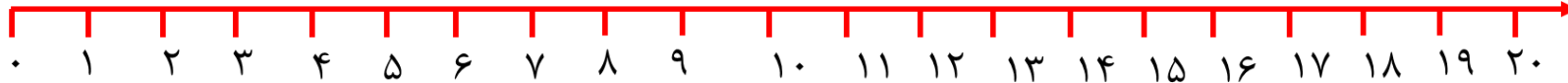

## سوال

با استفاده از محور مسئله ی زیر را حل کنید.  
کتاب زهرا ۱۷ صفحه دارد. او در چند روز ۶ صفحه و روز قبل هم ۴ صفحه را خواند. اگر امروز هم ۳ صفحه را بخواند، او چند صفحه از کتابش را خوانده است؟  
..... صفحه را خوانده است.



## سوال

با استفاده از محور مسئله ی زیر را حل کنید.  
در باغ یک کشاورز ۱۳ درخت میوه بود. کشاورز ۴ درخت دیگر هم در باغ کاشت،  
بعد از مدتی ۵ تا از درخت های میوه خشک شدند، حالا چند درخت میوه در این باغ است؟  
.....درخت میوه، در این باغ است.



## سوال

در یک ظرف ۷ شکلات میوه ای و ۹ شکلات شیری داریم .  
بچه ها ۱۰ تا از شکلات ها را خوردند. چند شکلات در ظرف باقی  
مانده است؟(شکل)



## سوال

در یک ظرف ۶ بستنی میوه ای و ۱۰ بستنی شیری داریم .  
بچه ها ۸ تا از بستنی ها را خوردند. چند بستنی در ظرف باقی  
مانده است؟(شکل)

