


ریاضی




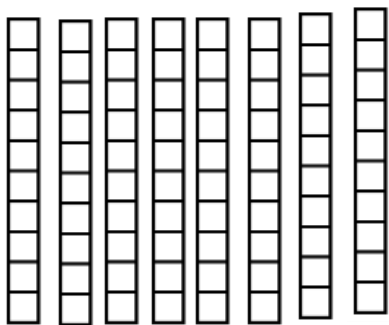
جلسه چہا رم



سوال :

عدد مناسب را در جدول نوشته، سپس به عدد و حروف بنویس.

یکی ده تایی



به عدد:

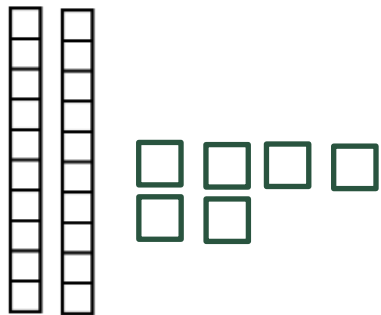
به حروف:



سوال :

عدد مناسب را در جدول نوشته سپس به عدد و حروف بنویس.

یکی ده تایی




به عدد:

به حروف:

سوال :



با شکل های زیر دسته های ده تایی درست کن و در جاهای خالی عدد مناسب بنویس.



یکی ده تایی



سوال

در جای خالی عدد مناسب بنویس.
۶ دسته ده تایی آب نبات و ۵ تا یکی آب نبات می شود
آبنبات.

۳ دسته ۱۰ تایی بستنی و ۴ تا یکی بستنی می شود بستنی.

۵ بسته ۱۰ تایی شمع و ۴ بسته ده تایی شمع دیگر روی هم می
شوند.....شمع.

سوال:

الگو را ادامه بده.
۱۱، ۱۳، ۱۵، ۱۷،،،

۲۳، ۲۸، ۳۳، ۳۸،،،


۱۸، ۲۱، ۲۴، ۲۷،،،

سوال

در جای خالی عدد مناسب بنویس.
۷۶ مداد می شود بسته ده تایی و یکی.

۳۹ یعنی بسته ی ده تایی و یکی.

۱۹ یعنی بسته ی ده تایی و یکی.



همه ی جمع هایی که حاصل آن ۶ می شود را در
گلابرگ ها بنویس.

۰ + ۶ =


... + ... =

... + ... =

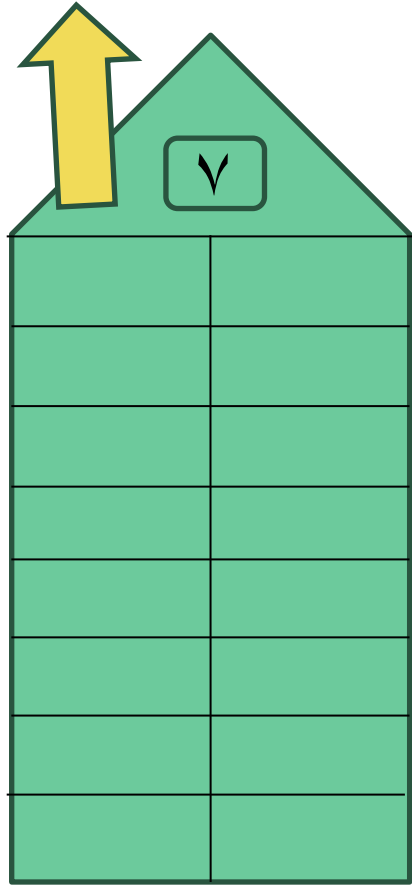
... + ... =

... + ... =

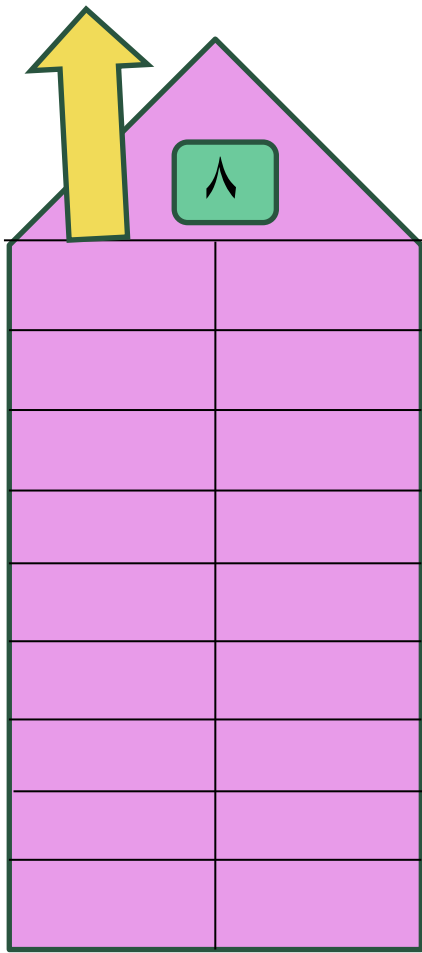
... + ... =



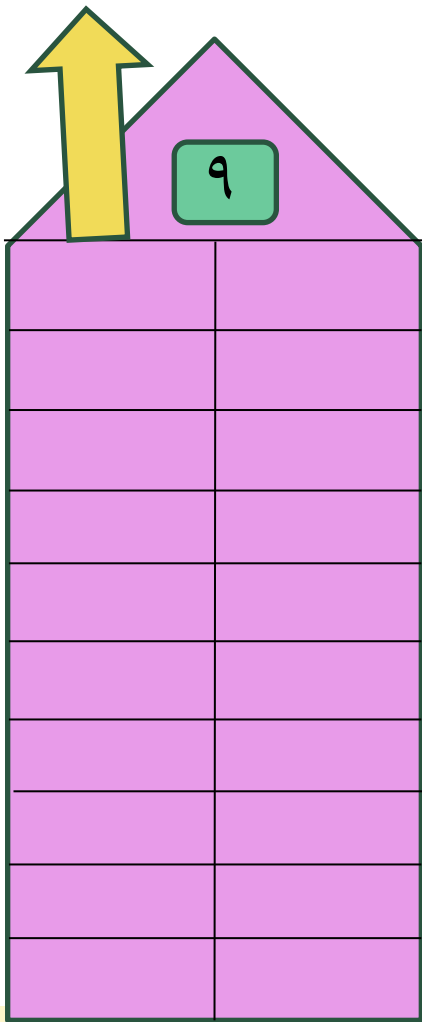
سوال



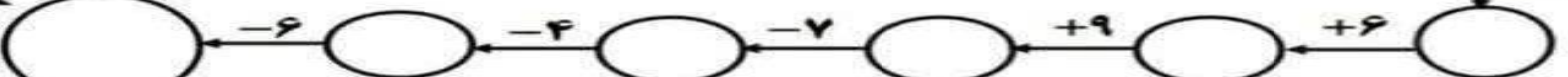
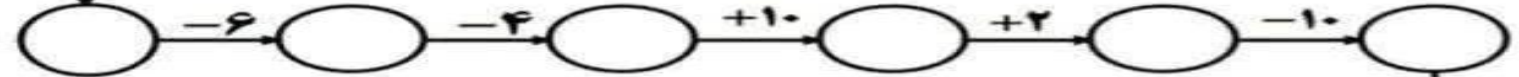
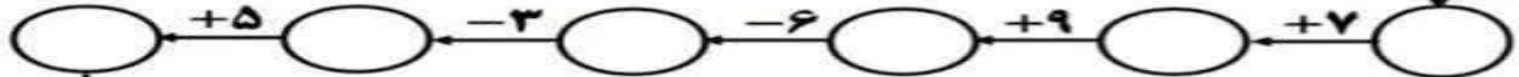
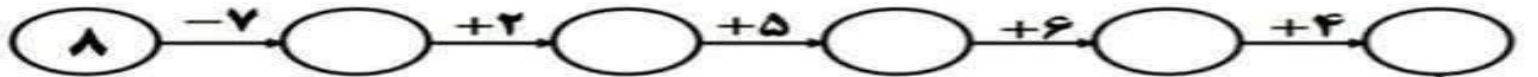
سوال



سوال



دستور العمل: فرزندم طبق دستور العمل اعداد را پیش ببر و جواب نهایی را به دست بیاور.



?????

