




سوال : ۱

نجاری از یک تکه چوب ۱۰ سانتی متری یکبار، ۷ سانتی متر و یک بار هم ۶ میلی متر را برید .
چه اندازه از چوب باقی مانده است؟



سوال : ۲

قد سهیلا یک متر و ۴۲ سانتی متر است قد برادرش ۳۳ سانتی متر از او کمتر است.
قد برادر او چند سانتی متر است؟



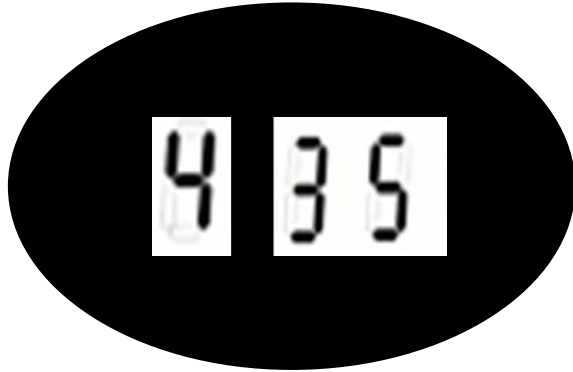
سوال : ۳

در یک مزرعه روی هم ۸ مرغ و گوسفند وجود دارد . آنها روی هم ۲۰ پا دارند .
در این مزرعه چند مرغ و چند گوسفند وجود دارد؟



سوال : ۴

ساعت دیجیتالی مقابل زمان را نشان می دهد، یک ربع بعد در مجموع ، رقم های زمانی که ساعت نشان می دهد چقدر است؟



سوال : ۵

گل فروشی ۹ گلدان کوچک و بزرگ دارد که در هر گلدان کوچک یک گل و در هر گلدان بزرگ ۳ گل قرار دارد.

اگر تعداد گلهای داخل گلدان ها روی هم ۱۵ گل باشد ، چند تا از گلدان ها کوچک و چند تای دیگر بزرگ هستند؟

(۱) یک گلدان بزرگ و ۱۲ گلدان کوچک

(۲) سه گلدان بزرگ و ۶ گلدان کوچک

(۳) هفت گلدان بزرگ و نه گلدان کوچک

(۴) چهار گلدان بزرگ و سه گلدان کوچک



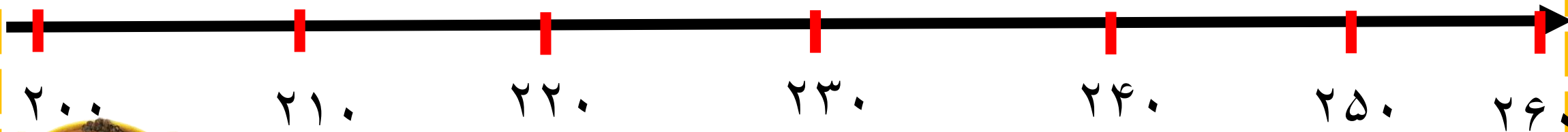
سوال : ۶

رضایک طناب ۶۰ سانتی متری دارد. اگر ۲۵ سانتی متر به طناب خود اضافه کند، طول طنابش چند سانتی متر و چند میلی متر می شود؟



سوال : ۷

مقدار تقریبی عدد ۲۴۰ و ۲۱۷ و ۲۳۸ را پیدا کن.



سوال : ۸

جاهای خالی را کامل کن.

....سانتی متر ۵۰ میلی متر است.

۱۳۰ سانتی متر میلی متر است.


۱۷۹ میلی متر یعنی :سانتی متر ومیلی متر .

۹۷۲ میلی متر یعنیسانتی متر ومیلی متر.



سوال : ۹

دانش آموزان پایه دوم مدرسه ای ساعت ۷:۴۰ وارد کلاس می شوند.
زنگ اول کلاس ۵۰ دقیقه طول می کشد و بعد از آن یک ربع زنگ تفریح دارند.
آنها چه ساعتی در شروع زنگ دوم وارد کلاس می شوند؟



سوال : ۱۰

حمیده هر روز ساعت ۷ صبح به مدرسه می رود و ساعت دوازده و ربع از مدرسه خارج می شود ، او هر روز چه مدت زمانی در مدرسه حضور دارد؟



سوال : ۱۱



: ساعت

: ۵۰ دقیقه بعد

: ساعت

: ربع ساعت بعد



سوال : ۱۲



: ساعت

: ۲۰ دقیقه بعد



: ساعت

: نیم ساعت بعد

سوال : ۱۳

نیکا هر روز ۳۰ دقیقه به سی دی زبان گوش می دهد و سپس ربع ساعت از روی کلمات زبان می خواند. نیکا هر روز چند دقیقه برای یاد گیری زبان وقت می گذارد؟



سوال : ۱۴

منیژه هر نیم ساعت باید یک قرص بخورد ،اگر او قرص اول را در ساعت ۹ و ۲۰ دقیقه خورده باشد قرص سوم را چه ساعتی باید بخورد؟

