

با توجه به الگوی زیر علامت سوال کدام است؟

$+3$ $+4$ $+9$ $+12$ $+18$
۱۳ و ۱۶ و ۲۲ و ۳۱ و ۴۳ و ؟



۵۸ (۱)

۵۹ (۲)

۶۰ (۳)

۶۱ (۴)

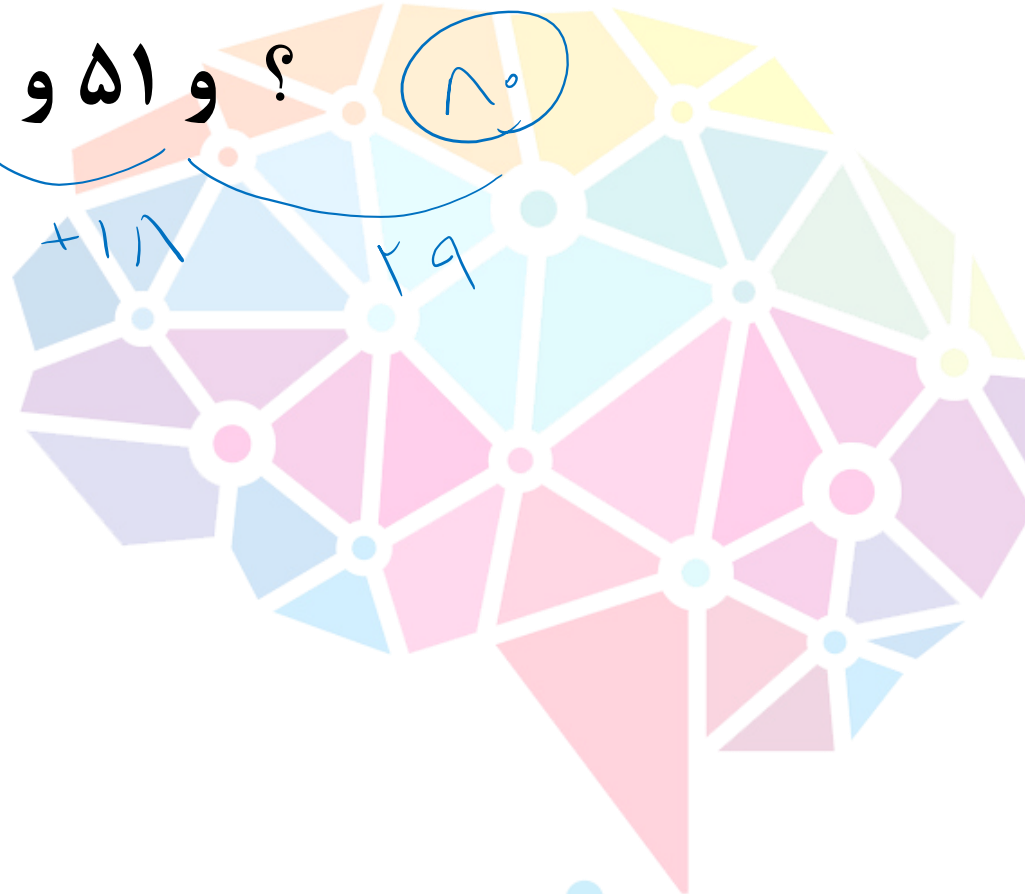
هوش‌لند

با توجه به الگوی زیر علامت سوال کدام است؟

۱۱ و ۱۵ و ۲۲ و ۳۳ و ۵۱ و ؟

$+4$ $+7$ $+11$ $+17$ $+29$

۸۰



۷۷ (۱)

۷۸ (۲)

۷۹ (۳)

۸۰ (۴)

هوش‌لند

با توجه به الگوی زیر علامت سوال کدام است؟



۴۳ (۱)

۴۴ (۲)

۴۵ (۳)

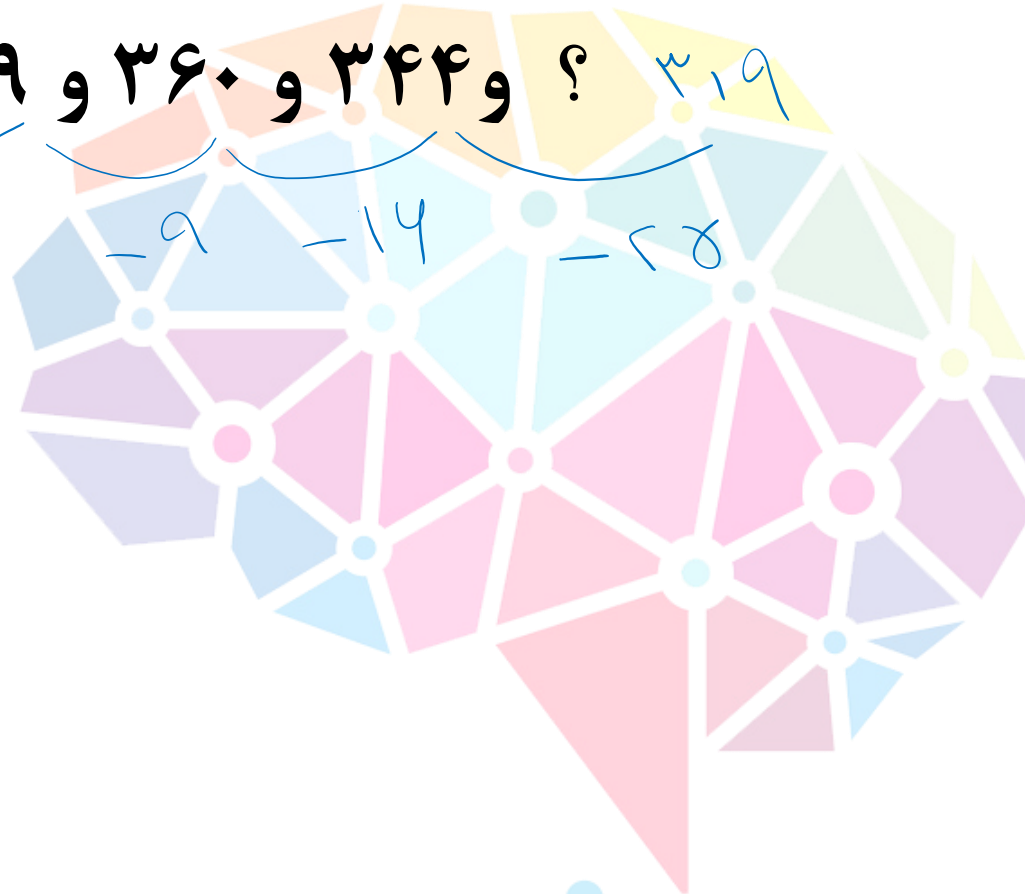
۴۶ (۴)

هوش‌لند

با توجه به الگوی زیر علامت سوال کدام است؟

۳۱۹ ؟ و ۳۴۴ و ۳۶۰ و ۳۶۹ و ۳۷۳ و ۳۷۴

-۱ -۴ -۹ -۱۶ -۲۵



۳۱۹ (۱) ✓

۳۲۰ (۲)

۳۲۱ (۳)

۳۲۲ (۴)

هوش‌لند

با توجه به الگوی زیر علامت سوال کدام است؟

۱۶۷ و ۱۷۴ و ۱۷۸ و ۱۸۶ و ؟

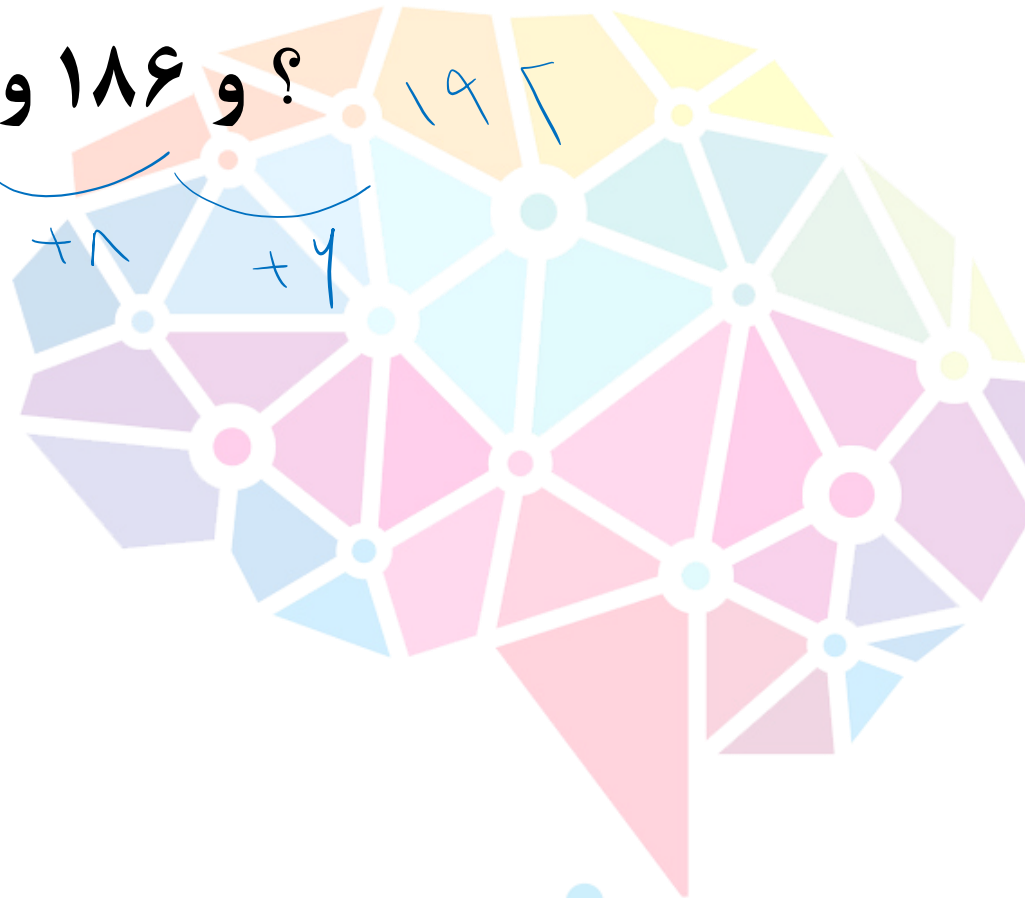
+۷

+۴

+۸

+۶

۱۹۶



۱۹۵ (۱)

۱۹۴ (۲)

۱۹۳ (۳)

۱۹۲ (۴)

هوش‌لند

با توجه به الگوی زیر علامت سوال کدام است؟

۷ و ۱۰ و ۱۹ و ۴۶ و ؟

+۳

+۹

+۲۷

+۸۱

$\times 2$

$\times 2$

$\times 2$

۱۲۷ ✓

۱۲۶ (۱)

۱۲۷ (۲) ✓

۱۲۸ (۳)

۱۲۹ (۴)

هوش‌شاند



www.houshland.com



09129212968



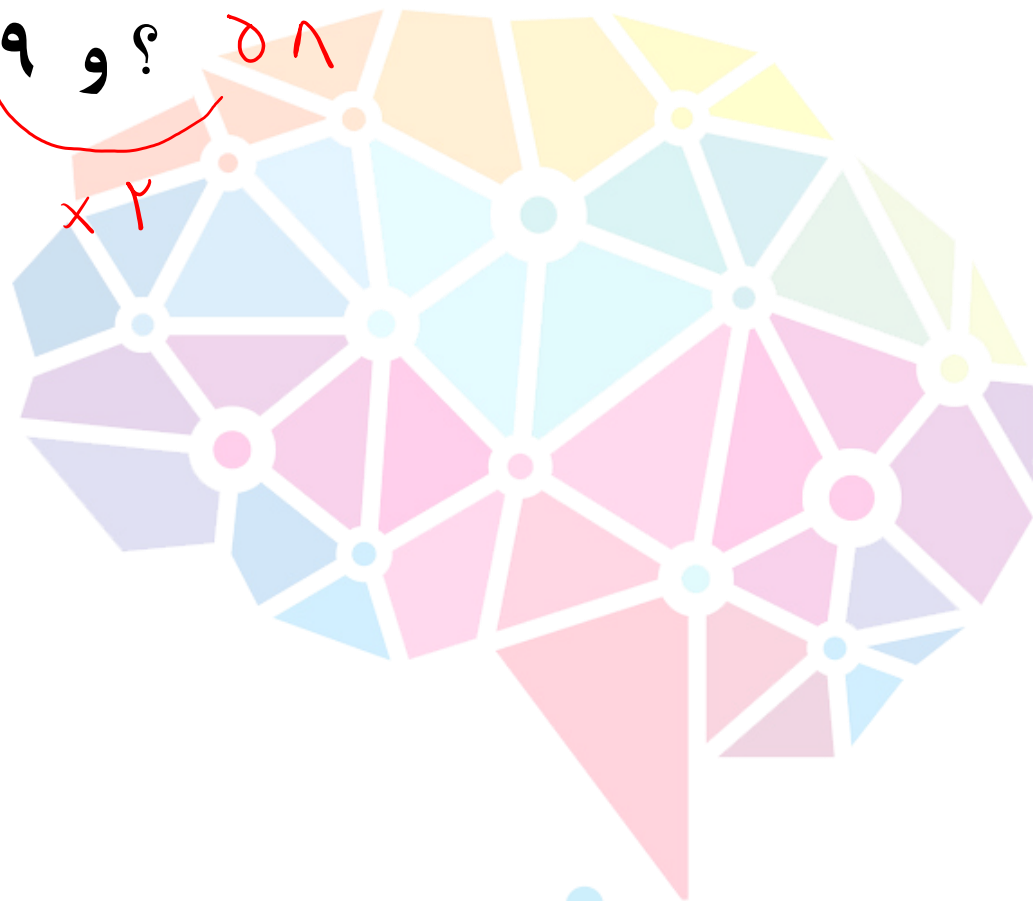
@houshland



[houshland_com](https://t.me/houshland_com)

با توجه به الگوی زیر علامت سوال کدام است؟

۵ و ۱۰ و ۱۳ و ۲۶ و ۲۹ و ؟



۵۴ (۱)

۵۶ (۲)

۵۸ (۳)

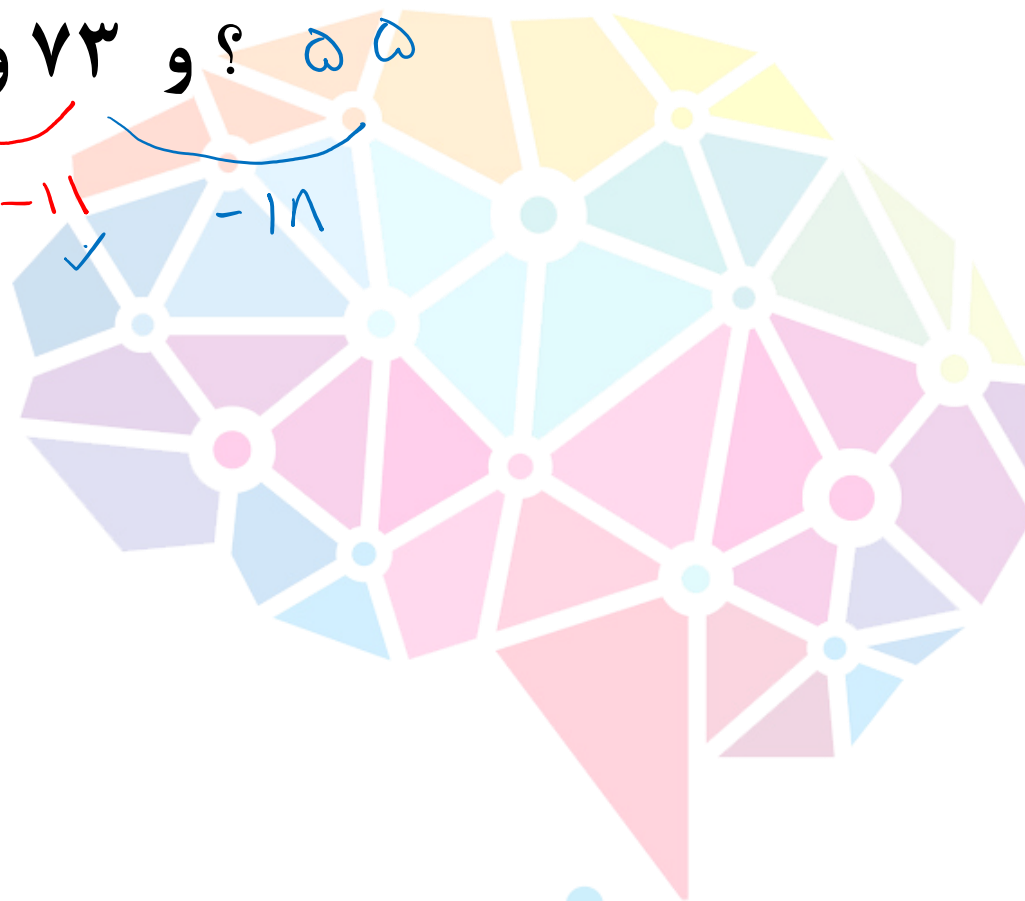
۶۲ (۴)

هوش‌شاند

با توجه به الگوی زیر علامت سوال کدام است؟

۹۸ و ۹۵ و ۹۱ و ۸۴ و ۷۳ و ؟ و ۵۵

-۳
 -۴
 -۷
 -۱۱
 -۱۸



۵۴ (۱)

۵۵ (۲) ✓

۵۶ (۳)

۵۷ (۴)

هوش‌شاند

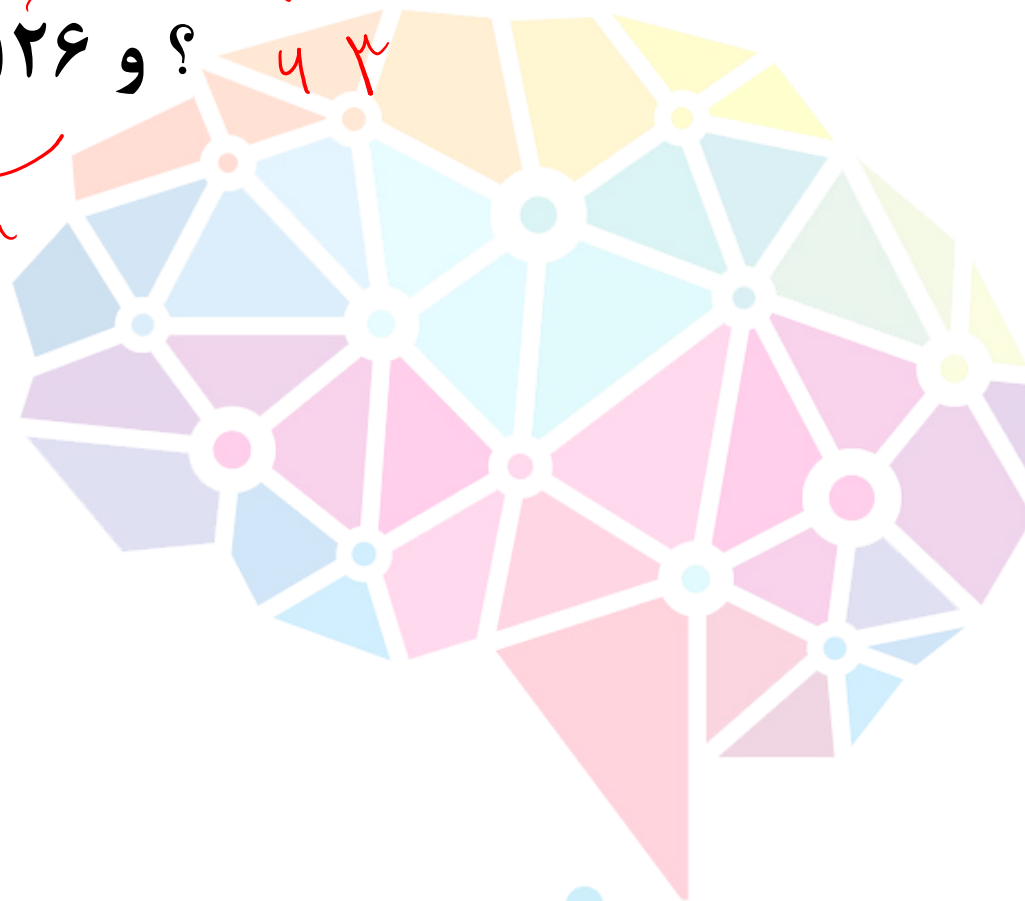
با توجه به الگوی زیر علامت سوال کدام است؟

۲۶۱ و ۲۵۸ و ۱۲۹ و ۱۲۶ و ؟

-۳

$\div ۲$

-۳



$\div ۲$

۶۱ (۱)

۶۳ (۲) ✓

۶۵ (۳)

۶۷ (۴)

هوش‌شاند

با توجه به الگوی زیر علامت سوال کدام است؟

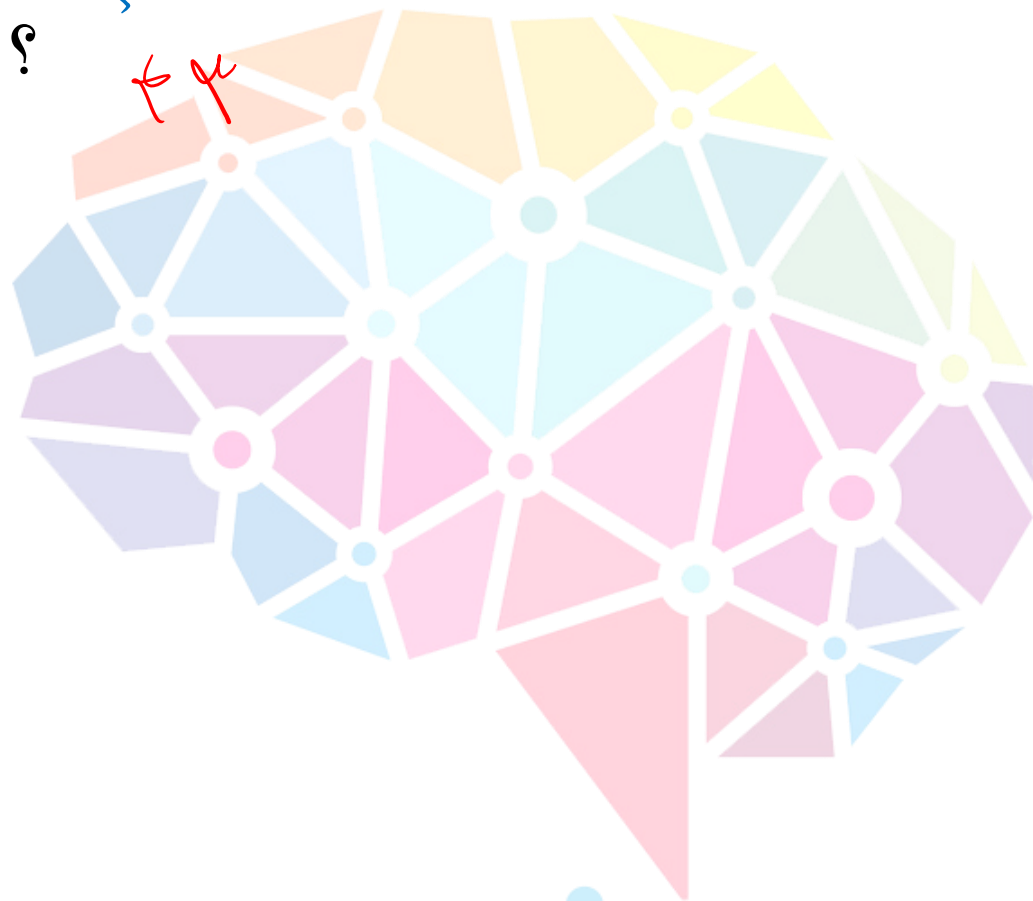
۱۳ و ۱۴ و ۱۸ و ۲۷ و ؟

$+1$ (circled in red)

$+4$ (circled in red)

$+9$ (circled in red)

$+14$ (circled in red)



۴۱ (۱)

۴۳ (۲) ✓

۴۵ (۳)

۴۷ (۴)

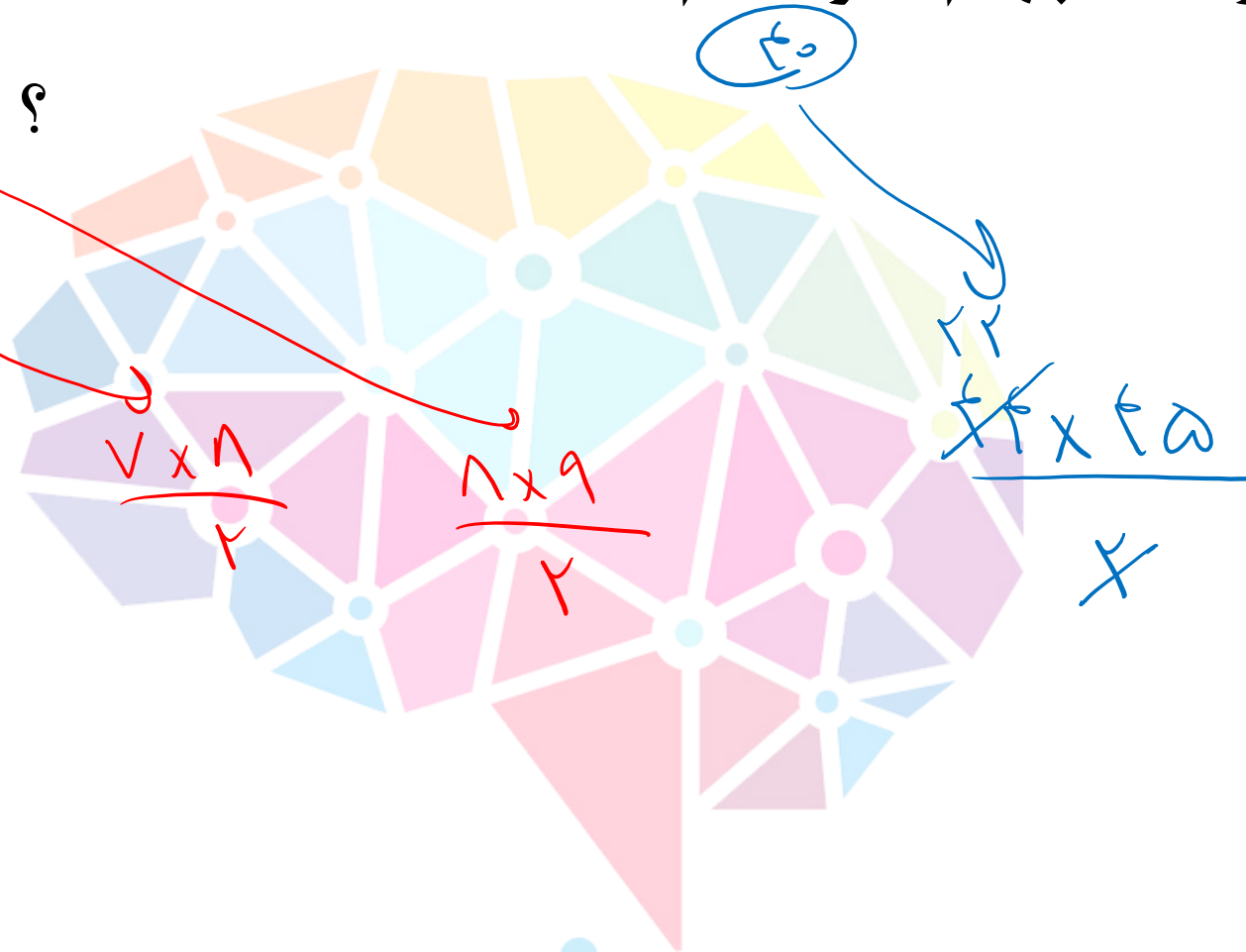
هوش‌شاند

با توجه به الگوی زیر عدد چهارم الگو کدام است؟

① ②

۱۵ و ۲۱ و ۲۸ و ۳۶ و ؟

$$\begin{array}{r} \underbrace{15} \quad \underbrace{21} \quad \underbrace{28} \quad \underbrace{36} \\ +4 \quad +7 \quad +8 \\ \hline 19 \quad 26 \quad 34 \end{array}$$



۹۰۰ (۱)

۹۳۰ (۲)

۹۴۵ (۳)

۹۹۰ (۴) ✓

هوش‌لند

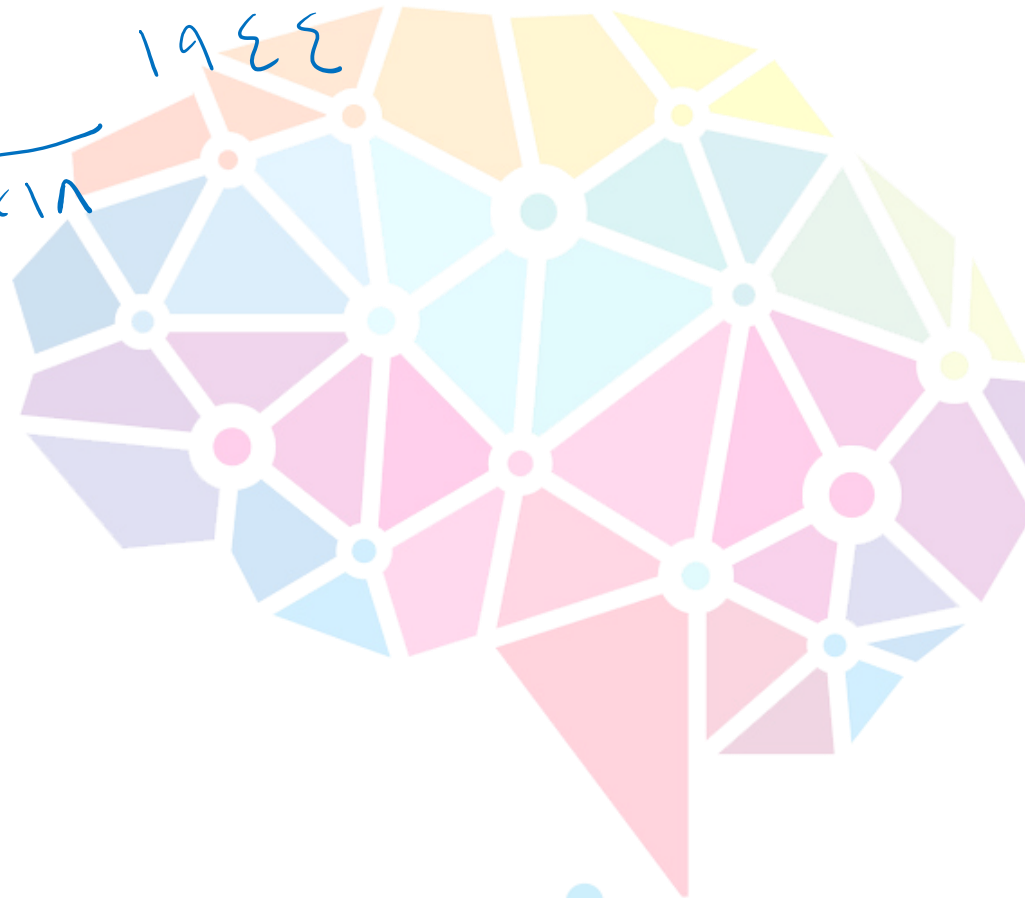
با توجه به الگوی زیر علامت سوال کدام است؟

۳ و ۶ و ۱۸ و ۱۰۸ و ؟

$\times 2$ $\times 3$ $\times 4$

$\times 18$

۱۹۴۴



۱۹۴۴ (۱) ✓

۱۹۴۶ (۲)

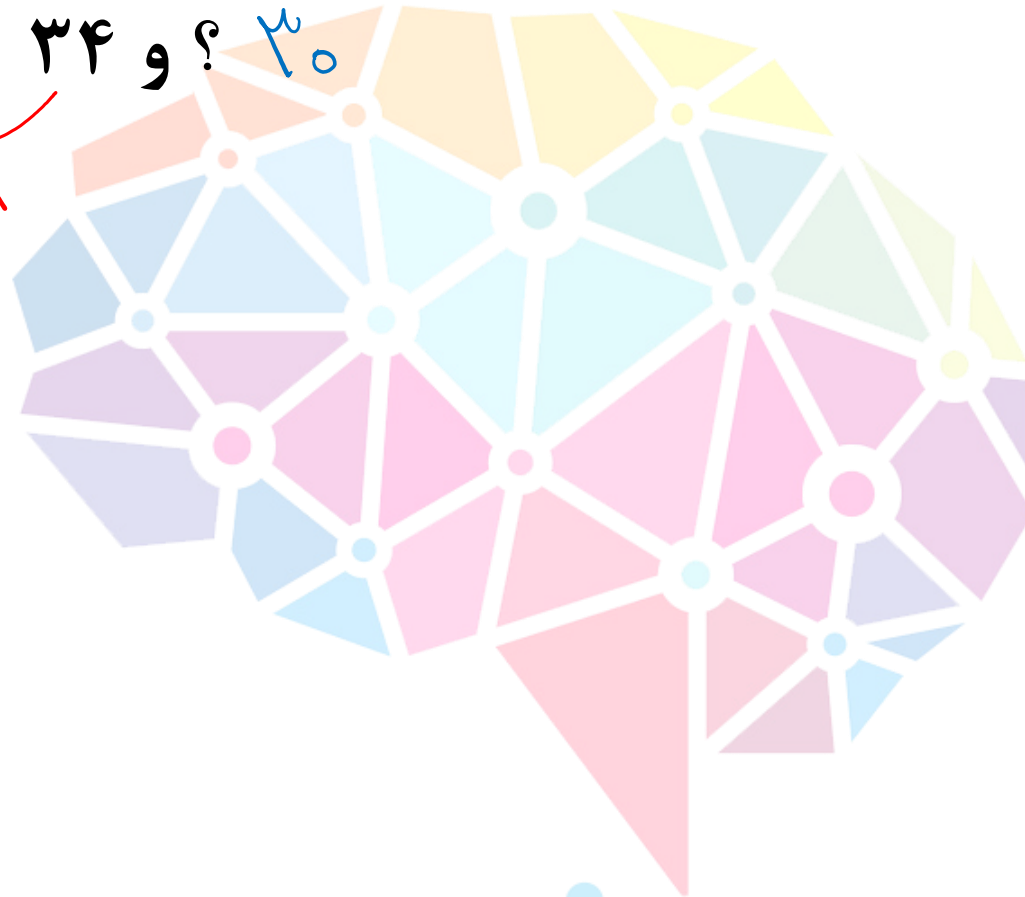
۱۹۴۸ (۳)

۱۹۵۲ (۴)

هوش‌شاند

با توجه به الگوی زیر علامت سوال کدام است؟

۱۹ و ۱۷ و ۲۶ و ۲۳ و ۳۴ و ؟
+۷ +۷
+۹ +۸



۲۸ (۱)

۳۰ (۲)

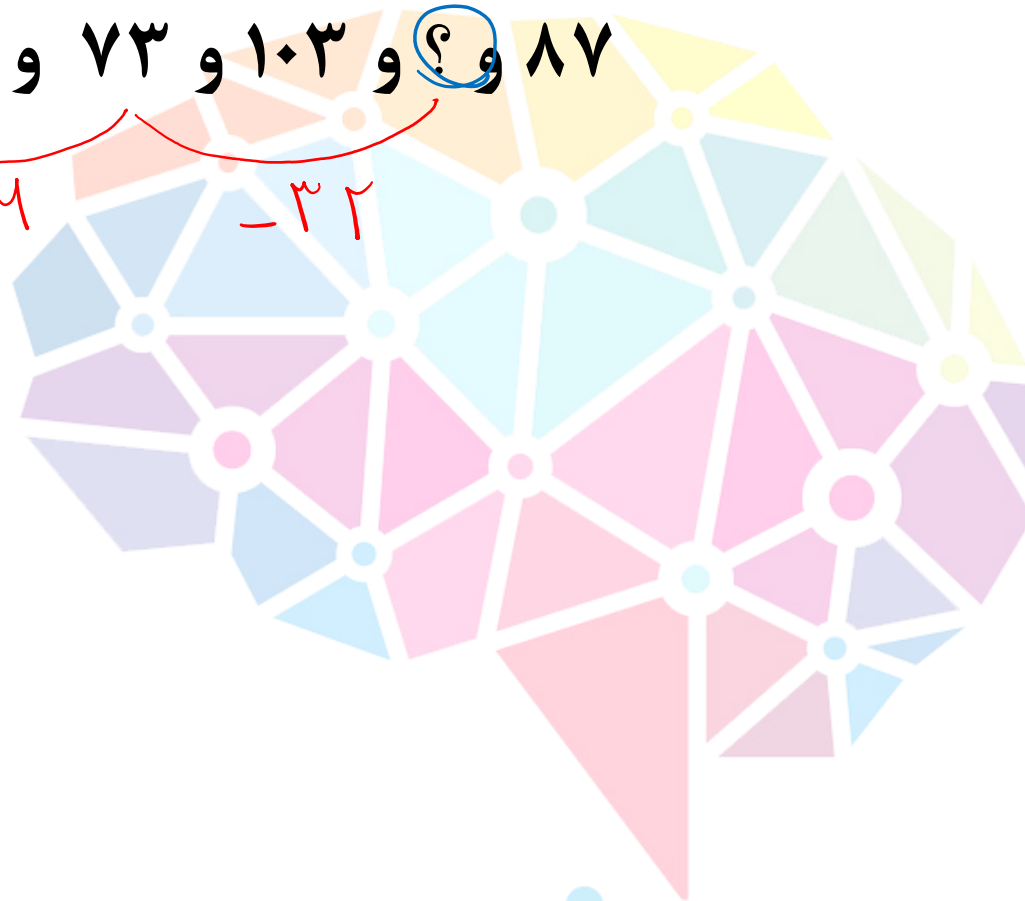
۳۲ (۳)

۳۴ (۴)

هوش‌شاند

با توجه به الگوی زیر علامت سوال کدام است؟

۹۷ و ۱۱۵ و ۱۸۹ و ۱۱۱ و ۷۳ و ۱۰۳ و ؟ و ۸۷



۴۰ (۱)

۴۱ (۲) ✓

۴۲ (۳)

۴۳ (۴)

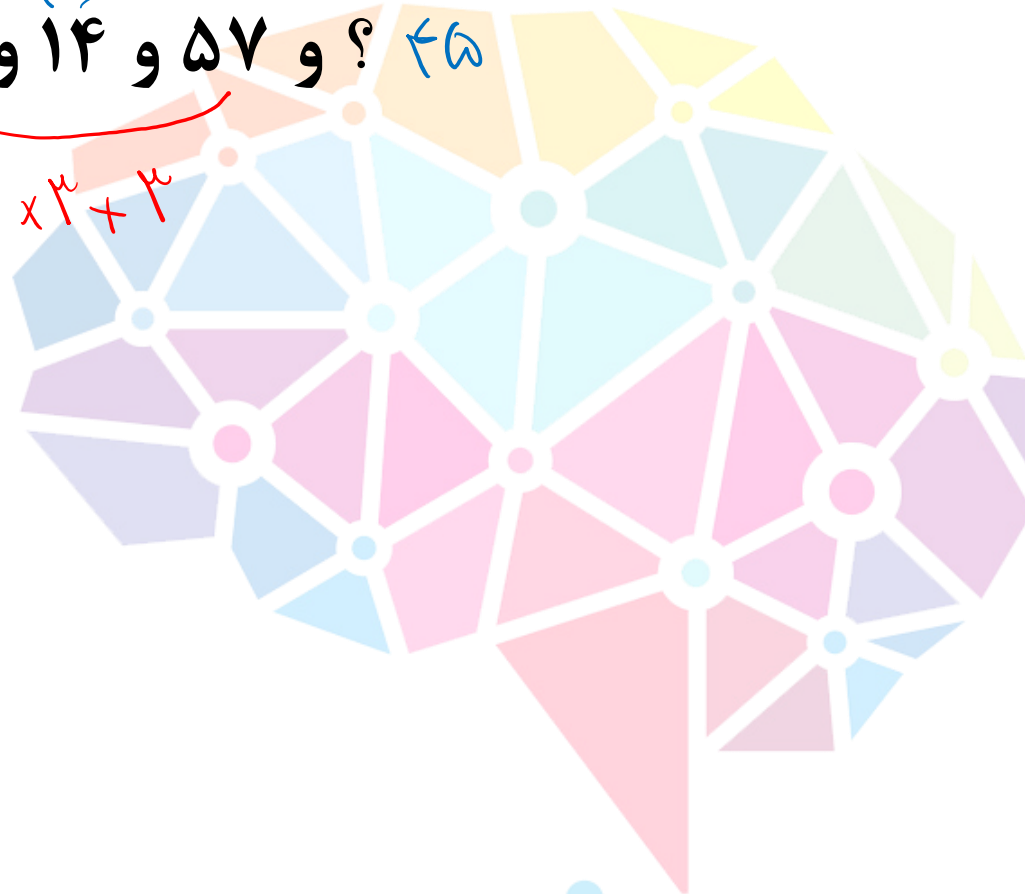
هوش‌لند

با توجه به الگوی زیر علامت سوال کدام است؟

۷ و ۵ و ۸ و ۶ و ۱۸ و ۱۴ و ۵۷ و ؟ ۴۵

x^1+1 x^2+2 x^3+3

x^1+1 x^2+2 x^3+3



۴۴ (۱)

۴۵ (۲)

۴۶ (۳)

۴۷ (۴)

هوش‌شاند

با توجه به الگوی زیر علامت سوال کدام است؟

۸۹ و ۹۲ و ۶۴ و ۱۲ و ۴۸ و ۶۷ و ۳۹ و ؟ ۴۶

-۱۰

-۱۵

-۲۱

-۲۵

-۱۴

-۹

۴۶ (۱) ✓

۴۷ (۲)

۴۸ (۳)

۴۹ (۴)

هوشلند

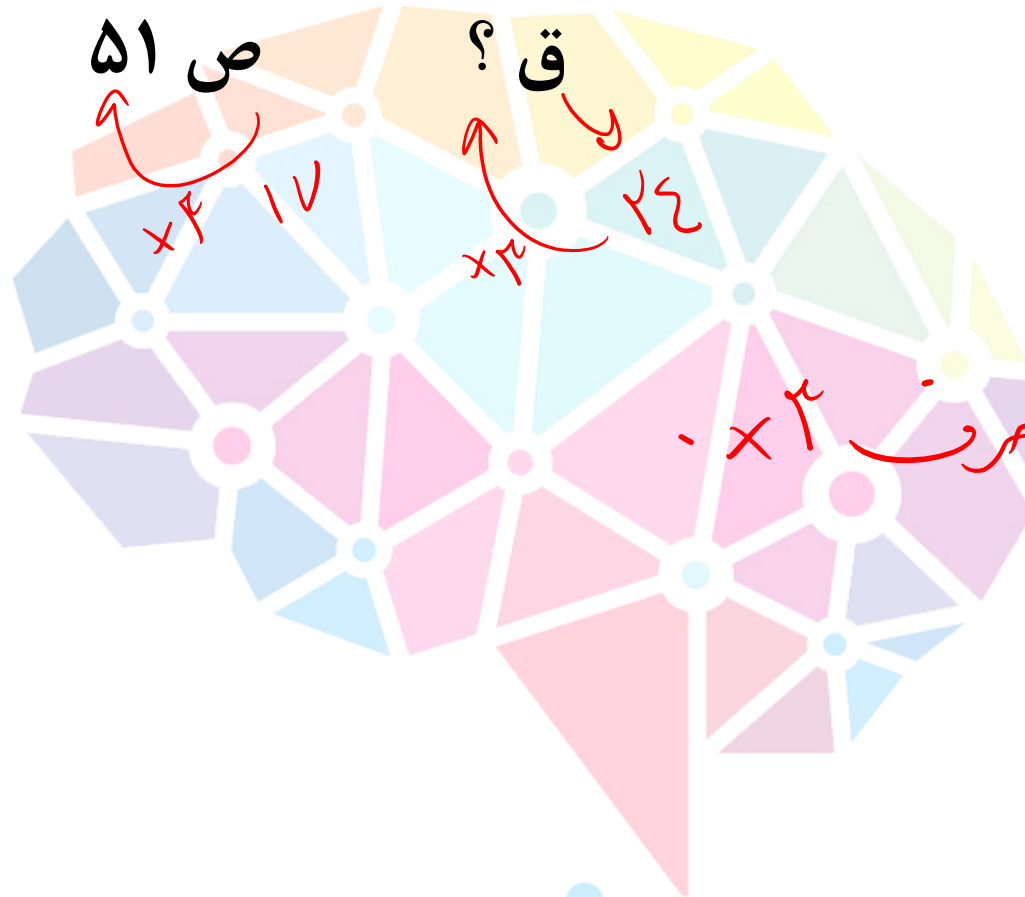
با توجه به الگوی زیر علامت سوال کدام است؟

خ ۲۷

س ۴۵

ص ۵۱

ق ؟



شماره ابجدی حرف ۲۶ -

۶۹ (۱)

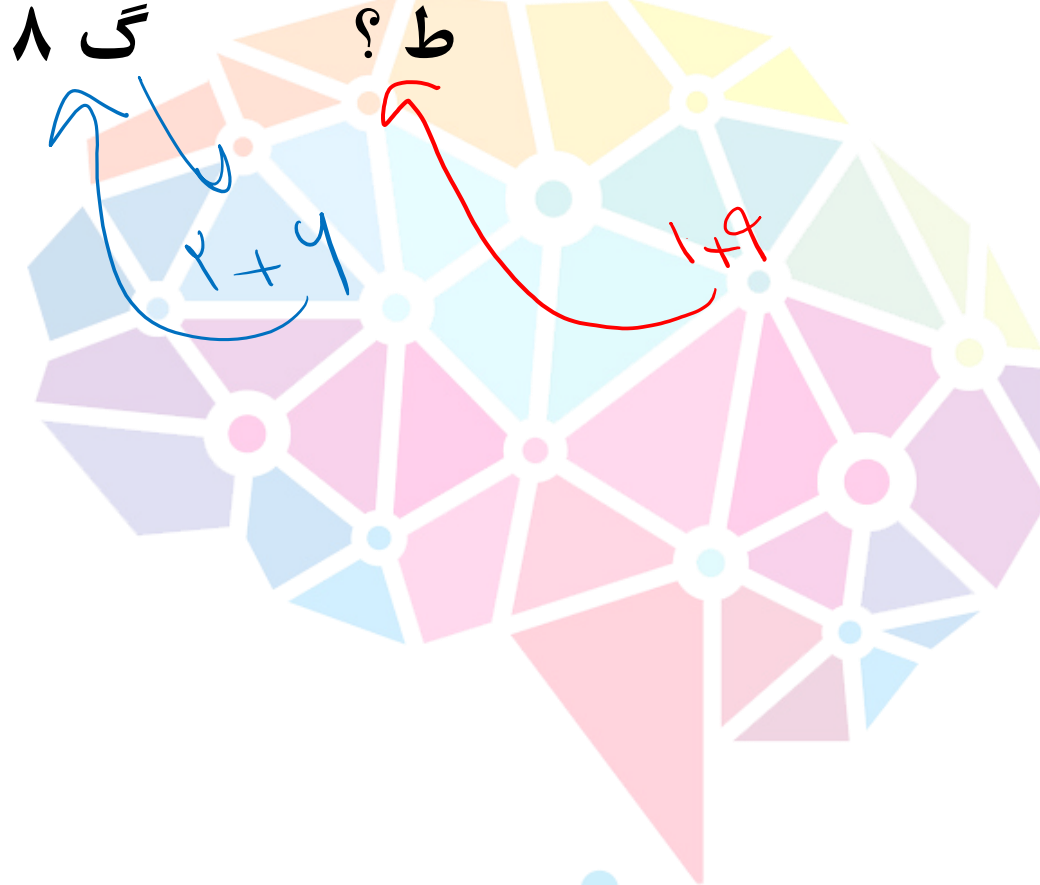
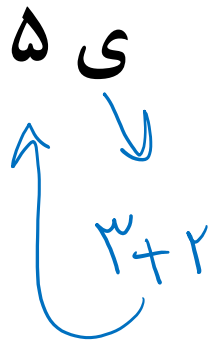
۷۲ (۲)

۷۵ (۳)

۷۸ (۴)

هوشلند

با توجه به الگوی زیر علامت سوال کدام است؟



۱۰ (۱) ✓

۱۱ (۲)

۱۲ (۳)

۱۳ (۴)

هوشلند

با توجه به الگوی زیر علامت سوال کدام است؟

ح

چ ۲۴

ز

ر

ص

ط

ث

۵۲ (۱)

۵۳ (۲)

۵۴ (۳) ✓

۵۵ (۴)

مجموع شماره الباقی حروف دور عدد رطبی در ۱۱ است میانه

هوش‌شاند

با توجه به الگوی زیر علامت سوال کدام است؟

$$\begin{array}{r} \text{د} \quad ۱۵ \quad \text{ظ} \\ + \\ \hline \div ۲ \end{array}$$

$$\begin{array}{r} ۲۲ \\ \text{ص} \quad ? \quad \text{ن} \\ + \\ \hline \div ۲ \end{array}$$

جمع کلمه العبابی حروف کنار تقسیم بر ۲ می‌شود و وسطی

۲۲ (۱)

۲۳ (۲) ✓

۲۴ (۳)

۲۵ (۴)

هوش‌شاند