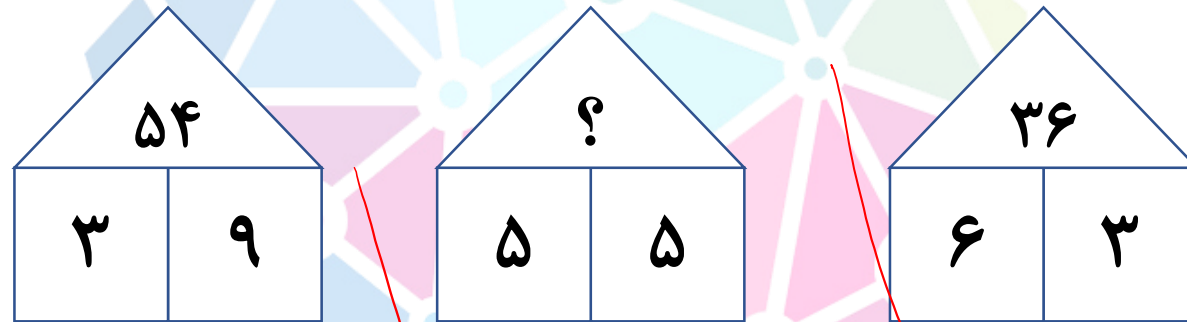


با توجه به الگوی زیر علامت سوال کدام است؟



$$(3 \times 9) \times 2 = 54 \quad (5 \times 5) \times 2 = 50 \quad (4 \times 6) \times 2 = 48$$

۲۵ (۱)

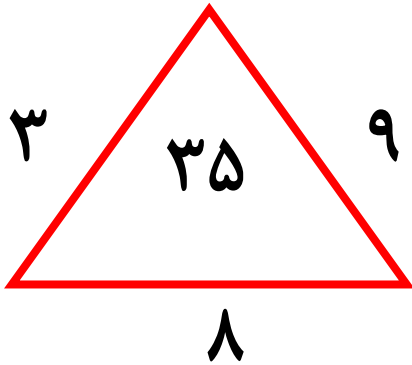
۵۰ (۲)

۷۵ (۳)

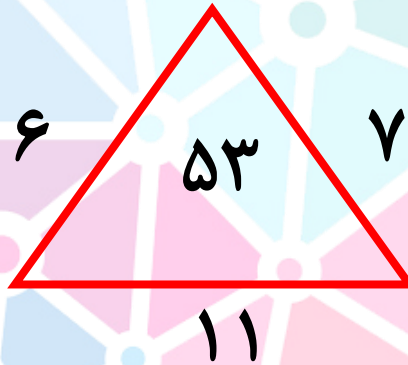
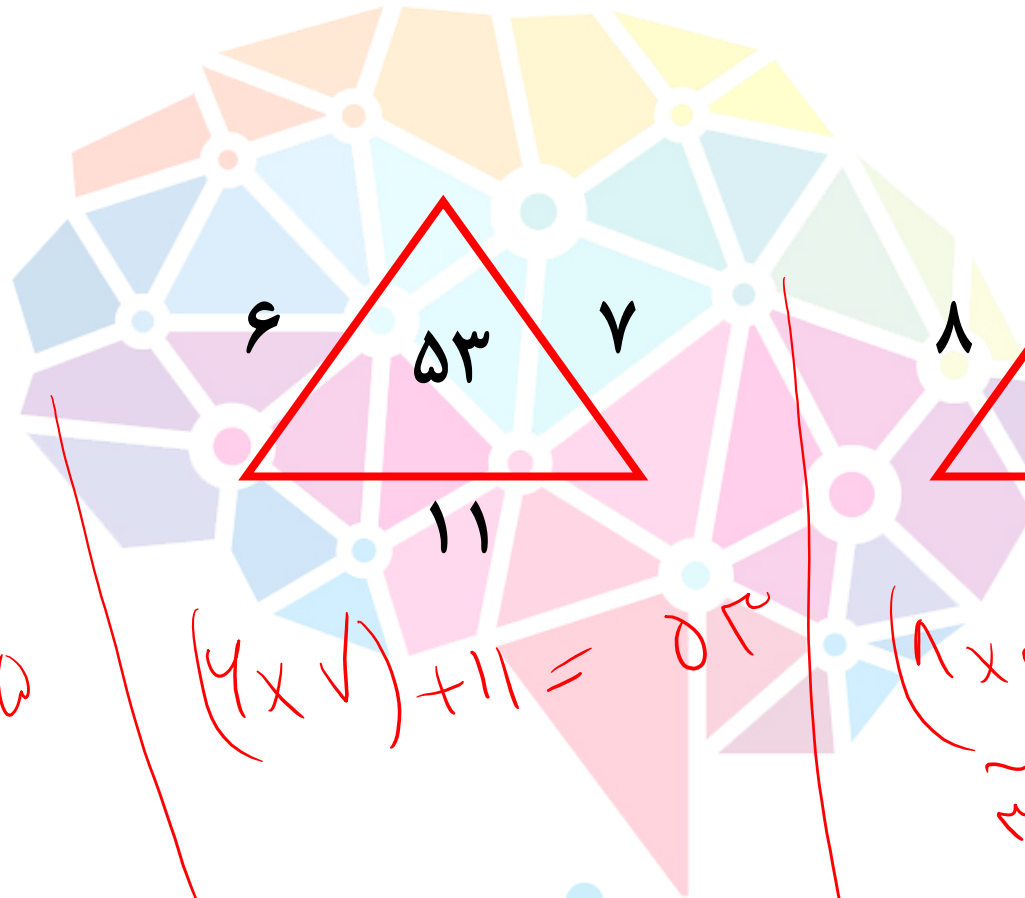
۱۰۰ (۴)

هوش‌لند

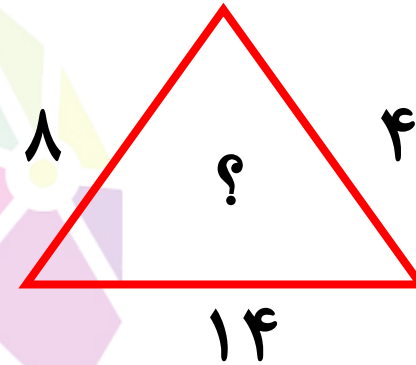
با توجه به الگوی زیر علامت سوال کدام است؟



$$(4 \times 9) + 1 = 35$$



$$(6 \times 7) + 11 = 53$$



$$(8 \times 4) + 14 = 44$$

۷۲ (۱)

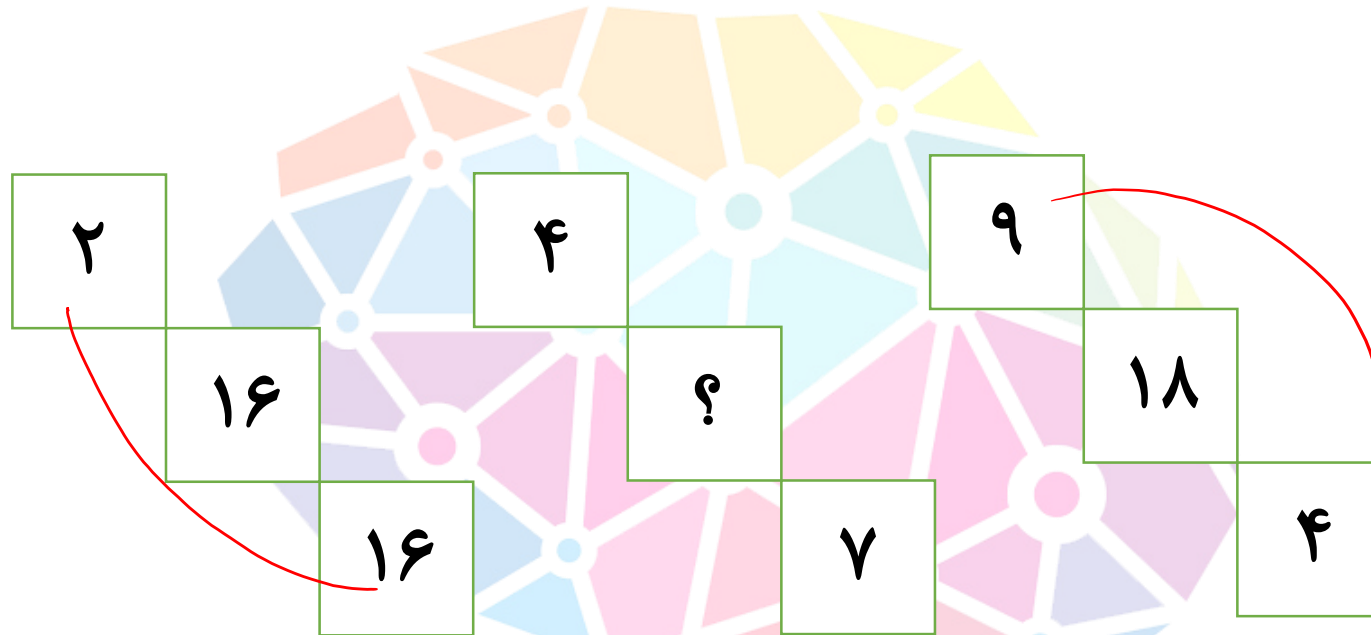
۴۴ (۲) ✓

۴۱ (۳)

۲۶ (۴)

هوش‌لند

با توجه به الگوی زیر علامت سوال کدام است؟



۱۴ (۱)

۱۷ (۲)

۱۸ (۳)

۱۹ (۴)

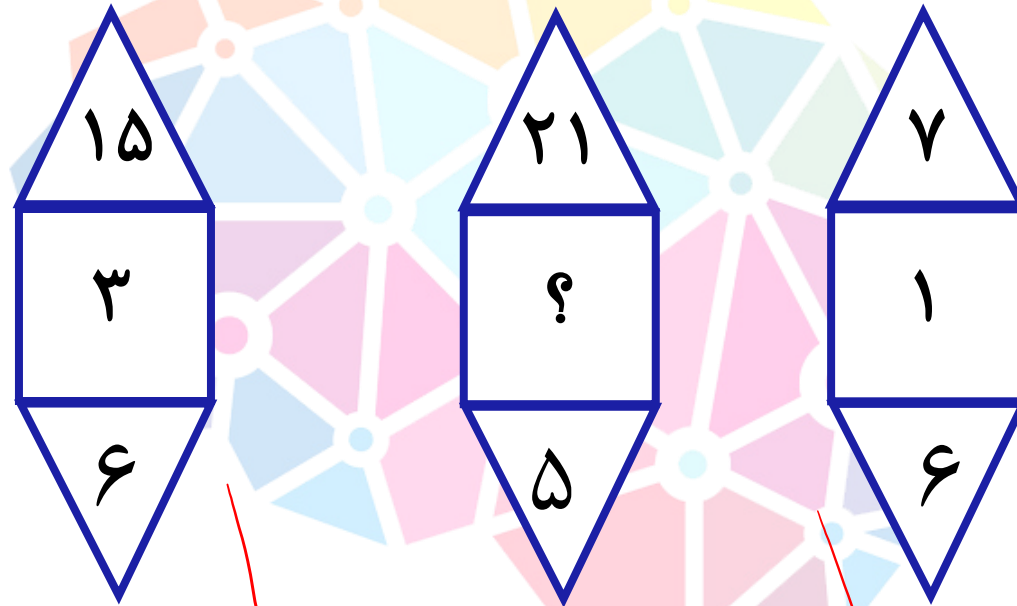
$$\frac{2 \times 14}{2} = 14$$

$$\frac{4 \times 7}{2} = 14$$

$$\frac{9 \times 2}{2} = 18$$

هوشلند

با توجه به الگوی زیر علامت سوال کدام است؟



۴۹ (۱)

۱۶ (۲)

۱۱ (۳)

۴ (۴)

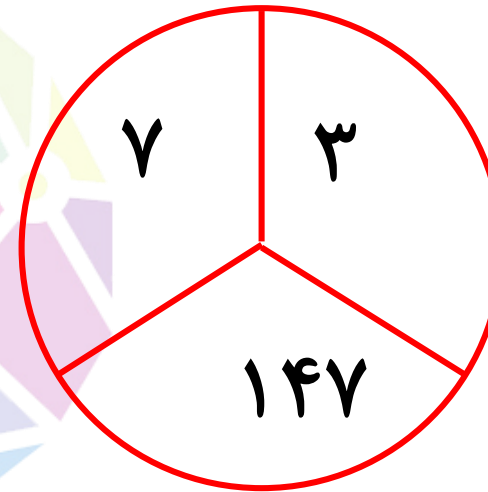
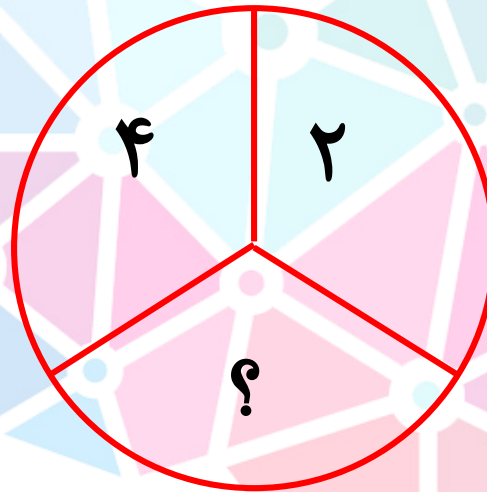
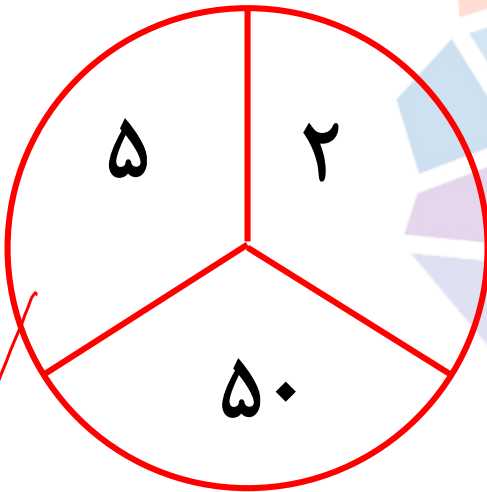
$$10 - 4 = 3 \times 3$$

$$21 - 5 = 5 \times 5$$

$$7 - 6 = 1 \times 1$$

هوش‌شاند

با توجه به الگوی زیر علامت سوال کدام است؟



۲۳ (۱)

۳۲ (۲)

۳۶ (۳)

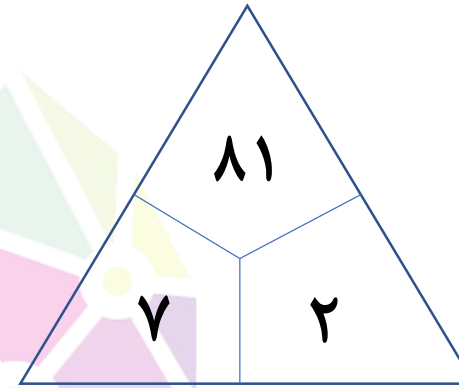
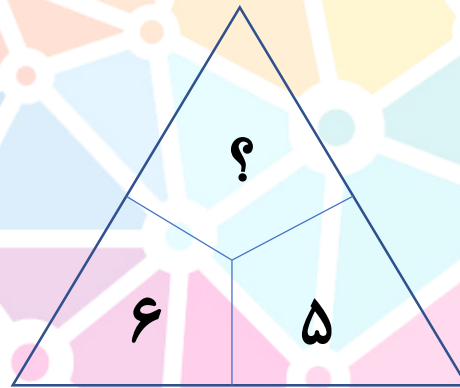
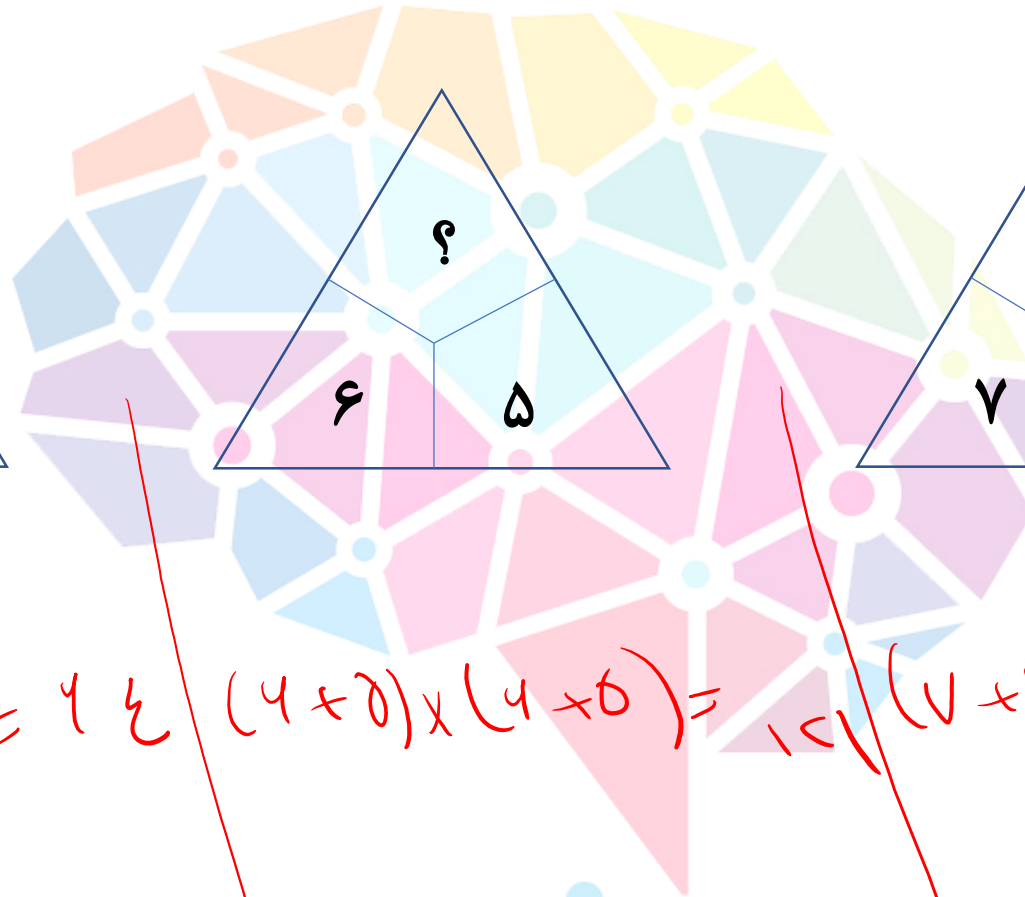
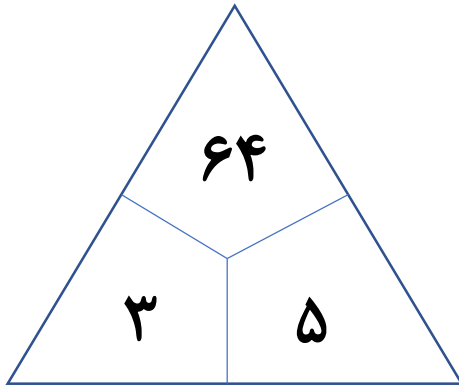
۳۷ (۴)

$(5 \times 5) \times 2 = 50$

$(2 \times 4) \times 2 = 16$

$(7 \times 7) \times 3 = 147$

با توجه به الگوی زیر علامت سوال کدام است؟



(۱) ۶۴

(۲) ۹۱

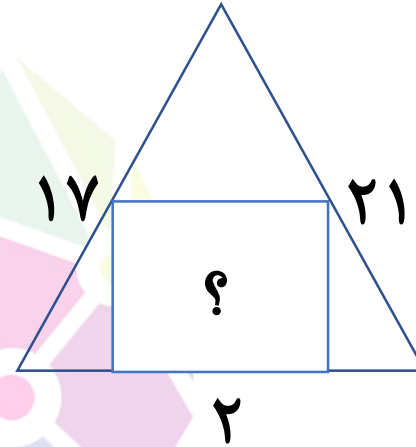
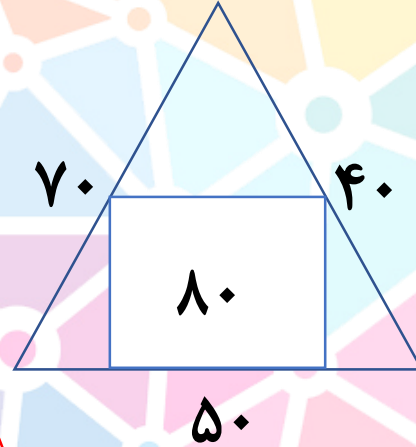
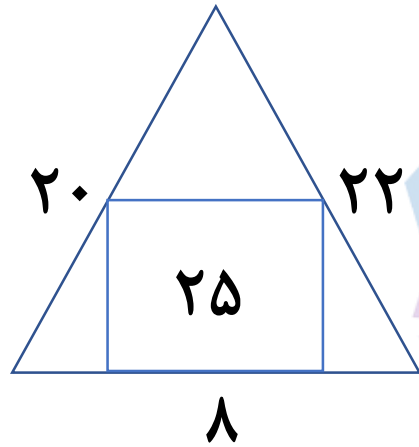
(۳) ۱۱۰

(۴) ۱۲۱

$(4+0) \times (4+0) = 16$
 $(4+0) \times (4+5) = 14$
 $(7+2) \times (7+2) = 81$

هوش‌لند

با توجه به الگوی زیر علامت سوال کدام است؟



۶۴ (۱)

۴۳ (۲)

۲۰ (۳)

۱۳ (۴)

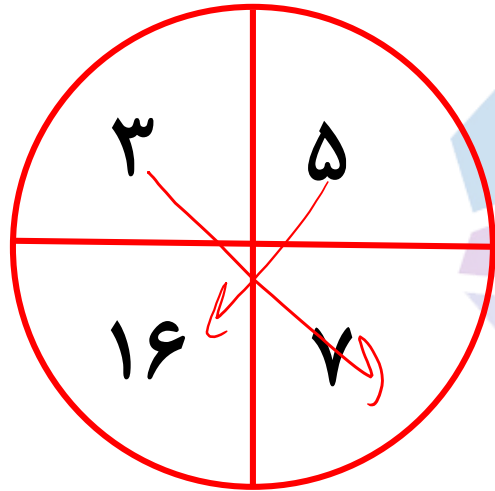
$$(20 + 22 + 8) \div 2 = 25$$

$$(70 + 40 + 50) \div 2 = 10$$

$$(17 + 21 + 2) \div 2 = ?$$

هوشلند

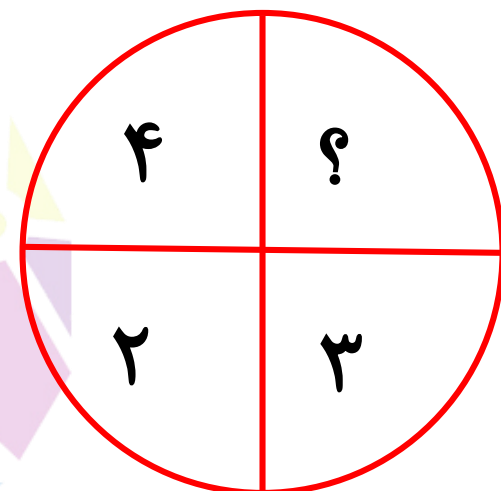
با توجه به الگوی زیر علامت سوال کدام است؟



$$3 \times 7 = 14 + 5$$



$$2 \times 8 = 12 + 4$$



$$4 \times 4 = 2 + ?$$

۱ (۱)

۲ (۲)

۸ (۳)

۱۰ (۴)

هوش‌لند

با توجه به الگوی زیر علامت سوال کدام است؟

۴	۲	۴	۳۸	۷	۱۴
۹	۶	?	۱۹	۴	۸

- ۲ (۱) ✓
- ۴ (۲)
- ۶ (۳)
- ۷ (۴)

$$۳ \times ۴ = ۹ \times ۲$$

$$۴ \times ۱۹ = ۵ \times ۳۸ \quad ۷ \times ۸ = ۲ \times ۱۴$$

هوش‌لند

با توجه به الگوی زیر علامت سوال کدام است؟

۴۲	۷	۵۶	۴	۸۱	۳
۲	۳	۲	۷	?	۹

۱ (۱)

۳ (۲)

۸ (۳)

۱۶ (۴)


$$۲ \times ۳ \times ۷ = ۴۲$$

$$۲ \times ۷ \times ۴ = ۵۶$$

$$۳ \times ۹ \times ۴ = ۱۰۸$$

هوشلند

با توجه به الگوی زیر علامت سوال کدام است؟



$$4 \times (4 + 1) = 20$$

$$6 \times (6 + 1) = 42$$

$$3 \times (3 + 1) = 12$$

۸ (۱)

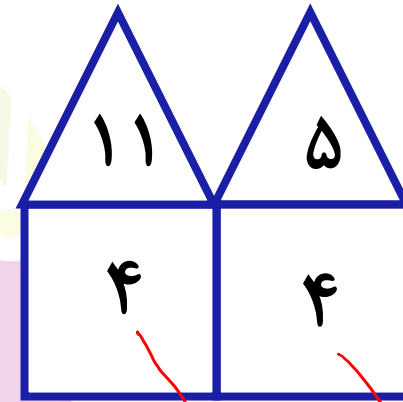
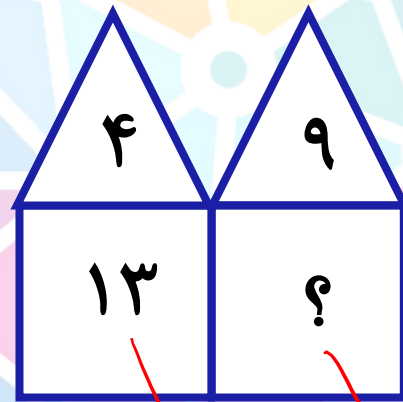
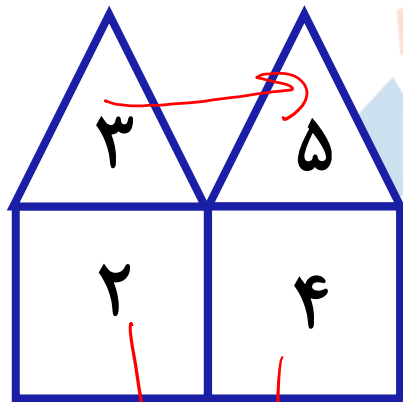
۱۰ (۲)

۱۲ (۳)

۱۴ (۴)

هوش‌لند

با توجه به الگوی زیر علامت سوال کدام است؟



$$(2 + 0) \div 2 = 1$$

$$(4 + 9) \div 12 = 1$$

$$(11 + 5) \div 4 = 4$$

1 (1)

2 (2)

9 (3)

16 (4)

هوش‌لند

با توجه به الگوی زیر علامت سوال کدام است؟

۴	۱۱	۳	۶	۱۰	۵
۲۸	۷۷	?	۴۲	۷۰	۳۵

۱۱ (۱)

۱۷ (۲)

۲۱ (۳)

۲۷ (۴)

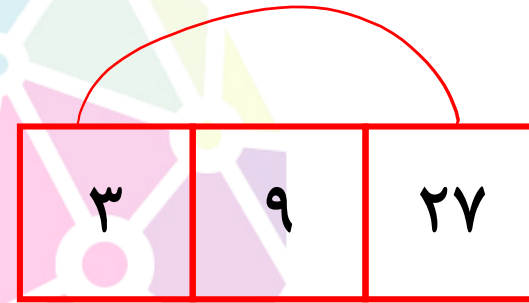

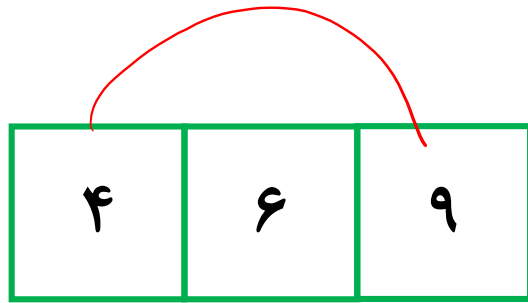
$$\frac{4 \times 11}{11} = 28$$

$$\frac{3 \times 6}{2} = 42$$

$$\frac{10 \times 5}{2} = 70$$

هوش‌شاند

با توجه به الگوی زیر علامت سوال کدام است؟



۲ (۱)

۶ (۲)

۸ (۳)

۱۲ (۴)

$$۴ \times ۹ = ۶ \times ۶$$

$$۴ \times ۱۶ = ۵ \times ۵$$

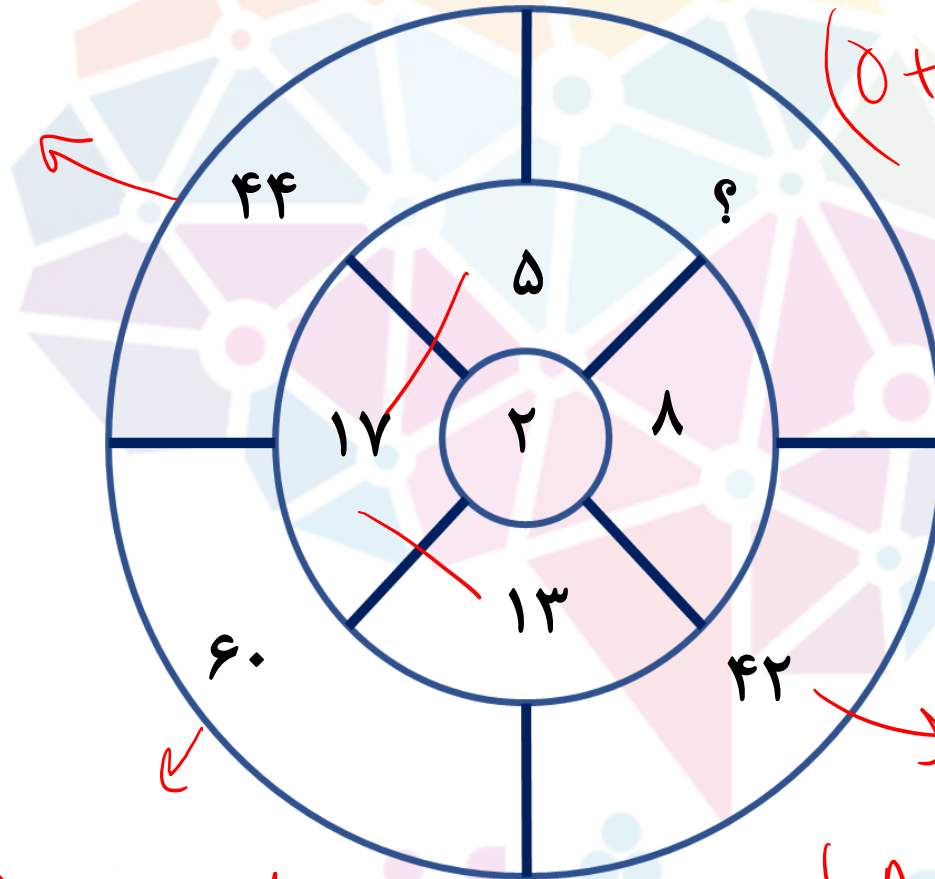
۸ ۸

$$۳ \times ۲۷ = ۹ \times ۹$$

هوشلند

مقدار علامت سوال کدام است؟

$$(17 + 0) \times 2 = 34$$



$$(0 + 14) \times 2 = 28$$

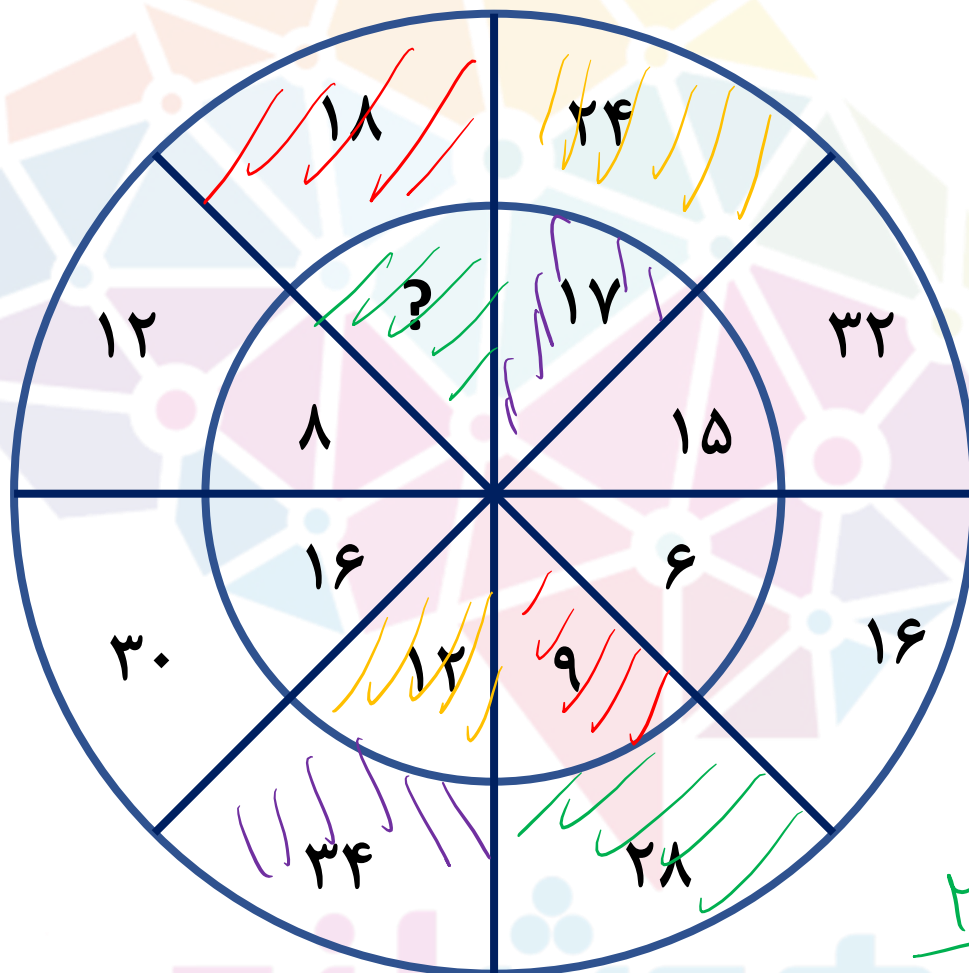
- ۲۲ ۱
- ۲۴ ۲
- ۲۶ ۳
- ۲۸ ۴

$$(17 + 14) \times 2 = 62$$

$$(1 + 14) \times 2 = 30$$



مقدار علامت سوال کدام است؟



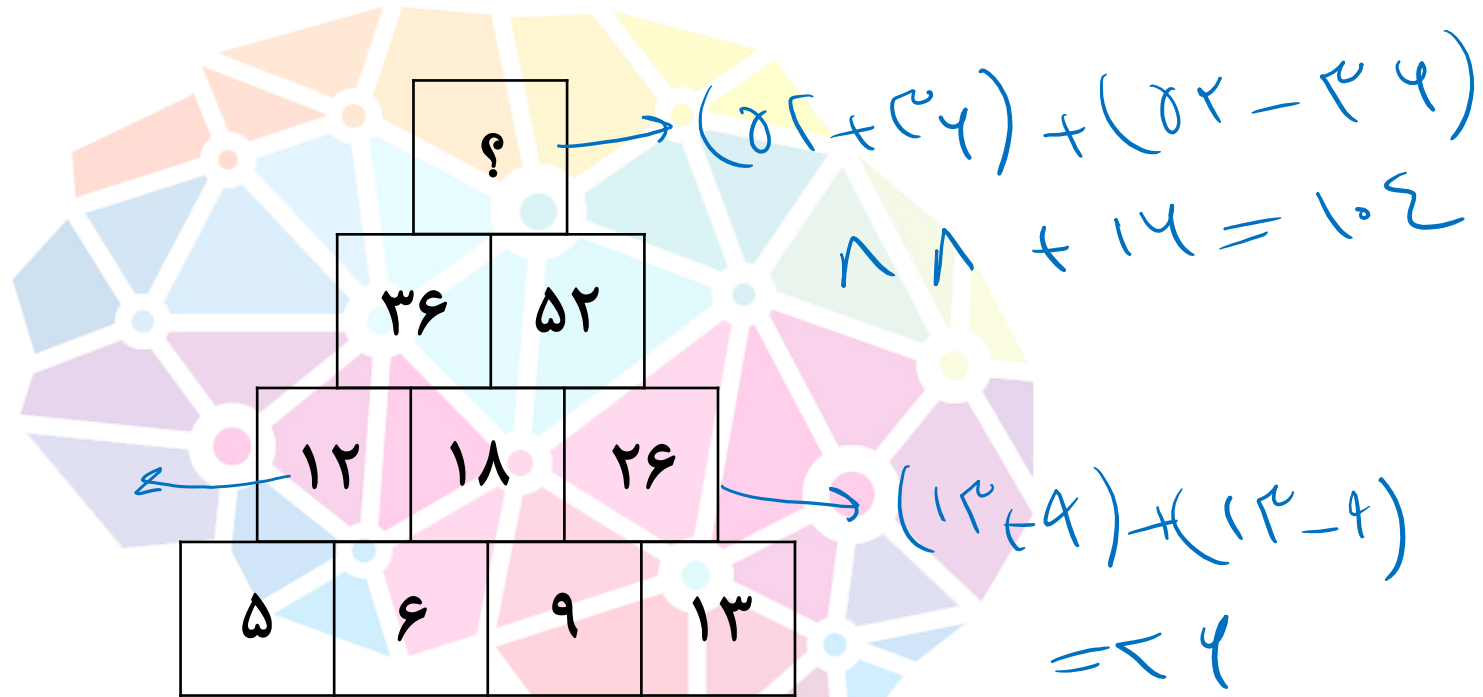
- ۱۲ ۱
- ۱۳ ۲
- ۱۴ ۳
- ۱۵ ۴

$$\frac{28}{2} = 14$$



با توجه به الگوی زیر علامت سوال کدام است؟

$$(4+8)+(4-0)=12$$



$$(8+4)+(8-4) \\ 12+12=24$$

۱۰۰ (۱)

۱۰۲ (۲)

۱۰۴ (۳)

۱۰۶ (۴)

هوش‌لند

با توجه به الگوی زیر علامت سوال کدام است؟

۴	۵	۸	۱
۶	۸	۷	۷
۹	۵	۶	۸
۵	۶	۷	؟

۱ (۱)

۲ (۲)

۳ (۳)

۴ (۴)

هوش‌لند

با توجه به الگوی زیر علامت سوال کدام است؟

۹	۶	۱۸	۱۵
۷	۴	۱۲	۹
۸	۵	۱۵	۱۲
۱۰	۷	۲۱	?

۱۶ (۱)

۱۷ (۲)

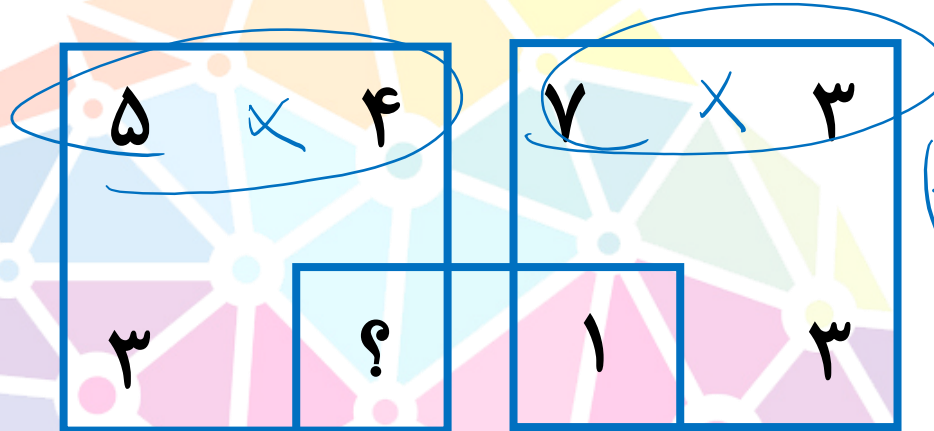
۱۸ (۳)

۱۹ (۴)

هوش‌لند

با توجه به الگوی زیر علامت سوال کدام است؟

$$(5 \times 4) - 2 = 17$$



$$(7 \times 3) - 2 = 18 \quad 15 \quad (1)$$

$$16 \quad (2)$$

$$17 \quad (3)$$

$$18 \quad (4)$$

$$(4 \times 4) - 2 = 14$$

$$(8 \times 2) - 2 = 14$$