

انواع سوالات دنباله های اعداد و حروف در آزمون تیزهوشان

1

اعداد به اعداد و
حروف به حروف
رابط داشته باشند

2

اعداد و حروف به هم
رابط داشته باشند

جدول حروف الفبا به همراه شماره آن ها

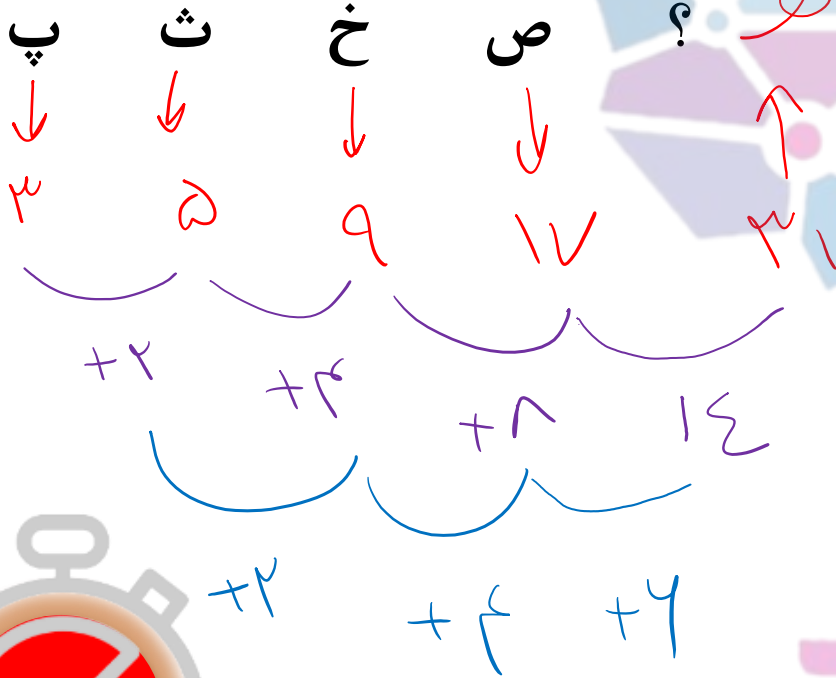
ش	س	ژ	ز	ر	ذ	د	خ	ح	چ	ج	ث	ت	پ	ب	الف
۱۶	۱۵	۱۴	۱۳	۱۲	۱۱	۱۰	۹	۸	۷	۶	۵	۴	۳	۲	۱

ی	ه	و	ن	م	ل	گ	ک	ق	ف	غ	ع	ظ	ط	ض	ص
۳۲	۳۱	۳۰	۲۹	۲۸	۲۷	۲۶	۲۵	۲۴	۲۳	۲۲	۲۱	۲۰	۱۹	۱۸	۱۷

تست

کدام گزینه به جای علامت سوال قرار می گیرد؟

هوش ریاضی



- ۱
- ۲
- ۳
- ۴

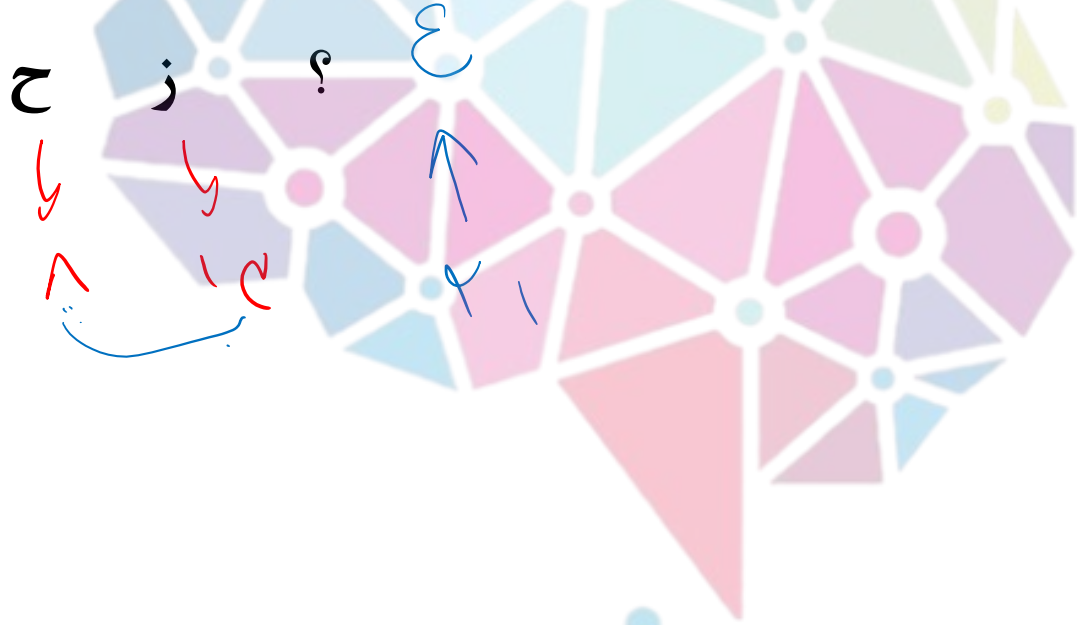


هوش سلند
سرزمین تیزهوشان ایران



تست

کدام گزینه به جای علامت سوال قرار می گیرد؟



- ۱ ع
- ۲ ز
- ۳ ح
- ۴ پ

هوش ریاضی



ش
پ
ب

پ
ح
ز

ب
ع
ح

هوش‌شانند
سرزمین تیزهوشان ایران

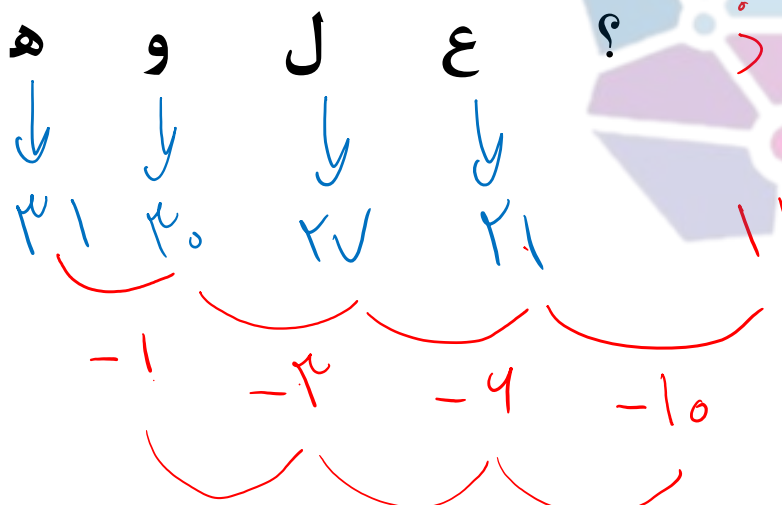


تست

کدام گزینه به جای علامت سوال قرار می گیرد؟

هوش ریاضی

1+1=2
1x2=
x=+



- د ۱
- ز ۲
- ر ۳
- ز ۴

هوش شنند
سرزمین تیزهوشان ایران



تست

هوش ریاضی



کدام گزینه به جای علامت سوال قرار می گیرد؟

۷	ث	۱۰	چ	۱۶	ذ	۲۵	ص	؟	؟	۳۷	ک	۱		
	↓		↓		↓		↓	↓	↓			۳۷	گ	۲
	۵		۷		۱۱		۱۷		۲۷			۳۹	ک	۳
												۳۹	گ	۴

Handwritten annotations: $+2$, $+4$, $+9$, $+16$, $+2$, $+6$, $+4$, $+1$, ۲۵ , ۳۷ , ۳۹ .

هوش‌شوند

سرزمین تیزهوشان ایران



تست

هوش ریاضی

کدام گزینه به جای علامت سوال قرار می گیرد؟

$7 - 4 = 3$	$8 \times 2 = 16$	$5 - 2 = 3$	$10 - 4 = 6$?
ب	پ	ث	ج	د
$8 - 2 = 6$	$12 \times 2 = 24$	$10 - 2 = 8$	$20 \times 2 = 40$	۱۸
۱۰	۷	۷	۱۰	
ر	ز	ز	ر	
۱۶	۱۸	۱۶	۱۸	



تست

هوش ریاضی

کدام گزینه به جای علامت سوال قرار می گیرد؟

؟

؟

؟

؟

۳۲

ش

۲۵

۲۵

خ

۲۲

۲۰

ت

۱۹

۱۷

الف

۱۳

۱۹

۱۵

۴۳

ک

۴

۳۲

۲۸

۴۱

ک

۳

۳۳

۲۹

۴۳

گ

۲

۲۹

۳۳

۴۱

گ

۱

۳۲

۲۸



تست

کدام گزینه به جای علامت سوال قرار می گیرد؟

- د ۱
- ظ ۲
- و ۳
- ک ۴

هوش ریاضی

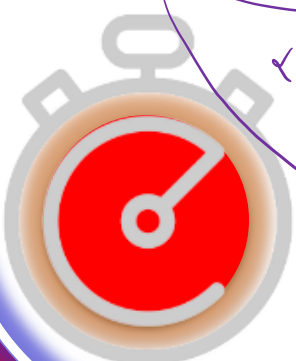
پ	خ	س
ت	ر	ظ
ث	س	؟

هوشلند

سرزمین تیزهوشان ایران

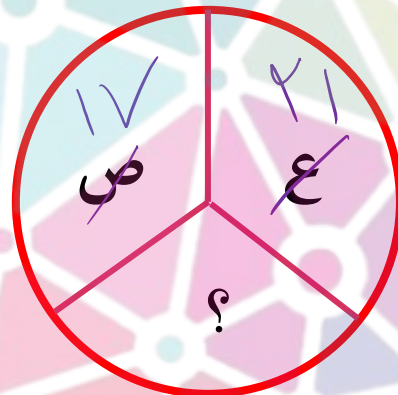
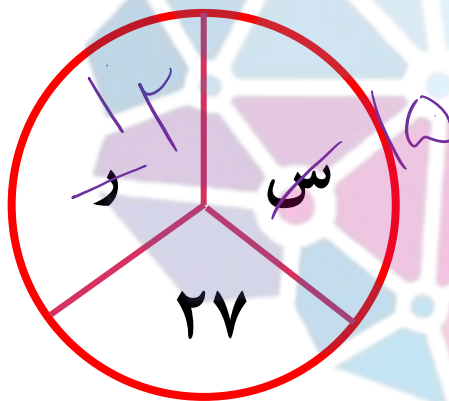
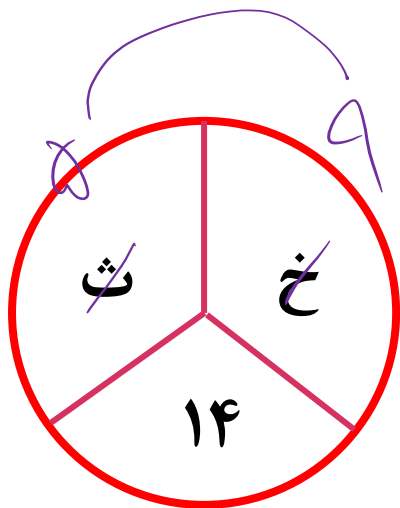


1+1=2
1+2=3
x=+



تست

کدام گزینه به جای علامت سوال قرار می گیرد؟



۳۰ ۱

۳۸ ۲

۳۹ ۳

۲۸ ۴



مغوشلند

سرزمین تیزهوشان ایران

هوش ریاضی



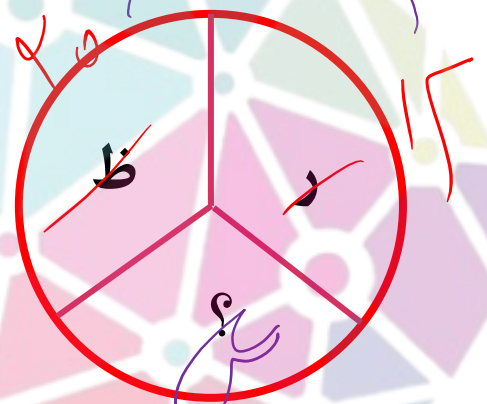

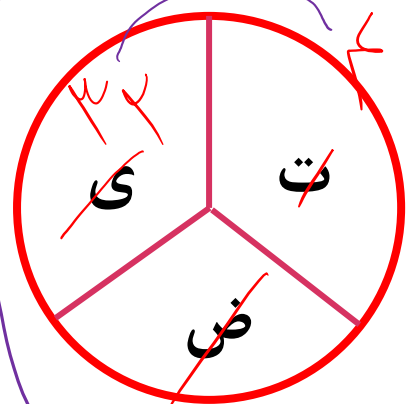
تست

کدام گزینه به جای علامت سوال قرار می گیرد؟

- ۱ ز
- ۲ ش
- ۳ ص
- ۴ س

هوش ریاضی

1+1=2
1x2=
x=+



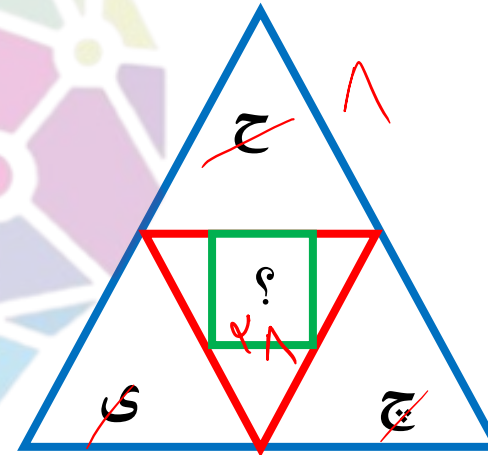
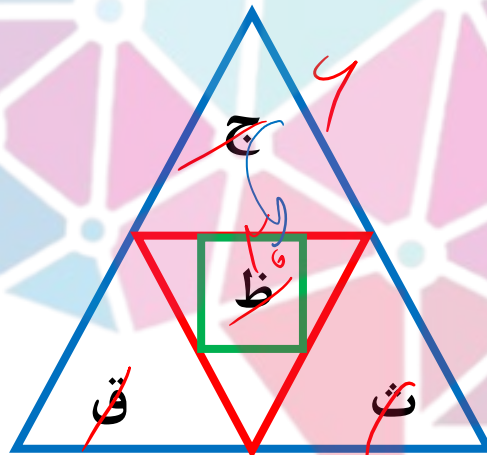
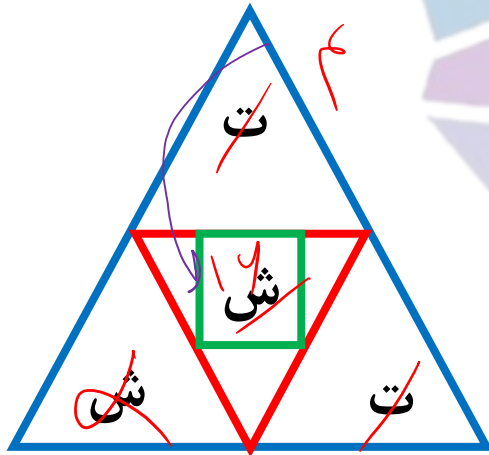
هوشلند

سرزمین تیزهوشان ایران



تست

کدام گزینه به جای علامت سوال قرار می گیرد؟



- ۱
- ۲
- ۳
- ۴

$$\begin{array}{r}
 ۴ \times ۱۴ = ۴ \times ۱۴ \\
 \hline
 ۲۸
 \end{array}$$

$$\begin{array}{r}
 ۶ \times ۲۰ = ۲۶ \times ۵ \\
 \hline
 ۱۲۰
 \end{array}$$

$$۷ \times ۷ = ۲۷ \times ۷$$



1+1=2
1x2=
x=+

هوش ریاضی

تست

کدام گزینه به جای علامت سوال قرار می گیرد؟

۳	خ	د	ث	۶
۱				ز
۳				ج
۴				ن
۲	چ	ض	ژ	۹

۱۵

۱۲

۱۰

۷

هوش ریاضی



سرزمین تیزهوشان ایران



تست

کدام گزینه به جای علامت سوال قرار می گیرد؟

۱ س $22 - 19 = 3$

۲ د $91 - 98 = -7$

۳ چ $48 - 22 = 26$

۴ ر $57 - 22 = 35$

$57 - 22 = 35$

پ ^۳	ب ^۲	۱۳	الف ^۱	خ ^۹
ج ^۴	ث ^۵	۲۶	الف ^۱	خ ^۹
ت ^۴	ح ^۶	۲۵	پ ^۳	ب ^۲
ث ^۵	ب ^۱	۲۵	ح ^۱	؟ ^۱

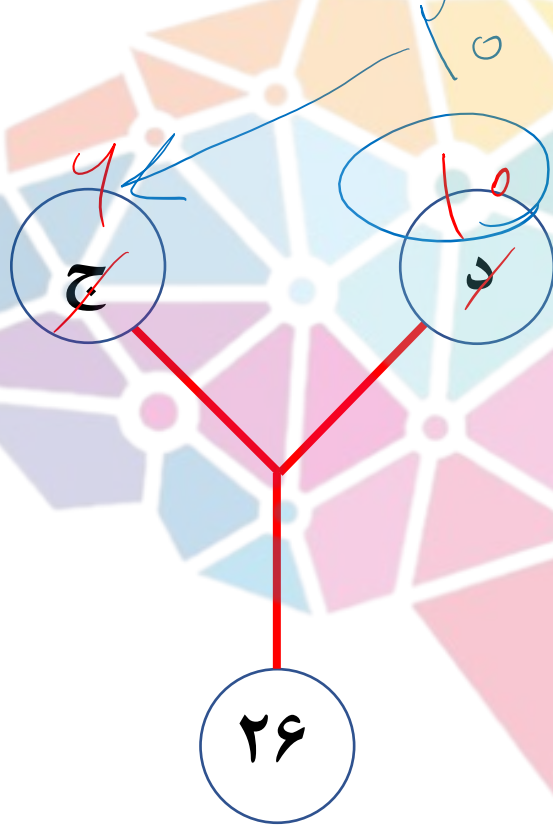
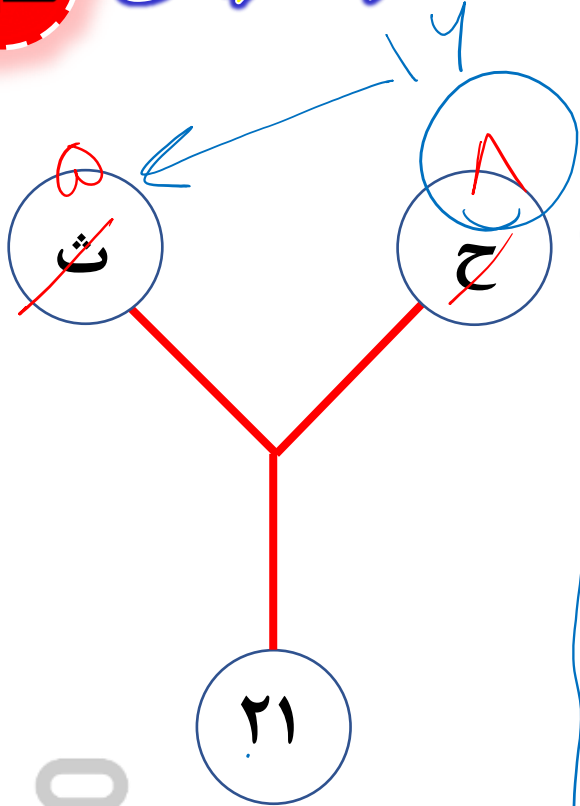
هوش ریاضی

$1+1=2$
 $1 \times 2 = 2$
 $x = +$

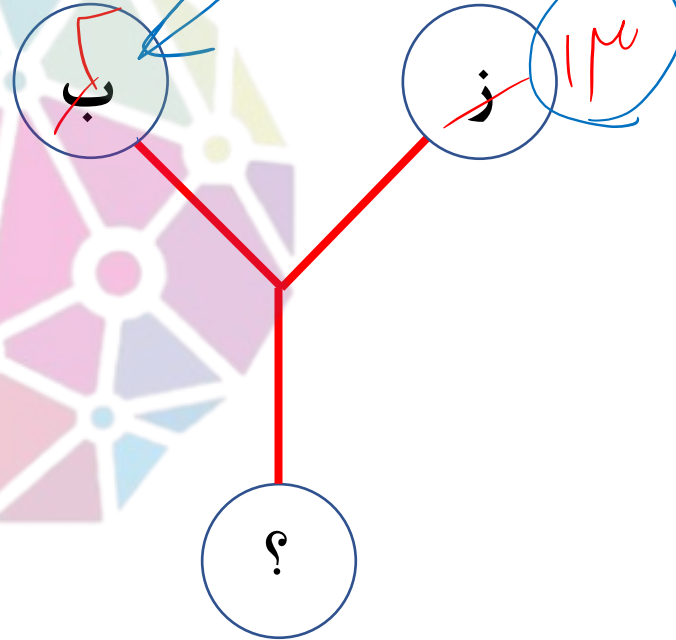




هوش ریاضی



کدام گزینه به جای علامت سوال قرار می گیرد؟



تست

- ۲۲ ۱
- ۲۴ ۲
- ۲۶ ۳
- ۲۸ ۴



هوش شنند

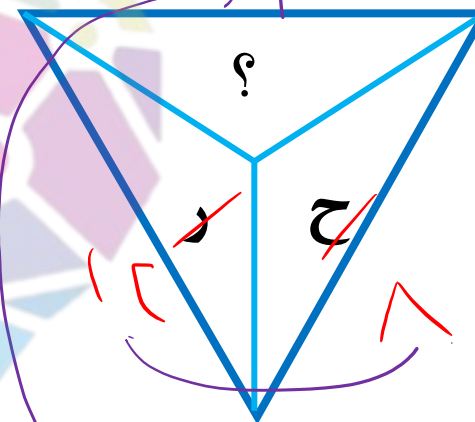
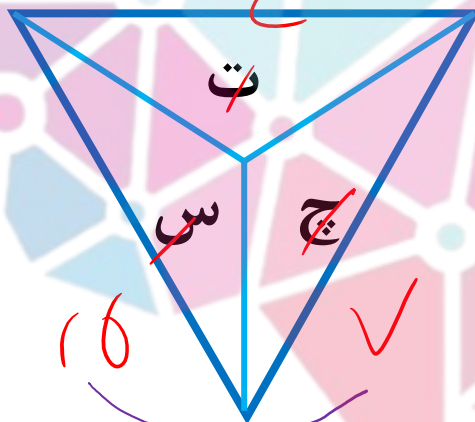
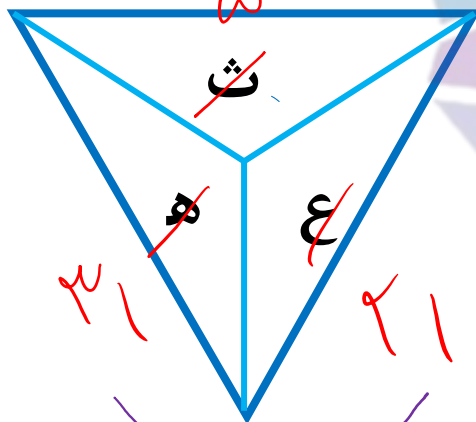
سرزمین تیزهوشان ایران




تست

کدام گزینه به جای علامت سوال قرار می گیرد؟

- الف ۱
- ب ۲
- ج ۳
- د ۴



هوش ریاضی



هوش‌شوند

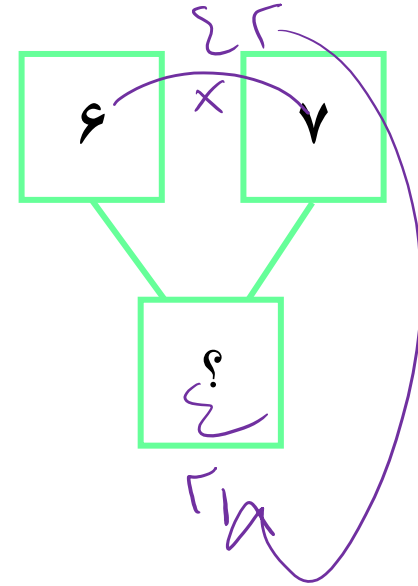
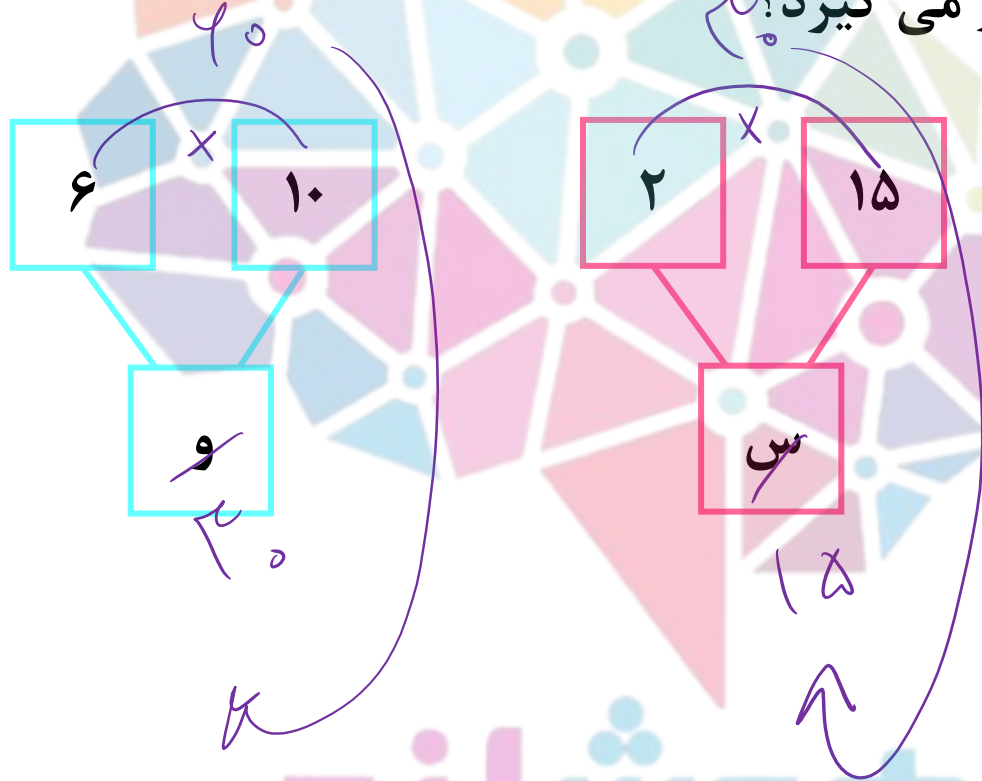
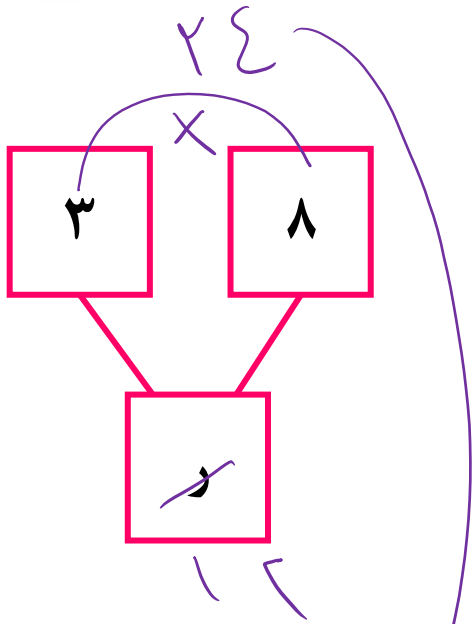
سرزمین تیزهوشان ایران



تست

هوش ریاضی

کدام گزینه به جای علامت سوال قرار می گیرد؟



- ۱
- ۲
- ۳
- ۴



هوش‌شوند

سرزمین تیزهوشان ایران



تست

کدام گزینه به جای علامت سوال قرار می گیرد؟

ب	ت
ج	ج

پ	ج
ر	خ

ث	ح
?	ر

- ۱ ش
- ۲ گ
- ۳ ع
- ۴ غ

هوش ریاضی

1+1=2
1x2=
x=+

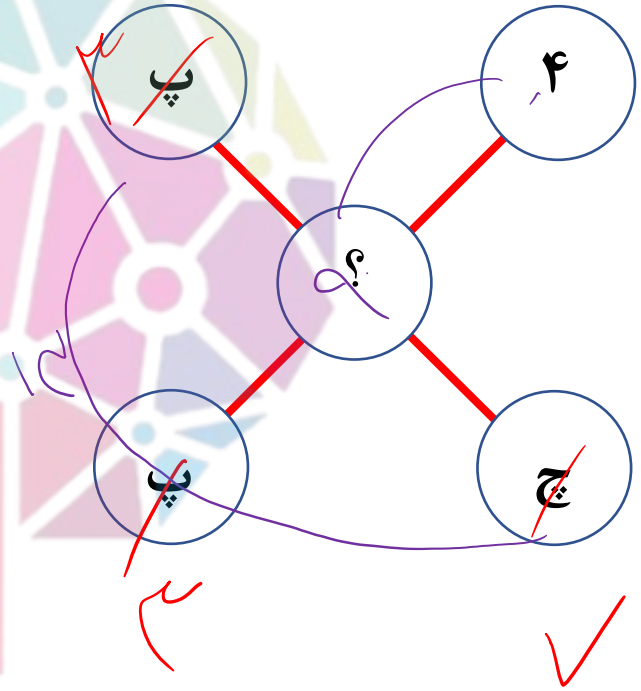
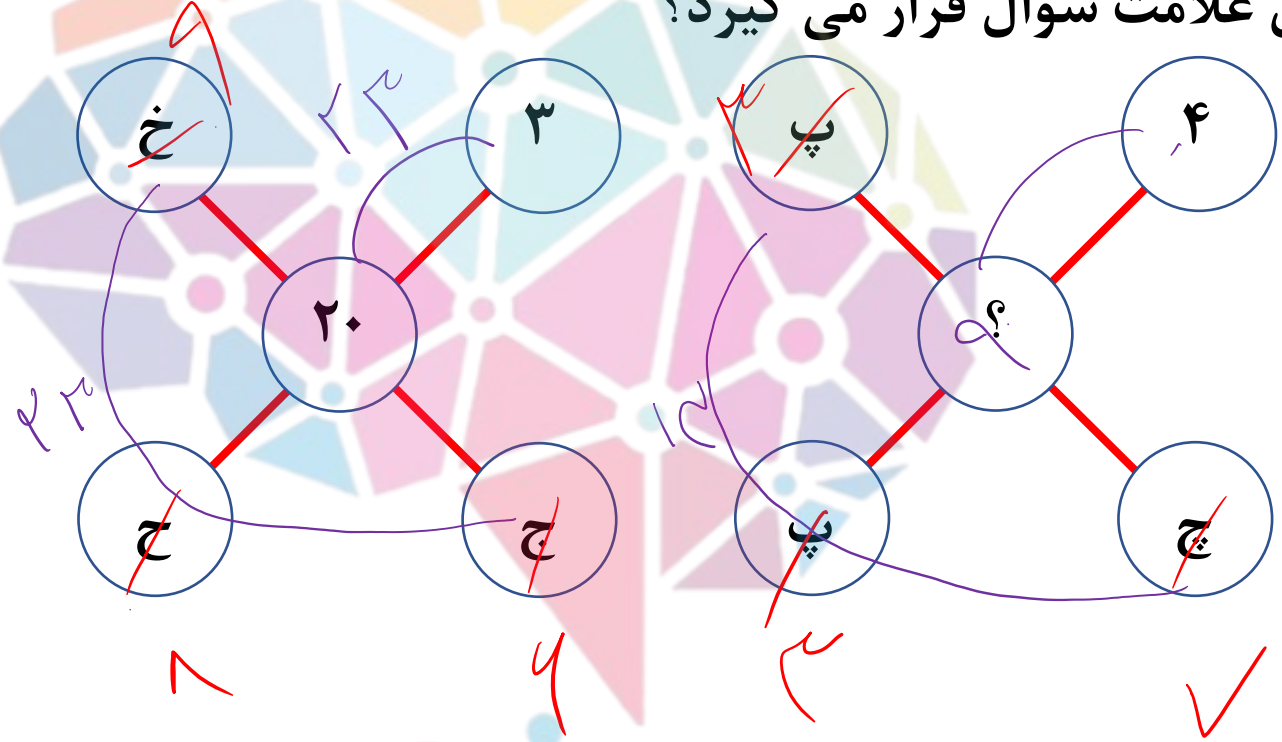
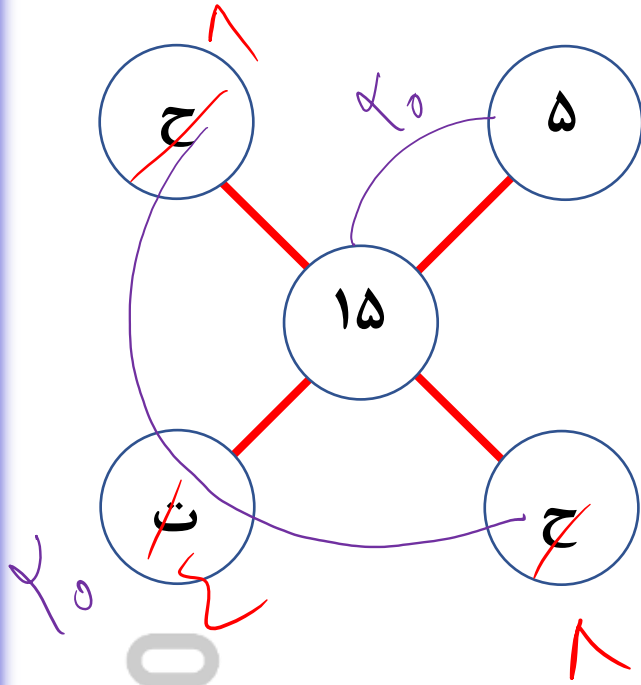
هوشلند

سرزمین تیزهوشان ایران



تست

کدام گزینه به جای علامت سوال قرار می گیرد؟



- ۱
- ۲
- ۳
- ۴

هوش ریاضی



تست

کدام گزینه به جای علامت سوال قرار می گیرد؟

پ		پ
ه		ر
خ		چ

ت		ث
ژ		ث
آ		خ

چ		چ
ز		؟
د		ج

- ۱
- ۲
- ۳
- ۴

هوش ریاضی



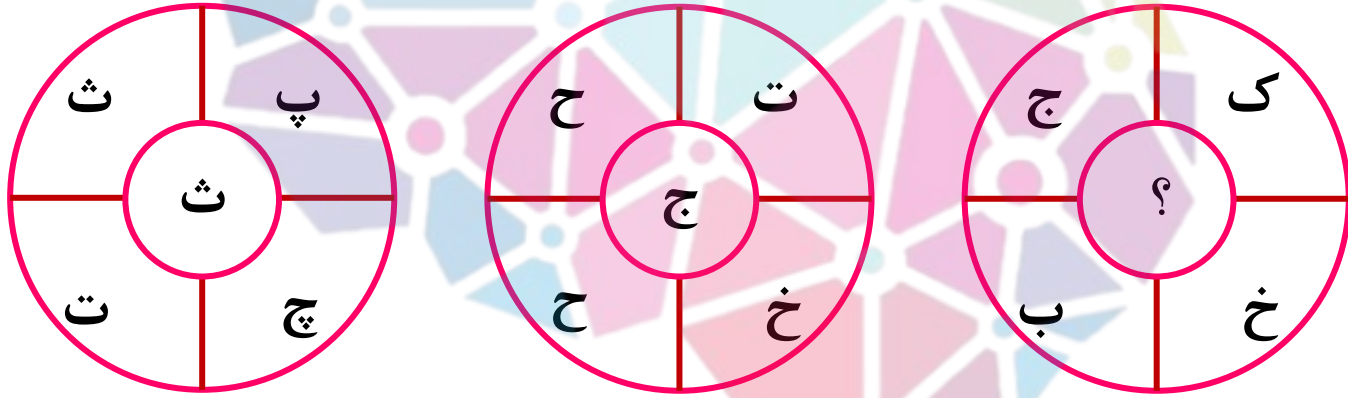
هوش سلند

سرزمین تیزهوشان ایران



تست

کدام گزینه به جای علامت سوال قرار می گیرد؟



- ۱ ب
- ۲ الف
- ۳ پ
- ۴ ج

هوش ریاضی



هوش‌شوند

سرزمین تیزهوشان ایران

