

۱. کدام شکل با بقیه متفاوت است؟



(۴)



(۳)



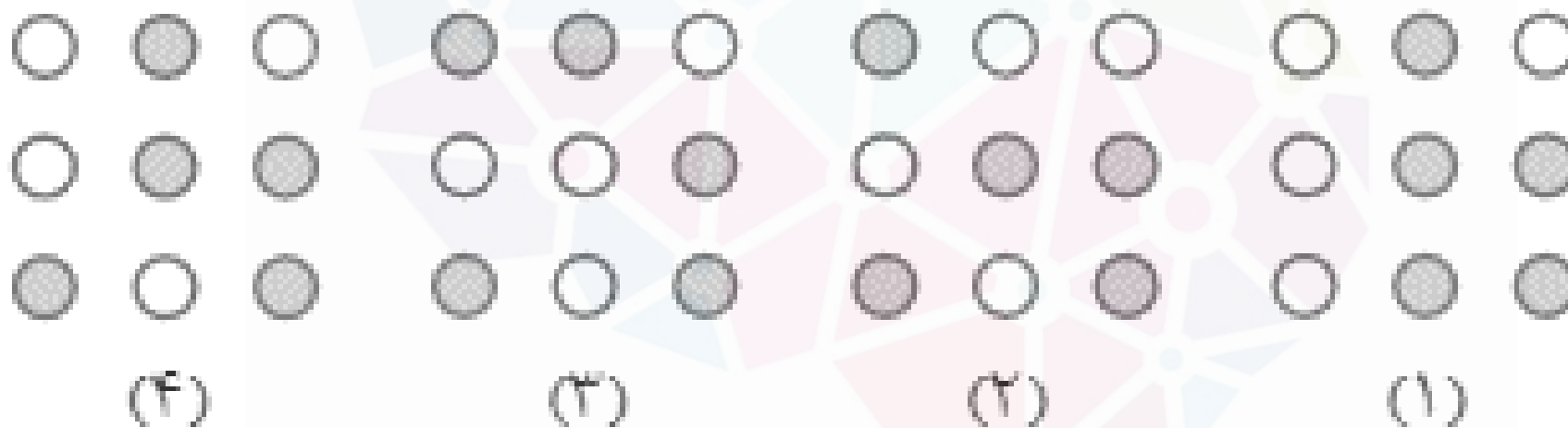
(۲)



(۱)

هوشلند

۲. کدام شکل با بقیه متفاوت است؟



هوشلند

۳. کدام شکل با بقیه متفاوت است؟



هوشلند

۴. کدام شکل با بقیه متفاوت است؟



(۴)



(۳)



(۲)



(۱)

هوشلند

۵. کدام شکل با بقیه متفاوت است؟



(A)



(B)



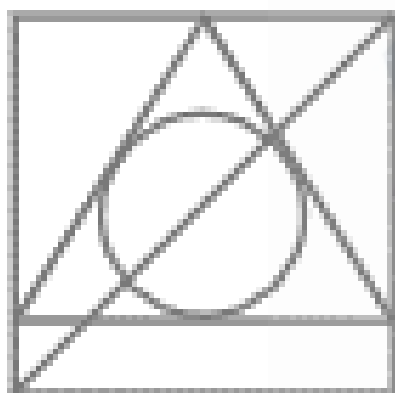
(C)



(D)

هوشلند

۶. کدام شکل با بقیه متفاوت است؟



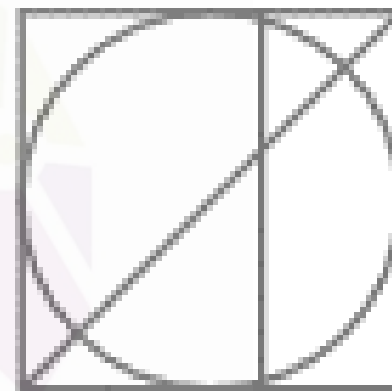
(A)



(B)



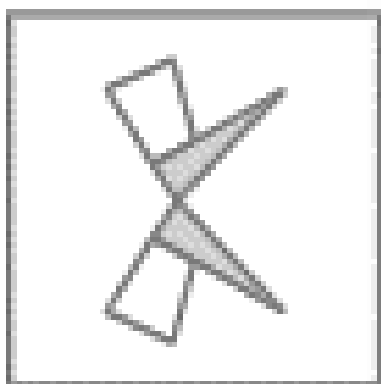
(C)




(D)

هوشلند

۷. کدام شکل با بقیه متفاوت است؟



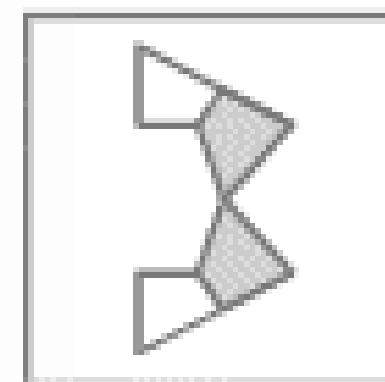
(ا)



(ب)




(ج)




(د)

هوشلند


۸. کدام شکل با بقیه متفاوت است؟




(۴)



(۳)



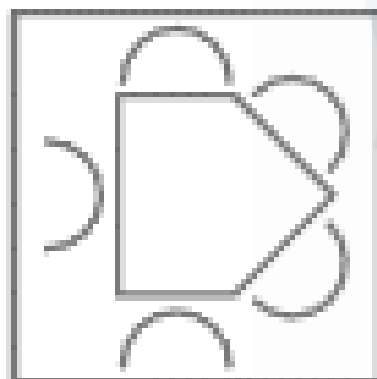
(۲)



(۱)

هوشلند

۹. کدام شکل با بقیه متفاوت است؟



(A)



(B)



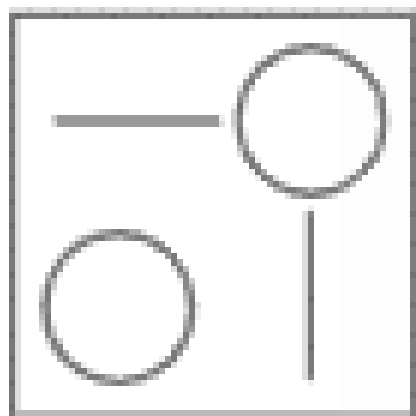
(C)



(D)

هوشلند

۱۰. کدام شکل با بقیه متفاوت است؟



(۴)



(۳)



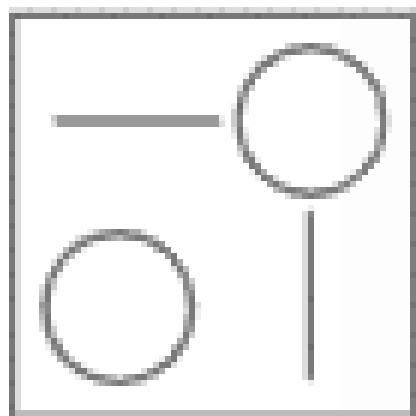
(۲)



(۱)

هوشلند

۱۰. کدام شکل با بقیه متفاوت است؟



(۴)



(۳)



(۲)



(۱)

هوشلند

۱- **گزینه ۱** فقط در گزینه (۱) دایره وسطی بر دایره بیرونی مماس شده است، در صورتی که در بقیه گزینه‌ها چنین نیست.

۲- **گزینه ۳** در گزینه‌های (۱)، (۲) و (۴) در ردیف اول از بالا، یک دایره رنگی، در ردیف دوم، دو دایره رنگی و در ردیف سوم، دو دایره رنگی داریم؛ اما در گزینه (۳) تعداد دایره‌های رنگی در هر ردیف به ترتیب برابر است با دو، یک و دو.

۳- **گزینه ۴** در همه گزینه‌ها به جز گزینه (۴)، دو طرف از چهار طرف تصویر، انحنای کوچکی دارند.

۴- **گزینه ۲** تعداد خطوط موازی در گزینه (۲)، دو خط و در سایر گزینه‌ها ۳ خط است.

۵- **گزینه ۱** در همه گزینه‌ها به جز گزینه (۱) شکل درونی، یک ضلع بیشتر از شکل بیرونی دارد.

۶- **گزینه ۲** در همه شکل‌ها، یک قطر مربع بیرونی رسم شده است،

۷- **گزینه ۲** در همه گزینه‌ها به جز گزینه (۲)، ۲ تصویر رسم شده نسبت به خط افقی فرضی وسط آن‌ها، قرینه یکدیگرند.

۸- **گزینه ۳** همه گزینه‌ها به جز گزینه (۳)، شکل خط تقارن افقی دارد.

۹- **گزینه ۱** در همه گزینه‌ها به جز گزینه (۱)، دهانه سه شکل U مانند به سمت درون ۵ ضلعی و ۲ تایی دیگر به سمت بیرون ۵ ضلعی است.

۱۰- **گزینه ۱** در گزینه (۱)، شکل‌های مساوی به صورت مستقیم قابل انطباق‌اند، ولی در گزینه‌های دیگر نمی‌توان این انطباق را ایجاد کرد.