

جزوه و سوالات

ریاضی دوم

جلسه اول خانم طاهری



نکته های این جلسه:

برای شمارش اشکال و اشیاء:

باید آنها را به ترتیب بشماریم

هر کدام را فقط یکبار بشماریم


آخرین عددی را که شمارش کردیم،
نشان دهنده تعداد آنهاست.



مثال ۲: عزیزم بیا اینبار باهم انگشتای دست رو بشماریم.



مثال ۱: بیا باهم بچه پنگوئن ها را بشماریم.



مثال ۳: عزیزم بگو چینه ها چه عددی رو نشون میدن؟



مثال ۴: عزیزم شما چندتا چوب خط توی

صفحه

می بینید؟



مثال ۶: گلم چندتا پروانه اطراف دسته گل می بینی؟




مثال ۵: عزیز دلم برام بنویس، چندتا توپ توی دروازه میبینی؟


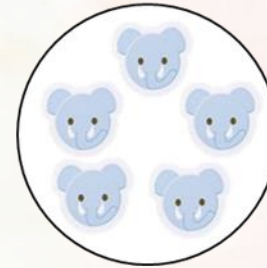



طراحی

تمرین ۱: گل قشنگم عددهارا از کمترین به
بیشترین مرتب کن.



مثال ۸: شکل هارو رورا با هم مقایسه کن.



تمرین ۲: قشنگم جدول شگفت انگیز رو حل کن.

۸		۶		۳		۱		۷
۴	۱		۶	۸	۲		۵	
	۵	۳	۱	۴	۸			۶
۷		۴	۸	۲	۶	۳		
	۶		۳	۴	۷		۹	۱
۱	۳		۵	۹	۴			
۳		۱	۲	۵	۷			۹
۲		۵		۹	۶		۱	۴
	۷			۱		۵	۸	



۱			۹		۴		۸	۲
	۵	۲	۶			۳		
۸	۶	۴	۲			۹	۱	
	۱			۴	۹	۸		۶
۴	۹	۸	۳			۷		۱
۶		۷		۱			۹	۳
	۸	۶		۳	۵	۲		۹
۵		۹			۲	۱	۳	
	۳		۴	۹	۷			۸

تمرین ۳: در محور عدد زیر، ستاره چه عددی رو نشون میده؟



تمرین ۴: روی کیک علی و مانا و سارا و پرهام به اندازه سنشون شمع قرار داره. سن کدومشون از بقیه بیشتره؟



سارا



علی



پرهام



مانا




تمرین ۵: علامت (=) را در کدام یک از جاهای خالی می توان قرار داد؟

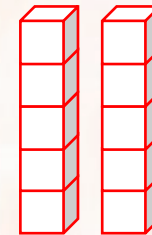
تمرین ۶: اختلاف رقم های روی بال کدام زنبور از بقیه کم تر است؟



##/



(۱)



(۲)



(۳)

//



(۴)



خسته نباشی
عزیز دلم

طاهری