

جزوه جلسه دوم  
شمارش چندتا چندتا



## شمارش چندتا چندتا:


❖ شمارش چند تا چند تا پرکاربردترین الگوهاست!

نکته: 

در شمارش چندتا چندتا می توان به **روش های گوناگون**، شکل ها و یا اشیا را **دسته بندی** کرده

به راحتی آن ها را **شمارش** کرد و الگوی آنها را نوشت. 


نکته:

**هفته** روز است که شامل: **شنبه**، **یکشنبه**، **دوشنبه**، **سه شنبه**، **چهارشنبه**، **پنج شنبه** و **جمعه** است. 

نکته:

**هر سال** شامل ۱۲ ماه و ۴ فصل است. **هر فصل**، شامل ۳ ماه است. 

نکته:

**مهر** ماه اول سال شامل، **فروردین**، **اردیبهشت**، **خرداد**، **تیر**، **مرداد**، **شهریور** می باشد که هر کدام ۳۱ روز دارد. 

نکته:

**پنج ماه دوم سال** شامل، **مهر**، **آبان**، **آذر**، **دی** و **بهمن** می باشد که، هر کدام ۳۰ روز دارد. 

نکته:

اسفند، ۲۹ روز دارد و **هر ۴ سال**، ۳۰ روزه می باشد.





برای الگوهای شمارشی زیر جمع و الگوی مناسب بنویس.



در برابر هر شیشه نوشابه فرهاد، مسعود ۳ شیشه نوشابه جمع کرده است.  
فرهاد **نه** شیشه نوشابه دارد. مسعود چند شیشه نوشابه دارد؟



زهرا گل هایی با رنگ های مختلف نقاشی می کند. اولین گل **آبی**، دومین گل سفید سومین گل **قرمز** و گل بعدی **زرد** است و دوباره به همین ترتیب گل های بعدی را رنگ میکند.  
رنگ **بیست و نهمین** گلی که زهرا نقاشی می کند کدام است؟



امروز چهارشنبه است، **۶** روز قبل چه روزی بوده است؟



اگر امروز پنج شنبه، هشتمین روز از ماه باشد. **۱۲** روز دیگر، چه روز و چه تاریخی است؟



اگر امروز **۱۰** آبان باشد، **۲۴** روز بعد چندم ماه است؟




اولین روز یک ماه **۳۰** روزه دوشنبه است. این ماه **چند دوشنبه** دارد؟





## تمرین:

۱: برای الگوهای شمارشی زیر یک جمع مناسب بنویسید و آن را دسته بندی کنید و سپس الگوی آن نیز ذکر کنید.



۲: الگوی زیر را ادامه دهید.

۵، ۳، ۶، ۴، ۷، ۵، ۸، .....، .....، .....

۱۶، ۱۹، ۲۲، ۲۵، .....، .....، .....

.....، .....، .....، .....، ۳۴، ۴۲، ۵۰



۳: اگر امروز پنجشنبه، آخرین روز ماه اسفند باشد، چند پنجشنبه در ماه اسفند وجود دارد؟

۴: اگر امروز ۱۵ آبان و روز یکشنبه باشد، تا آخر آبان چند یکشنبه دیگر وجود دارد؟

۵: امروز ۷ تیر و دوشنبه است. ۲۷ روز دیگر چه تاریخ و چه روزی است؟

ظاهری

