



هوش‌شاند

سرزمین تیزهوشان ایران

مرتضی طاهری





در این تیپ سوالا دنبال شباهت و تفاوت ها هستیم
 خوب حواسم به چیا باشه؟؟؟
 (۱) اجزای تصاویر
 (۲) هاشور و رنگ
 (۳) قیافه شکل ها




هوشلند


سرزمین تیزهوشان ایران

مرتضی طاهری






۱



۲



۳



۴

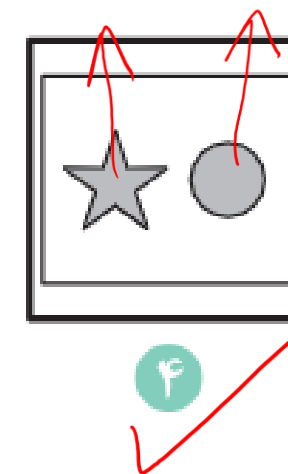
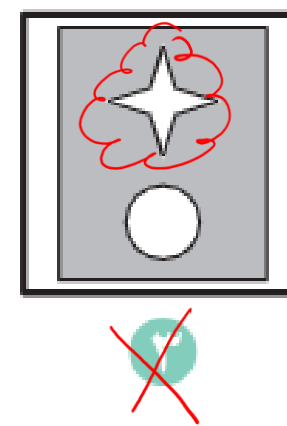

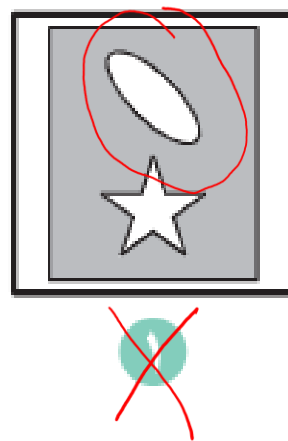
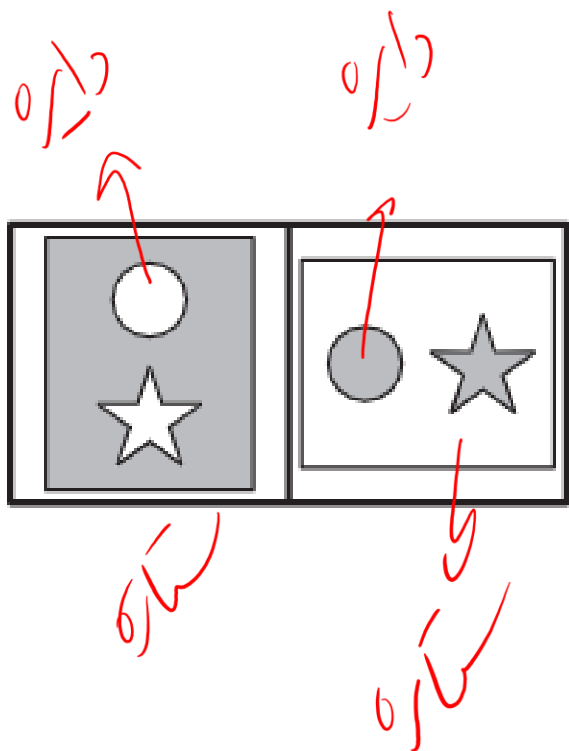


هوشلند

سرزمین تیزهوشان ایران

مرتضی طاهری







موقع انتخاب تصویر حواسم به نکات زیر باشه

(۱) روی اجزای تشکیل دهنده یه علامت بذار

(۲) اگه چیز قابل شمارشی بین اجزای تشکیل دهنده دیدی حتما علامت بزن

(۳) ویژگی های مشترک رو نگاه کن

(۴) بی خیال فکرای خفن شو

(۵) اگه یه ویژگی مشترک بین چند تا شکل دیدی ممکنه به کارت بیاد





اگه یه تصویر از چند تا شکل تشکیل شده بود ، تک تک اجزای تشکیل دهنده رو جدا

جدا بررسی کن

Handwritten red annotations above the diagrams:

- ۵ ضلعی (5-sided)
- ۴ ضلعی (4-sided)
- ۴ ضلعی (4-sided)
- ۳ ضلعی (3-sided)
- ۷ ضلعی (7-sided)

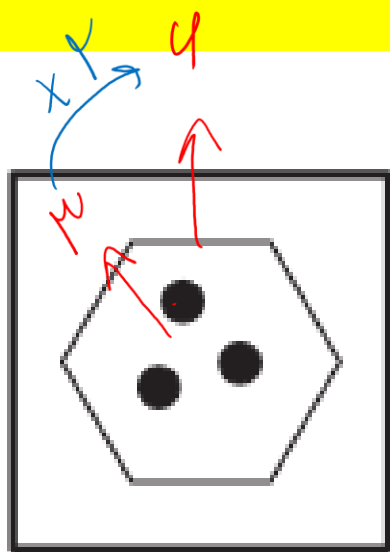
1 2 3 4 5



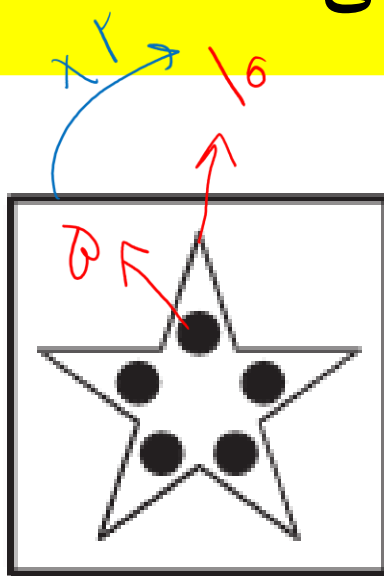
بعضی وقتا بررسی چداگانه اجزای تصاویر کمک نمی کنه . در این مواقع



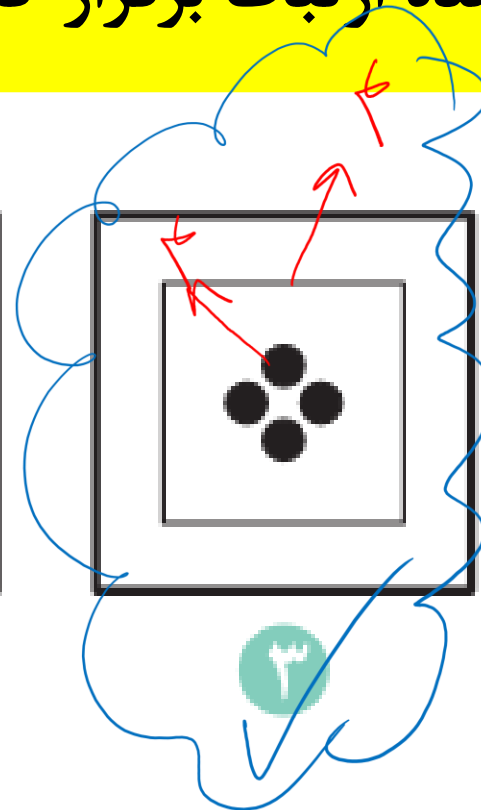
سعی کن بین اجزای تشکیل دهنده ارتباط برقرار کنی



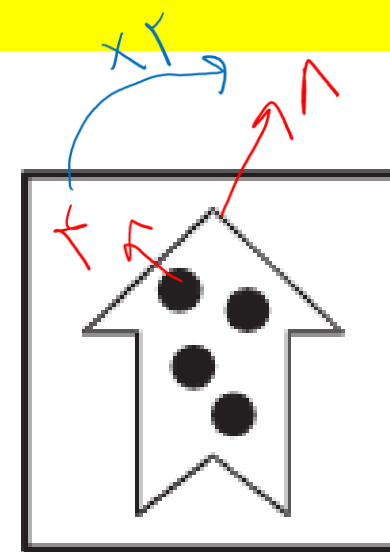
۱



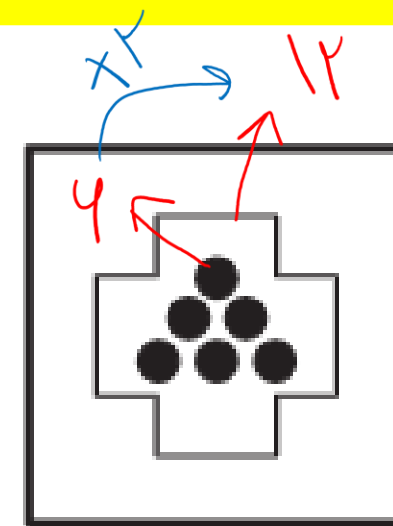
۲



۳



۴



۵



هوشلند

سرزمین نيزهوشان ايران

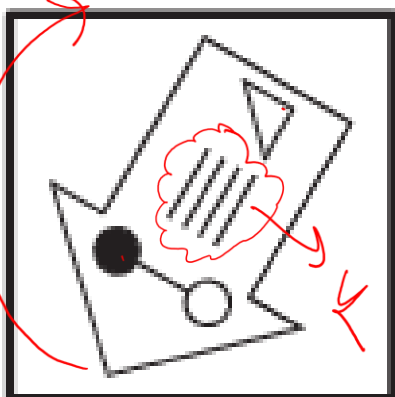
مرتضى طاهرى



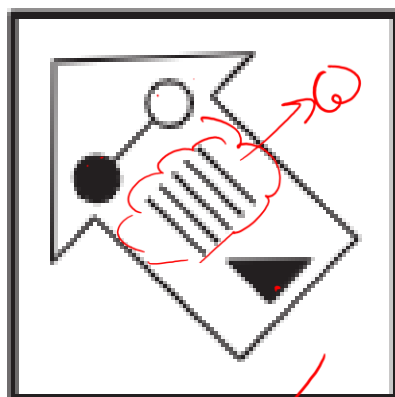
بعضی وقتا بررسی جز به جز شکل ها یا ترکیب اون ها و یا رابطه ی بین اجزای سازنده



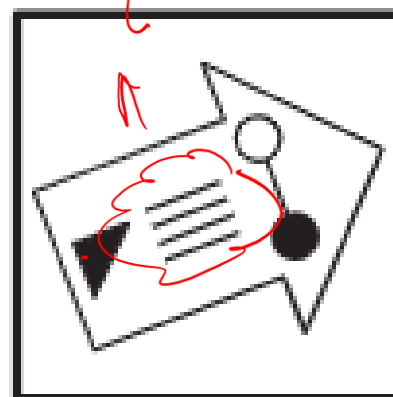
ممکنه جواب نده . باید بری سراغ فن آخر استاد (دوران = حرفی)



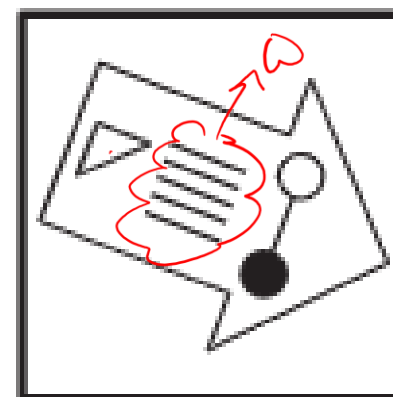
۱



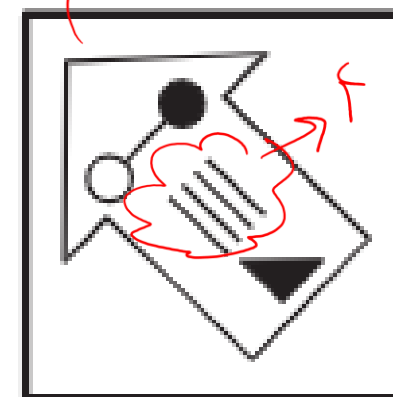
۲



۳



۴



۵



هوشلند

سرزمین نیهوشان ایران

مرتضی طاهری



01

تغییرات



05

تعداد شکل ها



02

جهت



06

خطوط صاف یا منحنی



03

تعداد اضلاع



07

بالا و پایین بودن



04

خطوط نمای بیرون



08

پشت و رو بودن اشکال




تصویر

متفاوت

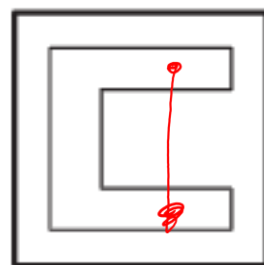




کدام گزینه با سایر گزینه ها متفاوت است؟



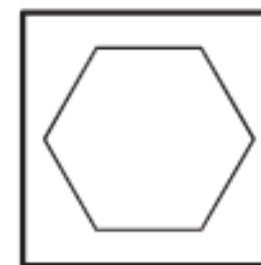
(۵)



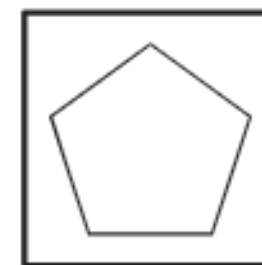
(۴)



(۳)



(۲)



(۱)



هوشلند

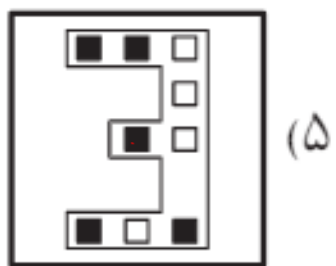
سرزمین نیزهوشان ایران

مرتضی طاهری

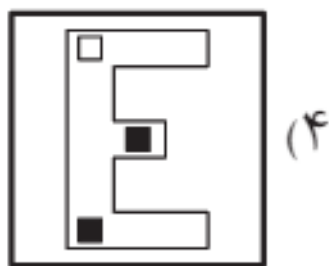




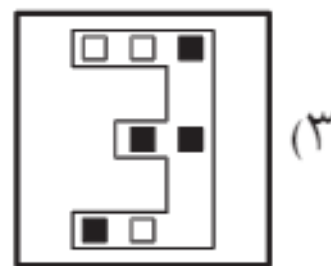
کدام گزینه با سایر گزینه ها متفاوت است؟



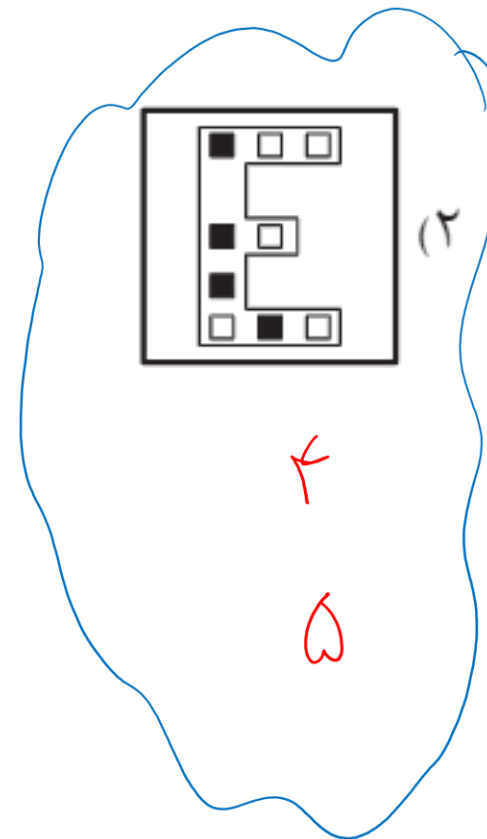
(۵)



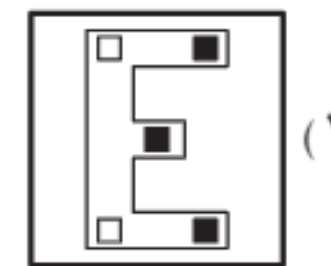
(۴)



(۳)



(۲)



(۱)

۵
۴
شبه
تفاوت

۲
۱

۴
۳

۴
۵

۳
۲



هوشلند

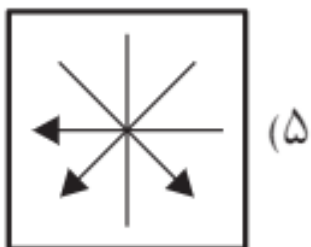
سرزمین نیزهوشان ایران

مرتضی طاهری

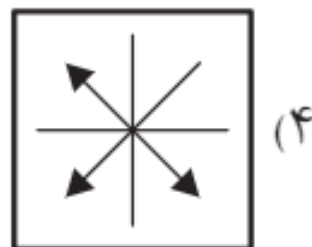




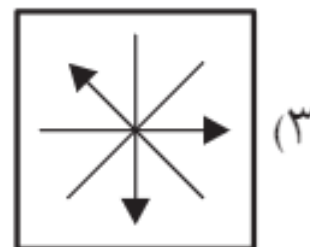
کدام گزینه با سایر گزینه ها متفاوت است؟



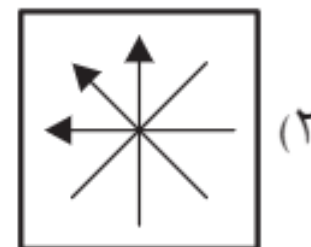
(۵)



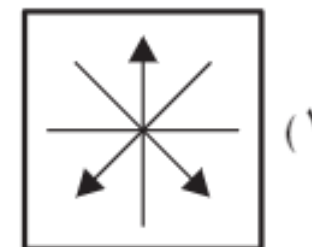
(۴)



(۳)



(۲)



(۱)

گزینه ۱



هوشلند

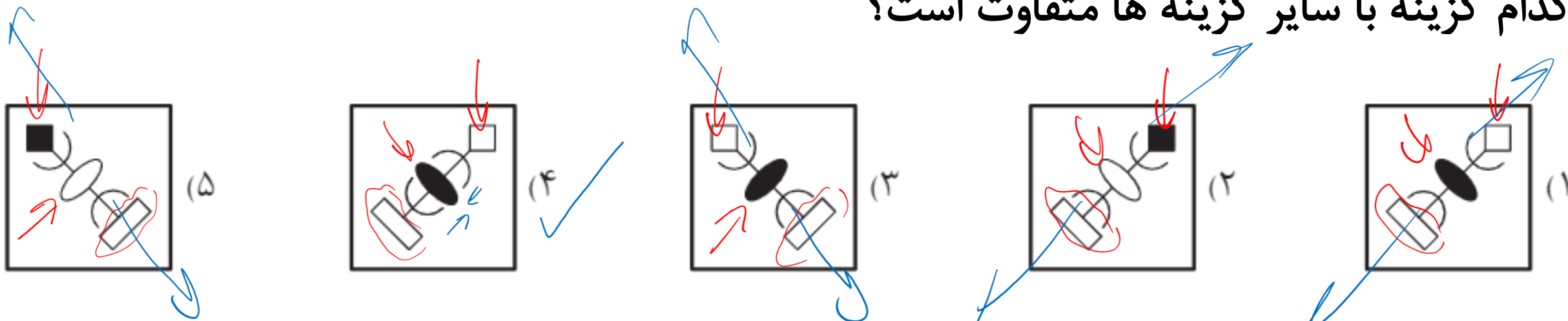
سرزمین نیزهوشان ایران

مرتضی طاهری





کدام گزینه با سایر گزینه ها متفاوت است؟

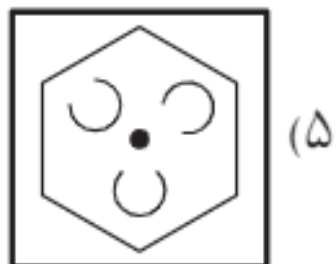


تو گام گزینه ها بخم واره های بی هم هستی وی تو گام ۴
 (وی هم هستی)

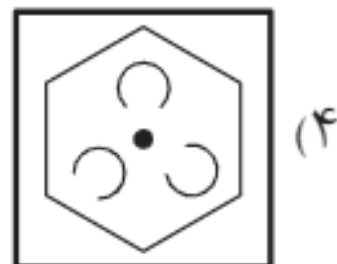




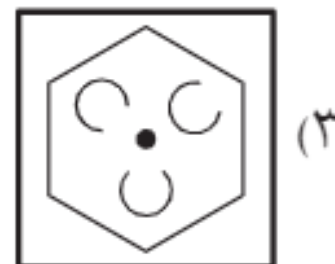
کدام گزینه با سایر گزینه ها متفاوت است؟



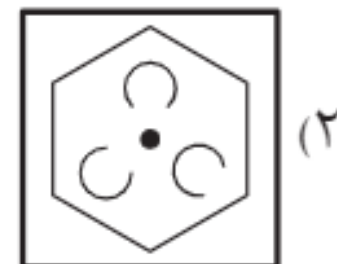
(۵)



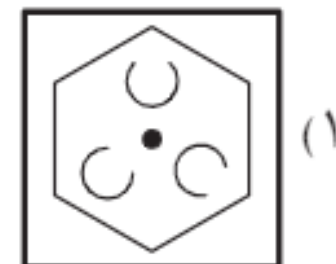
(۴)



(۳)



(۲)



(۱)



هوشلند

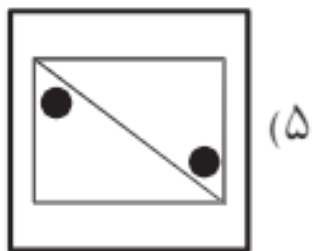
سرزمین تیزهوشان ایران

مرتضی طاهری

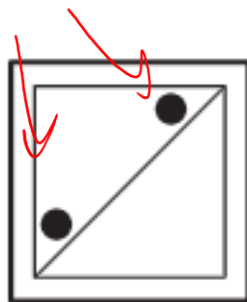




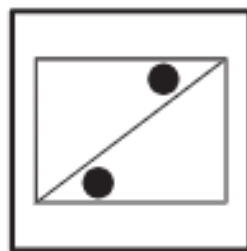
کدام گزینه با سایر گزینه ها متفاوت است؟



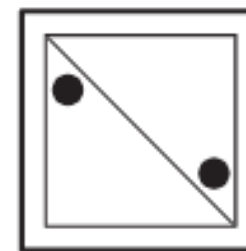
(۵)



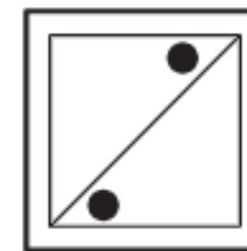
(۴)



(۳)



(۲)



(۱)



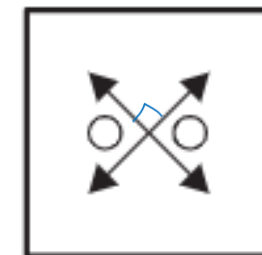
نقطه ها داخل دوآت هستی



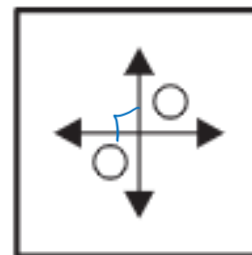


کدام گزینه با سایر گزینه ها متفاوت است؟

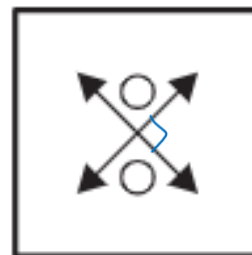
۲



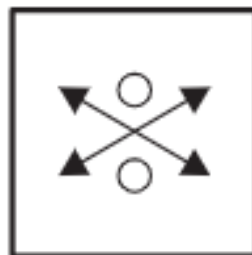
۱ >



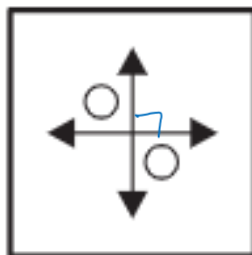
۲



۳



۴

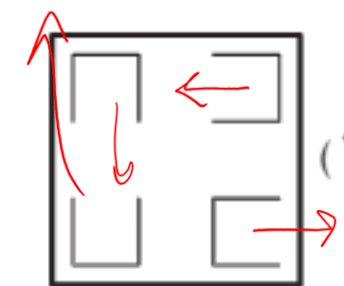

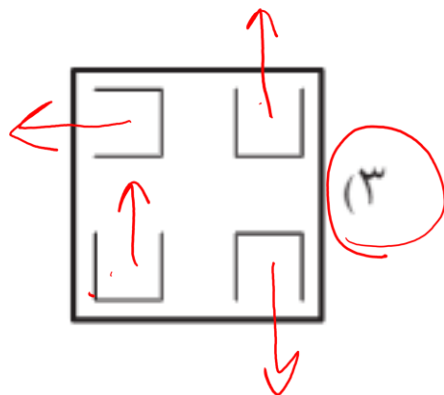
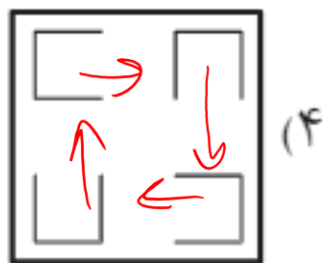
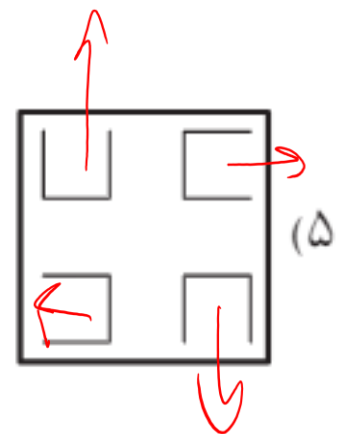


۵





کدام گزینه با سایر گزینه ها متفاوت است؟



۳

