



هوش پیشرفته مهم



سوالات تیزهوشان و نمونه دولتی نهم به دهم ۱۴۰۳

هوش محاسباتی	هوش تصویری	هوش کلامی	هوش منطقی
۲۲	۱۳	۸	۷



1+1=2
1x2=
x=+

هوش پيشرفته نهم




هوش مالتیپل

.. تیز هوشان نهم ..

هوش تصویری
 وقتی دو اشکال مختلف همبندی نفس در یک درختن، یا انتخاب یکین چینی که در یک کاسه
 می توانکند، آنگاه این امر نیز فریب و هوش (عقل) را به دست می آید که با هوش تصویری است
 که به کار می آید. این قابلیت است.

هوش ریاضی

آنگاه قوی می شود که سواد را به ریاضی می شناسد هوش
 ریاضی که به کار می آید به این معنی است، هوش به معنی



هوش کلامی

و این که هوش او
 می خواند و می بیند
 خوب خوب خوب
 می خواند به معنای
 ریاضی است
 نوی حرف زدند
 همه است در این
 این است که این است
 خوب که این است

استدلال و منطقی

وقتی استدلال و منطق خوبی داشته
 باشد آنگاه از دست می آید و هوشی است

اباصت نوراللهی

این تیز می زد هوش
 که در این است



هوش پیشرفته نهم

انواع سوالات دنباله های عددی در آزمون تیزهوشان

1

الگوهای مشهور

2


بازی با ارقام

3

اعداد و حروف

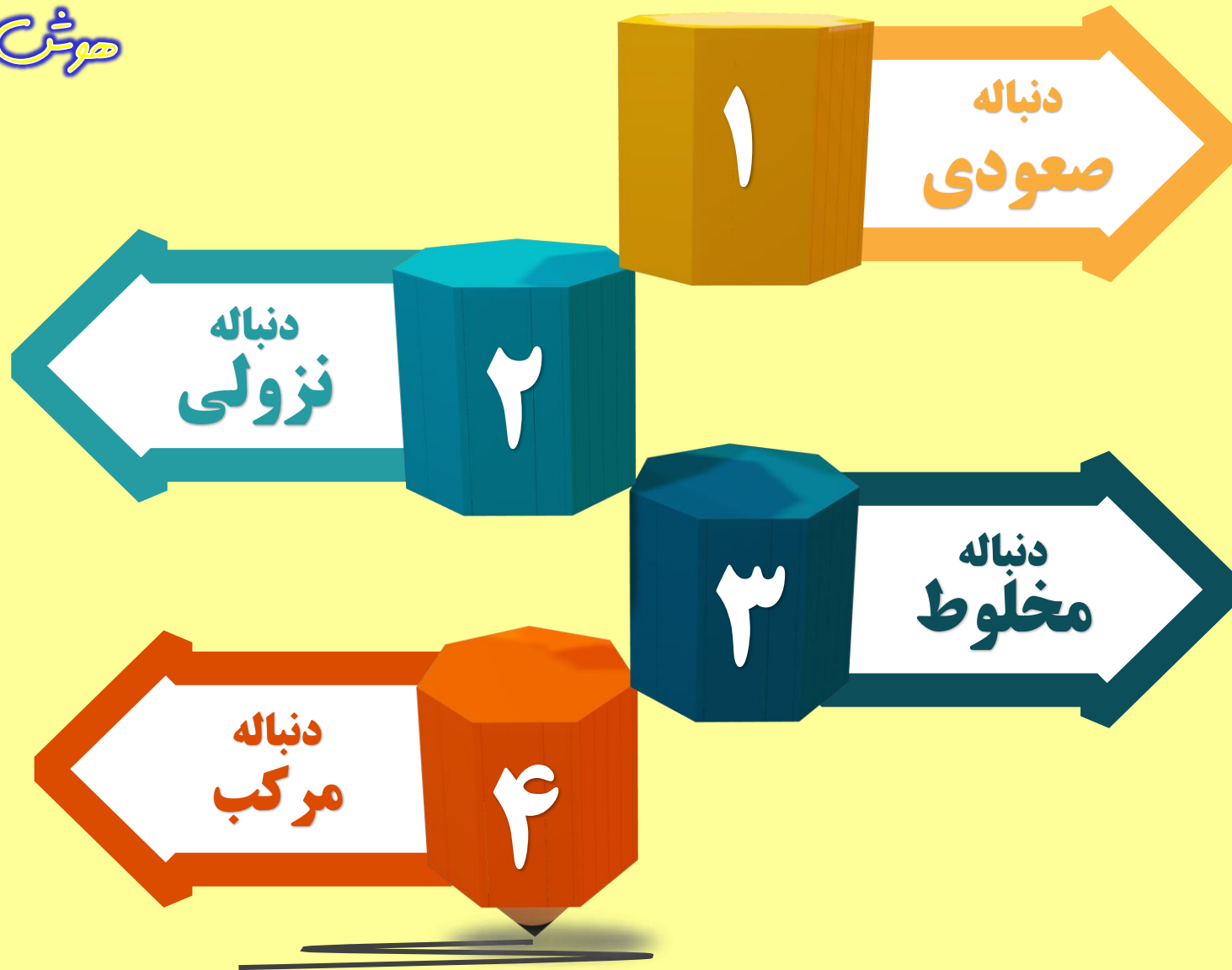


هوش پسرانه نهم





هوش پیشرفته نهم





انواع سوالات دنباله های اعداد و حروف در آزمون تیزهوشان

1

اعداد به اعداد و
حروف به حروف ربط
داشته باشند

2

اعداد و حروف به هم
ربط داشته باشند



جدول حروف الفبا به همراه شماره آن ها

ش	س	ژ	ز	ر	ذ	د	خ	ح	چ	ج	ث	ت	پ	ب	الف
۱۶	۱۵	۱۴	۱۳	۱۲	۱۱	۱۰	۹	۸	۷	۶	۵	۴	۳	۲	۱

ی	ه	و	ن	م	ل	گ	ک	ق	ف	غ	ع	ظ	ط	ض	ص
۳۲	۳۱	۳۰	۲۹	۲۸	۲۷	۲۶	۲۵	۲۴	۲۳	۲۲	۲۱	۲۰	۱۹	۱۸	۱۷

تست

با توجه به الگوی زیر مجموع * و # کدام است ؟

$$7^3 + 3^7 = 110$$

x^2+1 x^2+1 x^2+1

۶ ، ۱۳ ، ۳۱ ، ۶۳ ، ۳۶ ، * ، # ۳۷

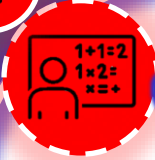
مقلوبه مقلوبه 7^3

۱۱۰ (۴)

۱۰۶ (۳)

۱۰۴ (۲)

۱۰۰ (۱)



هوش پيشرفته نهم

تست

با توجه به الگوی زیر علامت سوال کدام است ؟

$17, 25, 15, 21, 19, 29, ?$

Handwritten annotations: $+18$ (above 17), $+4$ (above 25), $+10$ (above 15), -10 (below 17), -2 (below 21), -18 (below 29). A double vertical line is next to the question mark.

۱۰ (۴)

۱۱ (۳) ✓

۱۲ (۲)

۱۳ (۱)

Handwritten notes in red: $+ : \text{جمع ارقام}$ and $- : \text{از حاصل فر. ارقام}$

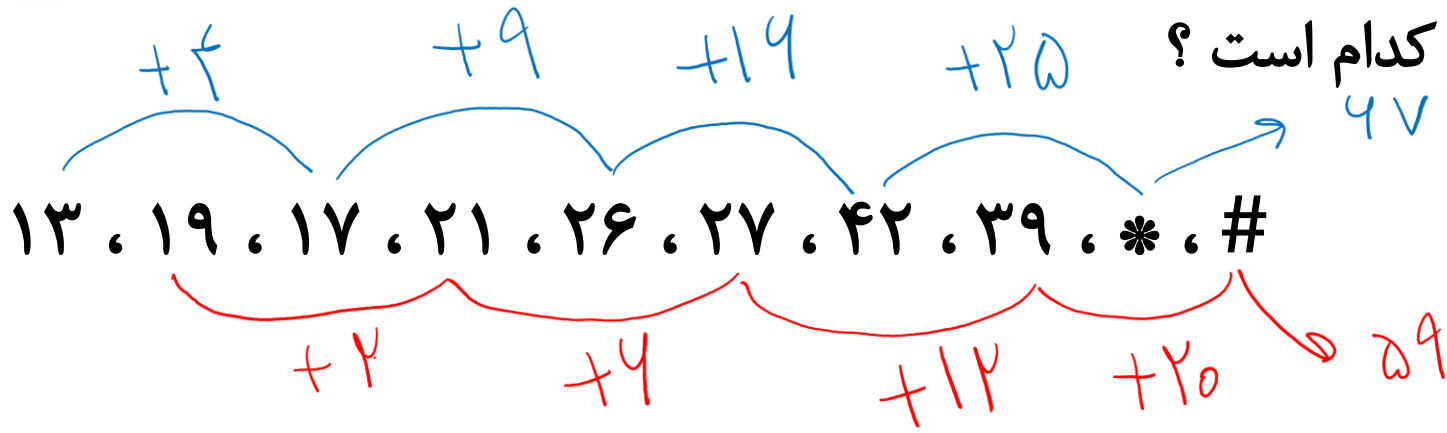


هوش پسرانه نهم

تست

هوش پسرانه نهم

با توجه به الگوی زیر مجموع # و * کدام است ؟



۱۲۸ (۴)

۱۲۷ (۳)

۱۲۶ (۲)

۱۲۵ (۱)



هوش‌لند

موسسه تخصصی آموزش و پرورش



تست

با توجه به الگوی زیر علامت سوال کدام است ؟

$$37, 42, 50, 63, 84, ? \quad 118$$

(Handwritten annotations above the sequence: +5, +7, +12, +21, +36)

۱۱۵ (۴)

۱۱۶ (۳)

۱۱۷ (۲)

۱۱۸ (۱) ✓



هوش پرفتنه نهم

تست

با توجه به الگوی زیر علامت سوال کدام است ؟

$5, 6, 16, 57, 244, ?$

$+1 \times 1$
 $+2 \times 2$
 $+3 \times 3$
 $+4 \times 4$
 $+5 \times 5$

1275

۱۲۷۵ (۴) ✓

۱۲۶۵ (۳)

۱۲۴۵ (۲)

۱۲۳۵ (۱)



هوش پسرانه نهم

تست

با توجه به الگوی زیر علامت سوال بر چند عدد بخش پذیر است؟

۲۳ ، ۲۹ ، ۴۷ ، ۷۵ ، ؟

۴ (۱)

۵ (۲)

۶ (۳)

۷ (۴)

عدد ۱



تست

با توجه به الگوی زیر کدام گزینه به جای علامت سوال قرار می گیرد؟


۲۳ ، ۲۹ ، ۴۷ ، ۷۵ ، ؟

۷ (۴)

۶ (۳)

۵ (۲)

۴ (۱)



تست

کدام گزینه به جای علامت سوال قرار می گیرد؟

- ۱ ع
- ۲ ه
- ۳ فا
- ۴ ف

ع
↓
۱

ز
↓
۱ ۲

ح
↓
۱

ث
↓
۵

پ
↓
۳

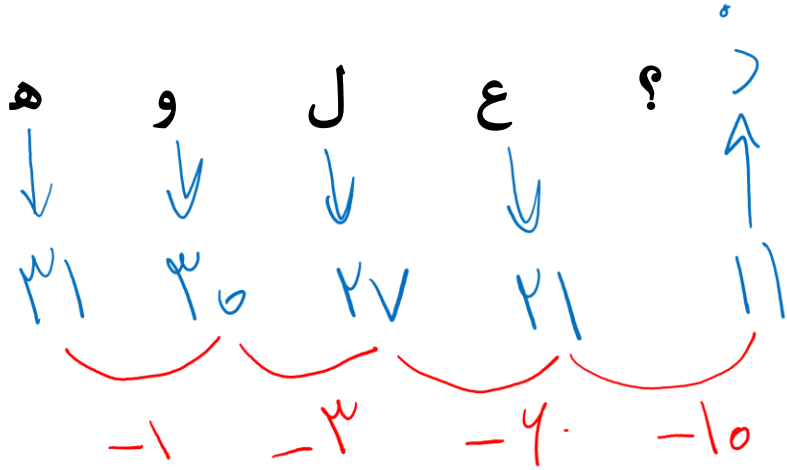
ب
↓
۱



هوش پشرفته نهم

تست

کدام گزینه به جای علامت سوال قرار می گیرد؟



- د ۱
- ن ۲
- ر ۳
- ز ۴



هوش پشرفته نهم





هوش پشرفته نهم

تست

کدام گزینه به جای علامت سوال قرار می گیرد؟

۳۲	۱۳	۱۴
(۳ ۲)	(۱۳)	(۱۴)
پ ب	۱۳	الف خ
۴	۲۶	۹۱
(۴ ۵)	(۲۶)	(۹۱)
ج ث	۲۶	خ الف
۵	۲۵	۲۵
(۵ ۶)	(۲۵)	(۲۵)
ت ح	۲۵	ب پ
۳	۳۵	۳۵
(۳ ۴)	(۳۵)	(۳۵)
ث ب	۳۵	ح ؟

$$91 - 40 = 24$$

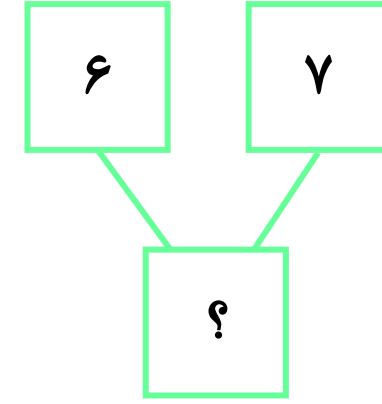
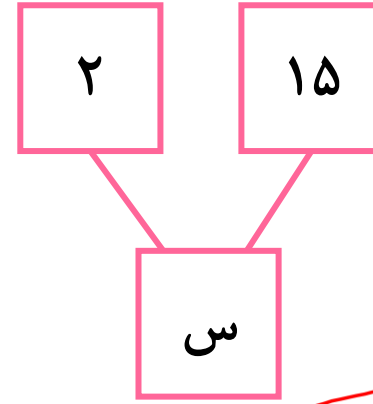
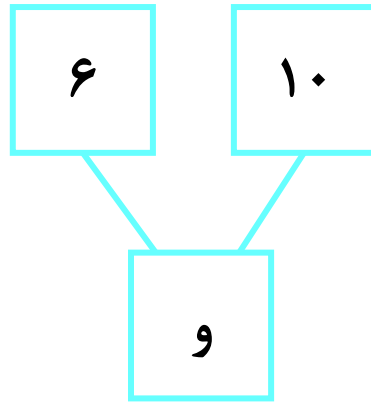
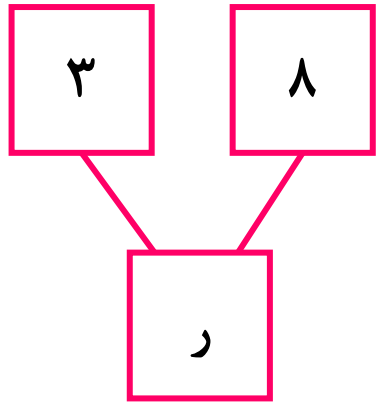
$$100 - 02 = 22$$

- ۱ س
- ۲ د
- ۳ چ
- ۴ ر



تست

کدام گزینه به جای علامت سوال قرار می گیرد؟



- ۱
 - ۲
 - ۳
 - ۴
- ع
ق
ص
ژ

کدام ۲

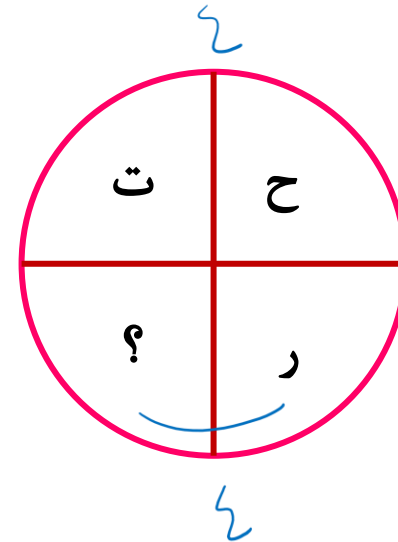
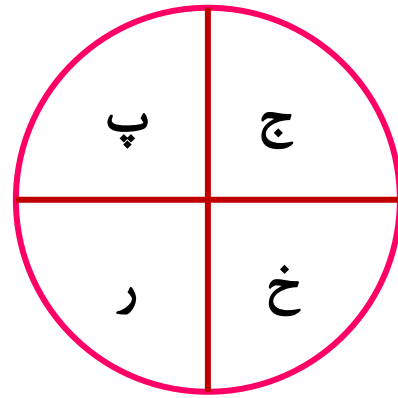
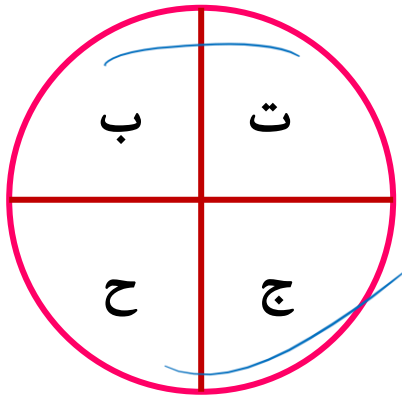


هوش پسرانه نهم



تست

کدام گزینه به جای علامت سوال قرار می گیرد؟



- ۱ ش
- ۲ گ
- ۳ ع
- ۴ غ

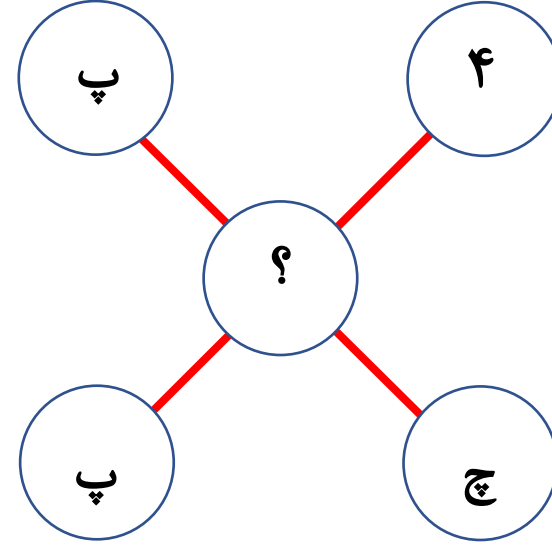
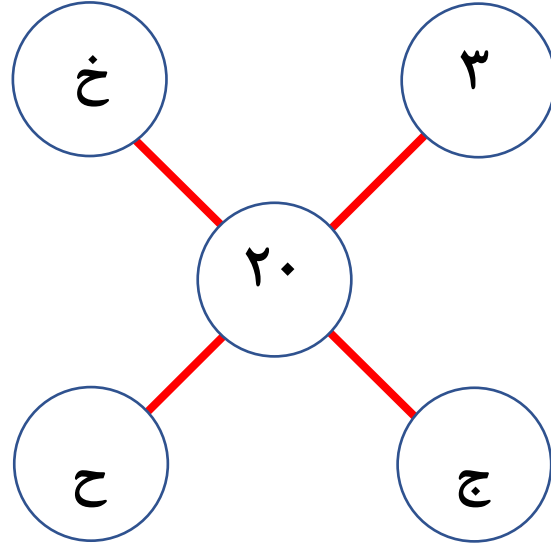
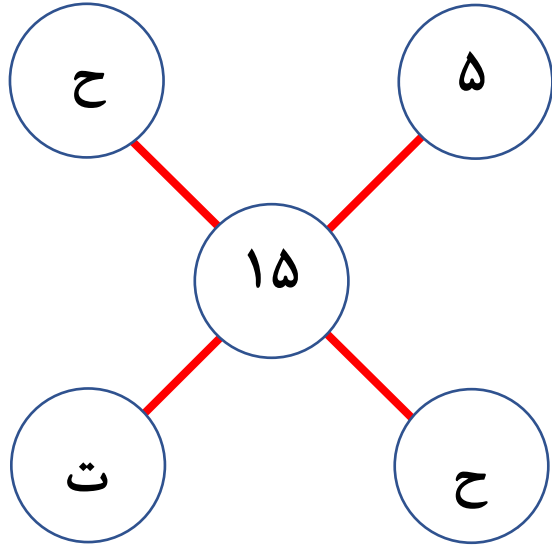


هوش پشرفته نهم



تست

کدام گزینه به جای علامت سوال قرار می گیرد؟



- ۱
 - ۲
 - ۳
 - ۴
- ۸
۶
۹
۷



هوش پشرفته نهم