



**هوشلاند**

سرزمین تیزهوشان ایران

پایه ششم و پنجم

ویرایش جدید ویژه آزمون ۱۴۰۳

مؤلف: دکتر علی قصاب

**هوش فرازمینی ET**

کتابی سرنوشت ساز برای قبولی در آزمون تیزهوشان

انطباق کامل و پوشش ۱۰۰٪ سؤالات آزمون سمپاد در سال ۱۴۰۲  
منطبق با ساختارهای جدید سؤالات هوش چندگانه

شامل بیش از ۳۴۵ مبحث و ۵۷۰۰ سؤال هوش، همراه با پاسخ نامه تشریحی  
هوش زبانی (هوش کلامی - هوش واژگانی - هوش ادبی - استعداد درک مطلب)  
هوش ریاضی (هوش عددی - هوش محاسباتی - هوش منطقی - هوش ترکیباتی - استعداد کفایت داده ها)  
هوش شهودی (هوش تصویری و غیرکلامی - هوش هندسی - هوش فضای)  
هوش طبیعی (هوش تجربی - هوش مهندسی - هوش استنباطی)  
استعداد دقت و تمرکز (ترجمه و تناظر)

بررسی و تحلیل سؤالات آزمون تیزهوشان سال های اخیر

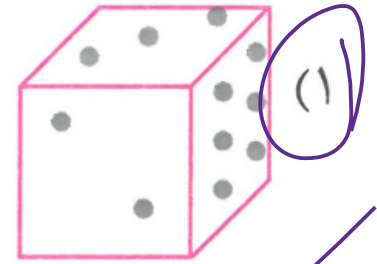
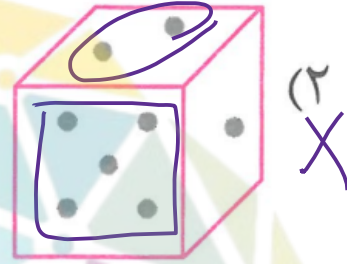
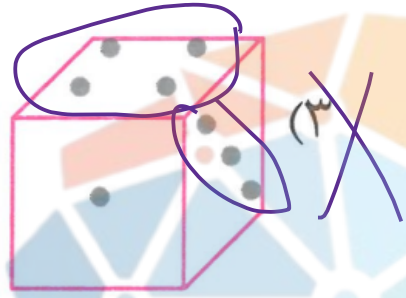
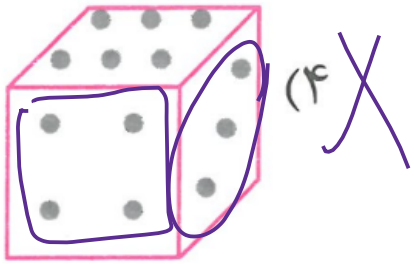
درسنامه کامل



**استاد وحید اسدی کیا**



۲۷۶۴. کدامیک از تاس‌های زیر ممکن است، استاندارد باشد؟



لکون از ۱ تا ۶  
تاس‌ها لزوماً  
۲۷۶۴

مفوشند  
سرزمین تیزهوشان ایران



کتاب دوم

# کوشش شهودی

■ هوش تصویری

■ هوش هندسی

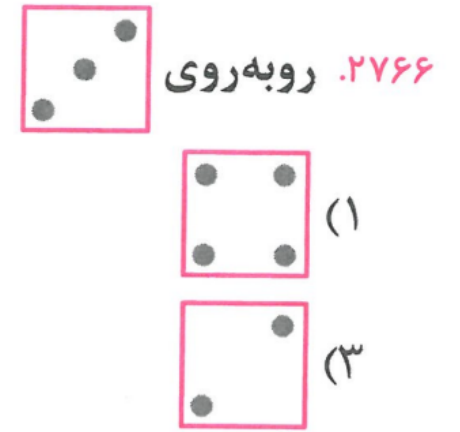
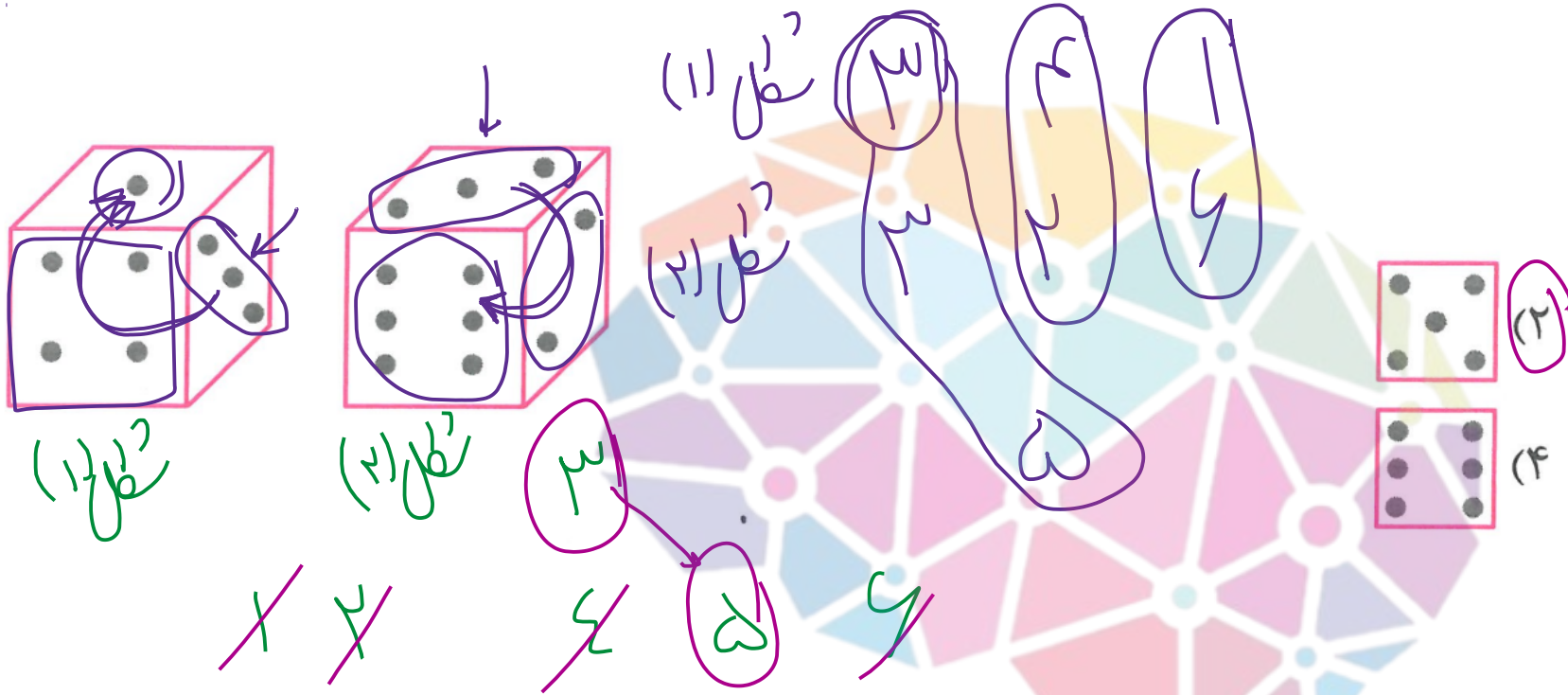
■ هوش فضایی

■ آزمون‌های هوش شهودی

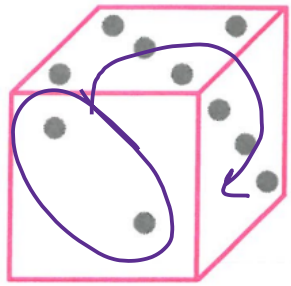
استاد وحید اسدی کیا



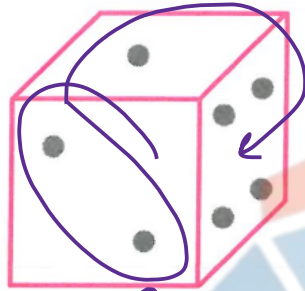










دو (۱)




دو (۲)




۳




۵



۲۷۶۷ روبه روی



(۱)



۴

دو (۱)

دو (۲)

۲  
۳  
۴  
۵  
۶

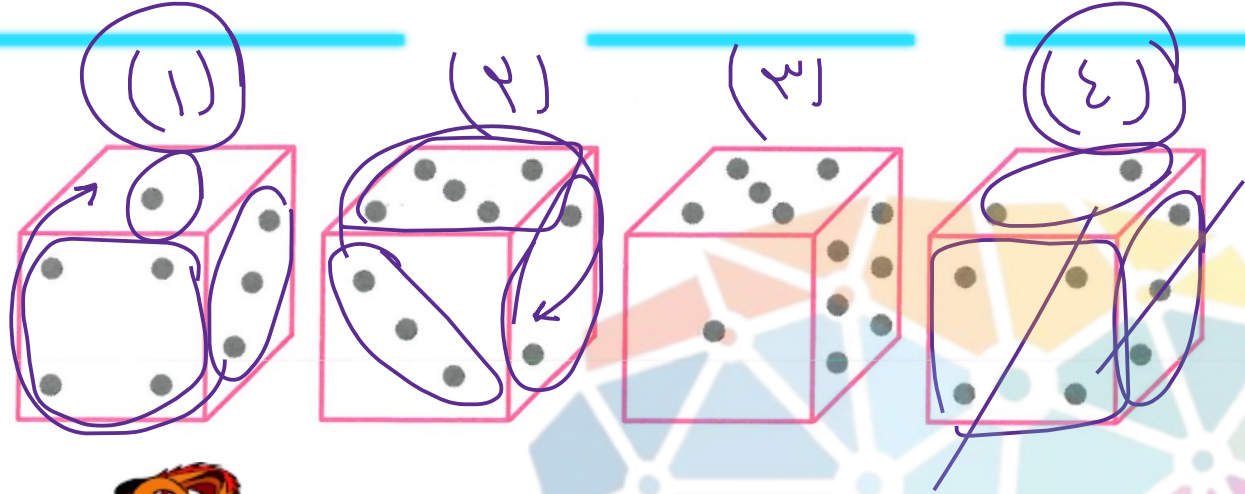
مغز پختنند

سرزمین تیز مغزهاشان ایران

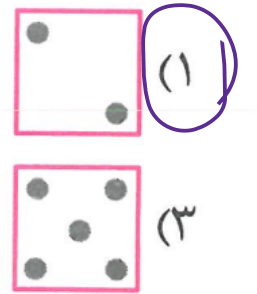
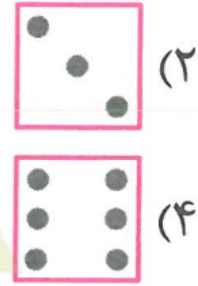


استاد وحید اسدی کیا





۲۷۷. روبه روی



صفتی نظرهای (۱) و (۶) ، مقابل و ؟


۳ نظر (۱)  
۳ نظر (۶)

باید و  
۱  
۲


مغزین تپهوشان ایران









زَد (Z)



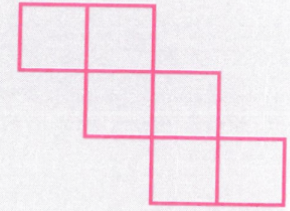
ن (N)



چکش یا تی (T)




صلیب یا شمشیر



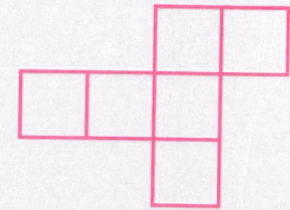
پلکان




کاکتوس




خروس



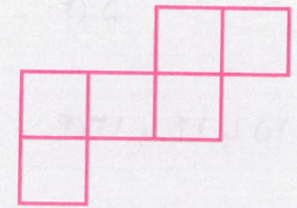
طاووس



یف (f) بلند



یف (f) کوتاه



شترمرغ

هوشمند

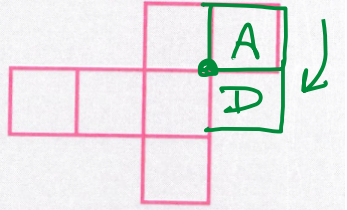
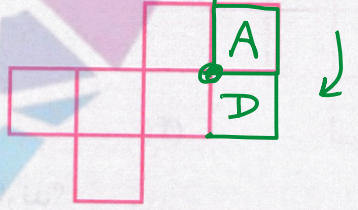
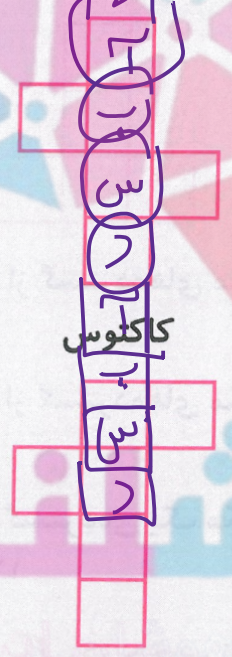
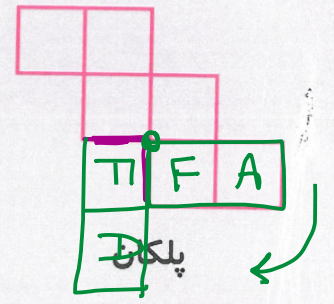
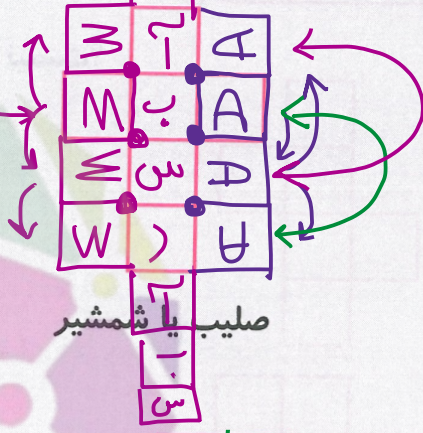

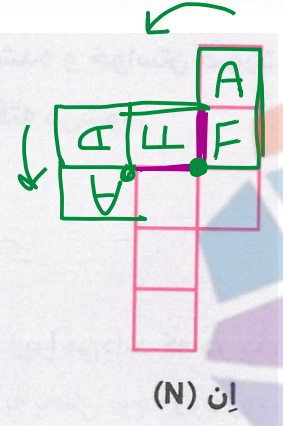
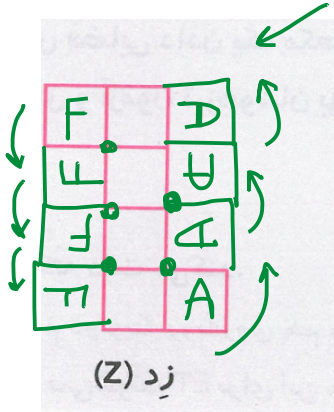
سرزمین تیزهوشان ایران





# گسترده‌ی مکعب

وجه‌های آزار



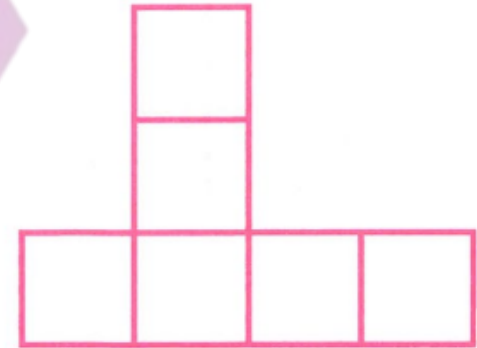
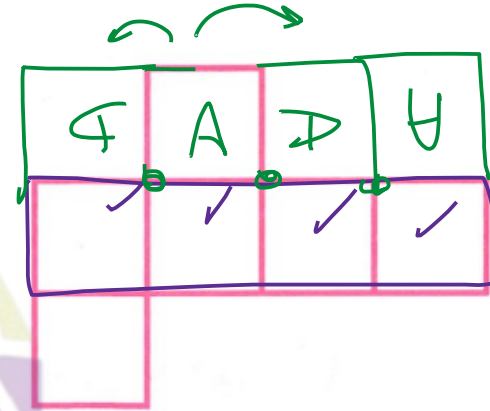
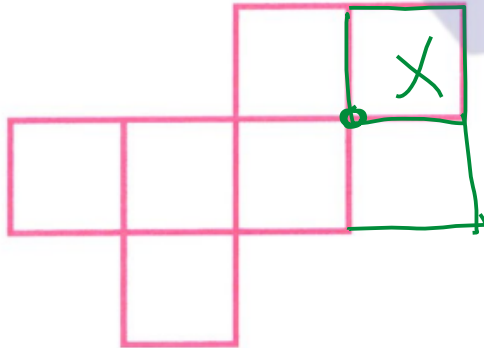
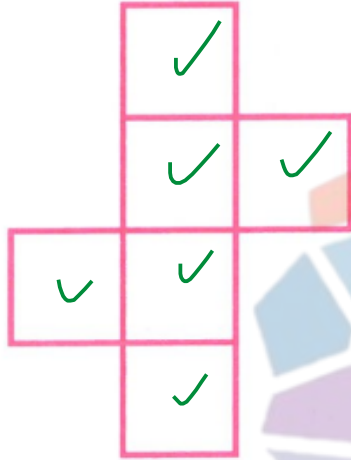
اِف (f) بلند

اِف (f) کوتاه

اِف شتر مرغ



۲۷۷۲. کدام یک از شکل‌های زیر گسترده مکعب نیست؟



مفوشلند

سرزمین تیزهوشان ایران



استاد وحید اسدی کیا





نکته: محیط گسترده هر مکعب هواره از ۱۴ ضلع مکعب تشکیل دده است. (نام دیگر هندسه هواره / بال است)


۲۷۷۵. محیط گستردهی یک مکعب (به طول ضلع یک) چه اعدادی می تواند باشد؟

۱۵ یا ۱۴ یا ۱۳ (۴)

۱۵ یا ۱۴ (۳)

۱۴ یا ۱۳ (۲)


۱۴ فقط (۱)




زِد (Z)



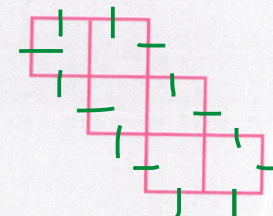
اِن (N)




چکش یا تی (T)




صلیب یا شمشیر




پلکان




کاکتوس



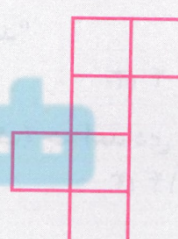
خروس



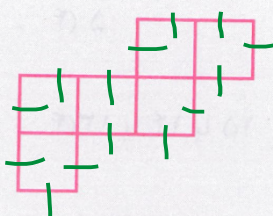
طاووس



اِف (f) بلند



اِف (f) کوتاه



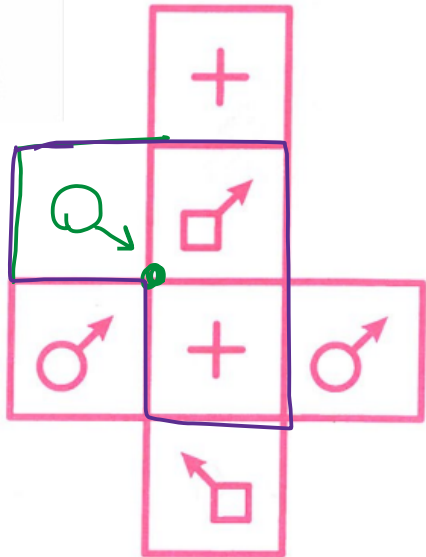
شترمرغ



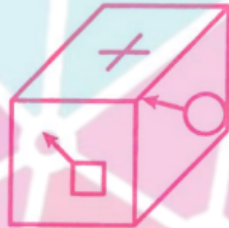


# بستن گسترده‌ی مکعب

در هر یک از سؤالات زیر، گسترده‌ی کدام مکعب داده شده است؟



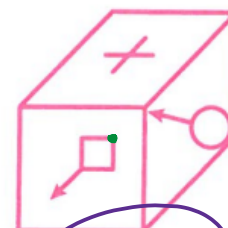
(۱)  
X



(۲)  
X

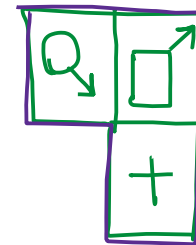
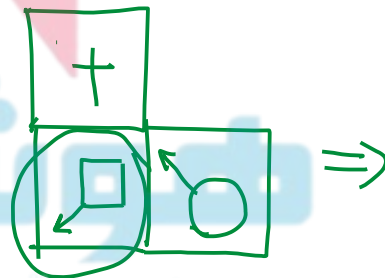


(۳)  
X



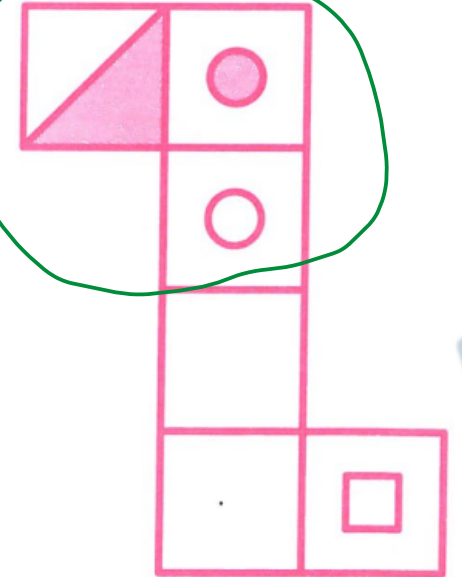
۲۷۷۶.

(۴)







وجه‌های مقابل بهم می‌آیند در یک لایه شوند  
توند پس لایه‌ها او هم با هم می‌توند




(۱)  
X



(۲)  
✓


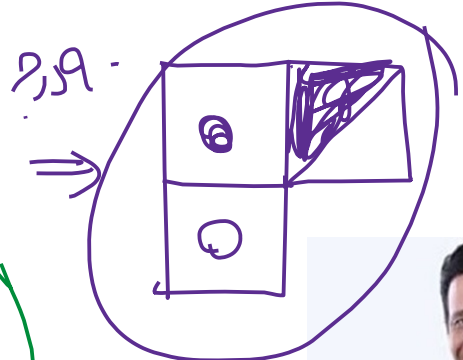


(۳)  
X

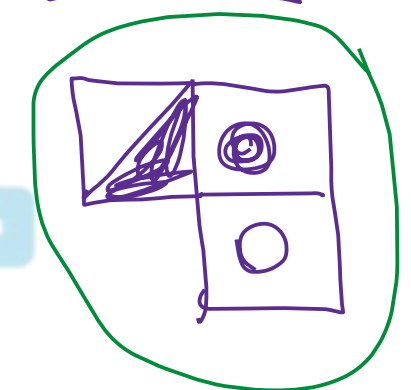


(۴)  
X

۲۷۷۷



۹ درم  
⇒



مغوشلند

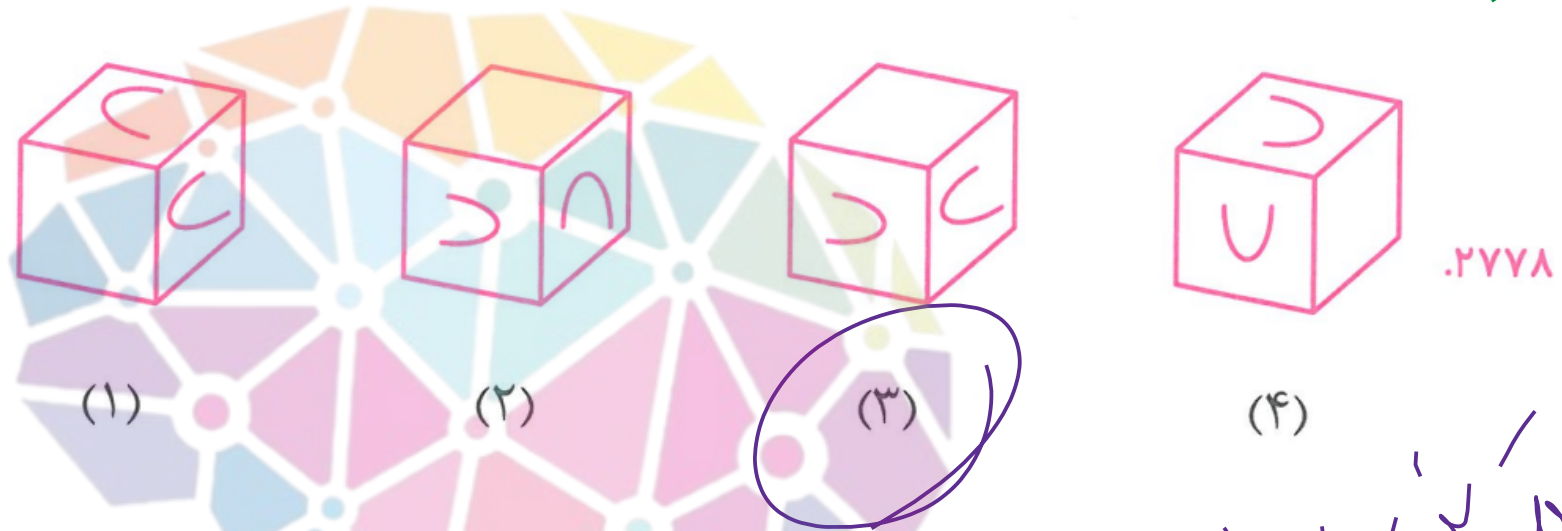
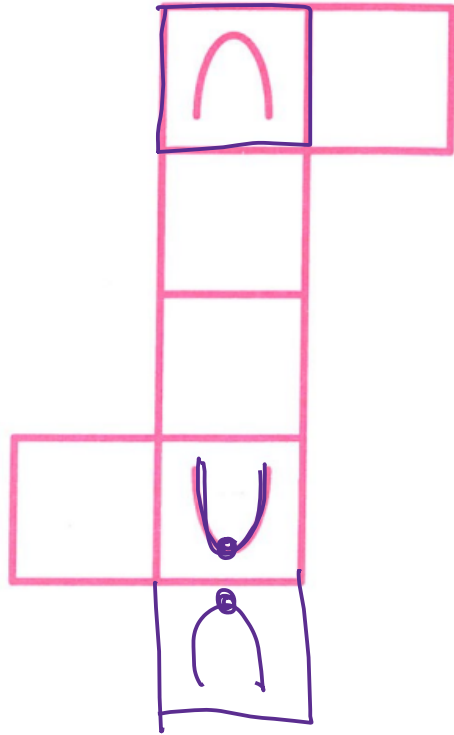
سرزمین تیزهوشان ایران



استاد وحید اسدی کیا



# سوال آزمون پر هوشان



گزینه ۳ : ۲۷۷۸ تا ۲۷۷۸  
ارسال تا لحظه آخر



هوشیاران  
سرزمین پر هوشان ایران

