

جزوه و سوالات ریاضی دوم
خانم طاهری

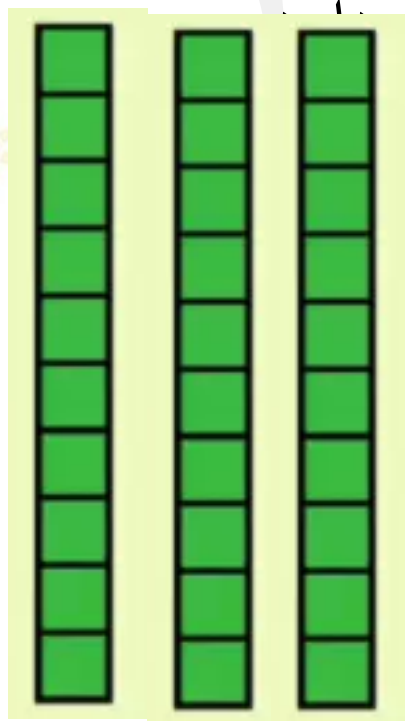


نکات این جلسه:

جدول ارزش مکانی:

جدول ارزش مکانی روشی برای نمایش اعداد است که در آن ارزش رقم ها با قرار گرفتن در مکان های مختلف (یکی یا ده تایی) تغییر می کند. و ارزش رقم ها را مشخص می کند و همچنین خواندن اعداد برای ما راحت تر می شود.

مثال: ارزش ۳ که در خانه ده تایی است از ۳ که در خانه یکی گرفته بیشتر است به این دلیل که ۳ در خانه ی دهگان ۱۰ دانه یکی در دسته خود



ده تایی	یکی
۳	۳

سوال : ۱

دو خانه ای که اعداد یکسانی را نشان می دهند به هم وصل کن.

۵۳
۵۲
عدد بعد از ۳۹
۱۰ ۱۰ ۱۰
عدد قبل ۵۰

..... و دو
چهل
۳۵
۴۹
عددی با دهگان ۵

سوال : ۲


جاهای خالی را کامل کن.

- ۳ یکی و ۵ ده تایی برابر است با
- ۷ یکی و ۸ ده تایی برابر است با
- ۹ یکی و ۰ ده تایی برابر است با
- ۶ یکی و ۱ ده تایی برابر است با




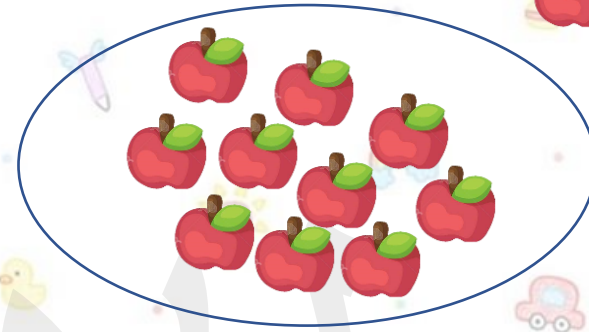

سوال : ۳

با توجه به شکل های دسته بندی شده جدول ها را کامل کن سپس عدد بدست آمده را با رقم و حروف بنویس.



ده تایی	یکی

به
تفصیل و ف:



ده تایی	یکی

به
تفصیل و ف:



سوال : ۴


با کشیدن خط دور شکل ها دسته های ده تایی درست کن و بعد جدول ها را کامل کن.



ده تایی	یکی

به رقم:

به حروف:



ده تایی	یکی

به رقم:

به حروف:



سوال ۵:

جاهای خالی را کامل کن.

۲۷ برابر است با یکی ده

تایی

۹۴ برابر است با یکی ده

تایی

۳۵ برابر است با یکی ده

تایی

۷۷ برابر است با یکی ده

تایی

سوال ۶:

با دو رقم ۲ و ۷ چند عدد دو رقمی می توان نوشت؟ آن ها را

بنویس.....

سوال ۷:

با دو رقم ۶ و ۹ برای یکان و ۳ و ۶ برای دهگان چند عدد زوج دو رقمی می توان نوشت؟

آن ها را بنویس.....



سوال : ۸

عددی دورقمی بنویس که یکان آن

سوال : ۹

عددی دو رقمی بنویس که دهگان آن

او دهگان آن ۶ عدد از یکان آن

۷ و یکان آن ۳ عدد از دهگان کمتر
باشد.

بیشتر باشد.





خسته نباشی
عزیز دلم

طاهری