



هوشلند

سازمان بهداشت و آموزش پزشکی ایران

تاریخ برگزاری

پنجشنبه

۱۴۰۳/۰۷/۲۶



آزمون طبقه‌بندی شده (مرحله دوم)

دفترچه اول : هوش و استعداد تحلیلی

نام و نام خانوادگی:

ساعت برگزاری آزمون:

۸ صفحه

تعداد صفحات دفترچه:

۳۰ سوال (ردیف ۱ تا ۳۰)

تعداد پرسش‌های دفترچه:

۴۰ دقیقه

مدت زمان پاسخگویی:

این آزمون نمره منفی دارد.

ضریب سوالات دفترچه اول ۳ و ضریب سوالات دفترچه دوم ۱ می‌باشد.



۱- در کدام یک از گزینه‌ها واژه‌های هم خانوادگی بیشتری دیده می‌شود؟

- (۱) اهداف بلند انسان برای توفیق در امور، باعث رسیدن او به اوج موفقیت می‌شود.
- (۲) متاسفانه شوق تحصیل در دانشگاه‌های معتبر جهان، دانشجویان کشور را به مهاجرت از کشور مشتاق می‌کند.
- (۳) پس از مرتب کردن واژه‌ها به ترتیب حروف الفبای فارسی، کدام واژه در مقام چهارم قرار می‌گیرد؟
- (۴) عالمان بی عمل همانند حمالاتی هستند که کتاب‌های علمی را حمل می‌کنند، ولی از آن بهره نمی‌برند.

۲- هم خانواده‌های واژه‌های « متناسب ، حواس ، امیال ، دفاع ، مهاجر » به ترتیب از راست به چپ در کدام گزینه آمده‌اند؟

- (۱) تناسب ، هوس ، احوال ، دفعه ، هجران
- (۲) منسوب، تحسن ، میل ، مدافع ، ماجر
- (۳) نسبی ، احساس ، میله ، مدافع ، هجری
- (۴) نسبت ، حس ، مایل ، دافعه ، هجرت

۳- کدام یک از واژه‌ها در متن زیر ، هم خانواده ندارد؟

« خانم تونل به طرف کمد رفت تا جعبه‌ی وسایل خیاطی خودش را بردارد. اما وقتی آن را برداشت، یک دسته‌ی آن کنده شد . خانم تونل گفت : اوه بیچاره‌ی من ! نگاهی به دسته‌ی شکسته انداخت تا ببیند قابل تعمیر است یا نه ، اما یک طرف دسته کاملاً شکسته بود »

- (۱) چاره‌جویی
- (۲) نگه
- (۳) امکان
- (۴) قبول

۴- رابطه‌ی " شوری " با " تلخ " مانند رابطه‌ی واژه‌های کدام گزینه است؟

- (۱) فلز و سنگ
- (۲) سبک و سنگین
- (۳) شیرین و حلوا
- (۴) آهن و مس

۵- نسبت " سیلو " به " گندم " مانند نسبت کدام دو واژه‌ی گزینه‌ها به همدیگر است؟

- (۱) کشتزار به جو
- (۲) قصابی به گوشت
- (۳) طلا فروش به طلا
- (۴) سد به آب

۶- رابطه "آب" با "حیات" مانند رابطه‌ی "کار سنگین" است با :

- (۱) عصبانیت (۲) موفقیت (۳) خستگی (۴) پیشرفت

۷- متضاد کدام واژه در بیت زیر آمده است؟

« هر جا که حبیب است به پهلوی رقیب است در باغ جهان یک گل بی خار نباشد »

- (۱) عدو (۲) کنار (۳) گلزار (۴) تیغ

۸- واژه‌های کدام گزینه به ترتیب با واژه‌های «مختار» و «چیره» متضاد است؟

- (۱) مجبور ، گرفتار (۲) مجبور ، مغلوب (۳) مظلوم ، سست (۴) قهر ، غضب

۹- چند جفت از واژه‌های زیر متضاد هم هستند؟

«رویش ، وافر ، توزیع ، بی تاب ، ناامید ، برنا ، کدر ، زلال ، گردآوری ، شکبیا ، ریزش ، انصاف»

- (۱) ۶ (۲) ۵ (۳) ۴ (۴) ۳

۱۰- چند جفت از واژه‌های زیر متضاد هم هستند؟

«تکبر ، اخلاق ، میز ، معتدل ، رستاخیز ، حلاوت ، منش ، میانه ، عادت ، شیرینی ، تواضع»

- (۱) ۳ (۲) ۲ (۳) ۱ (۴) صفر



۱۱- با توجه به الگوی موجود علامت سوال کدام است ؟

۴۹ ، ۵۱ ، ۳۷ ، ۶۳ ، ۸۲ ، ۱۸ ، ۴۵ ، ؟

۶۵ (۴)

۶۰ (۳)

۵۵ (۲)

۵۰ (۱)

۱۲- با توجه به الگوی موجود علامت سوال کدام است ؟

۱۳ ، ۳۲ ، ۲۴ ، ۲۵ ، ۵۳ ، ۴۵ ، ؟

۶۱ (۴)

۶۲ (۳)

۶۳ (۲)

۶۴ (۱)

۱۳- با توجه به الگوی زیر علامت سوال کدام است ؟

۵۴۹

۹

۱۲۱

ص؟

۱۰۰ (۴)

۹۰ (۳)

۸۱ (۲)

۶۴ (۱)

۱۴- با توجه به الگوی زیر علامت سوال کدام است ؟

۱۷۵ اق

۷ ت

۵ پ

ب؟

۲ (۴)

۳ (۳)

۴ (۲)

۵ (۱)

۱۵- کدام عدد با بقیه متفاوت است؟

۳۲، ۵۰، ۷۲، ۸۴، ۹۸

۵۰ (۴)

۷۲ (۳)

۸۴ (۲)

۹۸ (۱)

۱۶- با توجه به الگوی موجود کدام گزینه با بقیه متفاوت است؟

۲۰ اردیبهشت - ۳۰ خرداد - ۱ دی - ۱۰ بهمن - ۲۱ اسفند

۲۱ اسفند (۴)

۱۰ بهمن (۳)

۳۰ خرداد (۲)

۱ دی (۱)

۱۷- در انتخابات شورای دانش آموزی ۹۳ نفر از دانش آموزان شرکت کرده‌اند و می‌خواهند از بین ۵ داوطلب یک نفر را انتخاب کنند. کمترین تعداد رأیی که نفر برنده‌ی انتخابات کسب می‌کنند برابر کدام گزینه است؟

۲۰ (۴)

۱۹ (۳)

۱۸ (۲)

۱۷ (۱)

۱۸- تعداد ۶۱ نفر از طرفداران دو تیم پرسپولیس و استقلال برای ورود به ورزشگاه در صف خرید بلیط ایستاده‌اند به طوری که از بین هر ۶ نفر آن‌ها حداقل ۴ نفرشان طرفدار تیم پرسپولیس می‌باشند. حداکثر چند نفر از طرفداران تیم استقلال در این صف هستند؟

۳۰ (۴)

۲۷ (۳)

۲۳ (۲)

۲۱ (۱)

« ۱۳ عدد طبیعی داریم. ۹ عدد به ۲ بخش پذیرند و ۵ عدد بر ۳ بخش پذیرند و ۲ عدد هم بر هیچ کدام بخش پذیر نیستند » با توجه به اطلاعات داده شده به دو سوال زیر پاسخ دهید.

۱۹- چند عدد از بین این ۱۳ عدد هم به ۲ هم به ۳ بخش پذیر هستند؟

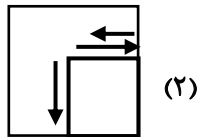
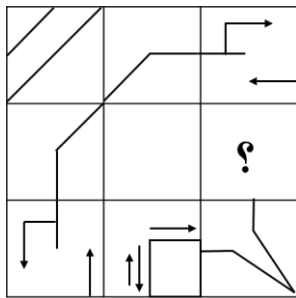
۵ (۴)

۴ (۳)

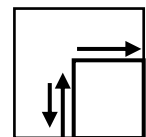
۳ (۲)

۲ (۱)

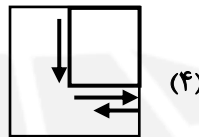
-۲۴



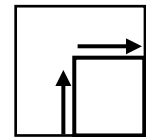
(۲)



(۱)

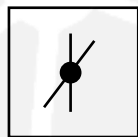
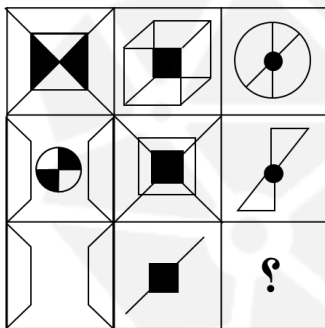


(۴)

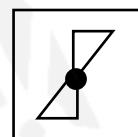


(۳)

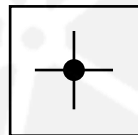
-۲۵



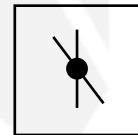
(۲)



(۱)

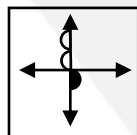
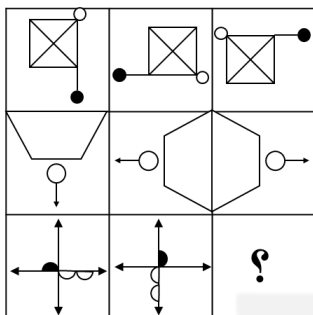


(۴)

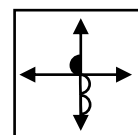


(۳)

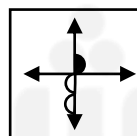
-۲۶



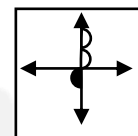
(۲)



(۱)

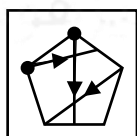
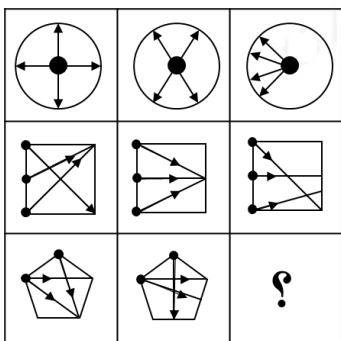


(۴)

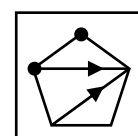


(۳)

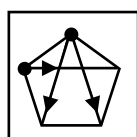
-۲۷



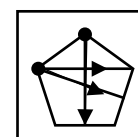
(۲)



(۱)



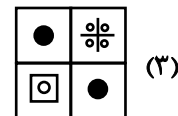
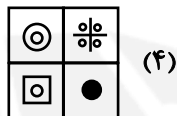
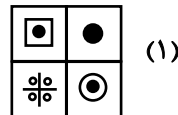
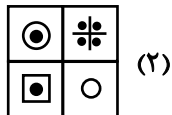

(۴)



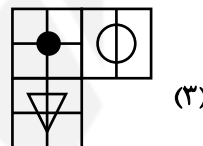
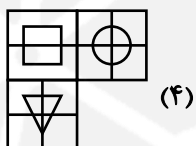

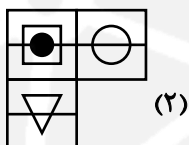
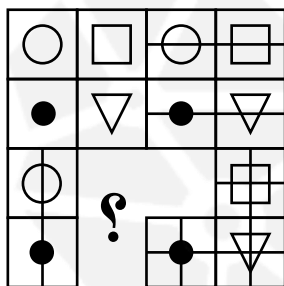
(۳)



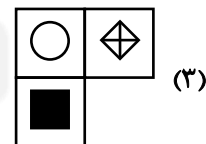
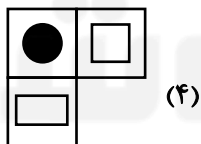
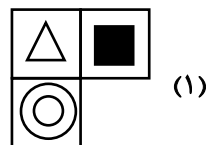
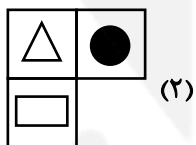

-۲۸



-۲۹



-۳۰



موفق باشی دوست عزیز ♥