



حوش ریاضی

۶ ماه اول سال ، ۳۱ روزه و ۵ ماه دوم ۳۰ روزه و اسفند ۲۹ روزه است .

هر ۴ سال یک بار اسفند ۳۰ روزه است .

تعداد روزهای سال عادی ۳۶۵ و سال کبیسه ۳۶۶ روز است .

در یک ماه ۳۰ روزه روزهای اول و دوم ماه ، ۵ بار و بقیه ی روزها ۴ بار تکرار می شوند .

در یک ماه ۳۱ روزه ، روزهای اول و دوم و سوم ۵ بار و بقیه ۴ بار تکرار می شوند .

در هر سال معمولی ، سال با هر روزی شروع شود ، با همان روز تمام می شود و در سال

کبیسه سال با فردای روزی که شروع می شود ، تمام می شود . .

در هر سال معمولی ، از روز شروع سال ۵۳ تا و از بقیه ی روز های هفته ۵۲ تا خواهیم داشت .

در هر سال کبیسه ، از دو روز اول سال ۵۳ تا و از بقیه ی روز های هفته ۵۲ تا داریم .

حوش ریاضی

در ۶ ماه اول سال، ماه با پس فردای روزی که شروع می شود تمام می شود .

در ۵ ماه دوم سال، ماه با فردای روزی که شروع می شود تمام می شود .

۳۱ روزه

۳۰ روزه

۱ هفته ۲۹ روزه ماه با روزی که شروع می شود

۲	۹	۱۶	۲۳	۳۰
۲	۹	۱۶	۲۳	۳۰

تست

حوش ریاضی

اگر چهارمین روز هفته ، چهارم ماه باشد بیست و چهارم همان ماه چه روزی است ؟

۱ چهارشنبه

۲ سه شنبه

۳ دوشنبه

۴ یک شنبه

←

۱۱

۱۸

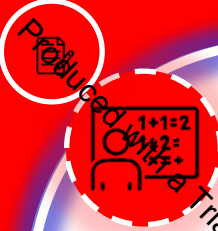
۲۴ ۲۵

۵

↓
۶

۲۰

۲۱



Trial Version of PDF Annotator - www.PDFAnnotator.com

تست

اگر پریروز یک شنبه بوده باشد ، پس فردا چندشنبه است ؟

۱ دوشنبه

۲ سه شنبه

۳ چهارشنبه

۴ پنج شنبه

دک فردا

فردا

اردز

دک فردا

پنج شنبه

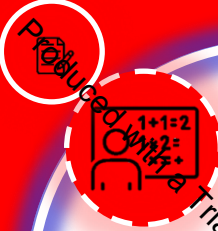
دوهار شنبه

سه شنبه

یک شنبه

دو شنبه

حوش ریاضی



Trial Version of PDF Annotator - www.PDFAnnotator.com

تست

اگر امروز نه پنجشنبه باشد و نه یکشنبه و فردا هم سهشنبه نباشد، کدام یک از گزینه های

زیر می تواند درست باشد؟

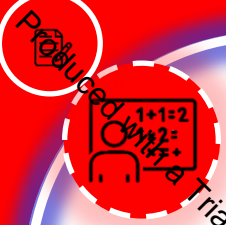
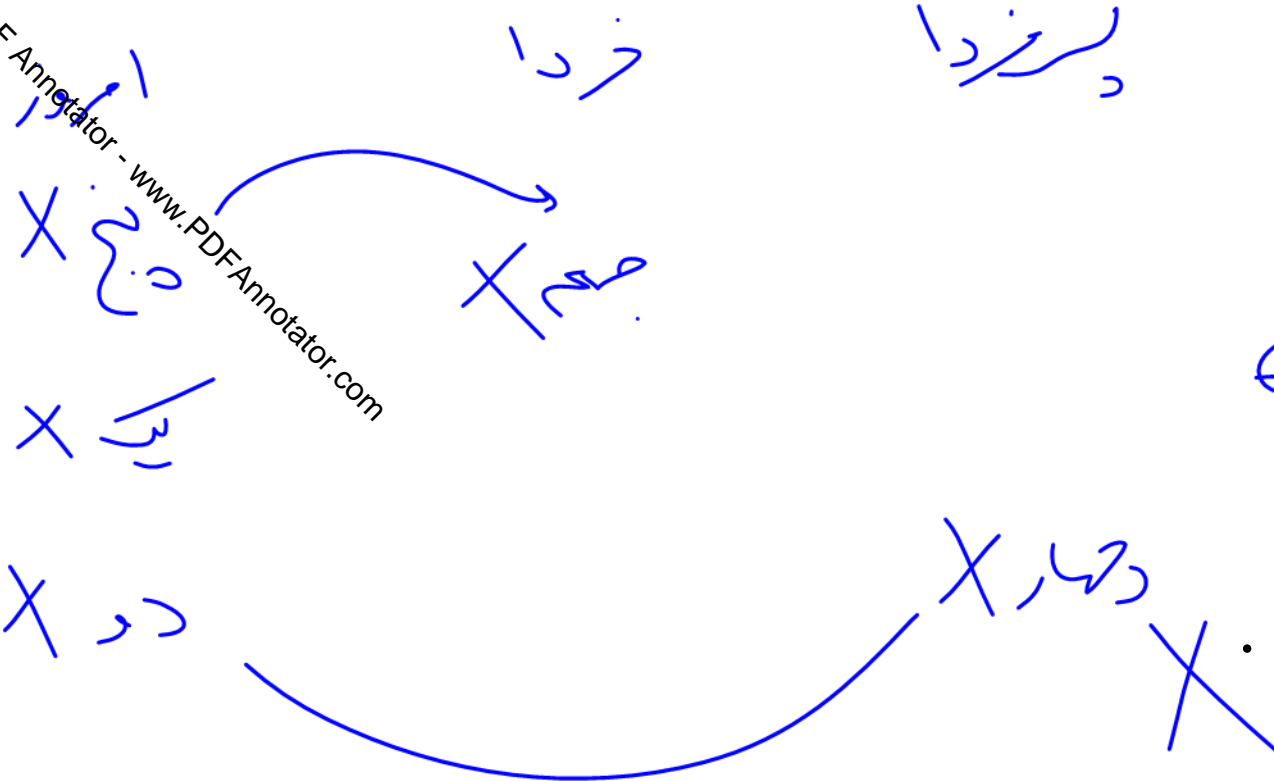
۱ امروز دوشنبه است

۲ دیروز سهشنبه بود

۳ فردا جمعه است

۴ پس فردا چهارشنبه است.

هوش ریاضی



Trial Version of PDF Annotator - www.pdfannotator.com



هوش ریاضی

تست

شخصی آخرین ماه هر فصل را به مسافرت می رود . اگر امسال کبیسه باشد ، این شخص امسال چند روز در سفر خواهد بود ؟

۱۱۹ ۱

۱۲۰ ۲

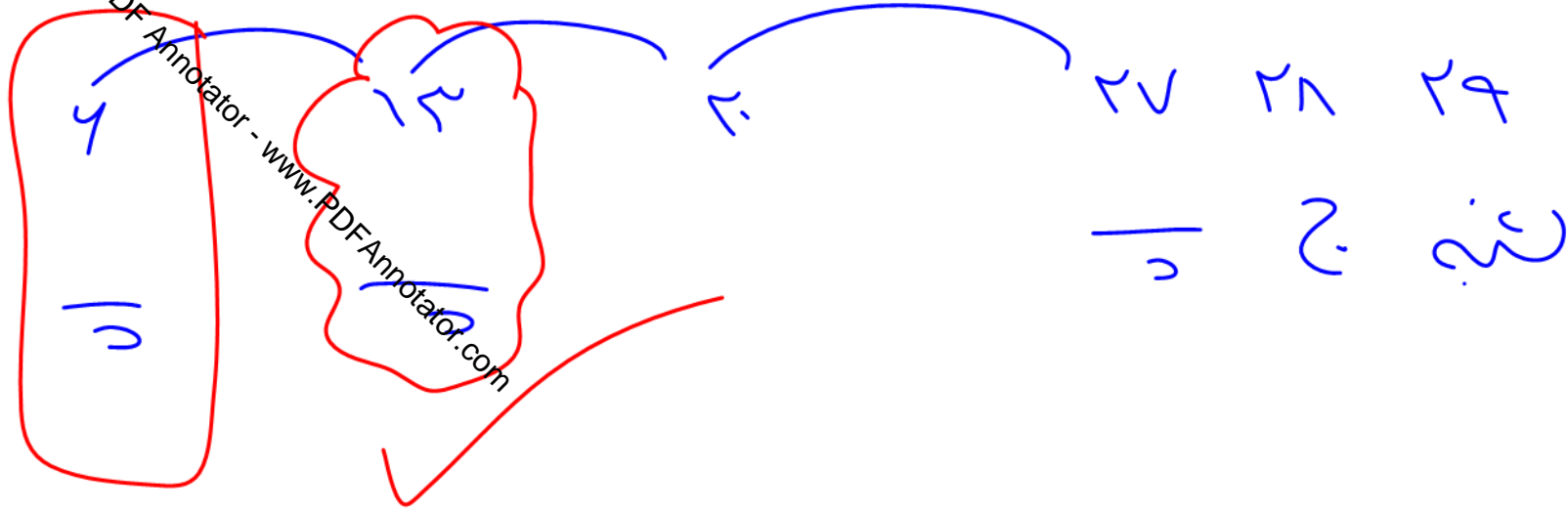
۱۲۱ ۳

۱۲۲ ۴

تست

هوش ریاضی

اگر بدانیم ۲۹ مهرماه سال ۱۴۰۲ شنبه است . دومین پنج شنبه ، روز چندم این ماه است ؟



۱ ۱۱

۲ ۱۲

~~۳ ۱۳~~

۴ ۱۴

تست

روز اول مهرماه ۱۴۰۱، جمعه است. در این ماه به ترتیب چند پنج شنبه و جمعه خواهیم داشت؟



۴ و ۴ (۱)

۵ و ۵ (۲)

۵ و ۴ (۳)

۴ و ۵ (۴)

در یک ماه بهاری ۵ چهارشنبه، ۵ پنجشنبه و ۵ جمعه داریم. در ماه بعد از آن کدام روز هفته

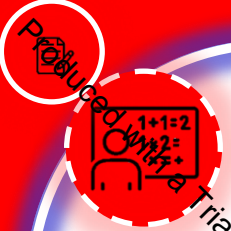
۵ بار می تواند تکرار شود؟

- ۱ یکشنبه
- ۲ سه شنبه
- ۳ پنجشنبه
- ۴ جمعه



۳
ج

۳
۲
۱
۶
۵
۴
ماه بعد




Trial Version of PDF Annotator - www.PDFAnnotator.com

تست

هلالی

حوش ریاضی

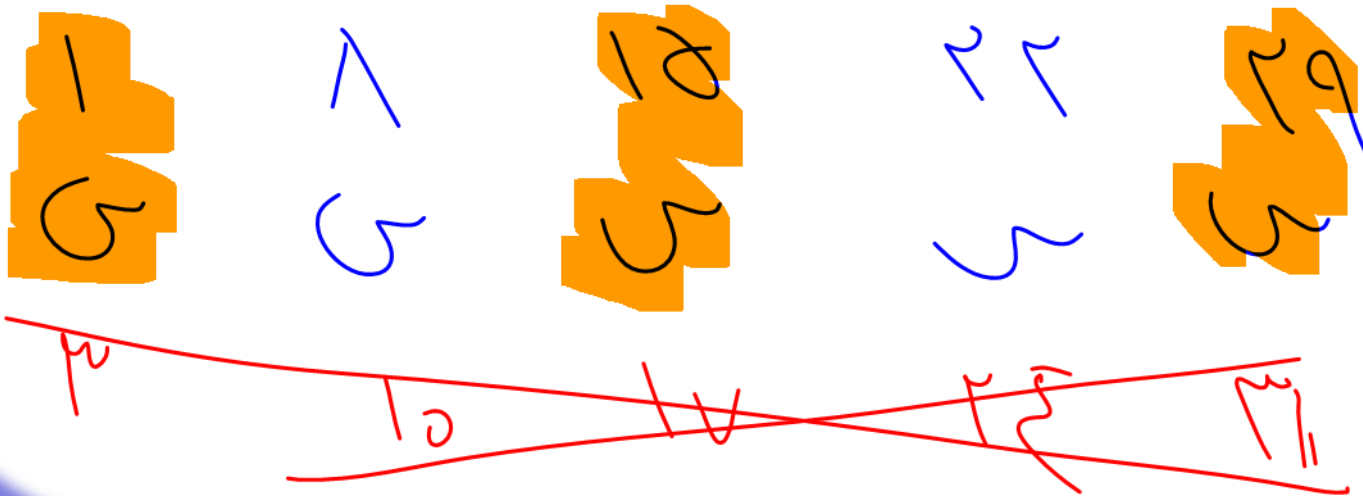
سه تا سه شنبه در یک ماه تاریخ های زوج دارند . روزهای هفتم و هفدهم این ماه به ترتیب



چه روزی از هفته هستند ؟

- ۱ یک شنبه و چهارشنبه
- ۲ دوشنبه و پنجشنبه
- ۳ سه شنبه و جمعه
- ۴ چهارشنبه و شنبه

ک د ک

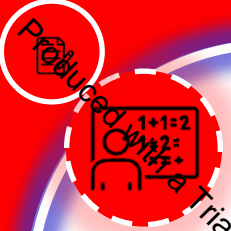


تست

هوش ریاضی

در یک سال تعداد جمعه ها بیش تر از تعداد دوشنبه ها است . در سال بعد از آن کدام یک از جملات زیر می تواند درست باشد (هیچ کدام از دو سال کبیسه نیستند)؟

- ۱ جمعه ها بیش تر از سه شنبه ها است
- ۲ شنبه ها بیش تر از یکشنبه ها است.
- ۳ سه شنبه ها بیش تر از پنج شنبه ها است
- ۴ یک شنبه ها بیش تر از چهارشنبه ها است



Trial Version of PDF Annotator - www.PDFAnnotator.com

تست

هوش ریاضی

اول فروردین روز دوشنبه است . اگر در سال ، ۲۰ روز تعطیل رسمی داشته باشیم که هیچ کدام با جمعه مصادف نباشند ، در این سال چند روز تعطیل خواهیم داشت ؟

۶۹

۷۰

۷۱

۷۲

تست

در آماه ۳۰ روزه رکت ماه ۳۱ روزه است جمع

از هر روز هفت ۱۴۰۰ بار (۵) تبار داری

ایلیا در پایان یک ماه مشاهده کرد که در هر یک از سه ماه گذشته ۴ جمعه وجود داشته

است. کدام یک از گزینه ها نمی تواند ماه بعد باشد؟

- ۱ آبان
- ۲ دی
- ۳ فروردین
- ۴ اسفند

هوش ریاضی

۳ ماه قبل

ماه قبل

ماه قبل

این ماه

ماه بعد

۱۰

۱۰

۱۰

۱۰

۱۰

۱۰

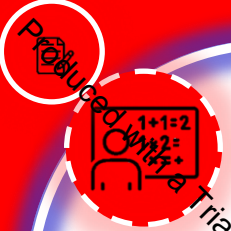
۱۰

۱۰

نکته: در ۳ ماه ۳۱ روزه

۱۰۰۰ بار از هر روز هفت

۱۰۰۰ بار (۵) تبار داری



www.PDFAnnotator.com

تست

هوش ریاضی

در یک ماه ۵ تا شنبه و ۵ تا یک شنبه و فقط ۴ تا جمعه و ۴ تا دوشنبه وجود دارد . در ماه بد از آن ، کدام یک از موارد زیر می تواند وجود داشته باشد؟

- ۱ ۵ تا چهارشنبه
- ۲ ۵ تا پنج شنبه
- ۳ ۵ تا جمعه
- ۴ ۵ تا شنبه

اگر ۱۴ اردیبهشت چهارشنبه باشد ۲۷ آذر همان سال چند شنبه است ؟

۱ شنبه

۲ یک شنبه

۳ دوشنبه

۴ جمعه