

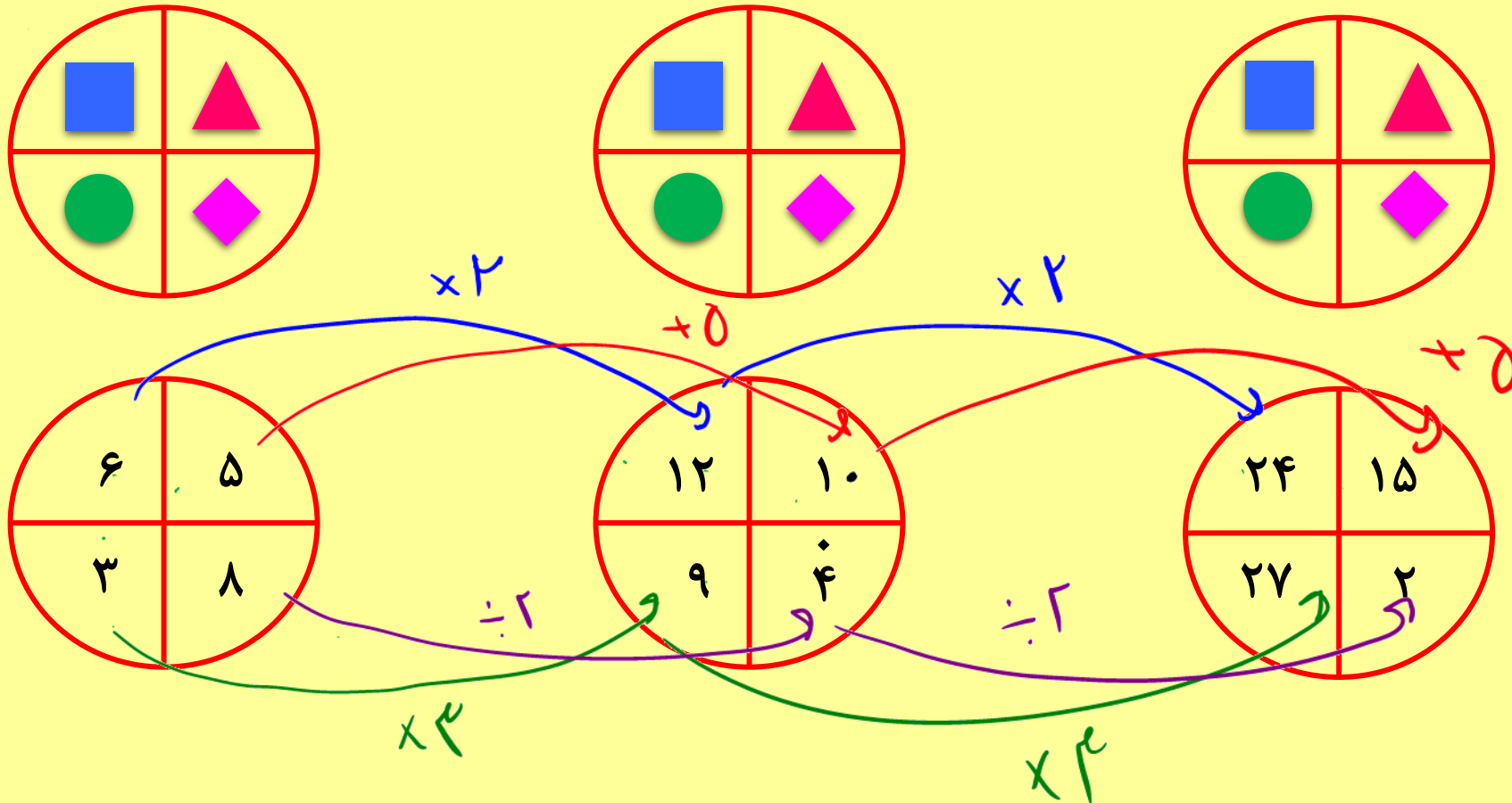


حوش ریاضی

در این مدل سوالا یه سری عدد داخل دایره قرار می دن و یک عدد معلوم نیست ، ما باید با توجه به رابطه موجود علامت سوال رو پیدا کنیم .

۱- موقعیت یکسان

جایگاه های یکسان در اشکال را در نظر می گیریم ، و به ارتباط بین اعداد موجود در این جایگاه ها دقت می کنیم .

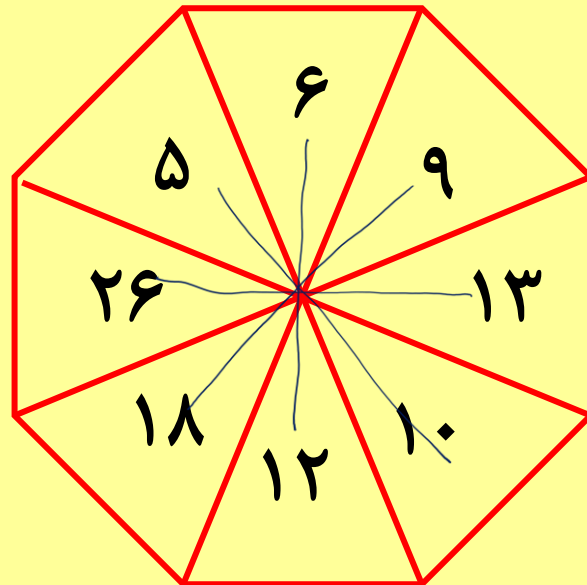
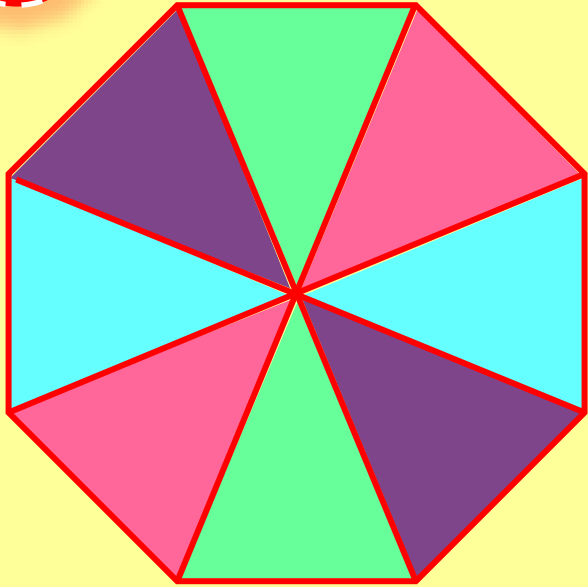




هوش ریاضی

۲- اعداد مقابل هم

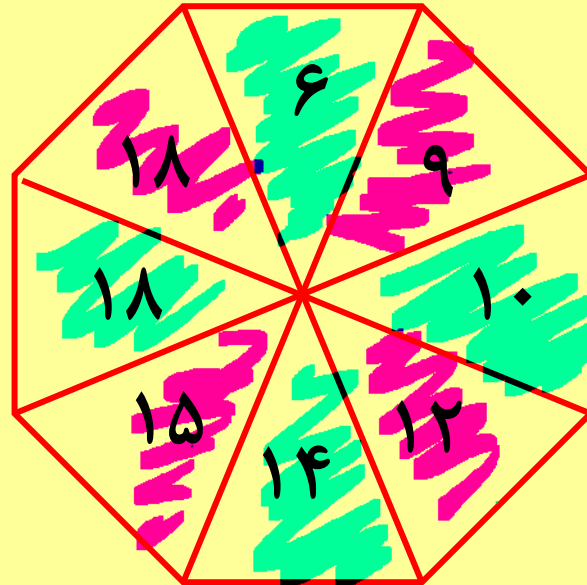
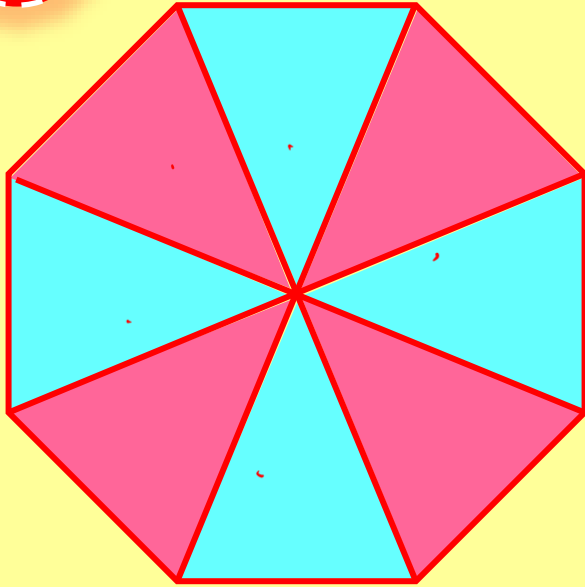
ممکن است اعدادی که مقابل هم قرار دارند دارای ارتباط خاصی باشند.





۳- یکی در میان

ممکن است اعداد به صورت یکی در میان باهم در ارتباط باشند.

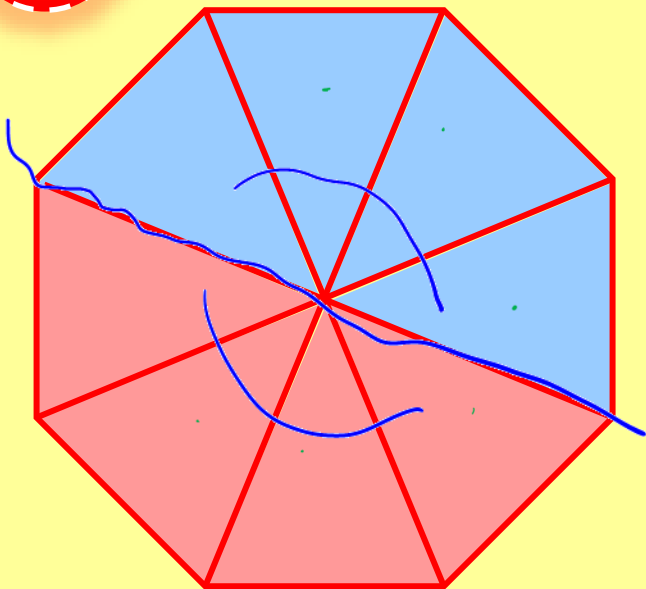


هوش ریاضی

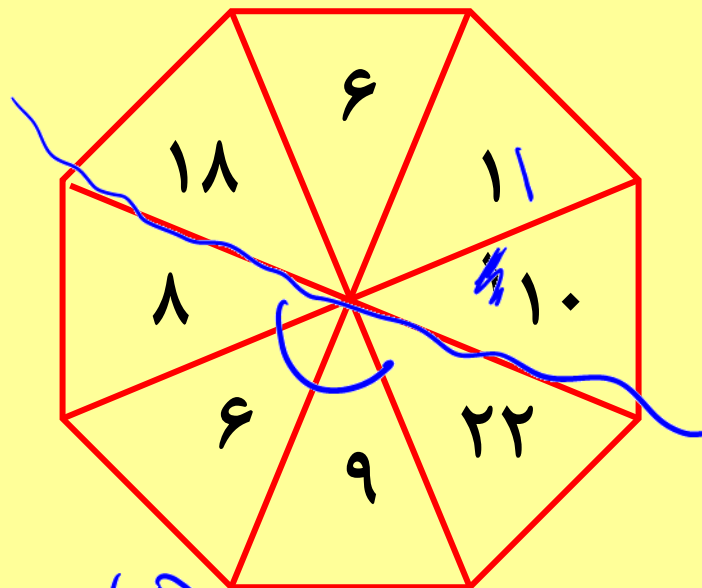


۴- قسمت بندی


ممکن است با تقسیم بندی شکل به چند قسمت بین اعداد قسمت ها ارتباطی وجود داشته باشد ..



۴۵

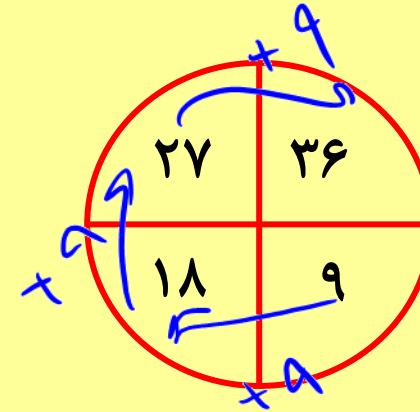
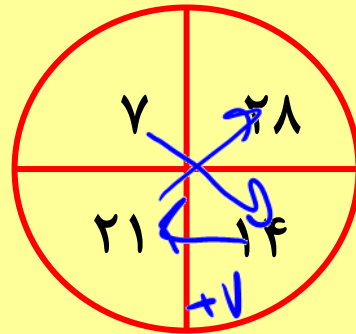
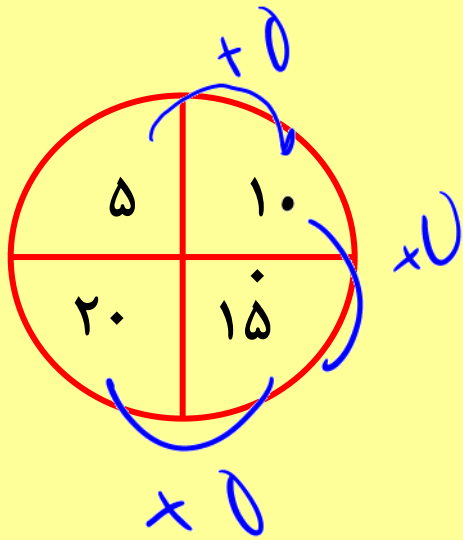


۴۵



۵ - مجموع ، حاصل ضرب یا یک ویژگی یکسان

ممکنه حاصل جمع یا ضرب همه ی اعداد واقع در دایره ها با هم الگویی خاص درست کنه یا اینکه یک ویژگی یکسان بین اعداد واقع در دایره ها وجود داشته باشه

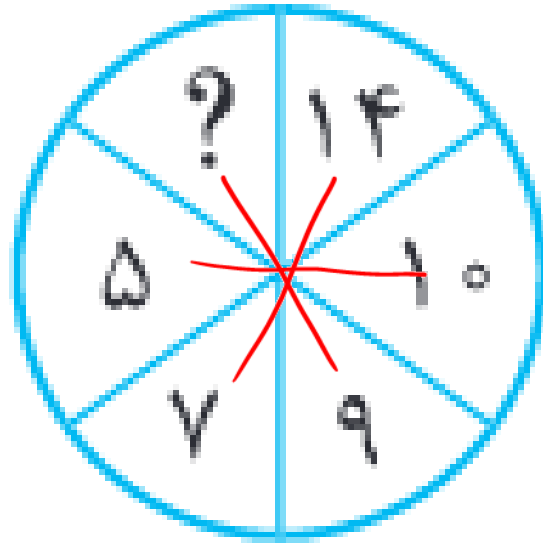




هوش ریاضی

تست

مقدار علامت سوال کدام است؟



$$9 \times 2 = 18$$

مغایب

- ۱۸ ۱
- ۱۶ ۲
- ۱۴ ۳
- ۱۲ ۴



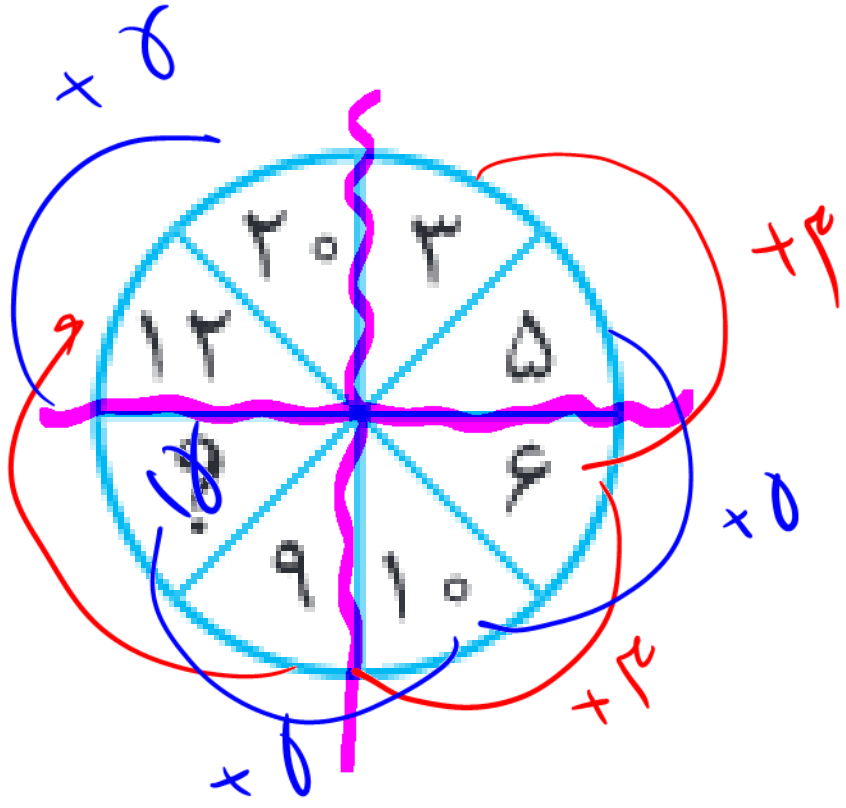


هوش ریاضی

نفس

۲۶

هوش ریاضی



تست

مقدار علامت سوال کدام است؟

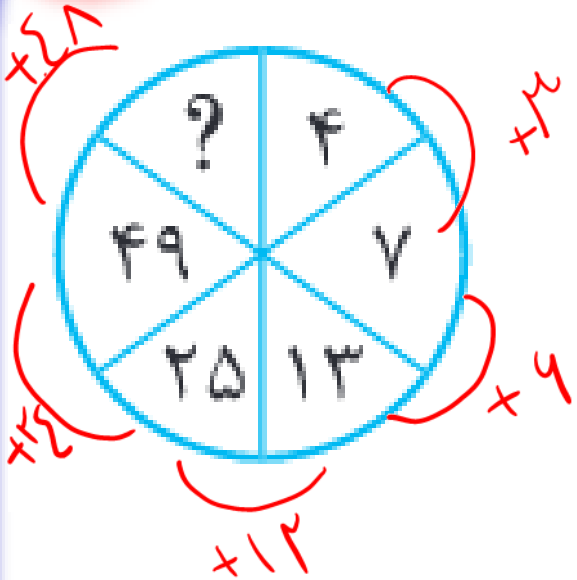
- ۹ ۱
- ۱۲ ۲
- ۱۵ ۳
- ۱۸ ۴

سوال در سوال





هوش ریاضی



$$\begin{array}{r} 49 \\ \times 24 \\ \hline 97 \end{array}$$

تست

مقدار علامت سوال کدام است؟

۴۸ ۱

۴۹ ۲

۹۶ ۳

۹۷ ۴

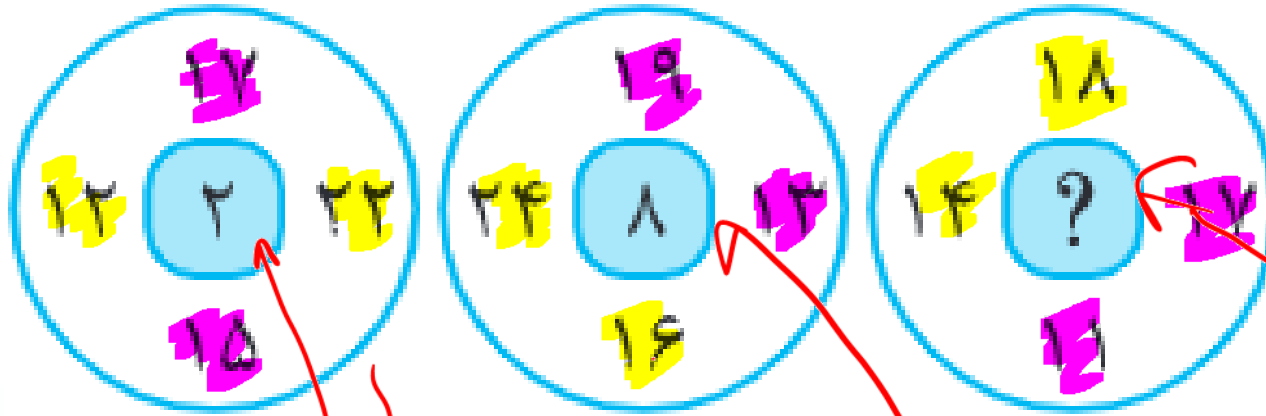


هوش ریاضی

افزایش و کاهش اعداد

تست

مقدار علامت سوال کدام است؟



$$15 + 17 = 32$$

$$17 + 22 = 39$$

$$24 + 14 = 38$$

$$17 + 19 = 36$$

$$12 + 18 = 30$$

$$11 + 17 = 28$$

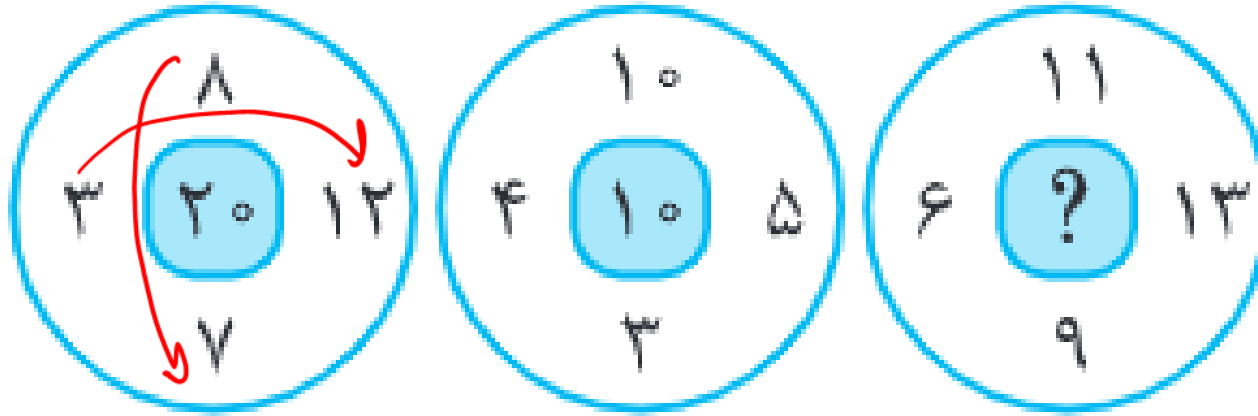
- 1
- 2
- 3
- 4



هوش ریاضی

تست

مقدار علامت سوال کدام است؟



- ۲۰ ۱
- ۲۱ ۲
- ۲۲ ۳
- ۲۳ ۴

کدر



هوش ریاضی



تست

مقدار علامت سوال کدام است؟

Handwritten annotations and equations:

- $23 + 49 = 72$ (circled)
- $42 + 38 = 80$ (circled)
- $17 + 69 = 86$ (circled)
- $17 + 69 = 84$ (written next to the third circle)

Three circles are shown, each divided into three sectors:

- Circle 1: Top-left 23, Top-right 49, Bottom 18. A red arrow points from the top two sectors to the bottom sector with the number 72.
- Circle 2: Top-left 42, Top-right 38, Bottom 25. A red arrow points from the top two sectors to the bottom sector with the number 80.
- Circle 3: Top-left 17, Top-right 69, Bottom ?. A red arrow points from the top two sectors to the bottom sector with the number 86. A handwritten equation $17 + 69 = 84$ is written next to it.

- ۱۱
- ۱۲
- ۱۳
- ۱۴

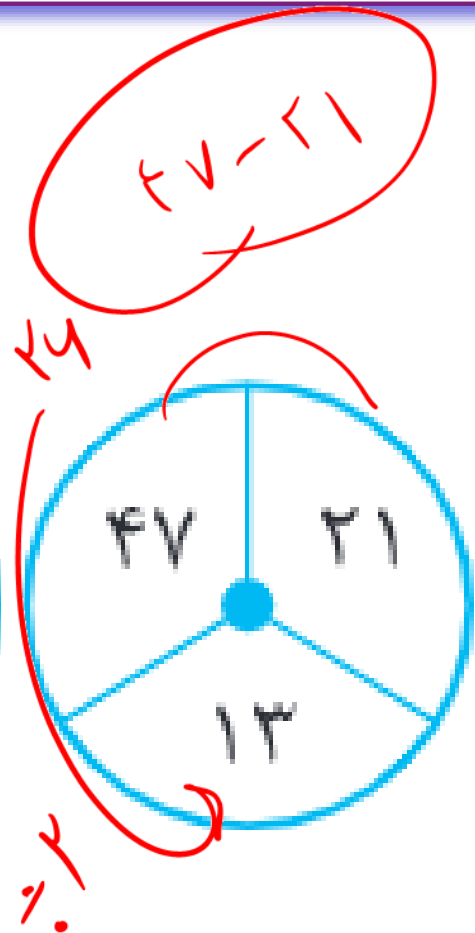
سعی در تامل و تامل در تفکر کن به هم رسیدن در این



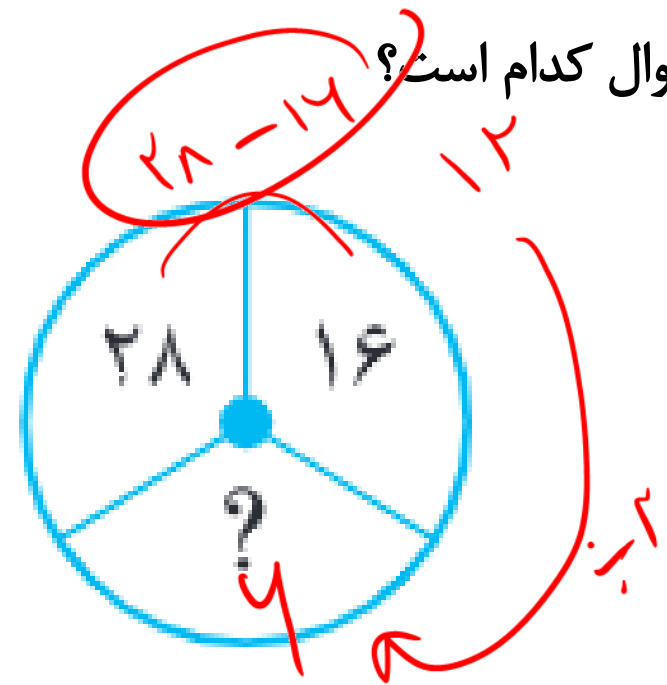
هوش ریاضی



$31 - 17 = 14$



$47 - 21 = 26$



$28 - 16 = 12$

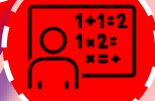
مقدار علامت سوال کدام است؟

- ۱
- ۲
- ۳
- ۴

تست



حوش ریاضی

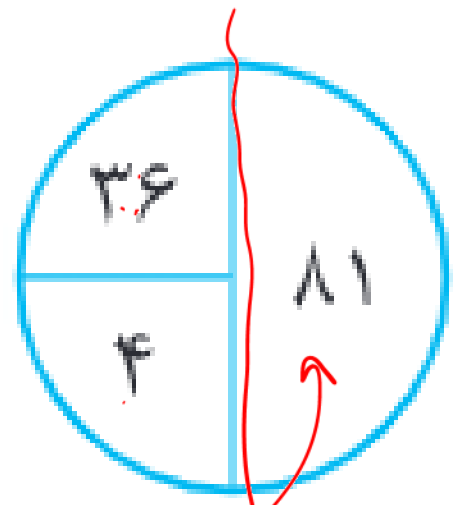


تست

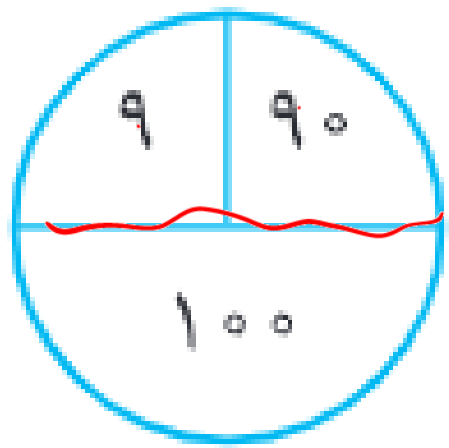
مقدار علامت سوال کدام است؟

$36 \div 4 = 9$

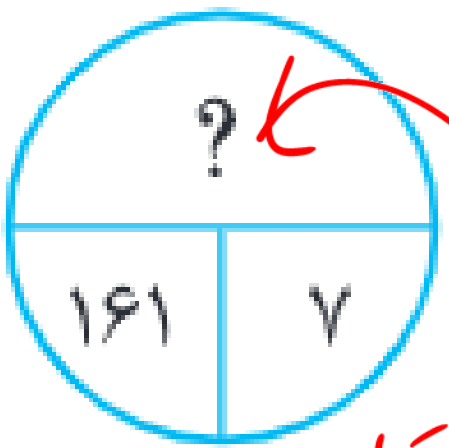
$9 \times 9 = 81$



$90 \div 9 = 10$



$10 \times 10 = 100$



$141 \div 7 = 22$

$22 \times 22 = 529$

528

529

530

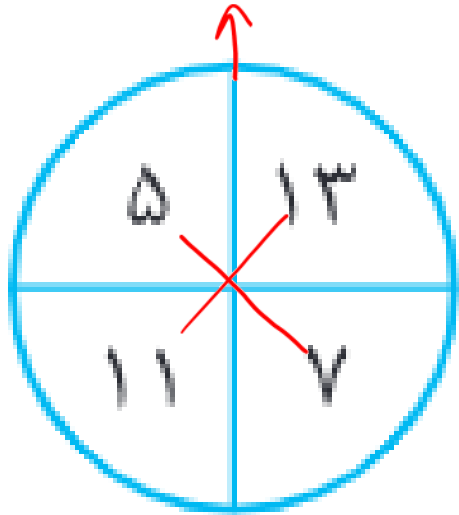
531



هوش ریاضی

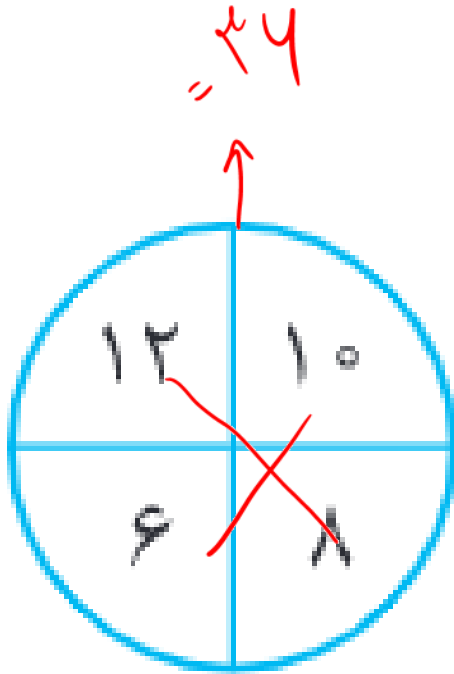


$$2 + 10 + 7 + 11 = 30$$



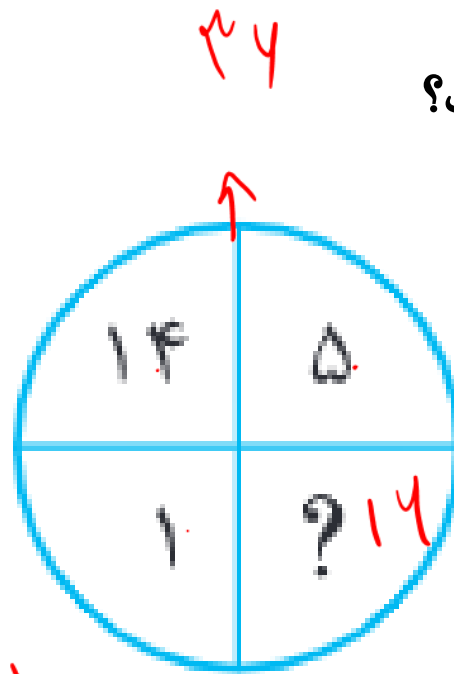
$$7 - 5 = 2$$

$$14 - 11 = 3$$



$$10 - 4 = 6$$

$$12 - 4 = 8$$



$$5 - 1 = 4$$

جمع اعداد داخل هر دایره (دایره) ۳۰ است

تست

مقدار علامت سوال کدام است؟

۱۶ ۱

۱۸ ۲

۳ ۳

۱۰ ۴

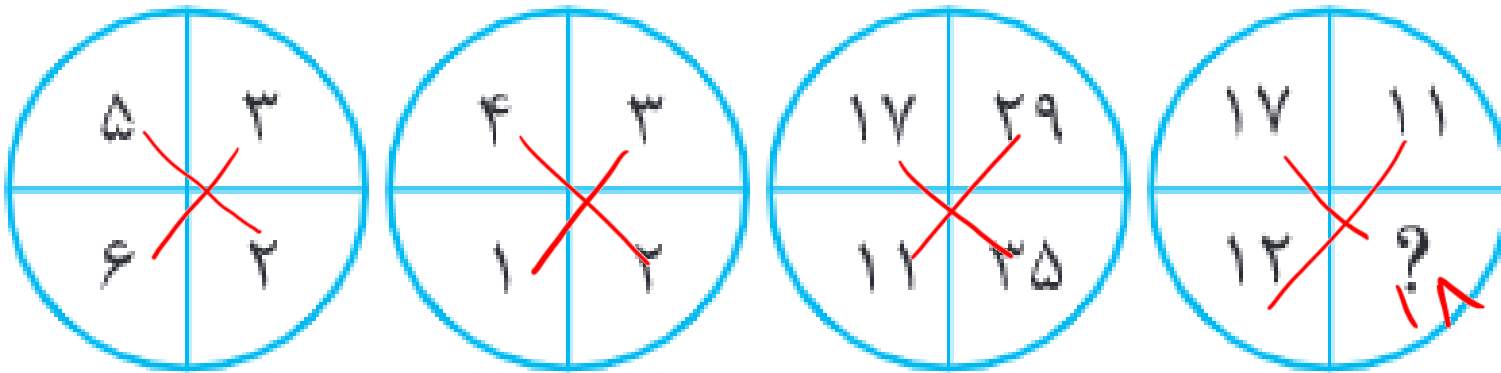




هوش ریاضی

تست

مقدار علامت سوال کدام است؟



~~۱۸~~ ۱

۱۳ ۲

۲۷ ۳

۶ ۴

مغایب

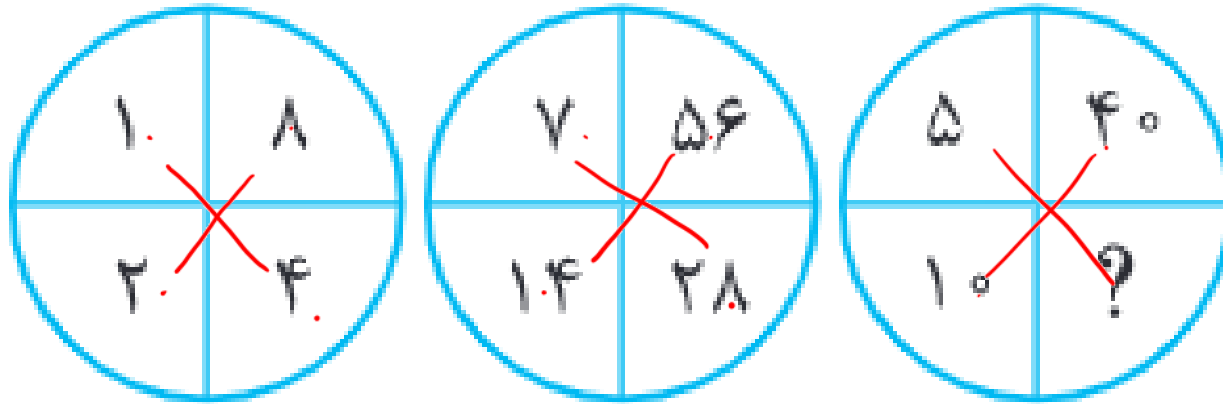




هوش ریاضی

تست

مقدار علامت سوال کدام است؟



- ۱۰. ۱
- ۲۰. ۲
- ۳۰. ۳
- ۴۰. ۴

$$۵ \times ۲ = ۱۰$$

تجدید $\times ۲$



هوش ریاضی

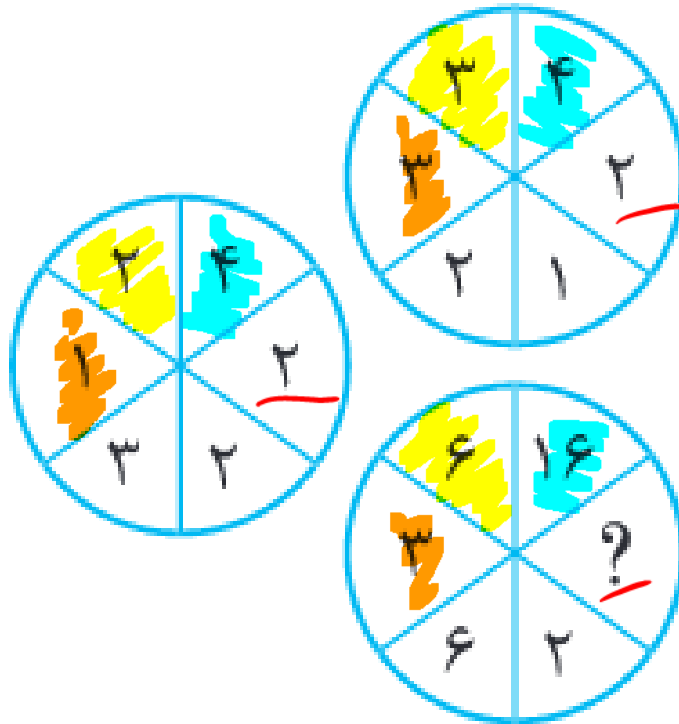


تست

مقدار علامت سوال کدام است؟

$$۲ \times ۲ = ۴$$

$$۴ \times ۴ = ۱۶$$



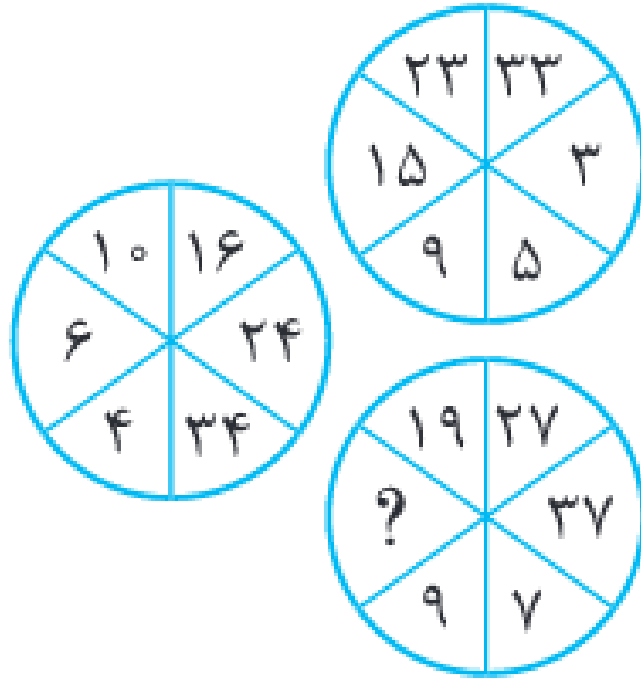
$$۲ \times ۲ = ۴$$

- ۱
- ۲
- ۳
- ۴
- ۶





هوش ریاضی



تست

مقدار علامت سوال کدام است؟

۱۳ ۱

۱۴ ۲

۱۵ ۳

۱۶ ۴

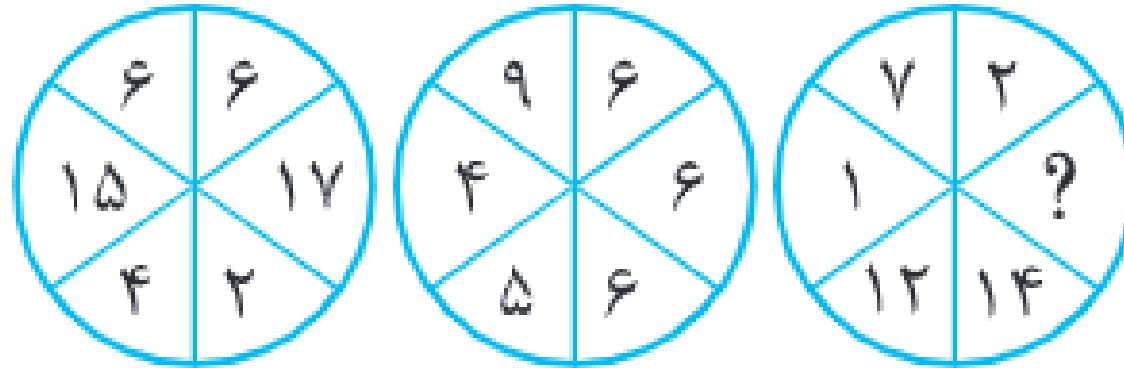




هوش ریاضی

تست

مقدار علامت سوال کدام است؟



۲ ۱

۴ ۲

۶ ۳

۸ ۴

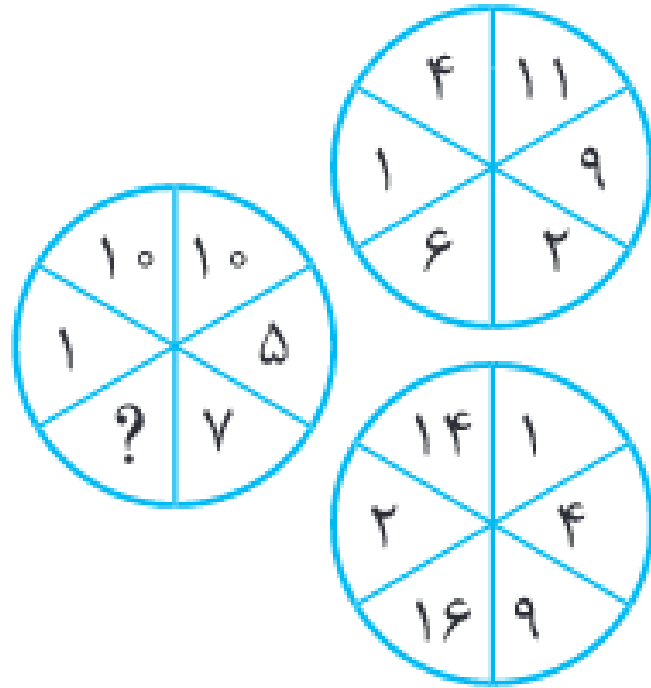




هوش ریاضی

تست

مقدار علامت سوال کدام است؟



۱۱ ۱

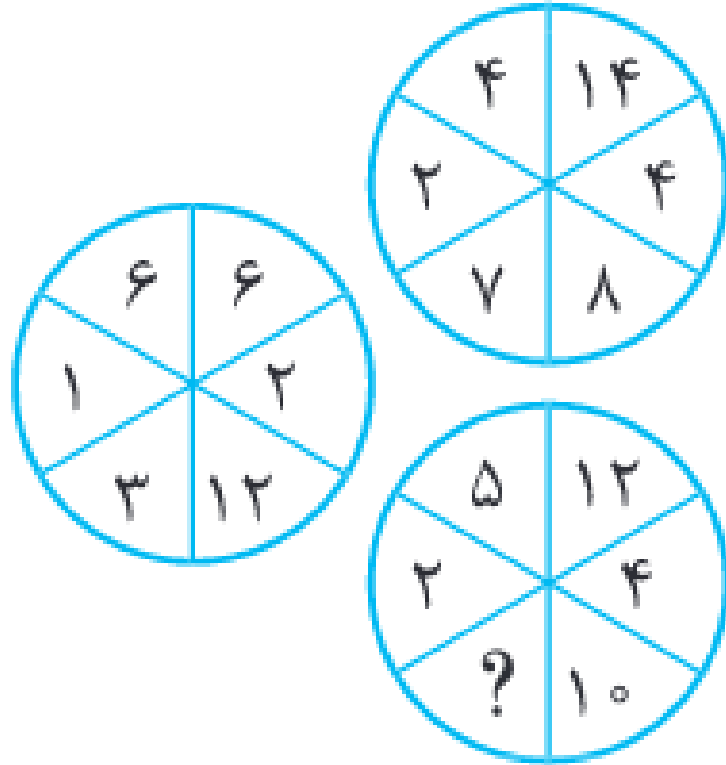
۱۷ ۲

۲۰ ۳

۱۰ ۴



مقدار علامت سوال کدام است؟



۶ ۱

۷ ۲

۲ ۳

۴ ۴