

انواع سوالات دنباله های اعداد و حروف در آزمون تیزهوشان

1

اعداد به اعداد و  
حروف به حروف ربط  
داشته باشند

2

اعداد و حروف به هم  
ربط داشته باشند

جدول حروف الفبا به همراه شماره آن ها

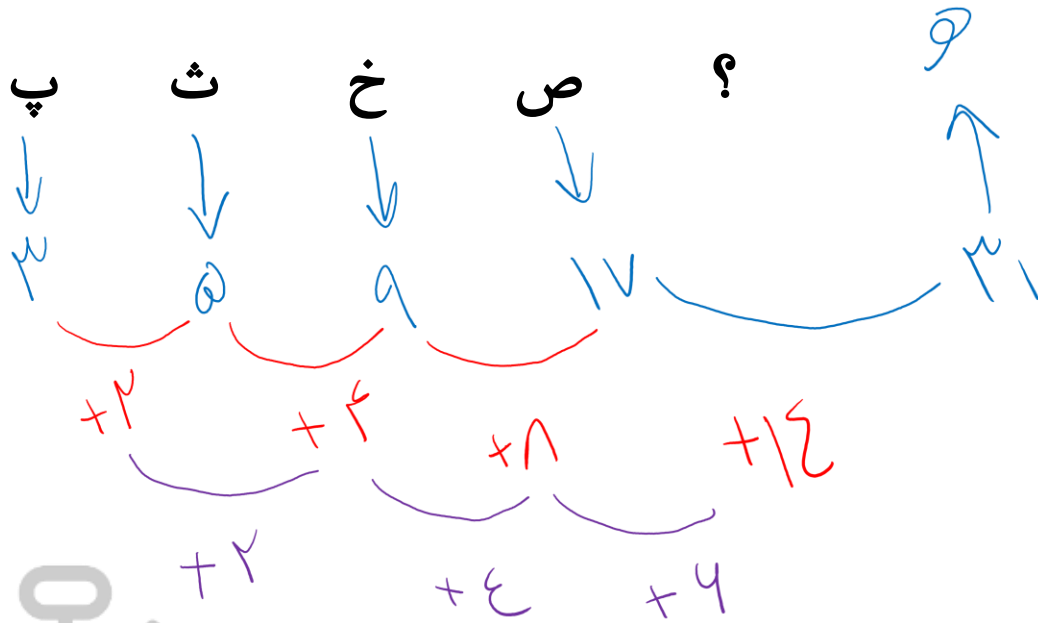
ش	س	ژ	ز	ر	ذ	د	خ	ح	چ	ج	ث	ت	پ	ب	الف
۱۶	۱۵	۱۴	۱۳	۱۲	۱۱	۱۰	۹	۸	۷	۶	۵	۴	۳	۲	۱

ی	ه	و	ن	م	ل	گ	ک	ق	ف	غ	ع	ظ	ط	ض	ص
۳۲	۳۱	۳۰	۲۹	۲۸	۲۷	۲۶	۲۵	۲۴	۲۳	۲۲	۲۱	۲۰	۱۹	۱۸	۱۷

# هوش ریاضی

## تست

کدام گزینه به جای علامت سوال قرار می گیرد؟



- ۱ ن
- ۲ و
- ۳ ه
- ۴ ی



# تست

کدام گزینه به جای علامت سوال قرار می گیرد؟

- ع ۱
- غ ۲
- ف ۳
- ق ۴

بفرمایید

۶  
۲ ۱

؟

ز  
۳ ۱  
۱ ۳

ح  
۱

ث  
۵

پ  
۳ ۱  
۱ ۳

ب  
۲ ۱  
۱ ۲

## هوش ریاضی

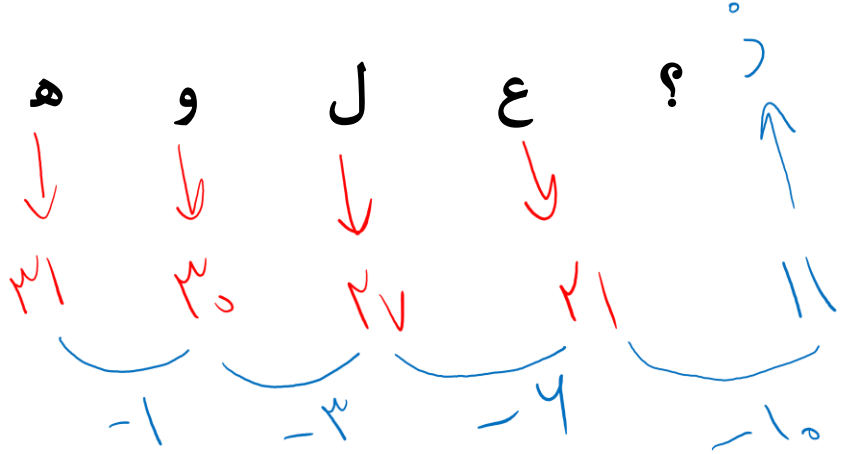
1+1=2  
1×2=2  
x=+



# تست

کدام گزینه به جای علامت سوال قرار می گیرد؟

## هوش ریاضی



- د ۱
- ز ۲
- ر ۳
- ز ۴

اعداد منتهی

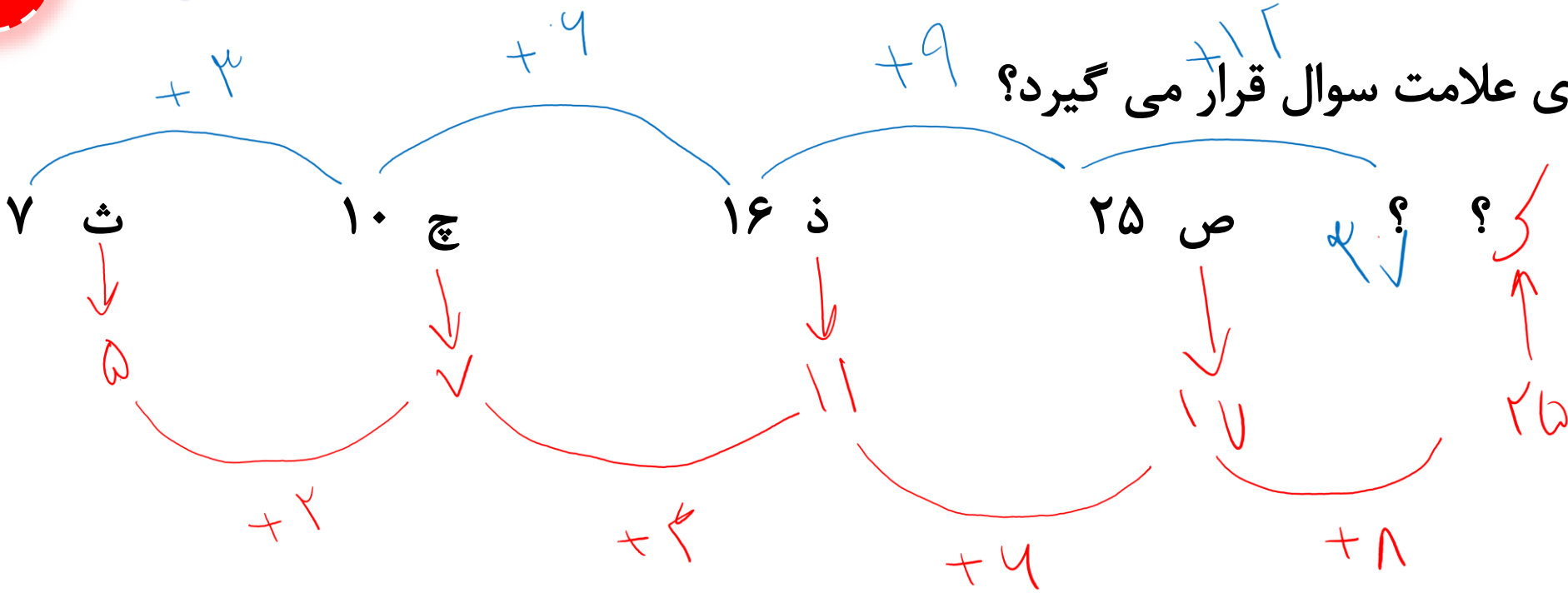
۱، ۳، ۶، ۱۰، ۱۵، ۲۱



# تست

## هوش ریاضی

کدام گزینه به جای علامت سوال قرار می گیرد؟



- 1 ک 37
- 2 گ 37
- 3 ک 39
- 4 گ 39



# تست

کدام گزینه به جای علامت سوال قرار می گیرد؟

هوش ریاضی

۷

۴

۸

۵

۱۰

؟

ب

پ

ث

ج

ذ

؟

۸

۶

۱۲

۱۰

۲۰

؟

۱۰

۷

۷

۱۰

ر

۴

ز

۳

ز

۲

ر

۱

۱۶

۱۸

۱۶

۱۸



# تست

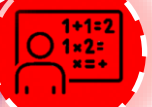
کدام گزینه به جای علامت سوال قرار می گیرد؟

- ۱
- ۲
- ۳
- ۴

کدام

## هوش ریاضی

پ	خ	س
ت	ر	ظ
ث	س	م





# تست

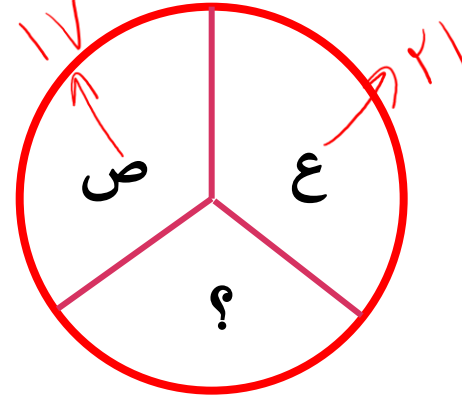
کدام گزینه به جای علامت سوال قرار می گیرد؟

۳۰  ۱

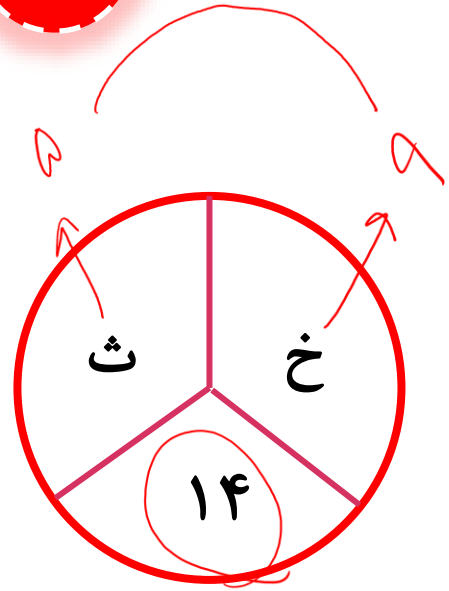
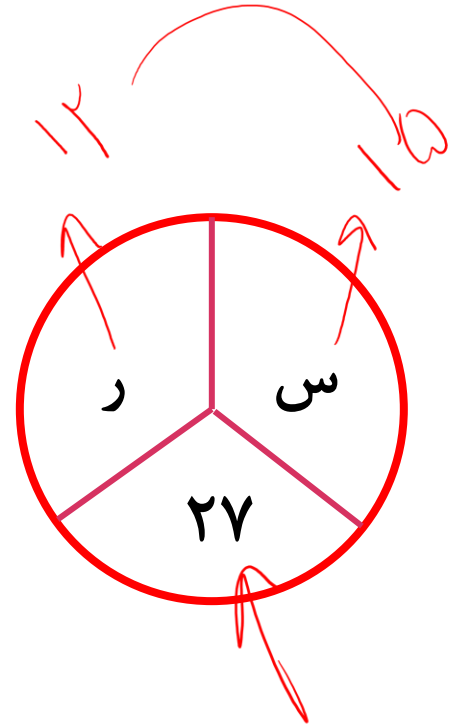
۳۸  ۲

۳۹  ۳

۲۸  ۴



$$۱۷ + ۲۱ = ۳۸$$



## هوش ریاضی

1+1=2  
1+2=3  
x=+

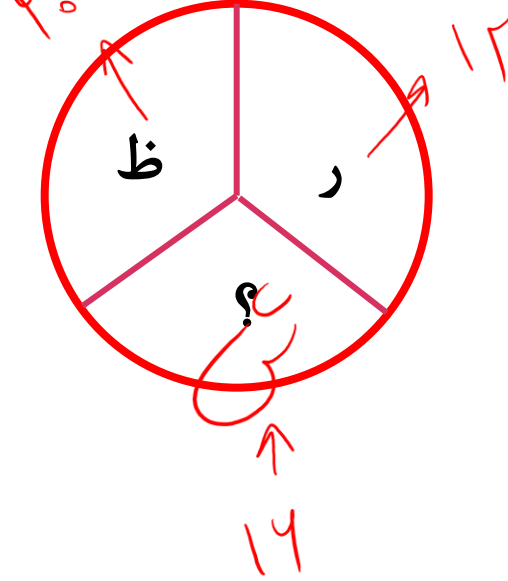


# تست


کدام گزینه به جای علامت سوال قرار می گیرد؟

- ۱ ز
- ۲ ش
- ۳ ص
- ۴ س

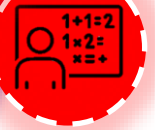
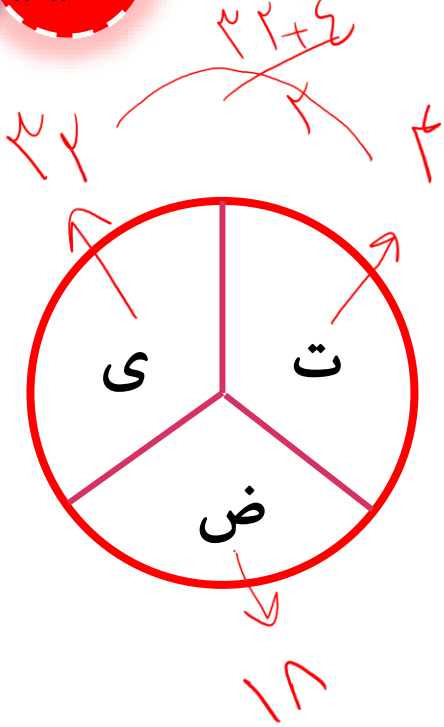
$$\frac{20+12}{2}$$



$$\frac{27+1}{2}$$



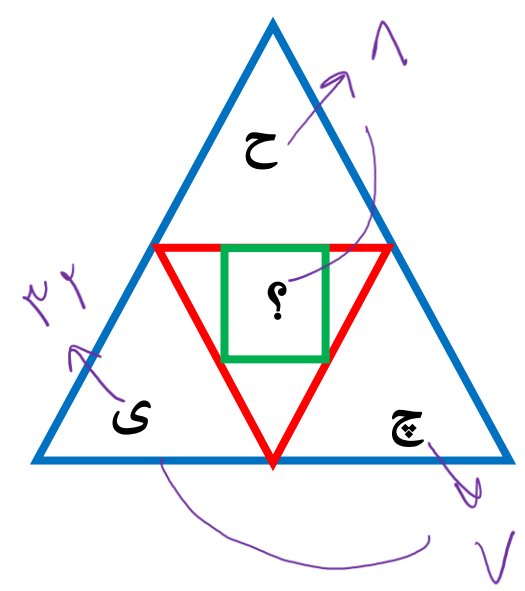
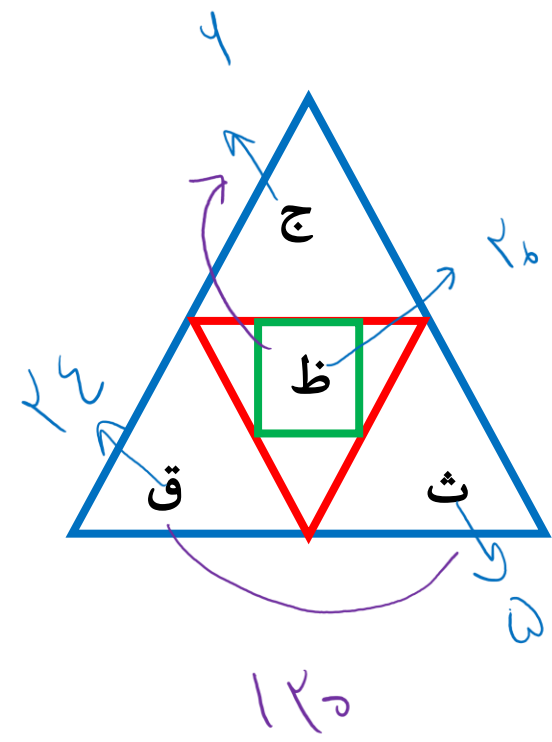
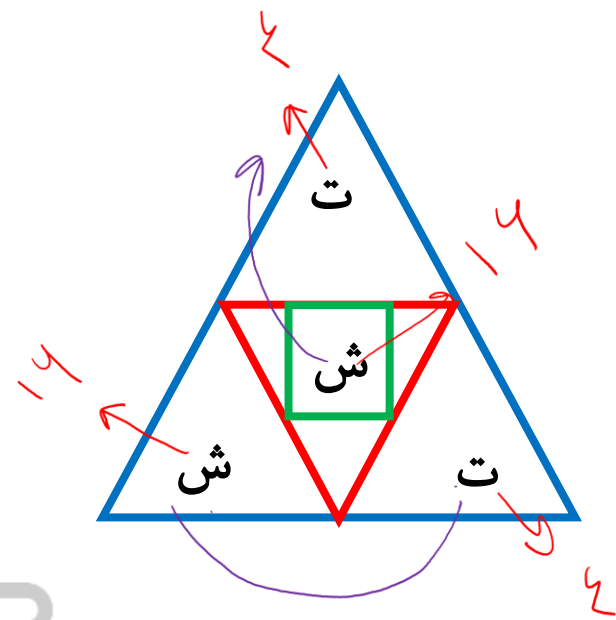
# هوش ریاضی



# تست

کدام گزینه به جای علامت سوال قرار می گیرد؟

- ۱
- ۲
- ۳
- ۴
- ۵



$$۷ \times ۲۲ = ۸ \times ۵ \cdot ۲۸$$

هوش ریاضی

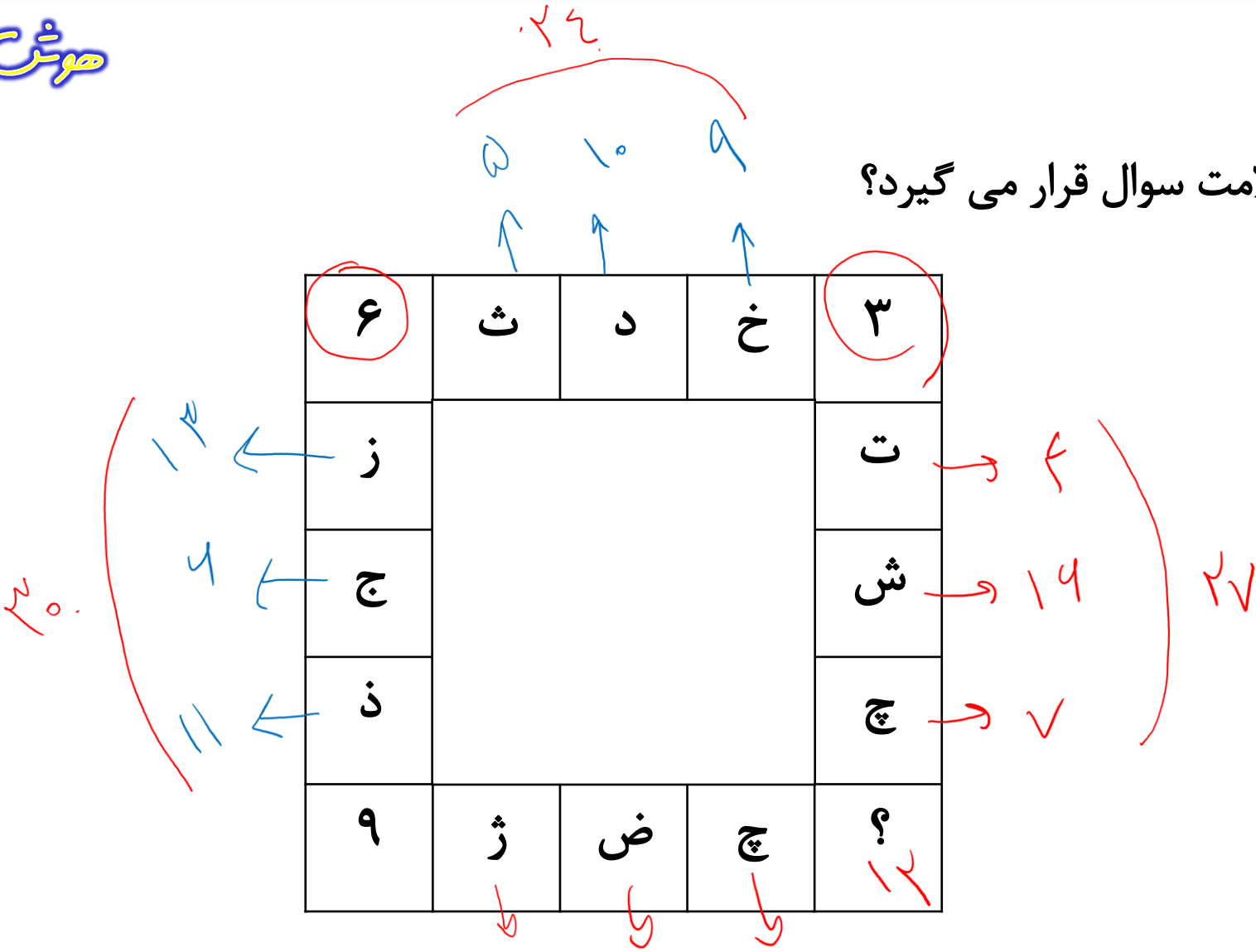


# تست

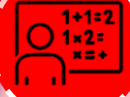
کدام گزینه به جای علامت سوال قرار می گیرد؟

- ۱ (15)
- ۲ (12)
- ۳ (10)
- ۴ (7)

۶	ث	د	خ	۳
ز				ت
ج				ش
ن				چ
۹	ژ	فی	پ	۱۲



هوش ریاضی



# تست

کدام گزینه به جای علامت سوال قرار می گیرد؟

۱ س

۲ ه

۳ چ

۴ ر

۳۲	۱۹
<p>پ      ب</p> <p>۱۳</p>	<p>الف      خ</p> <p>۲۶</p>
<p>۴۵</p> <p>ج      ث</p> <p>۲۵</p>	<p>۹۱</p> <p>خ      الف</p> <p>پ      ب</p>
<p>۲۰</p> <p>ت      ن</p> <p>۳۵</p>	<p>ه      ز</p> <p>س      ؟</p>

# هوش ریاضی

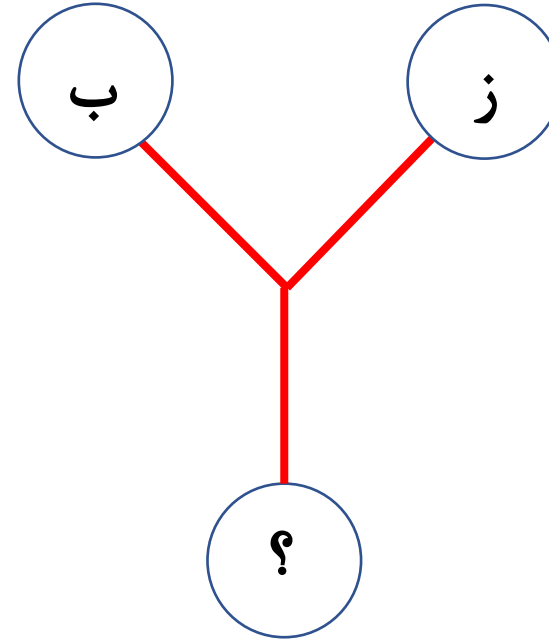
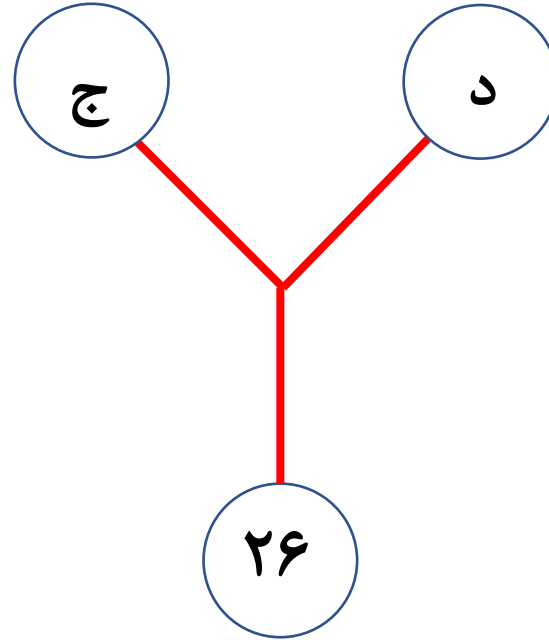
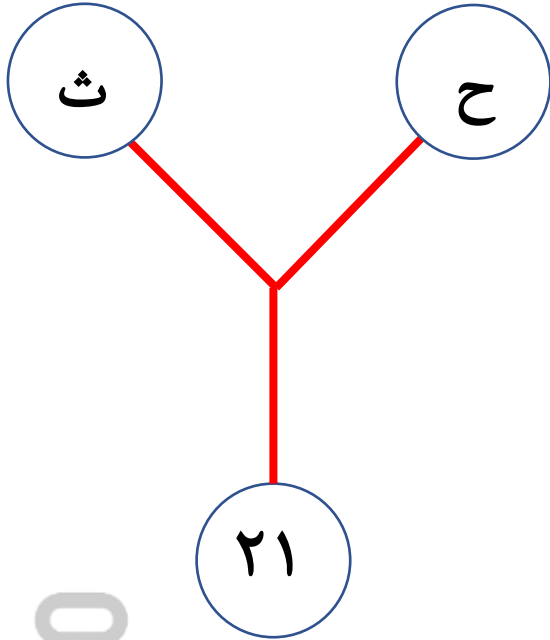
$$۴۵ - ۲۵ = ۲۰$$

$$۸۷ - ۵۲ = ۳۵$$



# تست

کدام گزینه به جای علامت سوال قرار می گیرد؟



- ۲۲  ۱
- ۲۴  ۲
- ۲۶  ۳
- ۲۸  ۴

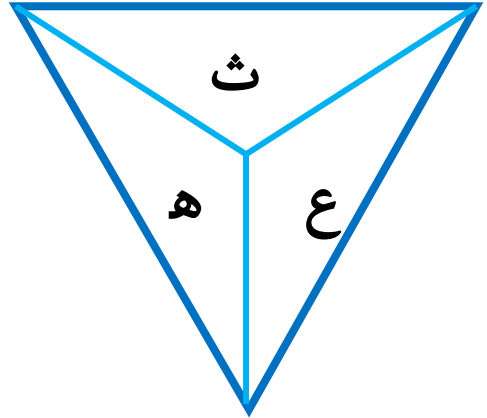
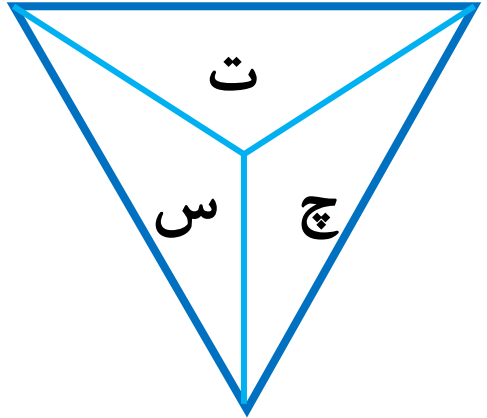
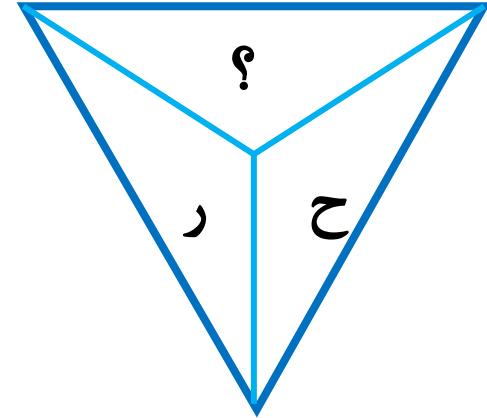
هوش ریاضی



# تست

کدام گزینه به جای علامت سوال قرار می گیرد؟

- ۱ الف
- ۲ ب
- ۳ ج
- ۴ د

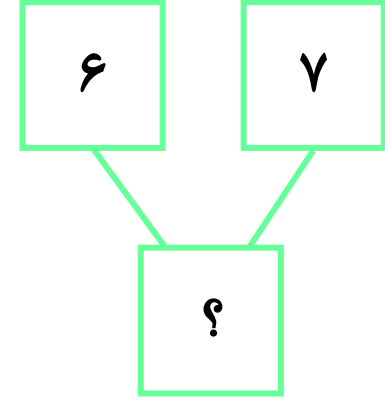
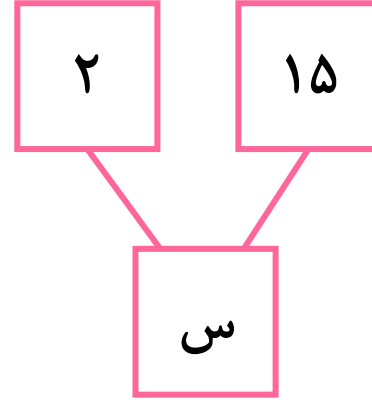
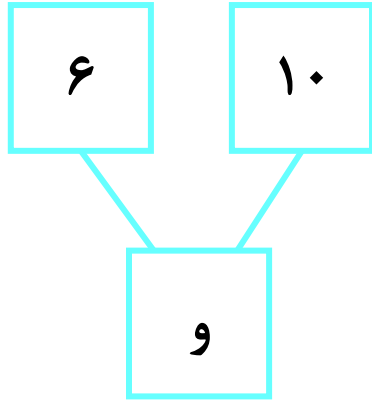
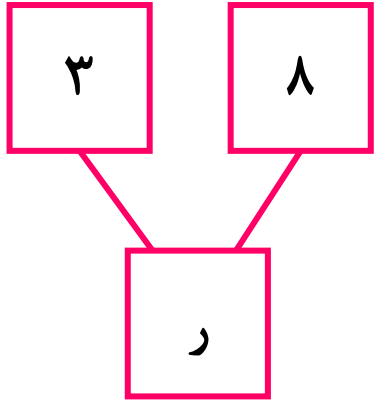


هوش ریاضی



# تست

کدام گزینه به جای علامت سوال قرار می گیرد؟



- ۱
  - ۲
  - ۳
  - ۴
- ع  
ق  
ص  
ژ

هوش ریاضی

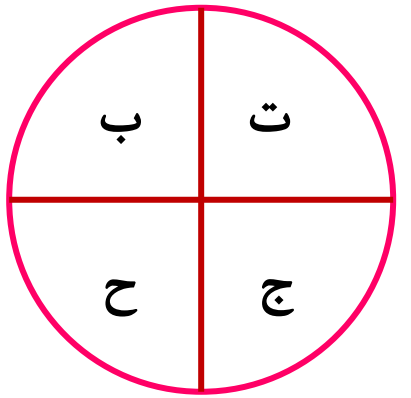
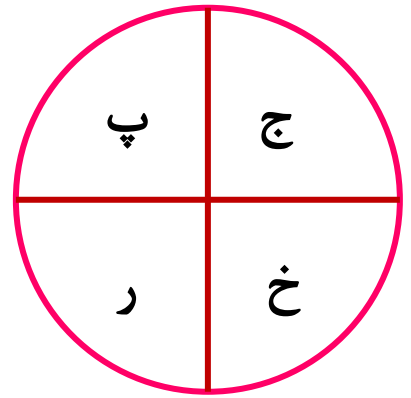
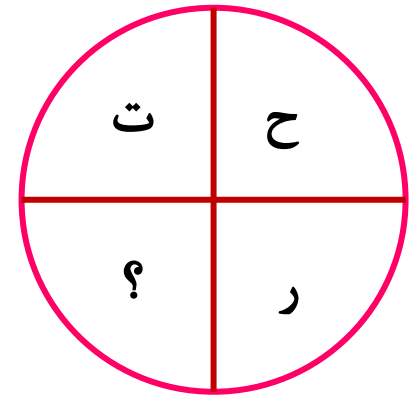




# تست

کدام گزینه به جای علامت سوال قرار می گیرد؟

- ۱ ش
- ۲ گ
- ۳ ع
- ۴ غ



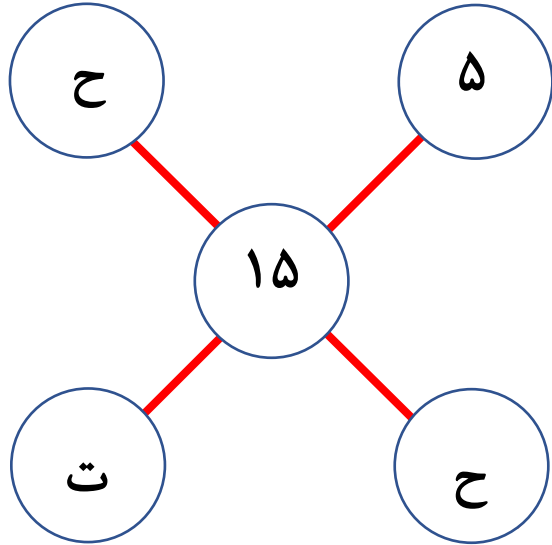
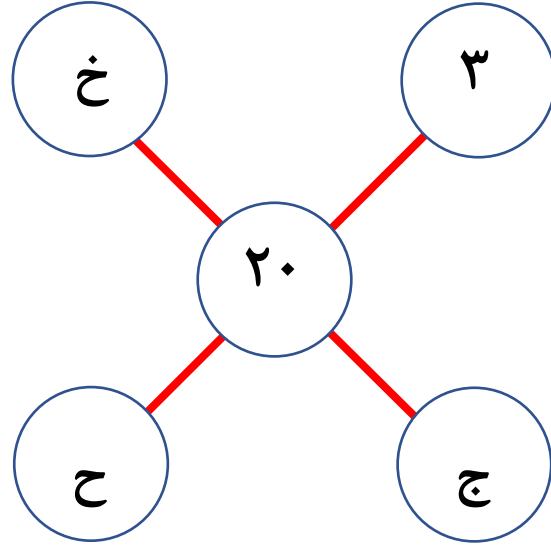
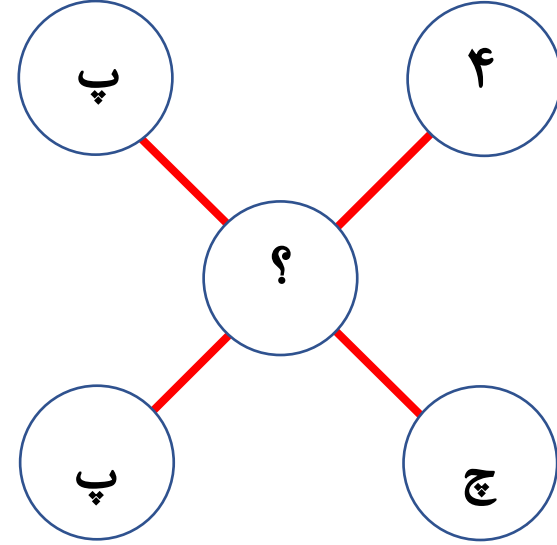
هوش ریاضی



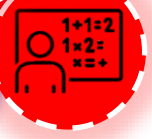
# تست

کدام گزینه به جای علامت سوال قرار می گیرد؟

- ۱
- ۲
- ۳
- ۴



هوش ریاضی



# تست

کدام گزینه به جای علامت سوال قرار می گیرد؟

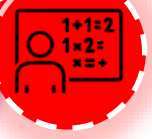
- ۱ ع
- ۲ ق
- ۳ ص
- ۴ ض

چ		چ
ز		؟
د		ج

ت		ث
ژ		ث
آ		خ

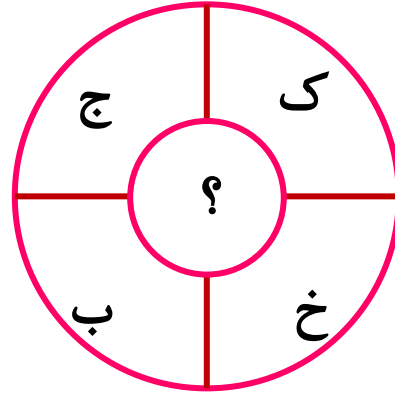
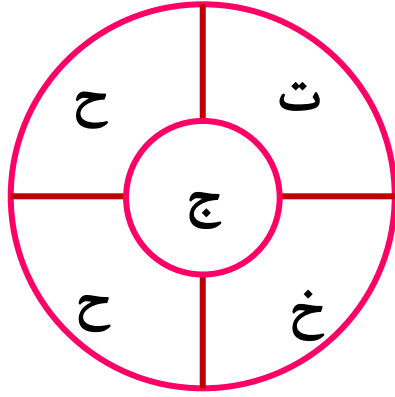
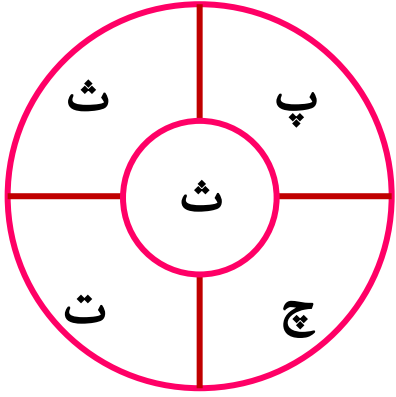
پ		پ
د		ر
خ		چ

هوش ریاضی



# تست

کدام گزینه به جای علامت سوال قرار می گیرد؟



۱ ب

۲ الف

۳ پ

۴ ج

هوش ریاضی

