


رياضی نوم
نترم پاپير







تقارن:

خط تقارن شکل را به دو قسمت مساوی تقسیم می کند. به طوری که دو قسمت همدیگر را کامل بپوشانند، یک نیمه، کامل کننده نیمه دیگر است. یادمان باشد در مشخص کردن خط تقارن شکل های رنگی به قسمت های رنگی هم توجه کنیم که روی هم قرار بگیرند.

بهتر است که خط تقارن در شکل ها را با خط چین (-----) نشان دهیم!
به مثال های زیر توجه کنید:

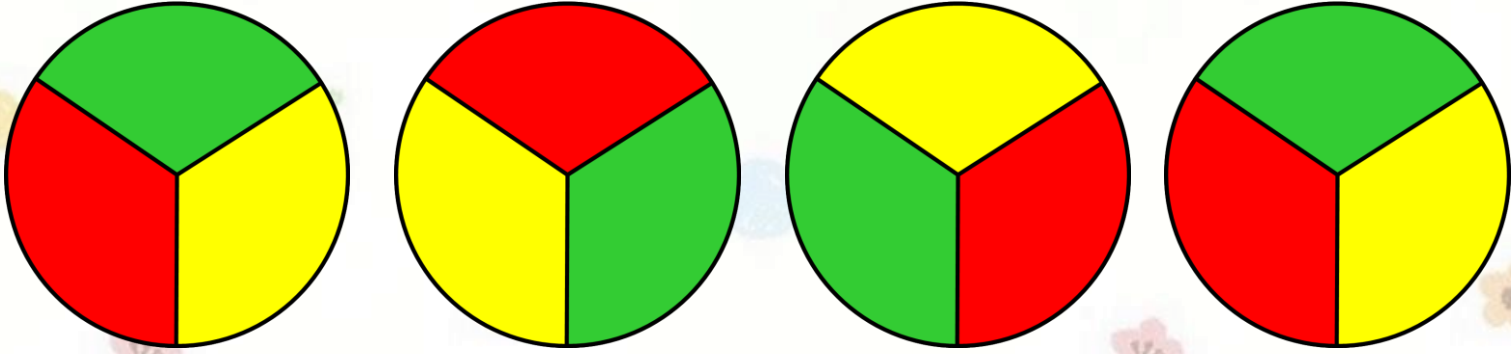


سوال: ۱
الگوی بعدی چیست؟





سوال: ۲

الگوی بعدی چیست؟

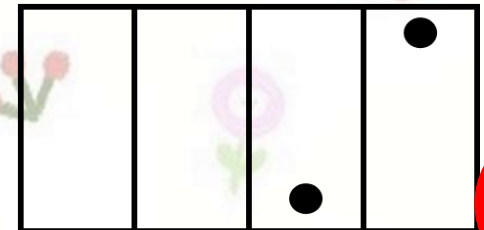


سوال: ۳

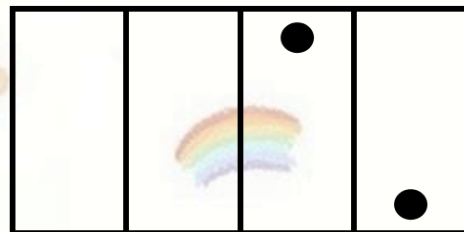
الگوی بعدی چیست؟




(۲)



(۱)



(۴)







(۳)







سوال: ۴

شکل بعدی که قورباغه روی آن می پرد کدام است؟




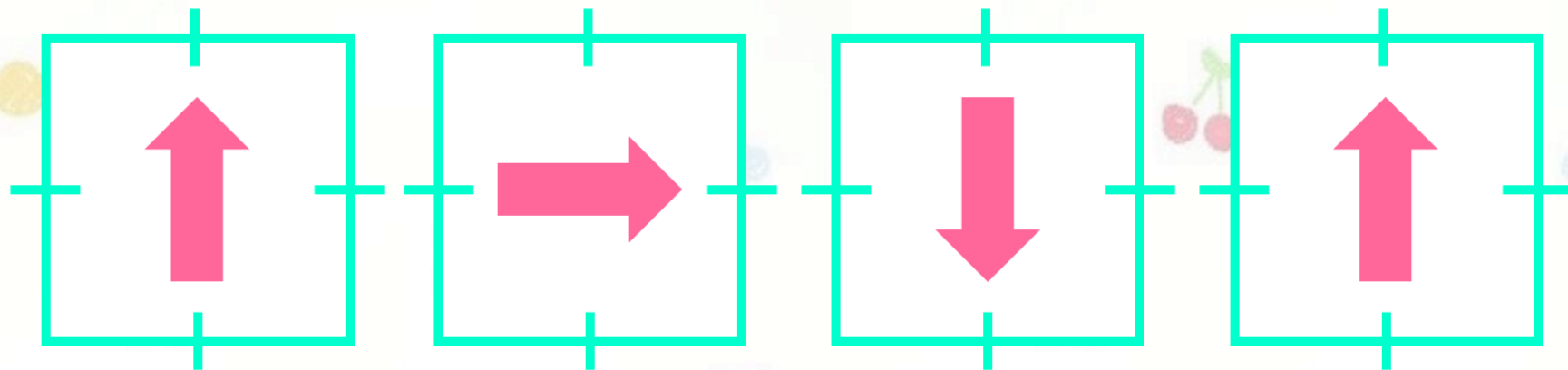
سوال: ۵

شکل بعدی کدام است؟



سوال: ۶

شکل بعدی کدام است؟



سوال: ۷

عدد بعدی الگو را بدست آورید؟

۳، ۶، ۹، ۱۲،،

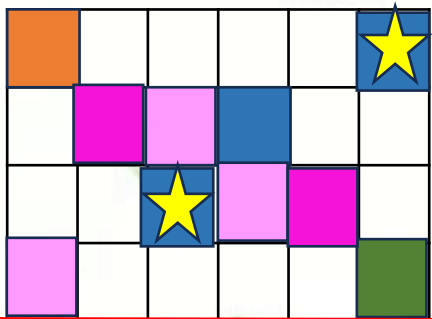
۱، ۳، ۵،،

۸، ۶، ۴،،




سوال ۸:


با توجه به خط تقارن شکل نیمه دیگرش را پیدا کن .




۱




۲



۳

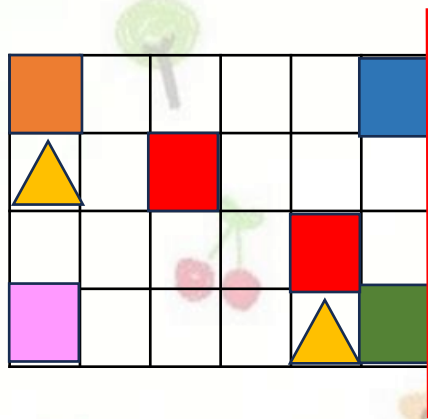


۴

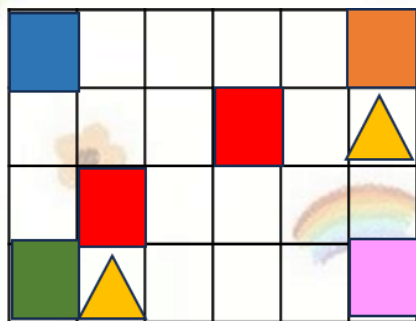


سوال: ۹

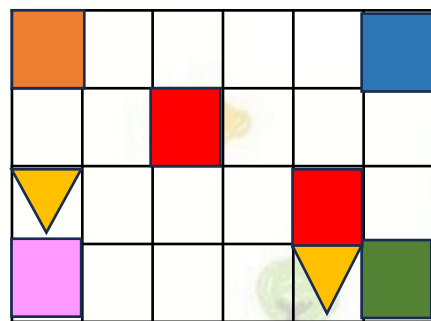
با توجه به خط تقارن شکل نیمه دیگرش را پیدا کن .



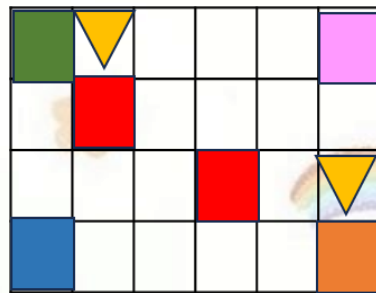
۱



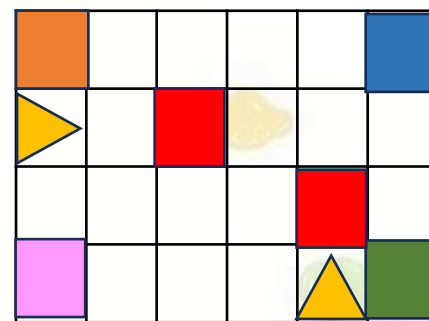
۲



۳



۴



سوال: ۱۰
تصویر شکل مقابل در آینه چگونه است؟



(۱)



(۲)



(۳)

هیچکدام

(۴)

سوال : ۱۱
کدام گزینه تقارن شکل در آب می باشد؟



(۱)



(۲)



(۳)



(۴)

سوال : ۱۳



ساعت به چند مانده؟



ساعت از چند گذشته؟



سوال : ۱۴



ساعت به چند مانده؟



ساعت از چند گذشته؟

