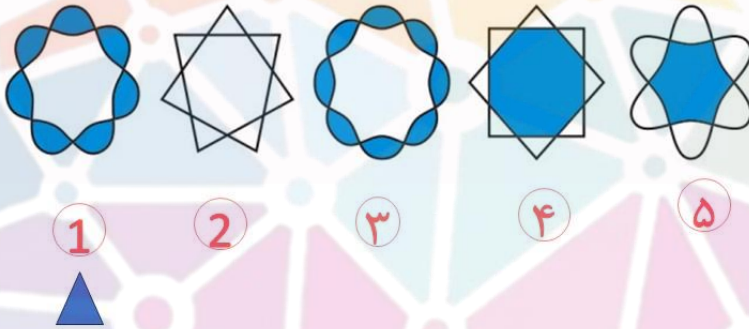
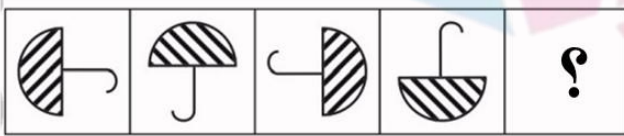



۱. شکل اول پس از تغییراتی به شکل دوم تبدیل می شود. ببینید شکل اول هر بار چطور تغییر کرده است. حالا شکل سوم با اعمال همان تغییرات، از بین شکل های سمت راست به کدام شکل تبدیل می شود؟



۲. به جای علامت سوال چه گزینه ای قرار می گیرد؟



۳. به جای علامت سوال چه گزینه ای قرار می گیرد؟



①      ②      ③      ④      ⑤



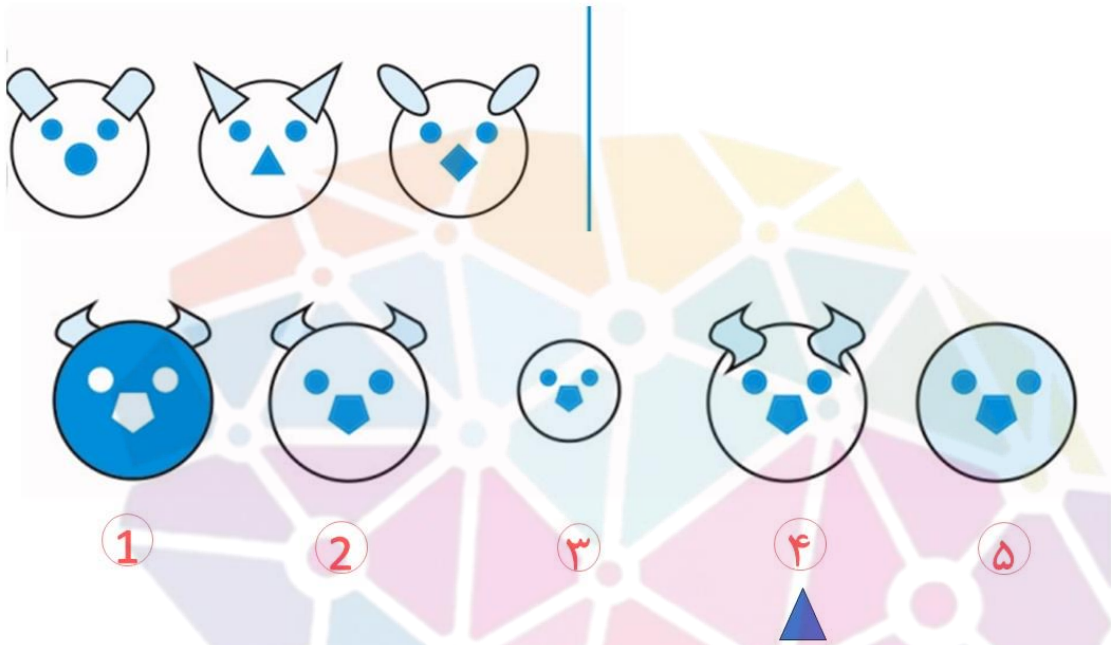
۴. به جای علامت سوال چه گزینه ای قرار می گیرد؟



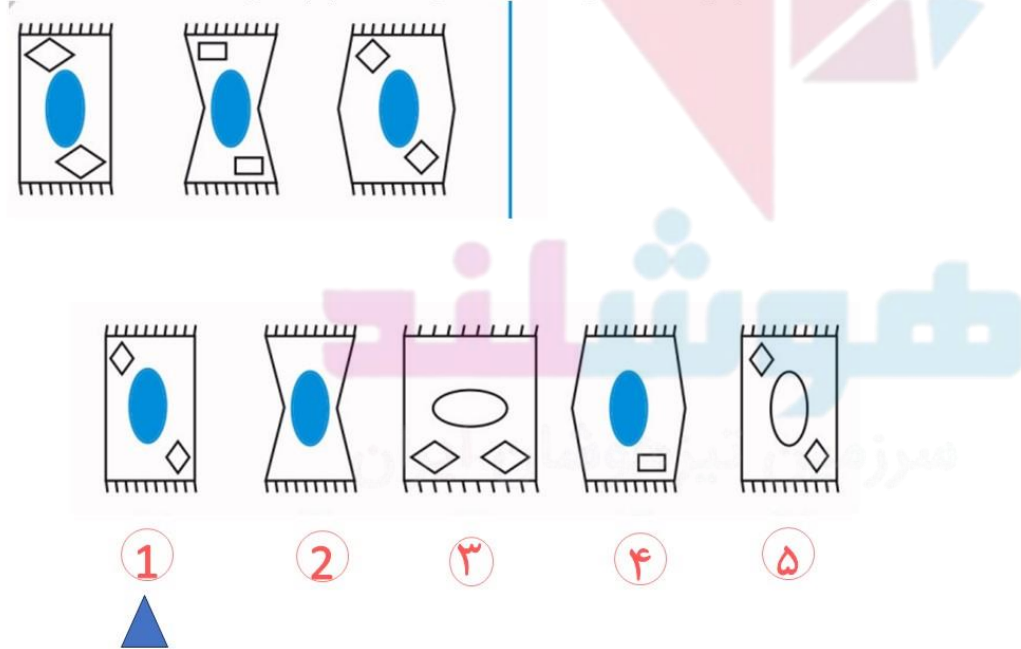
①      ②      ③      ④      ⑤



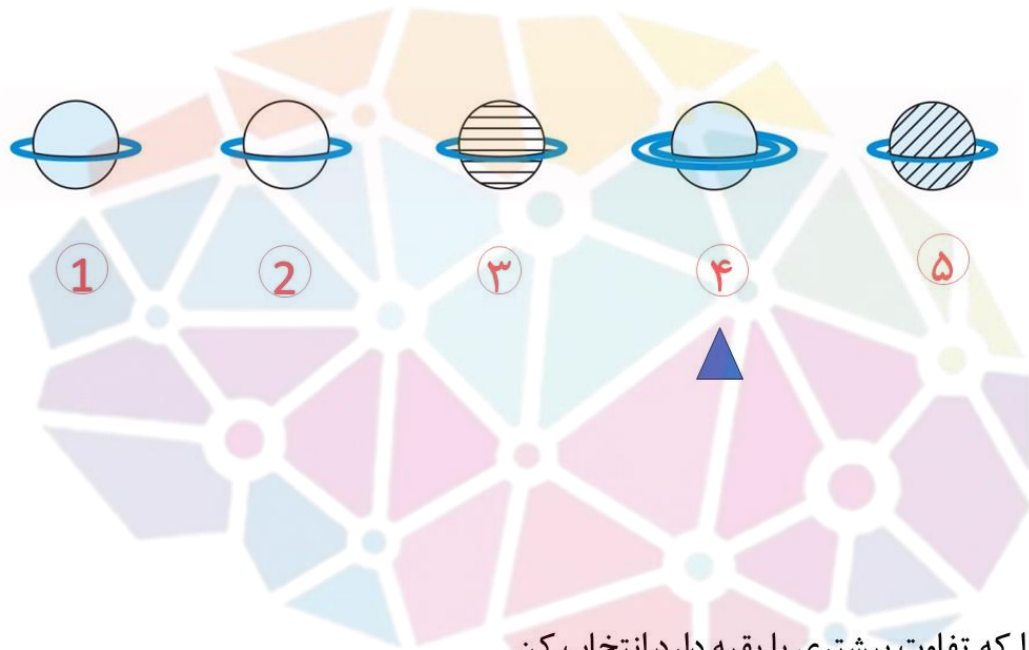
۵. کدام یک از شکل های سمت راست بیشترین شباهت را به سه شکل سمت چپ دارند؟



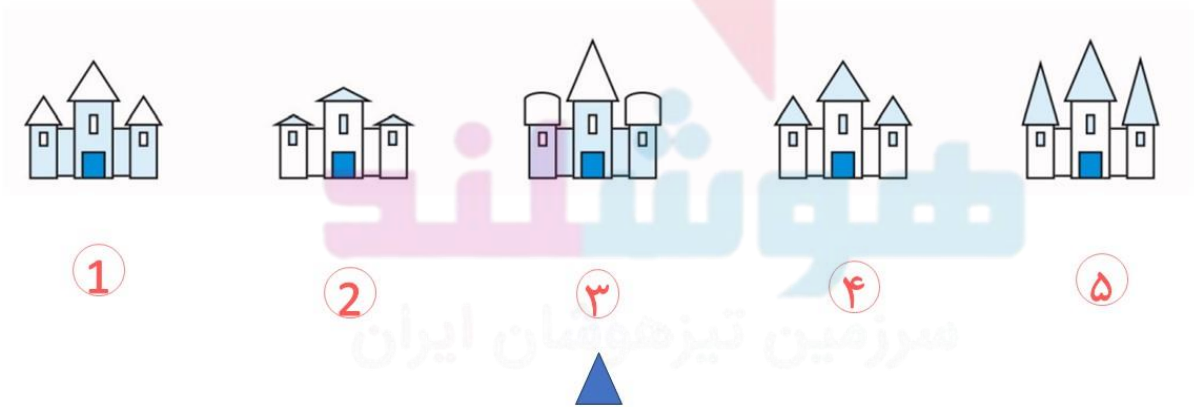
۶. کدام یک از شکل های سمت راست بیشترین شباهت را به سه شکل سمت چپ دارند؟



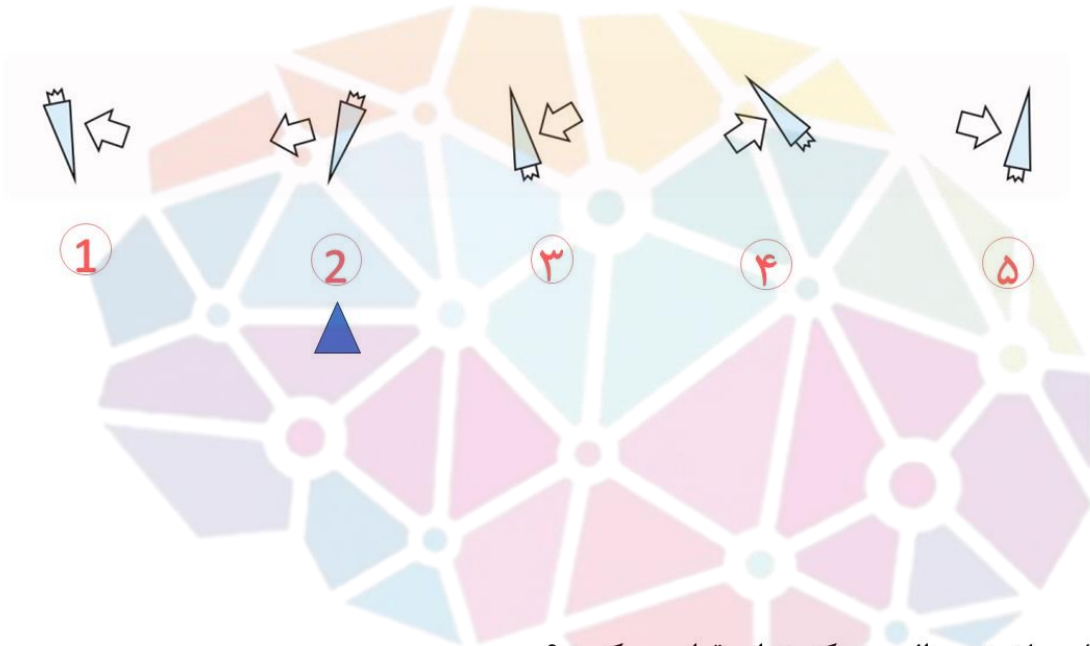
۷. شکلی را که تفاوت بیشتری با بقیه دارد انتخاب کن.



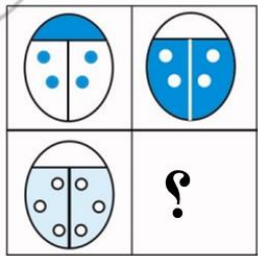
۸. شکلی را که تفاوت بیشتری با بقیه دارد انتخاب کن.



۹. شکلی را که تفاوت بیشتری با بقیه دارد انتخاب کن.



۱۰. به جای علامت سوال چه گزینه ای قرار می گیرد؟



(۱)

(۲)

(۳)

(۴)

(۵)

هوشمند

سرزمین تیزهوشان ایران