

هوش و خلاقیت

پایه دوم



# درس دهم :

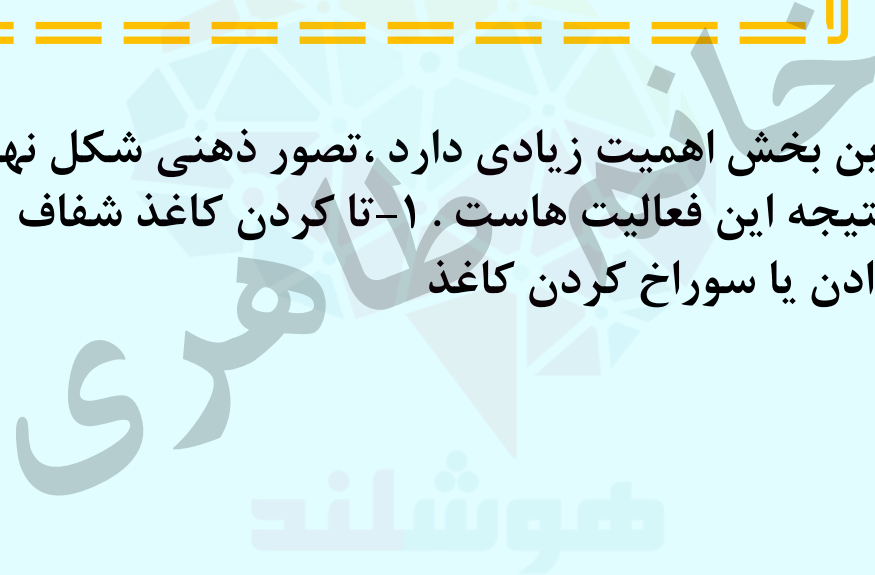
تا کردن کاغذ



## نکات مربوط به تا کردن کاغذ:



آنچه در این بخش اهمیت زیادی دارد، تصور ذهنی شکل نهایی کاغذ در نتیجه این فعالیت هاست. ۱- تا کردن کاغذ شفاف  
۲- برش دادن یا سوراخ کردن کاغذ ✓



# نکات مربوط به تا کردن کاغذ:

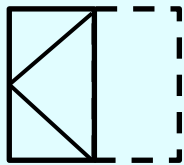
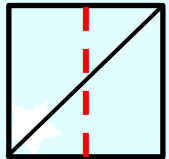


۱- تا کردن کاغذ شفاف ✓

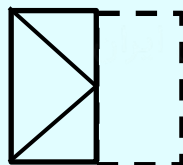
در این سوالات شما باید گزینه ای را انتخاب کنید که از تا شدن تصویر داده شده از روی خط چین است.

۱- خط چین می تواند عمودی یا افقی باشد.

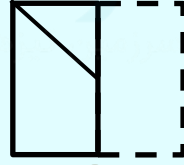
۲- کادر خط چین و قسمت سفید موجود در تصاویر گزینه ها، قسمت تا شده تصویر محسوب می شود. مثال: پس از تا کردن کاغذ مقابل از روی خط چین کدام تصویر ایجاد می شود.



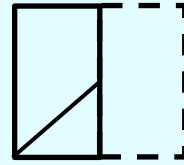
۱



۲

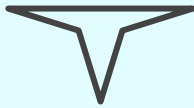
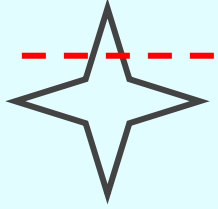


۳



۴

۱- اگر شکل سمت چپ را از روی خط چین تا بزنیم، کدام شکل، تصویر آن پس از تا خوردن است؟



۱



۲



۳

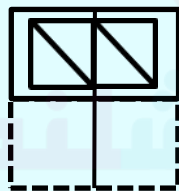
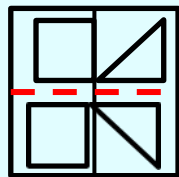


۴

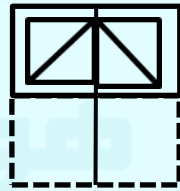


۵

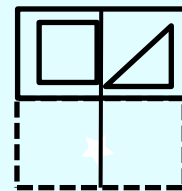
۲- پس از تا کردن کاغذ از محل خط چین کدام تصویر دیده می شود؟



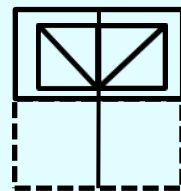
۱



۲

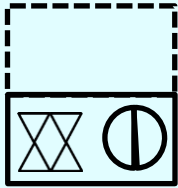
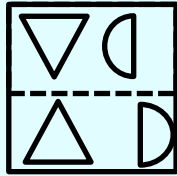


۳




۴

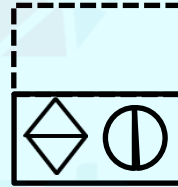
۳- پس از تا کردن کاغذ از محل خط چین کدام تصویر دیده می شود؟




۱



۲

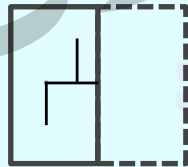
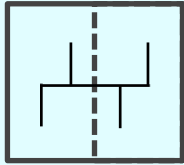


۳

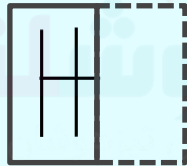


۴

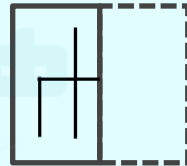
۴- پس از تا کردن کاغذ از محل خط چین کدام تصویر دیده می شود؟



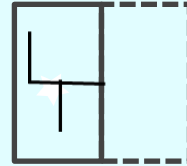
۱



۲



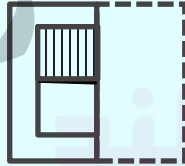
۳



۴



۵- پس از تا کردن کاغذ از محل خط چین کدام تصویر دیده می شود؟



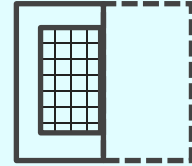
۱



۲

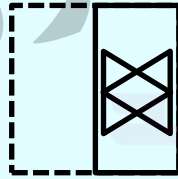
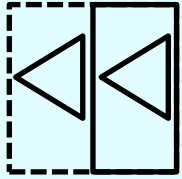


۳

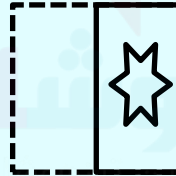


۴

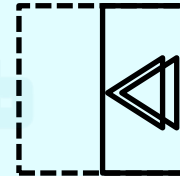
۶- پس از تا کردن کاغذ از محل خط چین کدام تصویر دیده می شود؟



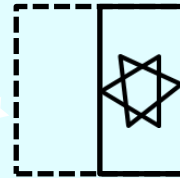
۱



۲



۳

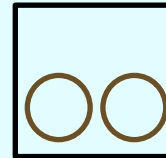
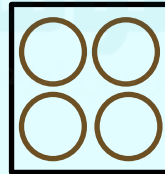
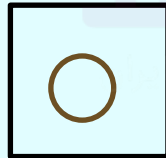
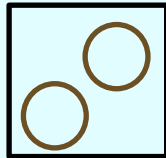
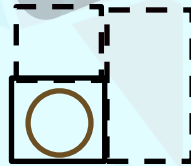
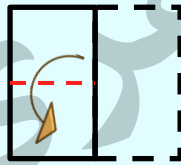
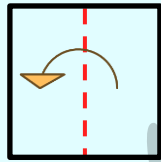


۴

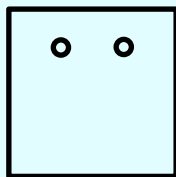
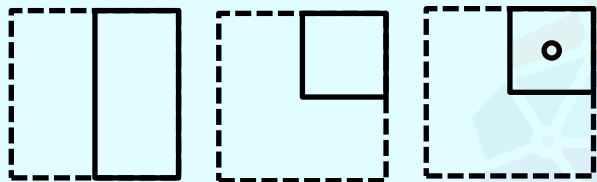
# نکات مربوط به تا کردن کاغذ:



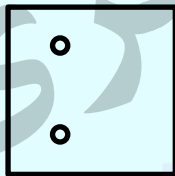
۲- برش دادن و سوراخ کردن کاغذ  
ابتدا کاغذ را چند بار تا می کنند، سپس برش می زنند و شما باید حدس بزنید  
کاغذ باز شده چه شکلی است .



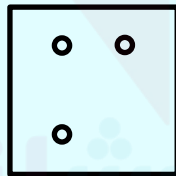
۷- مربعی را مطابق شکل سمت چپ، تا می زنیم و سوراخ می کنیم. کدام گزینه پس از باز کردن مربع حاصل می شود؟



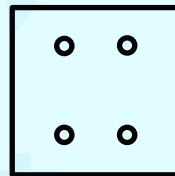
۱



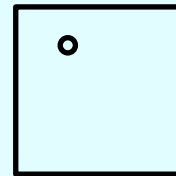
۲



۳




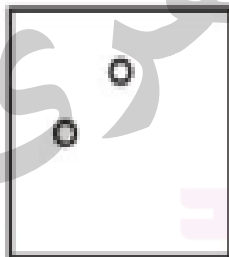


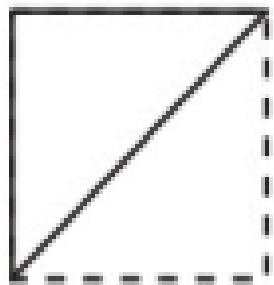


۴



۵

۸- گزینه مناسب را انتخاب کنید.



۱


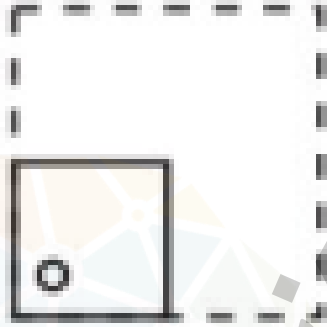


۲

۳

۴

۵

۹- گزینه مناسب را  
انتخاب کنید.



۱

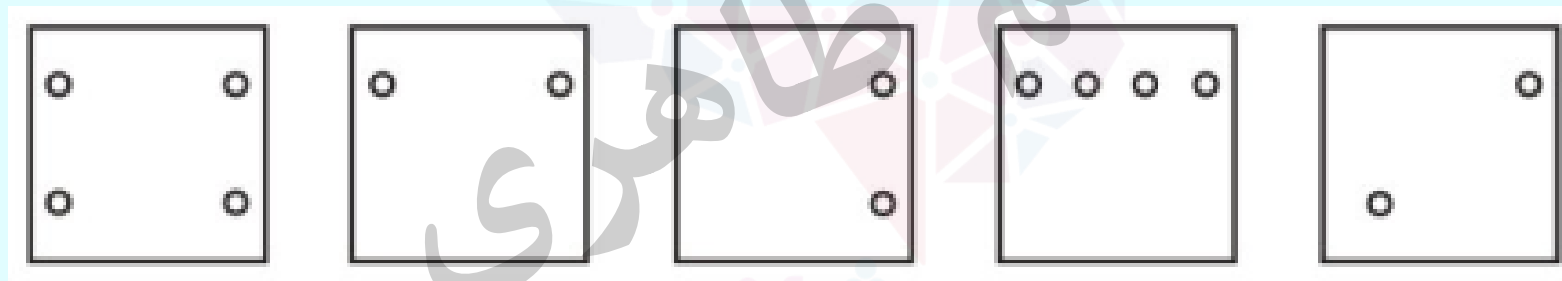
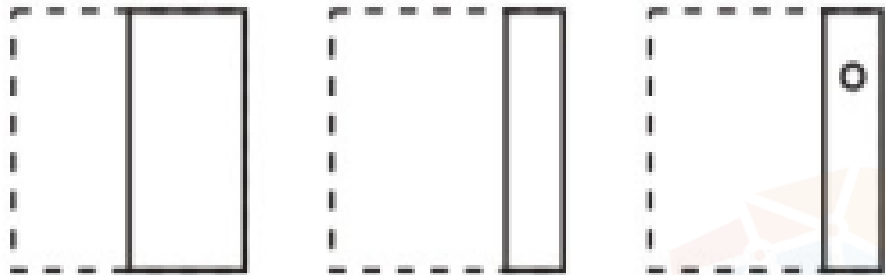
۲

۳

۴

۵

۱۰- گزینه مناسب را انتخاب کنید.



۱

۲

۳

۴

۵

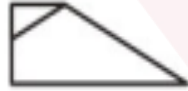
تمرین ۱- گزینه مناسب را انتخاب کنید.



۱



۲



۳




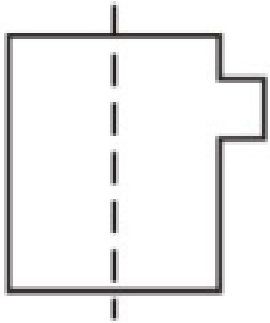
۴



۵



تمرین ۲ - گزینه مناسب را انتخاب کنید.



۱



۲



۳





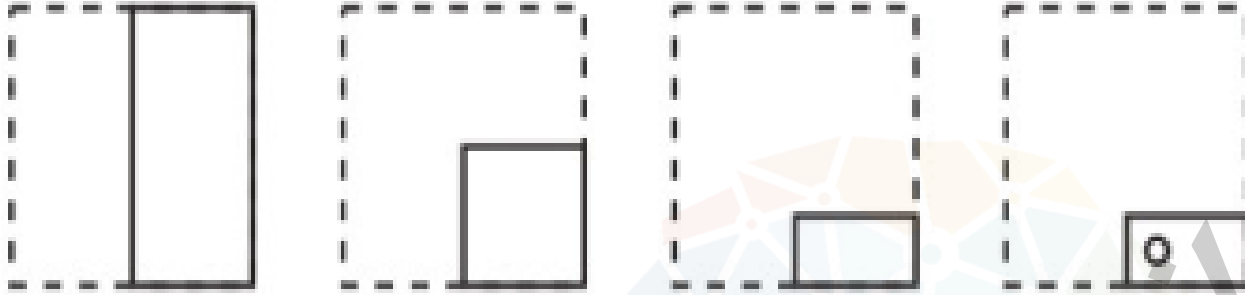


۴



۵

تمرین ۳ - گزینه مناسب را  
انتخاب کنید.



۱

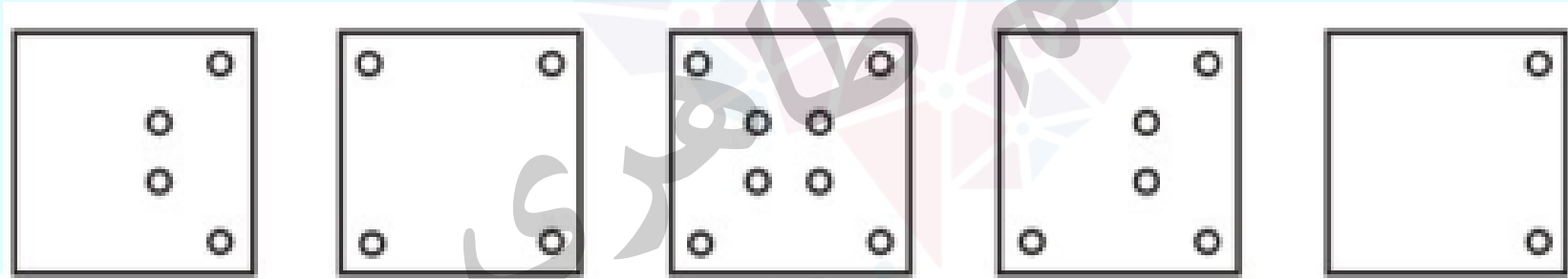
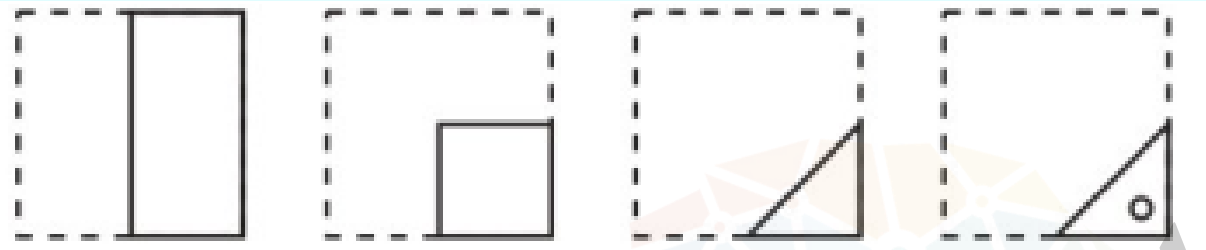
۲

۳

۴

۵

تمرین ۴ - گزینه مناسب  
را انتخاب کنید.



۱

۲

۳

۴

۵

تمرین ۵- گزینه مناسب را انتخاب کنید.



۱



۲



۳



۴

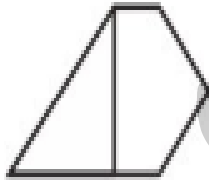
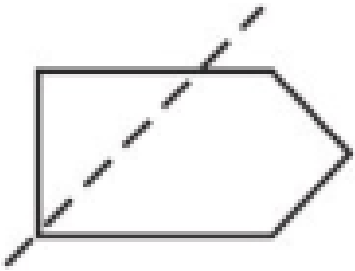


۵


خانه طلایی



تمرین ۶ - گزینه مناسب را انتخاب کنید.




۱



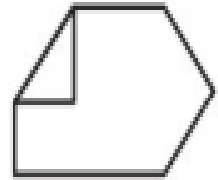
۲



۳

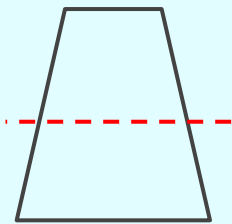


۴



۵

تمرین ۷- اگر شکل سمت چپ را از روی خط چین تا بزنیم، کدام شکل، تصویر آن پس از تا خوردن است؟



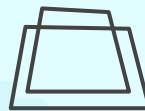
۱



۲



۳



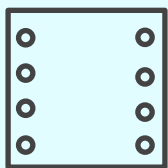
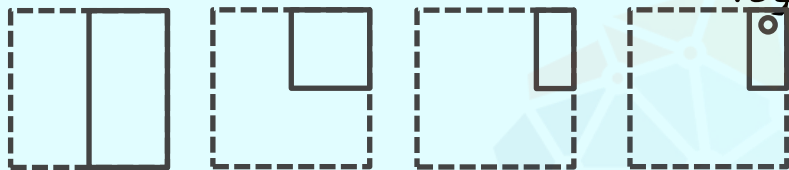
۴




۵

تمرین ۸ - مربعی را مطابق شکل سمت چپ، تا می زنیم و سوراخ می کنیم. کدام


گزینه پس از باز کردن مربع حاصل می شود؟




۱



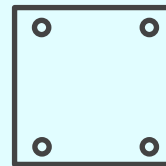
۲



۳



۴



۵

# کلید تمرین ها:

۱

۲

پاسخ:

۲

۴

پاسخ:

۳

۲

پاسخ:

۴

۳

پاسخ:

۵

۲

پاسخ:





پاسخ: ۲

۶

پاسخ: ۲

۷

پاسخ: ۴

۸

خانه طاہری

هوشلند

موسسه تخصصی زبان

