


# هوش ریاضی






۱ به جایگاه حروف اعداد و اشکال دقت کنم

۲ به تعداد تکرار حروف اعداد و اشکال دقت کنم

۳ بعضی وقتا بهتره از وسط یا آخر شروع کنم

۴ در هر مرحله حواسم به حذف گزینه باشه



# هوش ریاضی

هریک از کلمات به یکی از اعداد مربوط است ، کلمه ای که با علامت سوال مشخص شده برابر با

چه عددی خواهد بود ؟

<u>SARI</u>	A	<u>2383</u> X	۲
<u>KASA</u>	B	<u>2178</u>	↑
<u>KURS</u>	C	3435	→ <u>KURS=?</u>
<u>AMAC</u>	D	<u>5372</u>	
<u>CARK</u>	E	8379	

K ۲ بار اول آمده ، ۱ بار آخر  
رسم ۲ مع ۲ بار اول آمده ، ۱ بار آخر

# هوش ریاضی

هریک از کلمات به یکی از اعداد مربوط است ، کلمه ای که با علامت سوال مشخص شده برابر با

چه عددی خواهد بود ؟

MELAMET

A 5460943

~~KEFALET~~

~~B 8460743~~

SELAMET

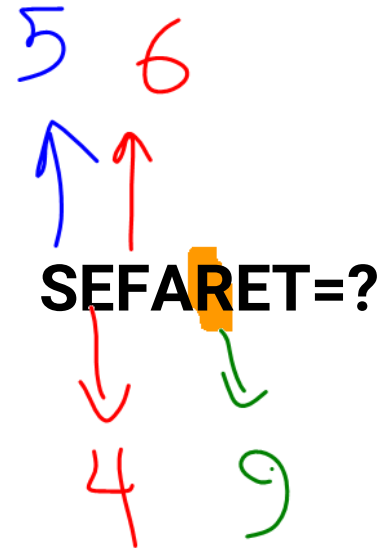
C 5460743

~~SEFALET~~

~~D 1470143~~

SEFARET

~~E 5470143~~



# هوش ریاضی

هریک از کلمات به یکی از اعداد مربوط است ، کلمه ای که با علامت سوال مشخص شده برابر با چه عددی خواهد بود ؟

<del>MARKIZ</del>	<del>A</del>	403951	
<del>DERZIM</del>	<del>B</del>	123456	
<del>MARDIN</del>	<del>C</del>	603156	
<del>KANKAN</del>	<del>D</del>	123759	
<del>NERMIN</del>	<del>E</del>	726726	

# هوش ریاضی

هریک از کلمات به یکی از اعداد مربوط است ، کلمه ای که با علامت سوال مشخص شده برابر با چه عددی خواهد بود ؟

- |        |     |   |        |            |
|--------|-----|---|--------|------------|
| 792136 | (1) | A | KONSER |            |
| 136408 | (2) | B | KANEPE |            |
| 496897 | (3) | C | KANSER | → 792343=? |
| 792343 | (4) | D | PARLAK |            |
| 752136 | (5) | E | SERPIL |            |

کد ک

# هوش ریاضی

هریک از کلمات به یکی از اعداد مربوط است ، کلمه ای که با علامت سوال مشخص شده برابر با چه عددی خواهد بود ؟

13573

~~A~~ SABRI

35739

B PERDE

73925

C DEMIR



D  
73925=?

63935




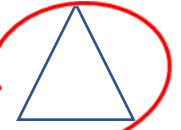


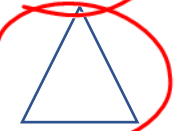







D ERDEM

68452

~~E~~ SEMER

# هوش ریاضی

هر سری از اشکال داده شده متناظر با یک عدد چهار رقمی است. شکلی که با علامت سوال مشخص شده را بیابید.

	$\neq$		
	$+$		
	$\neq$		
$\cap$	$+$		
	$\neq$		

A 1838

**B 6252**

C 6386

D 2528

E 6528



~~square~~  $\neq$  ~~square~~ =?



# هوش ریاضی

هر سری از اشکال داده شده متناظر با یک عدد چهار رقمی است . شکلی که با علامت سوال مشخص شده را بیابید.

YAPI



KIYI



KAZI



KAZI=?

YAZI



SARI



# هوش ریاضی

هر سری از اشکال داده شده متناظر با یک عدد چهار رقمی است. شکلی که با علامت سوال

مشخص شده را بیابید.

ELEK



KEDI



ILIK



DEDE



LEKE



EKILDI=?



A)



B)



C)



D)



E)



# هوش ریاضی

هریک از کلمات برابر یکی از اعداد داده شده هستند. با توجه به آن ها جای کلمه ای که با علامت سوال مشخص شده کدام یک از اعداد را می توان قرار داد؟

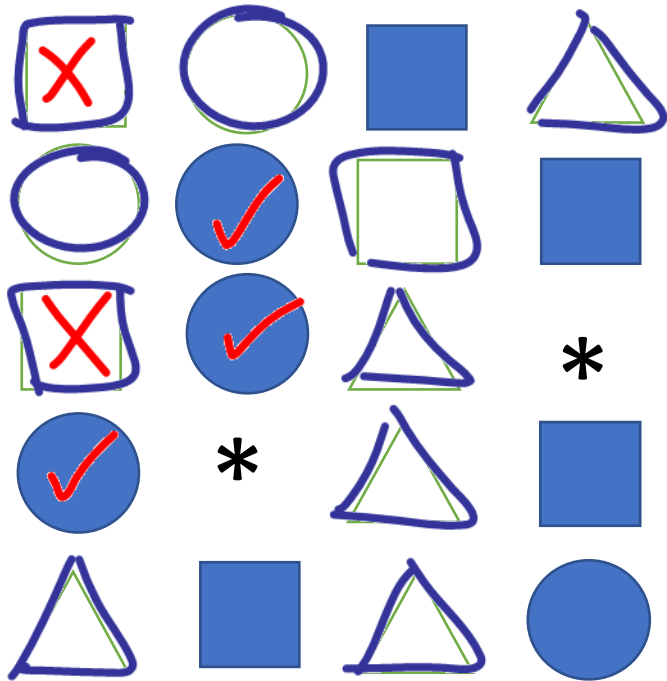
<u>KELEB</u>	}	14742	→	<del>A</del> 1474241
<u>KELBE</u>		<u>84745</u>		B 8474548
SELEZ		<u>84749</u>		<b>C 8474948</b>
<u>KELEM</u>		<u>84794</u>		<del>D</del> 1475484
SELED		14743		<del>E</del> 5474845

84948  
 KELEBEK  
 4


# هوش ریاضی

هریک از اشکال با یکی از اعداد داده شده متناظر می باشند . شکلی که با علامت سوال مشخص

شده متناظر با کدام عدد است ؟



- A 1-6-5-3
- B 6-4-1-5
- C 4-2-3-5
- D 1-4-3-2**
- E 3-5-3-4



# هوش ریاضی

پنج کلمه با پنج عدد مقابل آنها یک رابطه منطقی را به وجود آورده اند . کلمه ای که با علامت سوال مشخص شده با کدام یک از گزینه ها همان رابطه را خواهد داشت :

<p>CEB KEB KAL LAB BAK</p>	}	=	{	<p>937    837 567 965    769</p>	→	<p><u>7</u> BAK = ?</p>	}	<p>965    ۱ 837    ۲ 567    ۳ 769    ۴ 937    ۵</p>
--	---	---	---	--	---	-----------------------------	---	---

پنج کلمه با پنج عدد مقابل آنها یک رابطه منطقی را به وجود آورده اند . کلمه ای که با علامت سوال مشخص شده با کدام یک از گزینه ها همان رابطه را خواهد داشت :

KALE	}	=	}	4328	5341	}	→	ARALIK=?	545341	۱
RAKI				4353	151234			۲		
AKIL				3412	3214			414328	۳	
ALIK								353214	۴	
KARA								252412	۵	

پنج کلمه با پنج عدد مقابل آنها یک رابطه منطقی را به وجود آورده اند . کلمه ای که با علامت سوال مشخص شده با کدام یک از گزینه ها همان رابطه را خواهد داشت :

ASKIM	}	=	}	15324	41315	}	⇒	MUSKA=?	41526	۱
KASIM				31532	14325			۲		
KASKI				59413	31524			49531	۳	
SUMAK								39215	۴	
MAKAS								13524	۵	


پنج کلمه با پنج عدد مقابل آنها یک رابطه منطقی را به وجود آورده اند . کلمه ای که با علامت سوال مشخص شده با کدام یک از گزینه ها همان رابطه را خواهد داشت :

KELEB	}	=	}	14742	84745	}	KELEBEK=?	1474241	۱
KELBE				8474548	۲				
SELEZ				84749	8474948		۳		
KELEM				84754	1475484		۴		
SELED				14743	5474845		۵		




پنج کلمه با پنج عدد مقابل آنها یک رابطه منطقی را به وجود آورده اند . کلمه ای که با علامت سوال مشخص شده با کدام یک از گزینه ها همان رابطه را خواهد داشت :

RENK	}	=	}	→	KENAR=?	64325	۱		
KARK						1236	2518	62435	۲
KART						6256	36215	۳	
TANK						5436	6251	31256	۴
ARTI						13258	۵		



## هوش ریاضی

اگر اعداد داده شده با کلمه ها رابطه منطقی داشته باشند ، عددی که علامت سوال در کنار خود دارد ، با کدام یک از پنج کلمه پیشنهادی همان رابطه را خواهد داشت ؟

(70-50-09-30-07)  07=?

FA ۱

MA ۲

SA ۳

AF ۴

AL ۵