

در این مدل سوالا یک جدول به ما می دن و از ما می خوان علامت سوال رو پیدا کنیم.

1

یه جدول به ما می دن
یه عددش معلوم نیست
، از ما می خوان عدد
مجهول رو پیدا کنیم

2

دو یا سه جدول به ما می
دن و یه عدد تو یکی از
جدولا معلوم نیست ، از
ما می خوان عدد **مجهول**
رو پیدا کنیم

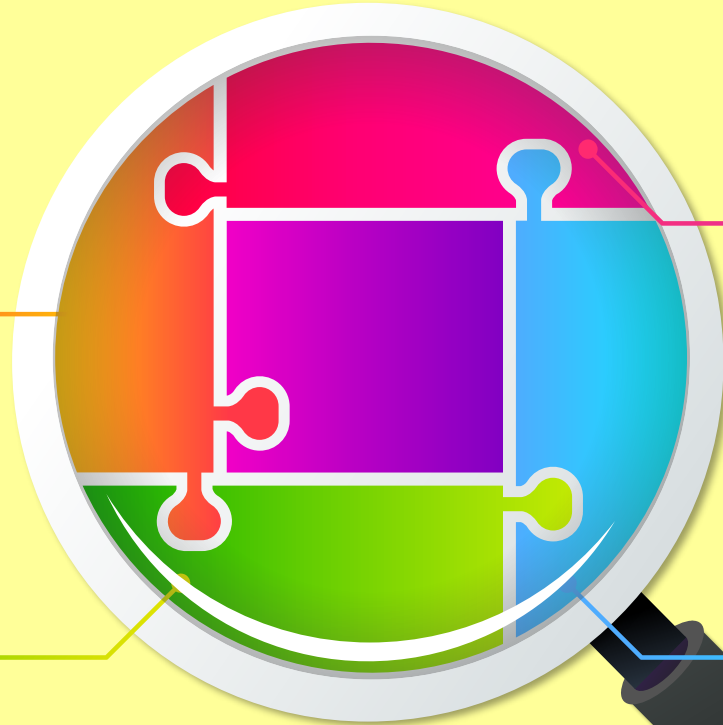
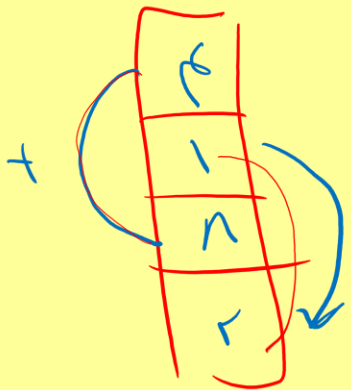


هوش ریاضی

ردیفی



ستونی



مارپیچی

5	30	25
10	20	5
15	2	5

زیگزاگی

30	14	9	28	10
7	4	21	12	25



علامت سوال کدام است ؟

$$\frac{11+4}{2} = 7$$

$$\frac{4+6}{2} = 5$$

$$\frac{8+7}{2} = 7.5$$

$$\frac{11+12}{2} = 11.5$$

۸	۶	۴	۵	۷	۸	۱۶
۷	۵	۹	۶	۱۵	?	

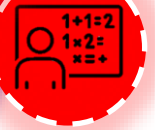
۲۴ ۱

۳ ۲

۸ ۳

۱۲ ۴

الہ در عدد ہر دو کا زنجیر ہر دو کا عزیز ہے۔ میں نے عیار دیکھا ہے۔
 الہ در عدد ریسی خیر ہے زنجیر ہے۔ میں نے عیار دیکھا ہے۔



علامت سوال کدام است ؟

$$3 \times 0 - 3 = 12$$

3	5	12
4	4	20
6	8	42
4	9	36

$$4 \times 4 - 4$$

$$9 \times 8 - 4 = 25$$

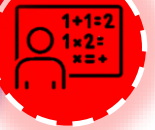
$$4 \times 10 - 2 = 34$$

۸ ۱

۹ ۲

۱۰ ۳

۱۱ ۴



علامت سوال کدام است؟

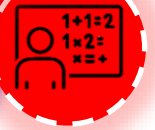
۸	۷	۸
۵	۵	۹
۶	؟	۷

$۸ + ۸ = ۱۶$
 $۱ + ۶ = ۷$

$۸ + ۹ = ۱۷$
 $۱ + ۷ = ۸$

$۹ + ۷ = ۱۶$
 $۱ + ۶ = ۷$

- ۸ ۱
- ۴ ۲
- ۶ ۳
- ۴ ۴



علامت سوال کدام است؟

$1 + 1 + 2 + 2 + 2 + 1 = 20$

۱۸	۲۶	۲۱
۳۴	۱۷	۲۳
۱۳	۳۱	?

$1 + 2 + 2 + 1 +$

۹۱

۷۵

۸۵

۶۵





هوش ریاضی

تست

علامت سوال کدام است؟

	↓	↓	↓	
↵	۶	۱۱	۴	۲۱
↵	۵	۷	۹	۲۱
	۱۰	۳	؟	
	۲۱	۲۱	۲۱	

- ۱
- ۲
- ۳
- ۴



علامت سوال کدام است ؟

۵	۸	۱۲
۷	۳	۹
۱۱	۱۰	؟

۱۸

۱۹

۲۰

۲۱



$$(7 + 2) \times 2 = 18$$

7	18	2
26	?	22
6	30	9

$$\begin{array}{r} \leftarrow 18 \\ (24 + 22) \times 2 = 94 \end{array}$$

$$(6 + 9) \times 2 = 30$$

تست

علامت سوال کدام است ؟

۷۴ ۱

۶۲ ۲

۸۶ ۳

✓ ۹۴ ۴



$$\frac{7 + 15}{2}$$

7	11	15
12	?	22
19	25	31

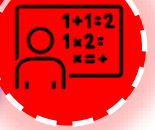
$$\frac{12 + 22}{2} = 17$$

$$\frac{19 + 31}{2} = 25$$

تست

علامت سوال کدام است ؟

- 17
- 19
- 20
- 21



علامت سوال کدام است ؟

۱	۸	۷	۱۴	۱۳
۴	۵	۶	۱۱	۱؟۴
۳	۶	۹	۱۲	۱۵

۱۴ ۱

۱۵ ۲

۱۶ ۳

۱۷ ۴





۳	۲ — ۴	۸
۹	۳ — ۶	۴
۵	۳ — ۵	۷
۶	۱ — ۸	۳
۸	۳ — ۲	۴؟

تست

علامت سوال کدام است؟

- ۱
- ۲
- ۳
- ۴



هوش ریاضی

تست

علامت سوال کدام است؟

۸	۶	۲۷	۱۷
۹	۱۴	۳	۳۴
۳۲	۲۰	۹	۶
۱۲	۴۱	۸	۵
۳	۱	۷	؟

$$۸ + ۹ + ۱۲ + ۳ = ۳۲$$

$$۹ + ۱۴ + ۲۰ + ۱ = ۴۴$$

$$۳ + ۹ + ۸ + ۷ = ۲۷$$

$$۱۲ + ۴ + ۵ + ۳ = ۲۴$$

دایره سبز

جمع اعداد با هم

عدد بزرگ تر است

- ۱
- ۲
- ۳
- ۴



هوشاند

www.hoshan.com



هوش ریاضی

تست

علامت سوال کدام است؟

۴	۵	۲	۳
۶	۸	۷	۳۴
۲	۱	۲	۳
۴	۵	۶	؟

$$۴ \times ۲ = ۸$$

$$۵ + ۳ = ۸$$

$$۸ + ۳۳ = ۴۱$$

$$۱ + ۲ = ۳$$

$$۵ + ۶ = ۱۱$$

۱۲

$$۴ \times ۷ = ۲۸$$

$$۲ \times ۲ = ۴$$

$$۳ \times ۴ = ۱۲$$

۱۹

۱۴

۱۱

۱۳

