
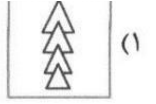
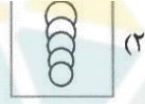
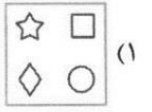
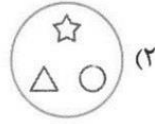
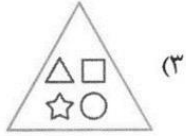
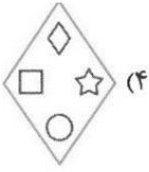
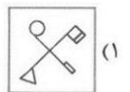
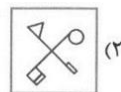

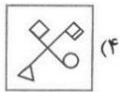


-۱

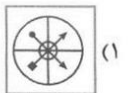
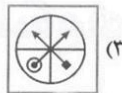
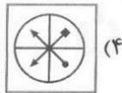


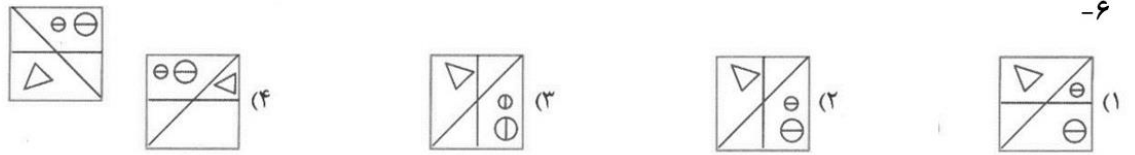
-۴



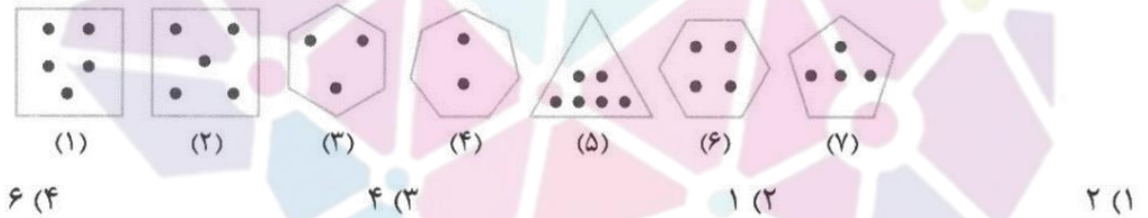
هوشمند

-۵





۸- کدام شکل با بقیه متفاوت است؟



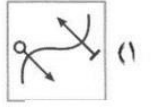
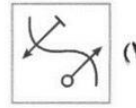
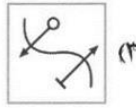
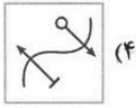
۹- کدام تصویر متفاوت است؟



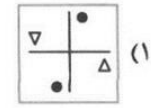
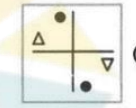
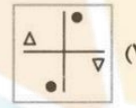
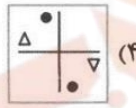
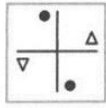
۱۰- کدام گزینه ناهماهنگ تر با بقیه است؟



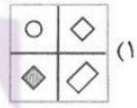
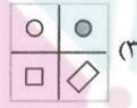
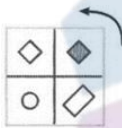
-۱۱



-۱۲



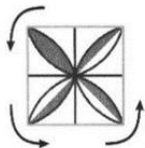
-۱۳



-۱۴



-۱۵



موسسه تخصصی تیزهوشان ایران

(۱) گزینه ۲ تنها شکلی که در داخل قاب آن سه شکل قرار دارد ، گزینه ی (۲) است . در صورتی که در بقیه ی گزینه ها ۴ شکل در قاب داخلی وجود دارد . توجه به تعداد اشکال ، خطوط ، نقاط و ... نقش مهمی در سوالات این بخش دراد .

(۲) گزینه ۴ به جز گزینه ی (۴) در سایر شکل ها اندازه ی طرح ها (شکل ها) به تدریج در حال افزایش است .

(۳) گزینه ۳ در تمام گزینه ها به جز گزینه ی (۳) زاویه های داخلی با هم برابر هستند .

(۴) گزینه ۳

(۵) گزینه ۴

(۶) گزینه ۴

(۷) گزینه ۴ در تمام گزینه ها به جز گزینه ی چهار مجموع اضلاع و نقاط ۷ می باشد .

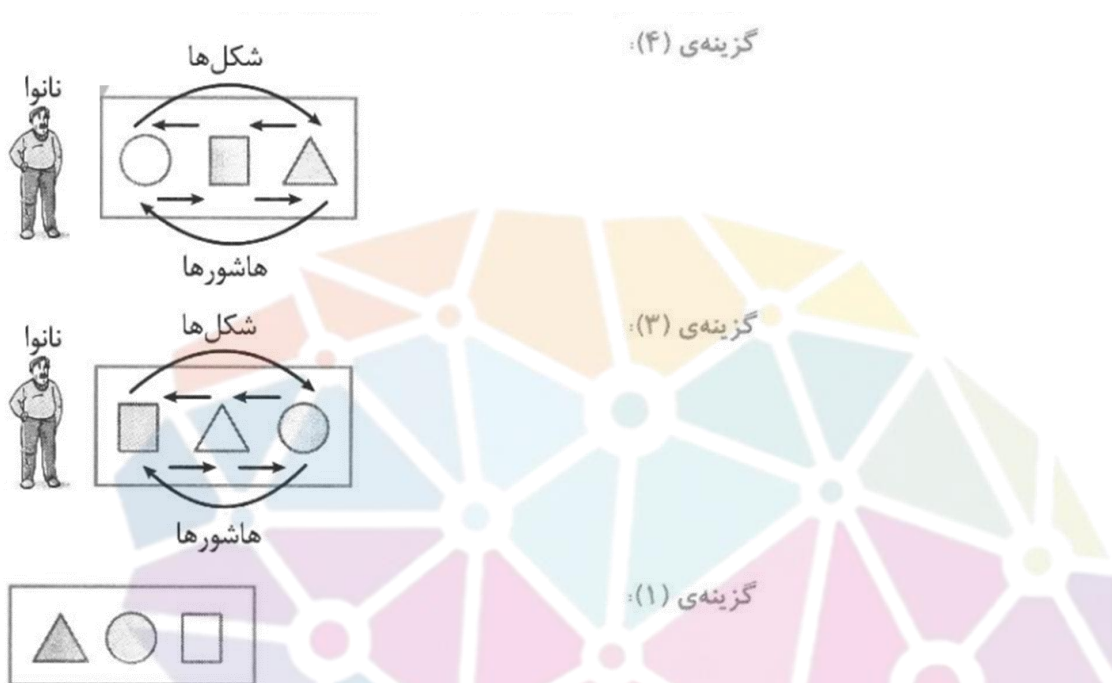
(۸) گزینه ۴ در همه ی شکل ها ، مجموع تعداد اضلاع و تعداد نقطه های درون شکل ۹ می شود به جز شکل ۶ که مجموعشان ۱۰ می شود .

(۹) گزینه ۴ در گزینه های (۱) ، (۲) و (۳) فلش به سمت دایره (○) اشاره می کند ولی در گزینه ی (۴) به سمت (⊙) اشاره دارد .

مفونش

سرزمین تیزهوشان ایران

۱۰) گزینه ۲ در اینجا در گزینه ی (۱) ، (۳) و (۴) شکل ها ، ساعتگرد صف را طی می کنند و هاشورها (سفید ، خاکستری و رنگی) پادساعتگرد :



۱۱) گزینه ۳

۱۲) گزینه ۳

۱۳) گزینه ۲

۱۴) گزینه ۲

۱۵) گزینه ۳

هوشسلند

سرزمین تیزهوشان ایران