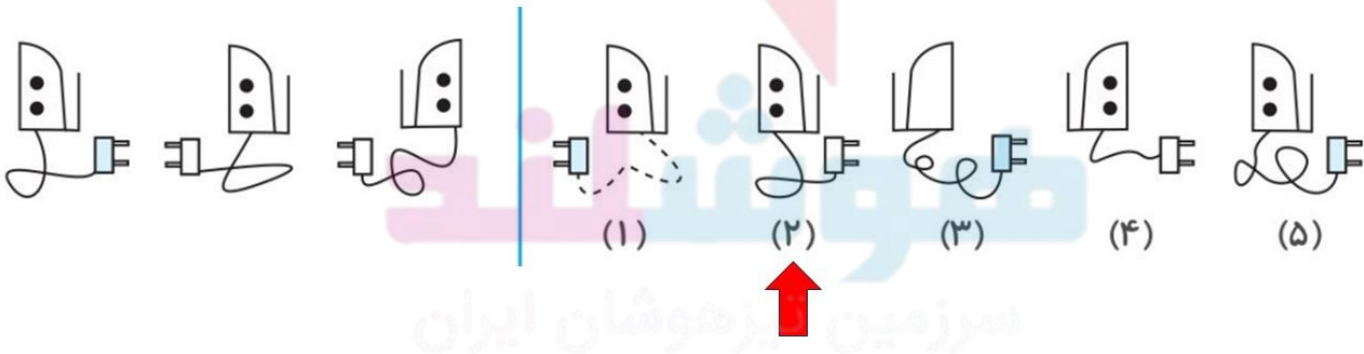


۱- کدام گزینه بیشترین شباهت را به سه شکل سمت چپ دارد؟



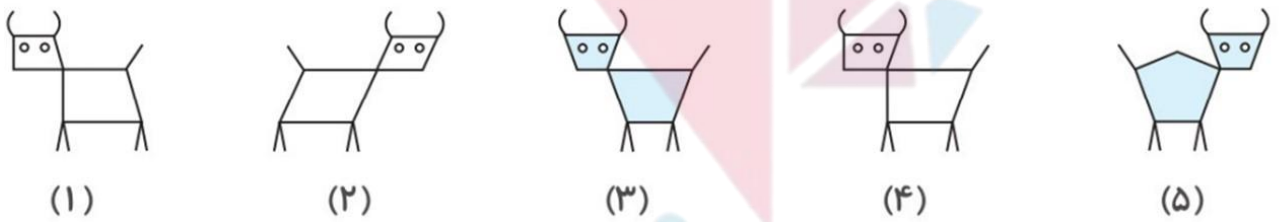
۲- کدام گزینه بیشترین شباهت را به سه شکل سمت چپ دارد؟



۳- کدام گزینه بیشترین شباهت را به سه شکل سمت چپ دارد؟



۴- کدام گزینه بیشترین تفاوت را با بقیه دارد، مشخص کنید؟



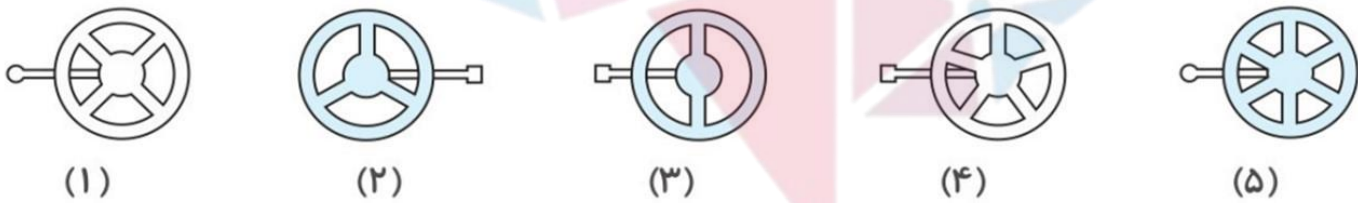
هوشسلند

مرزمین تیزهوشان ایران

۵- کدام گزینه بیشترین تفاوت را با بقیه دارد، مشخص کنید؟



۶- کدام گزینه بیشترین تفاوت را با بقیه دارد، مشخص کنید؟



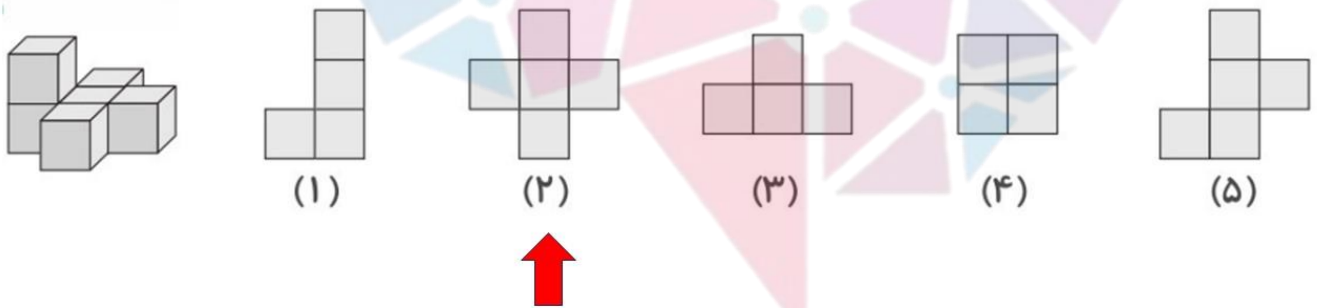
هوشسلند

مرزمین تیزهوشان ایران

۷- کدام گزینه بیشترین تفاوت را با بقیه دارد، مشخص کنید؟



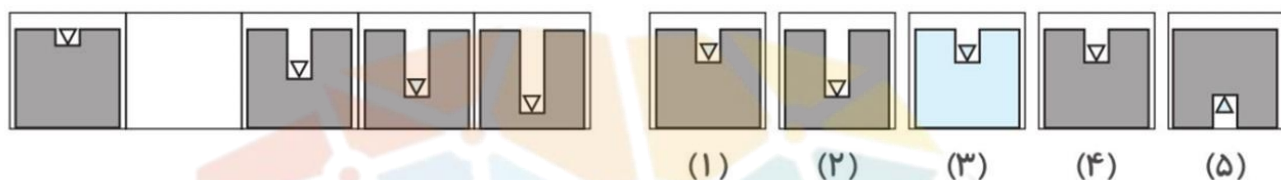
۸- تصویر از بالا به چه صورتی دیده می شود؟



هوشسلند

مرکز مین تیزهوشان ایران

۹- کدام گزینه می تواند در جای خالی قرار بگیرد؟



۱۰- کدام گزینه می تواند در جای خالی قرار بگیرد؟



هوشسلند

مرزمین تیزهوشان ایران